



たしざんと
ひきざん 3

● ぜんぶでなんだい?
(にんずうとだいすう)

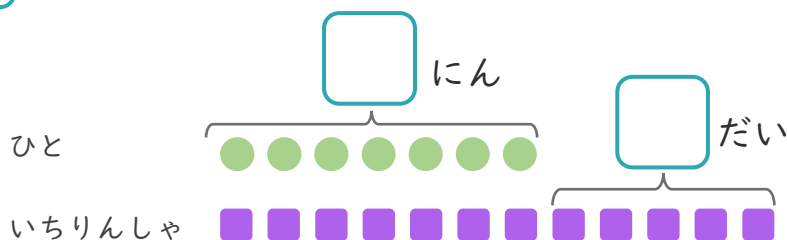


日にち： 月 日

名まえ _____

1 7にんがいちりんしゃであそんでいます。
いちりんしゃはあと5だいあります。

① □にあうかずをかきましょう。



●と■をせんで
むすびましょう。

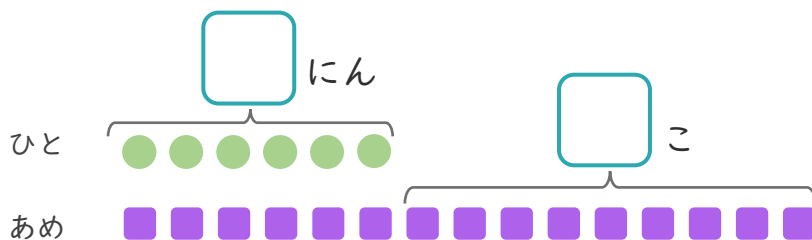
② いちりんしゃは、ぜんぶでなんだいありますか。

しき：

こたえ

2 6にんにあめを1こずつわけました。
あめはあと9こあります。

① □にあうかずをかきましょう。



●と■をせんで
むすびましょう。

② あめは、ぜんぶでなんこありますか。

しき：

こたえ





たしざんと
ひきざん 3

● ぜんぶでなんだい?
(にんずうとだいすう)

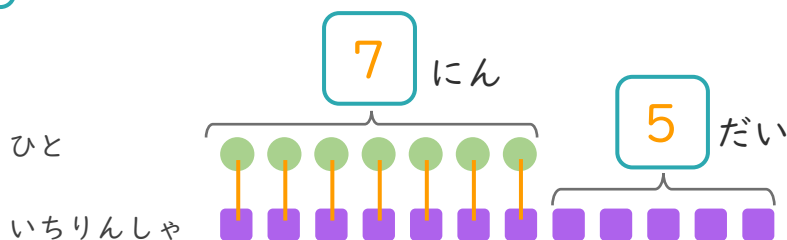


日にち： 月 日

名まえ _____

1 7にんがいちりんしゃであそんでいます。
いちりんしゃはあと5だいあります。

① □にあうかずをかきましょう。



● と ■ を せんで
おすびましょう。

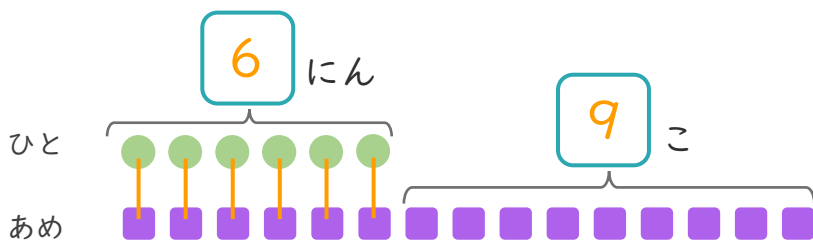
② いちりんしゃは、ぜんぶでなんだいありますか。

しき： $7 + 5 = 12$

こたえ { 12 だい }

2 6にんにあめを1こずつわけました。
あめはあと9こあります。

① □にあうかずをかきましょう。



● と ■ を せんで
おすびましょう。

② あめは、ぜんぶでなんこありますか。

しき： $6 + 9 = 15$

こたえ { 15 こ }

