

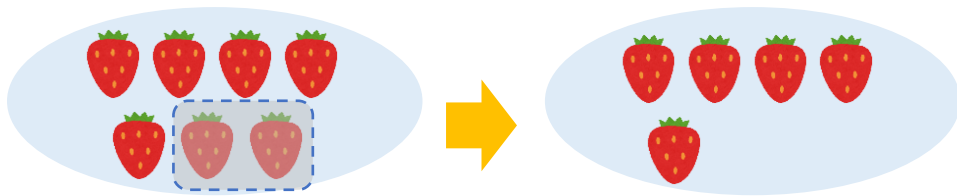


のこりはいくつ 2

しきをつくろう



- いちごが 7 こ あります。
2 こ たべました。
のこりは なんこ でしょう。




しき

こたえ こ

日にち： 月 日

名まえ

- はなが 8 ぽん あります。
6 ぽん あげました。
のこりは なんぽん になりましたか。



しき

こたえ ぽん

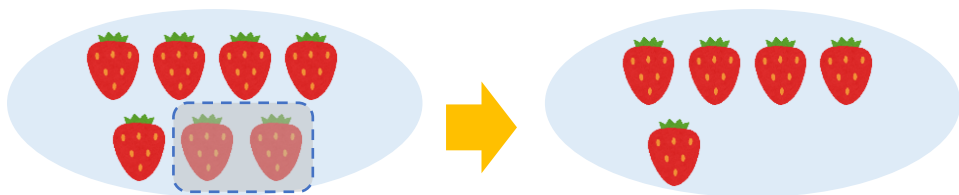


のこりはいくつ 2

しきをつくろう



- いちごが 7 こ あります。
2 こ たべました。
のこりは なんこ でしょう。




しき $7 - 2 = 5$

こたえ 5 こ

日にち： 月 日

名まえ _____

- はなが 8 ぽん あります。
6 ぽん あげました。
のこりは なんぽん になりましたか。



しき $8 - 6 = 2$

こたえ 2 ぽん

