



のこりはいくつ 8

ひきざんのけいさん

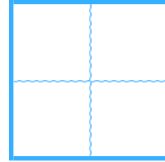


日にち： 月 日

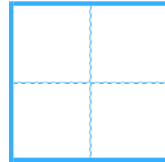
名まえ _____

・ ひきざんをしましょう。

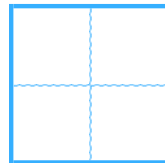
① $9 - 1 =$



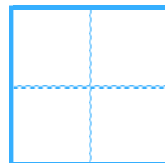
② $7 - 4 =$



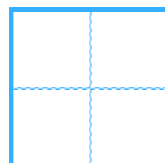
③ $5 - 3 =$



④ $6 - 2 =$



⑤ $8 - 3 =$





のこりはいくつ 8

● ひきざんの けいさん



日にち： 月 日

名まえ _____

・ ひきざんを しましょう。

① $9 - 1 =$

8

② $7 - 4 =$

3

③ $5 - 3 =$

2

④ $6 - 2 =$

4

⑤ $8 - 3 =$

5

