




どちらがおおい③

● コップで なんばい
はいりますか？




日にち： 月 日


名まえ _____

・ みずが  のかずだけはいります。


① あ




② い




③ う



①  で なんばいはいりますか。

① あ... はい ② い... はい ③ う... はい

② ①と②では、どちらがどれだけおおくはいりますか。

のほうが、 で はいぶん おおくはいる。

③ ①と③では、どちらがどれだけおおくはいりますか。

のほうが、 で はいぶん おおくはいる。






どちらがおおい③

● コップで なんばい
はいりますか？




日にち： 月 日


名まえ _____

・ みずが  のかずだけはいります。


① あ




② い



③ う



①  で なんばいはいりますか。

① あ... **5** はい い... **7** はい う... **3** はい

② ①と②では、どちらがどれだけおおくはいりますか。

② **い** のほうが、 で **2** はいぶん おおくはいる。

③ ①と③では、どちらがどれだけおおくはいりますか。

③ **あ** のほうが、 で **2** はいぶん おおくはいる。

