



くりあがりのある
たしざん 8


● えとぶんしょうから
しきをつくろう




日にち： 月 日

名まえ _____

1 とりは あわせて なんわ ですか。しきをかきましょう。




9わ




8わ

しき： + =

2 みかんは あわせて なんこ ですか。しきをかきましょう。



6こ



5こ

しき： + =



くりあがりのある
たしざん 8


● えとぶんしょうから
しきをつくろう




日にち： 月 日

名まえ _____

1 とりは あわせて なんわ ですか。しきをかきましょう。




9わ




8わ

しき： $\boxed{9} + \boxed{8} = \boxed{17}$

2 みかんは あわせて なんこ ですか。しきをかきましょう。



6こ



5こ

しき： $\boxed{6} + \boxed{5} = \boxed{11}$