



あわせていくつ6

● 1, 2, 3 にたすれんしゅう

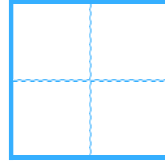


日にち： 月 日

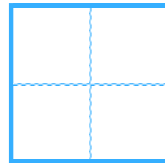
名まえ _____

・ たしざんを しましゅう。

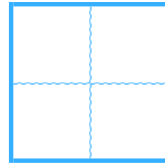
① $1 + 6 =$



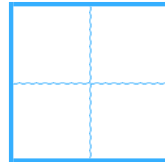
② $2 + 1 =$



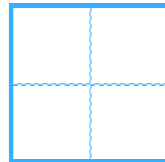
③ $1 + 8 =$



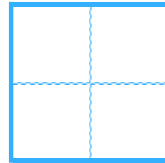
④ $3 + 4 =$



⑤ $2 + 3 =$



⑥ $1 + 1 =$





あわせていくつ6

● 1, 2, 3 にたすれんしゅう



日にち： 月 日

名まえ _____

・ たしざんを しましゅう。

① $1 + 6 =$

② $2 + 1 =$

③ $1 + 8 =$

④ $3 + 4 =$

⑤ $2 + 3 =$

⑥ $1 + 1 =$

