



3つの
かずのけいさん 4

3つのかずのたしひきの
ぶんしょうもんだい



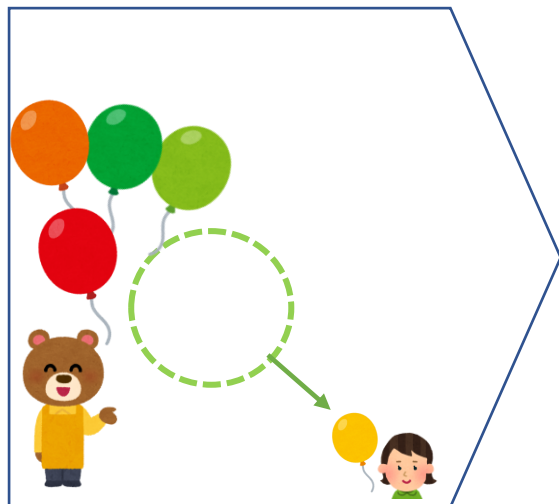
日にち： 月 日

名まえ _____

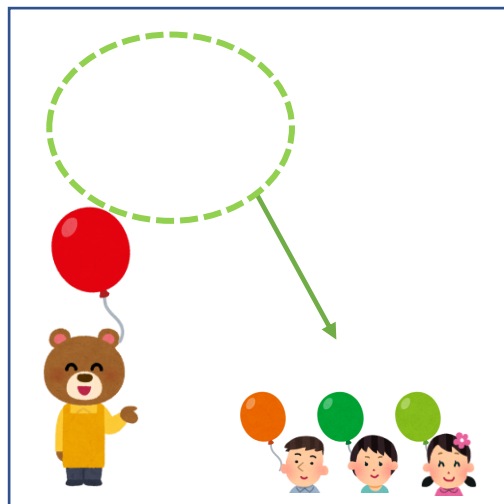
1 ふうせんは、なんこになりましたか。



5こあります。



1こあげました。



3こあげました。

しき：

こたえ： _____

2 こどもがこうえんに3にんいます。あとから7にん
きました。そのあと6にんかえりました。
こどもはなんにんになりましたか。

しき：

こたえ： _____





3つの かずのけいさん 4

● 3つのかずのたしひきの
ぶんしょうもんだい



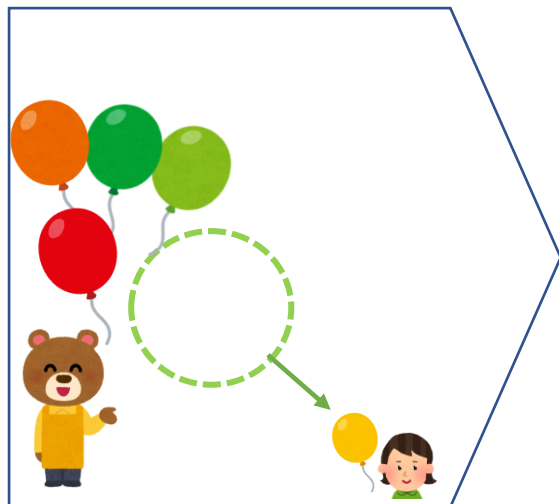
日にち： 月 日

名まえ _____

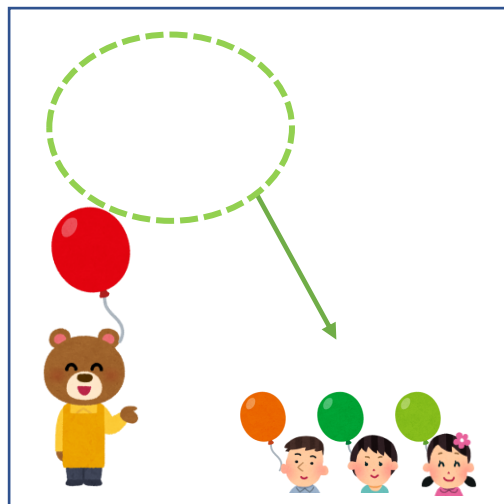
1 ふうせんは、なんこになりましたか。



5こ あります。



1こ あげました。



3こ あげました。

しき：

$$5 - 1 - 3 = 1$$

こたえ： 1こ

2 こどもがこうえんに 3にん います。あとから 7にん
きました。そのあと 6にんかえりました。
こどもは なんにんになりましたか。

しき：

$$3 + 7 - 6 = 4$$

こたえ： 4にん

