



あわせていくつ？

いろいろなかずのたしざん

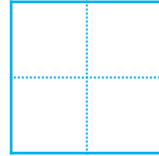


日にち： 月 日

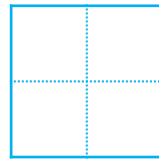
名まえ _____

・ たしざんをしましょう。


① $4 + 3 =$




② $5 + 5 =$



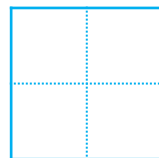
③ $8 + 1 =$




④ $4 + 4 =$



⑤ $6 + 1 =$



⑥ $7 + 2 =$





あわせていくつ？

◎ いろいろなかずのたしざん



日にち： 月 日

名まえ _____

・ たしざんを しましょう。

① $4 + 3 =$

7

② $5 + 5 =$

10

③ $8 + 1 =$

9

④ $4 + 4 =$

8

⑤ $6 + 1 =$

7

⑥ $7 + 2 =$

9

