



くりさがりのある  
ひきざん 8

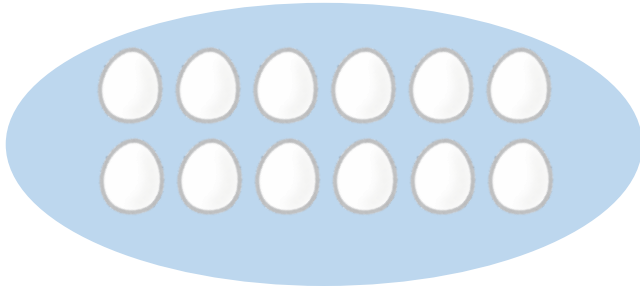
● えとぶんしょうから  
しきをつくろう



日にち：        月        日

名まえ \_\_\_\_\_

1 のこりは なんこですか。しきをかきましょう。




12こ

3こたべると

しき： -  =

2 のこりは なんこですか。しきをかきましょう。



15こ

7こたべると

しき： -  =



くりさがりのある  
ひきざん 8

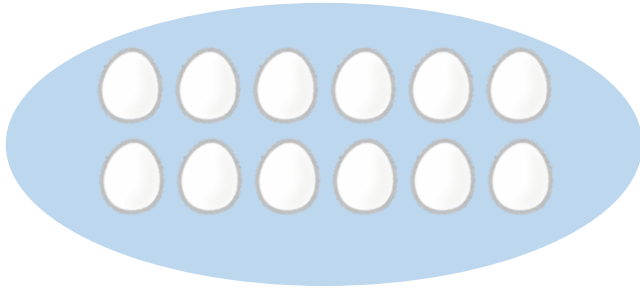
● えとぶんしょうから  
しきをつくろう



日にち：        月        日

名まえ \_\_\_\_\_

1 のこりは なんこですか。しきをかきましょう。




12こ

3こたべると

しき：  $\boxed{12} - \boxed{3} = \boxed{9}$

2 のこりは なんこですか。しきをかきましょう。



15こ

7こたべると

しき：  $\boxed{15} - \boxed{7} = \boxed{8}$

