

くりあがりのある
たしざん 6

● くりあがりのけいさん
(4や3とたす)

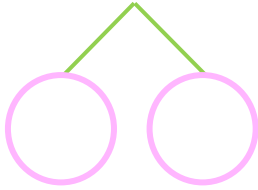


日にち： 月 日

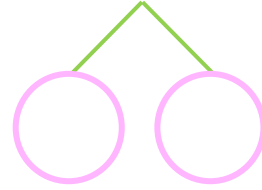
名まえ _____

・ けいさんをしましょう。

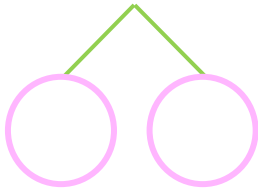
① $3 + 9 =$



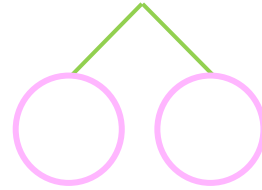
⑤ $4 + 7 =$



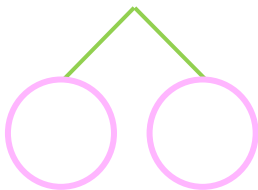
② $4 + 8 =$



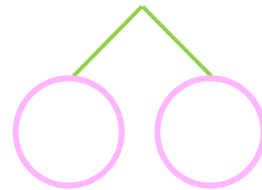
⑥ $4 + 9 =$



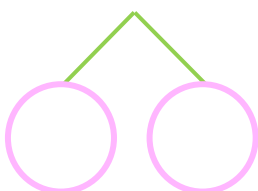
③ $4 + 7 =$



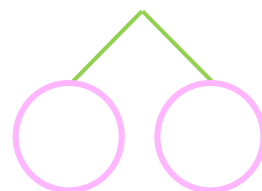
⑦ $3 + 8 =$



④ $3 + 8 =$



⑧ $3 + 9 =$





くりあがりのある
たしざん 6

● くりあがりのけいさん
(4や3とたす)



日にち： 月 日

名まえ _____

・ けいさんをしましょう。

① $3 + 9 = 12$
10 7 2

⑤ $4 + 7 = 11$
10 6 1

② $4 + 8 = 12$
10 6 2

⑥ $4 + 9 = 13$
10 6 3

③ $4 + 7 = 11$
10 6 1

⑦ $3 + 8 = 11$
10 7 1

④ $3 + 8 = 11$
10 7 1

⑧ $3 + 9 = 12$
10 7 2

