

くりあがりのある
たしざん 5

● くりあがりのけいさん
(6や5とたす)

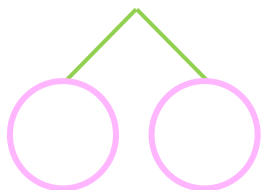


日にち： 月 日

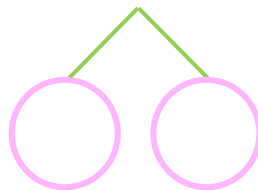
名まえ _____

・ けいさんをしましょう。

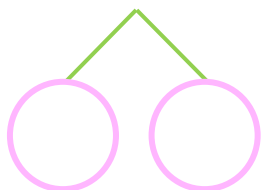
① $6 + 8 = \square$



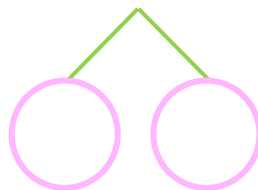
⑤ $5 + 8 = \square$



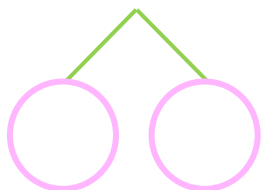
② $6 + 5 = \square$



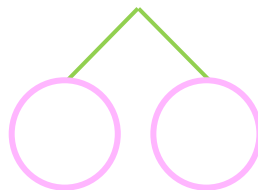
⑥ $5 + 9 = \square$



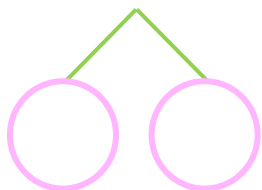
③ $6 + 7 = \square$



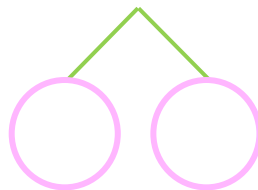
⑦ $5 + 7 = \square$




④ $6 + 9 = \square$



⑧ $5 + 6 = \square$





くりあがりのある
たしざん 5

● くりあがりのけいさん
(6や5とたす)



日にち： 月 日

名まえ _____

・ けいさんをしましょう。

① $6 + 8 = 14$
10 4 4

⑤ $5 + 8 = 13$
10 5 3

② $6 + 5 = 11$
10 4 1

⑥ $5 + 9 = 14$
10 5 4

③ $6 + 7 = 13$
10 4 3

⑦ $5 + 7 = 12$
10 5 2

④ $6 + 9 = 15$
10 4 5

⑧ $5 + 6 = 11$
10 5 1

