



くりあがりのある
たしざん 3

● くりあがりのけいさん
(8 とたす)

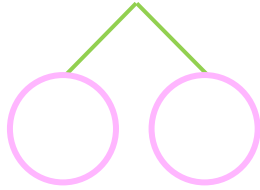


日にち： 月 日

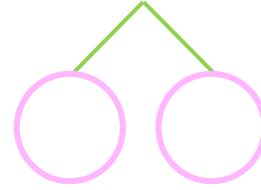
名まえ _____

・ けいさんをしましょう。

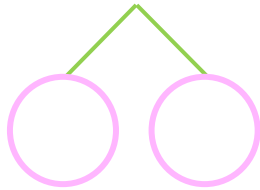
① $8 + 8 =$



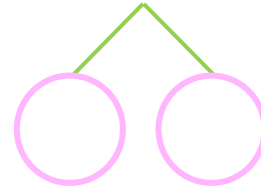
⑤ $8 + 6 =$



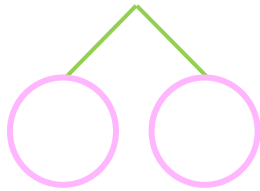
② $8 + 3 =$



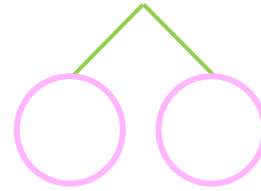
⑥ $8 + 8 =$



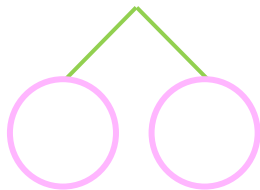
③ $8 + 5 =$



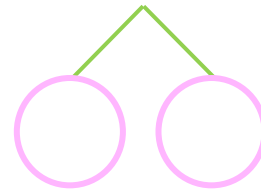
⑦ $8 + 4 =$



④ $8 + 9 =$



⑧ $8 + 7 =$





くりあがりのある
たしざん 3

● くりあがりのけいさん
(8 とたす)



日にち： 月 日

名まえ _____

・ けいさんをしましょう。

① $8 + 8 = 16$
10 2 6

⑤ $8 + 6 = 14$
10 2 4

② $8 + 3 = 11$
10 2 1

⑥ $8 + 8 = 16$
10 2 6

③ $8 + 5 = 13$
10 2 3

⑦ $8 + 4 = 12$
10 2 2

④ $8 + 9 = 17$
10 2 7

⑧ $8 + 7 = 15$
10 2 5