



くりさがりのある
ひきざん 7

● くりさがりのけいさん
(2 から 9 をひく)



日にち： 月 日

名まえ _____

・ けいさんをしましょう。

① $13 - 5 = \square$

⑤ $11 - 3 = \square$

② $12 - 6 = \square$

⑥ $16 - 9 = \square$

③ $11 - 4 = \square$

⑦ $17 - 8 = \square$

④ $15 - 6 = \square$

⑧ $14 - 7 = \square$



くりさがりのある
ひきざん 7

● くりさがりのけいさん
(2 から 9 をひく)

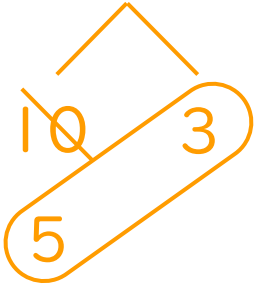


日にち： 月 日

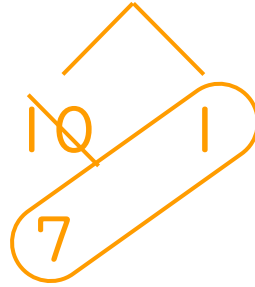
名まえ _____

・ けいさんをしましょう。

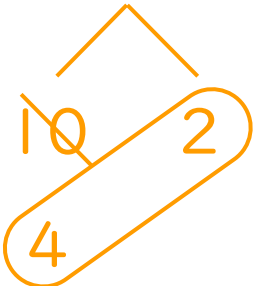
① $13 - 5 = 8$



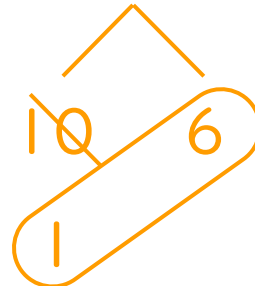
⑤ $11 - 3 = 8$



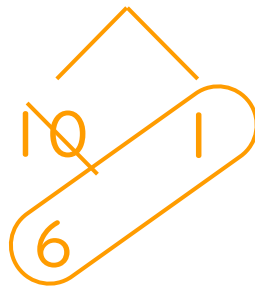
② $12 - 6 = 6$



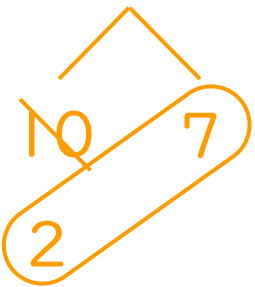
⑥ $16 - 9 = 7$



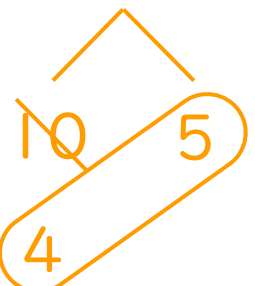
③ $11 - 4 = 7$



⑦ $17 - 8 = 9$



④ $15 - 6 = 9$



⑧ $14 - 7 = 7$

