



たしざんと  
ひきざん 6

くりはなんこ?  
(きゅうしょう)



日にち： 月 日

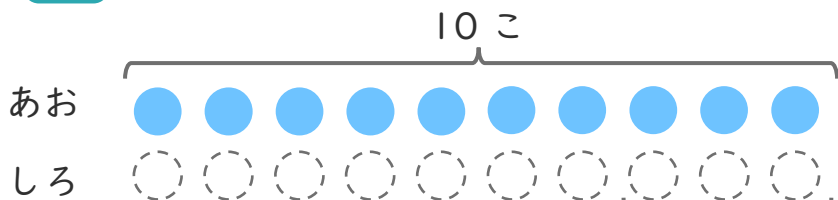
名まえ \_\_\_\_\_

1 あおいたまが 10こ あります。

しろいたまは、あおいたまより 3こ すくないそうです。

①  にあうかずをかきましょう。

にいろをぬりましょう。



こすくない

② しろいたまはなんこ ありますか。

しき：

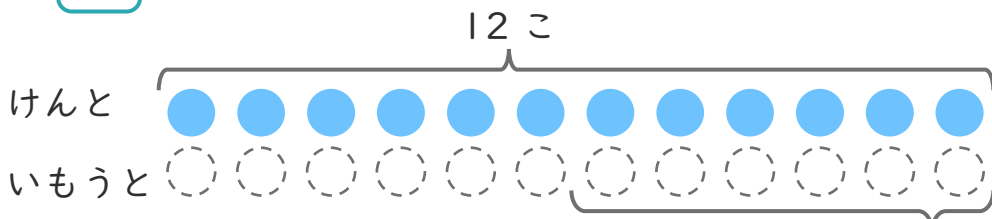
こたえ {

2 けんとさんはくりを 12こ ひろいました。

いもうとは、けんとさんより 6こ すくなかった そうです。

①  にあうかずをかきましょう。

にいろをぬりましょう。



こすくない

② いもうとは、なんこ ひろいましたか。

しき：

こたえ {





たしざんと  
ひきざん 6

くりはなんこ?  
(きゅうしょう)



日にち： 月 日

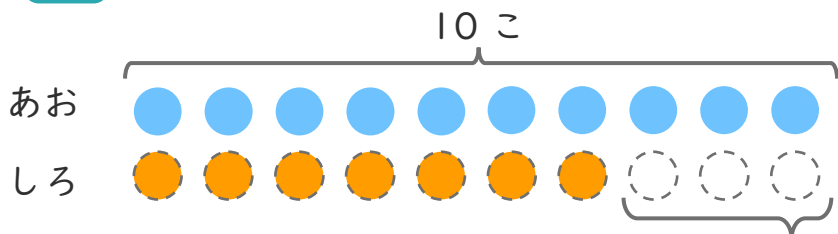
名まえ \_\_\_\_\_

1 あおいたまが 10こ あります。

しろいたまは、あおいたまより 3こ すくないそうです。

① □ にあうかずをかきましょう。

○ にいろを  
ぬりましょう。



3 こすくない

② しろいたまはなんこ ありますか。

しき： $10 - 3 = 7$

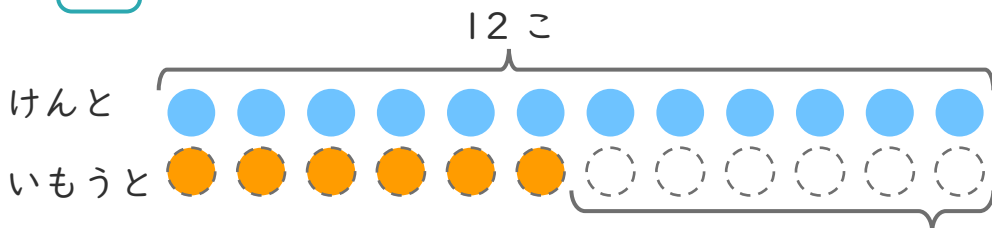
こたえ { 7 こ }

2 けんとさんはくりを 12こ ひろいました。

いもうとは、けんとさんより 6こ すくなかった そうです。

① □ にあうかずをかきましょう。

○ にいろを  
ぬりましょう。



6 こすくない

② いもうとは、なんこ ひろいましたか。

しき： $12 - 6 = 6$

こたえ { 6 こ }

