



くりあがりのある
たしざん 10

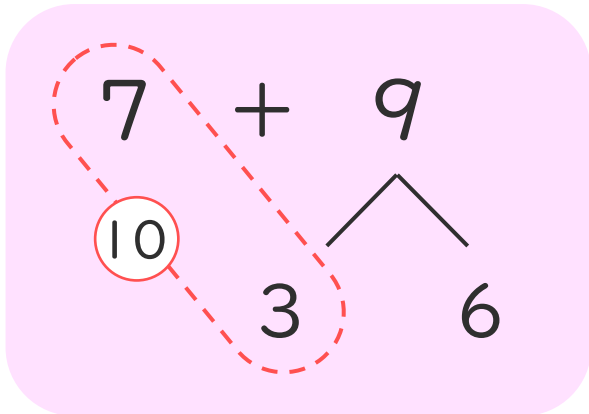
● けいさんのしかたを
かんがえよう



日にち： 月 日

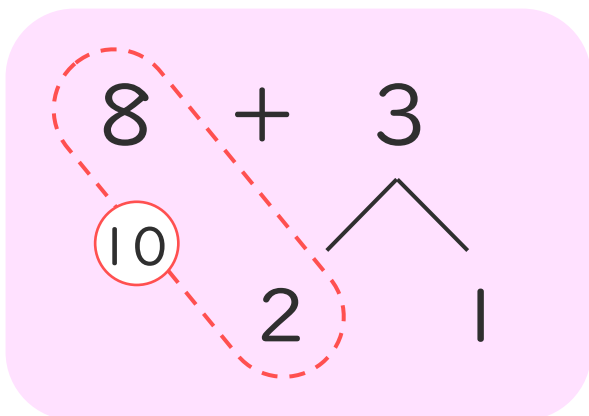
名まえ _____

- ・ $7 + 9$ のけいさんのしかたをかんがえます。
□にあうかずをかきましょう。



- ① 7はあと □ で 10。
- ② 9を □ と 6にわける。
- ③ 7に □ をたして 10。
- ④ 10と □ で 16。

- ・ $8 + 3$ のけいさんのしかたをかんがえます。
□にあうかずをかきましょう。



- ① 8はあと □ で 10。
- ② 3を □ と 1にわける。
- ③ 8に □ をたして 10。
- ④ 10と □ で 11。





くりあがりのある
たしざん 10

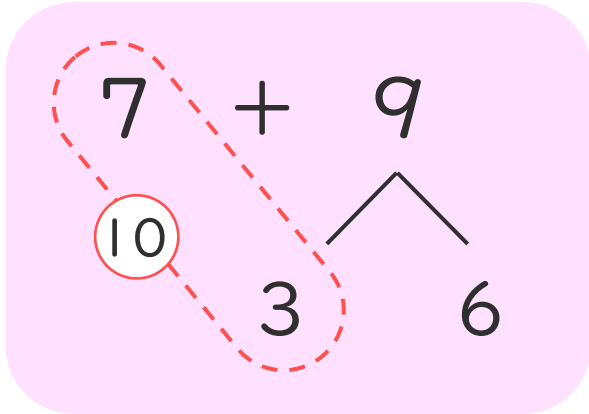
● けいさんのしかたを
かんがえよう



日にち： 月 日

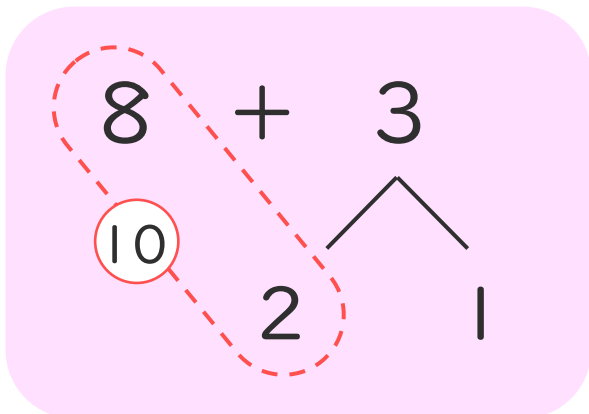
名まえ _____

- ・ $7 + 9$ のけいさんのしかたをかんがえます。
□にあうかずをかきましょう。



- ① 7はあと で10。
- ② 9を と6にわける。
- ③ 7に をたして10。
- ④ 10と で16。

- ・ $8 + 3$ のけいさんのしかたをかんがえます。
□にあうかずをかきましょう。



- ① 8はあと で10。
- ② 3を と1にわける。
- ③ 8に をたして10。
- ④ 10と で11。

