



たしざんと
ひきざん 4



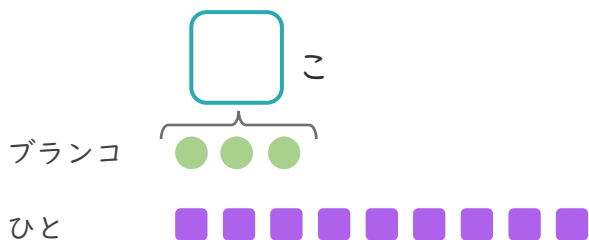
● すわれないひとはなんにん?
(こすうとにんずう)

日にち： 月 日

名まえ _____

1 ブランコが 3 こ あります。
9 にんが きました。

① に あう かず を かき まし ょう。



● と ■ を せんで
むすびましょう。

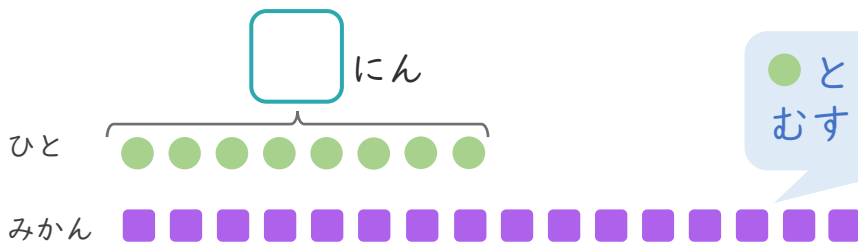
② ブランコにのれないひとはなんにんですか。

しき：

こたえ {

2 みかんが 16 こ あります。
8 にんに 1 こずつ わけました。

① に あう かず を かき まし ょう。



● と ■ を せんで
むすびましょう。

② みかんは、なんこのこりますか。

しき：

こたえ {





たしざんと
ひきざん 4



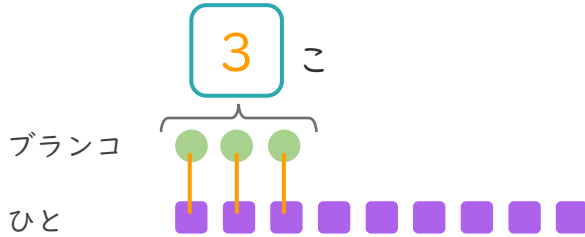
● すわれないひとはなんにん?
(こすうとにんずう)

日にち： 月 日

名まえ _____

1 ブランコが 3 こ あります。
9 にんが きました。

① □ に あう かず を かき まし ょう。



● と ■ を せんで
むすびましょう。

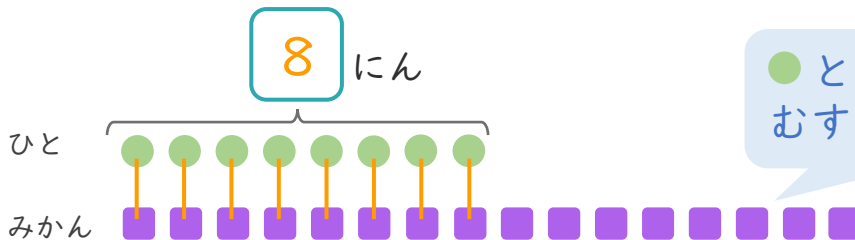
② ブランコにのれないひとはなんにんですか。

しき： $9 - 3 = 6$

こたえ { 6 にん }

2 みかんが 16 こ あります。
8 にんに 1 こずつ わけました。

① □ に あう かず を かき まし ょう。



● と ■ を せんで
むすびましょう。

② みかんは、なんこのこりますか。

しき： $16 - 8 = 8$

こたえ { 8 こ }

