



たしざんと  
ひきざん 3

● ぜんぶでなんだい?  
(にんずうとだいすう)

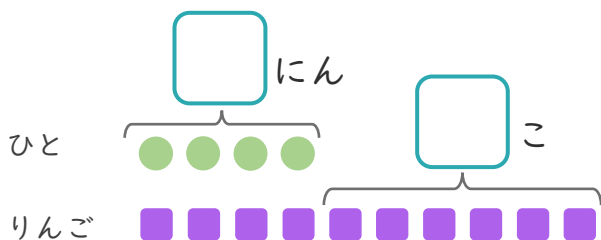


日にち： 月 日

名まえ \_\_\_\_\_

1 4にんにりんごを1こずつわけました。  
りんごはあと6こあります。

①  にあうかずをかきましょう。



● と ■ をせんで  
むすびましょう。

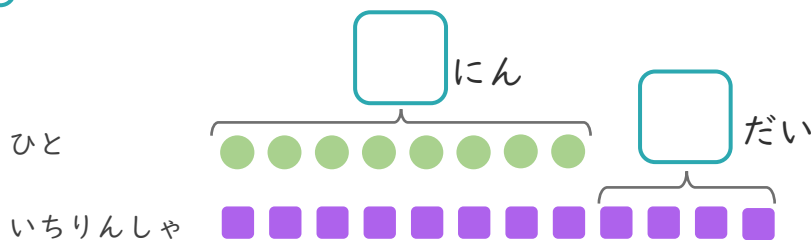
② りんごは、ぜんぶでなんこありますか。

しき：

こたえ {  }

2 8にんがいちりんしゃであそんでいます。  
いちりんしゃはあと4だいあります。

①  にあうかずをかきましょう。



● と ■ をせんで  
むすびましょう。

② いちりんしゃは、ぜんぶでなんだいありますか。

しき：

こたえ {  }





たしざんと  
ひきざん 3

● ぜんぶでなんだい?  
(にんずうとだいすう)

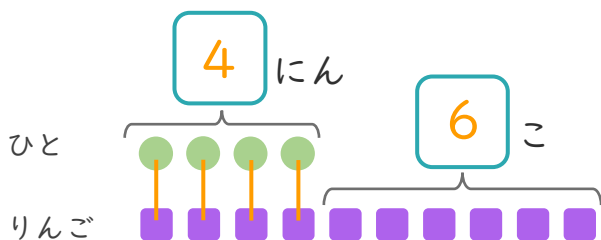
9

日にち： 月 日

名まえ \_\_\_\_\_

1 4にんにりんごを1こずつわけました。  
りんごはあと6こあります。

① □にあうかずをかきましょう。



● と ■ を せんで  
むすびましょう。

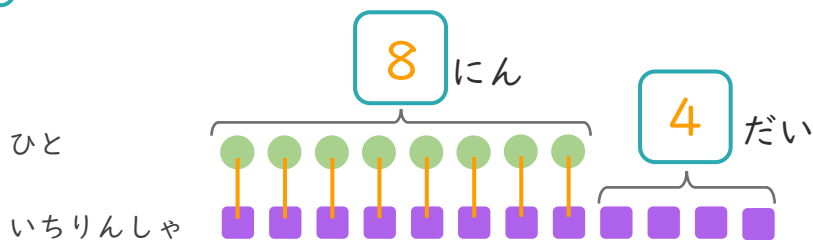
② りんごは、ぜんぶでなんこありますか。

しき： $4 + 6 = 10$

こたえ  $\left( 10 \text{ こ} \right)$

2 8にんがいちりんしゃであそんでいます。  
いちりんしゃはあと4だいあります。

① □にあうかずをかきましょう。



● と ■ を せんで  
むすびましょう。

② いちりんしゃは、ぜんぶでなんだいありますか。

しき： $8 + 4 = 12$

こたえ  $\left( 12 \text{ だい} \right)$

