



たしざんと  
ひきざん 7

● まえとうしろのにんずう  
ぜんぶでなんにん？

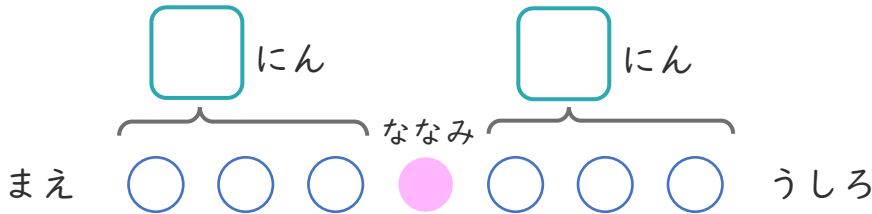


日にち：            月            日

名まえ \_\_\_\_\_

1 バスでいにひとがならんでいます。ななみさんのまえに3にん、うしろに3にんいます。

① □ にあうかずをかきましょう。



② ぜんぶでなんにんならんでいますか。

しき：

こたえ

2 こどもがならんでいます。はるきさんのまえに5にん、うしろに3にんいます。

① □ にあうかずをかきましょう。



② ぜんぶでなんにんならんでいますか。

しき：

こたえ





たしざんと  
ひきざん 7

● まえとうしろのにんずう  
ぜんぶでなんにん？

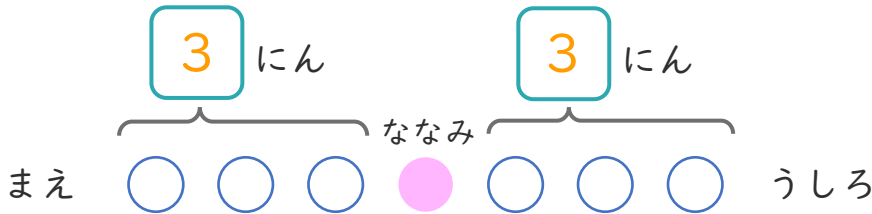


日にち： 月 日

名まえ \_\_\_\_\_

1 バスでいにひとがならんでいます。ななみさんのまえに3にん、うしろに3にんいます。

① □ にあうかずをかきましょう。



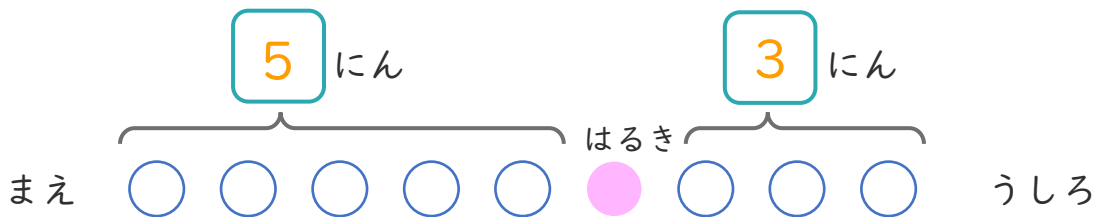
② ぜんぶでなんにんならんでいますか。

しき： $3 + 1 + 3 = 7$

こたえ  $\left( 7 \text{ にん} \right)$

2 こどもがならんでいます。はるきさんのまえに5にん、うしろに3にんいます。

① □ にあうかずをかきましょう。



② ぜんぶでなんにんならんでいますか。

しき： $5 + 1 + 3 = 9$

こたえ  $\left( 9 \text{ にん} \right)$

