



のこりはいくつ？


それぞれの かずと ちがい




日にち： 月 日

名まえ _____

1 🍎 と 🍊 の かずの ちがいは なんこですか。




しき

 のかず


こたえ

こ

2 🎩 と 🎩 の かずの ちがいは なんこですか。



しき

 のかず

こたえ

こ





のこりはいくつ？


それぞれの かずと ちがい



日にち： 月 日

名まえ _____

1 と の かずの ちがいは なんこですか。



しき

$$8 - 3 = 5$$

のかず

こたえ

5

こ

2 と の かずの ちがいは なんこですか。



しき

$$7 - 5 = 2$$

のかず

こたえ

2

こ

