



あわせていくつ2

たしざんのしきのかきかた



日にち： 月 日

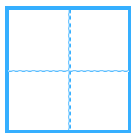
名まえ _____

・ にんじんをあわせるとぜんぶでいくつになるでしょう。


①

あわせる

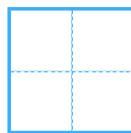
ぜんぶで



ぽんと

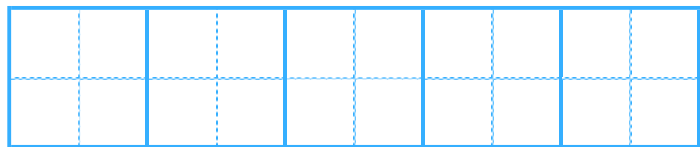


ほんで

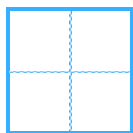


ぼん

しき



こたえ

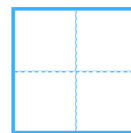


ぼん

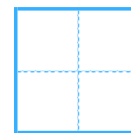
②

あわせる

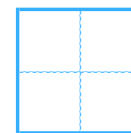
ぜんぶで



ほん

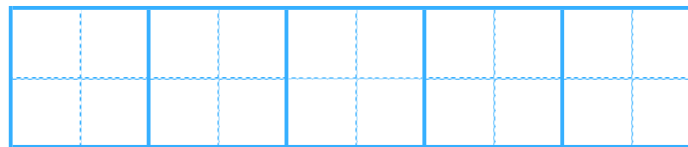


ほんで

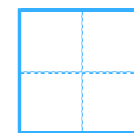


ぼん

しき



こたえ



ぼん





あわせていくつ？

たしざんのしきのかきかた



日にち： 月 日

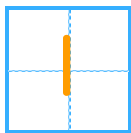
名まえ _____

・ にんじんをあわせるとぜんぶでいくつになるでしょう。

①

あわせる

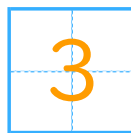
ぜんぶで



ぽんと



ほんで

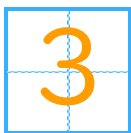


ぼん

しき

$$1 + 2 = 3$$

こたえ

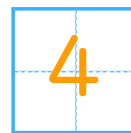


ぼん

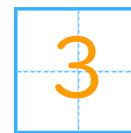
②

あわせる

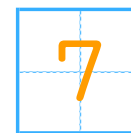
ぜんぶで



ほんと



ほんで

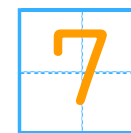


ぼん

しき

$$4 + 3 = 7$$

こたえ



ぼん

