



たしざんと
ひきざん 6

● どんぐりはなんこ?
(きゅうしょう)



日にち： 月 日

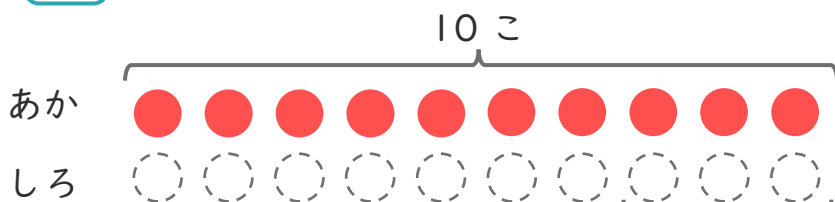
名まえ _____

1 あかいたまが 10こ あります。

しろいたまは、あかいたまより 3こ すくないそうです。

① □ にあうかずをかきましょう。

○ にいろをぬりましょう。



□ こすくない

② しろいたまはなんこ ありますか。

しき：

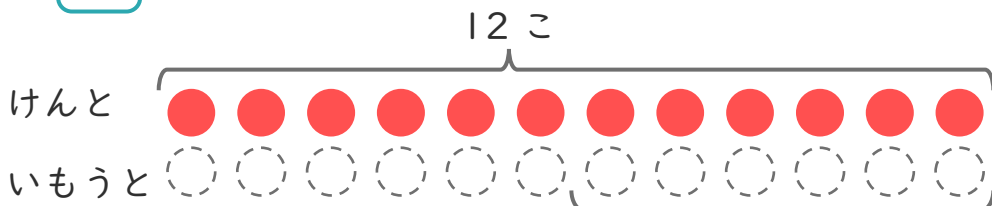
こたえ {

2 けんとさんはどんぐりを 12こ ひろいました。

いもうとは、けんとさんより 6こ すくなかったそうです。

① □ にあうかずをかきましょう。

○ にいろをぬりましょう。



□ こすくない

② いもうとは、なんこ ひろいましたか。

しき：

こたえ {





たしざんと
ひきざん 6

● どんぐりはなんこ?
(きゅうしょう)



日にち： 月 日

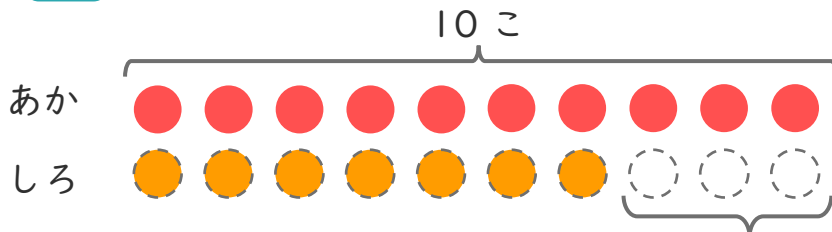
名まえ _____

1 あかいたまが 10こ あります。

しろいたまは、あかいたまより 3こ すくないそうです。

① □ にあうかずをかきましょう。

○ にいろを
ぬりましょう。



3こ すくない

② しろいたまは なんこ ありますか。

しき： $10 - 3 = 7$

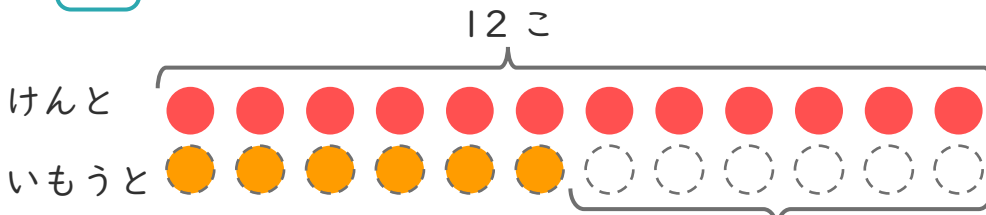
こたえ { 7 こ }

2 けんとさんは どんぐりを 12こ ひろいました。

いもうとは、けんとさんより 6こ すくなかったそうです。

① □ にあうかずをかきましょう。

○ にいろを
ぬりましょう。



6こ すくない

② いもうとは、なんこ ひろいましたか。

しき： $12 - 6 = 6$

こたえ { 6 こ }

