




のこりはいくつ 2

しきをつくろう



- はなが 5ほん あります。
- 1ほん あげました。
- のこりは なんほん になりましたか。



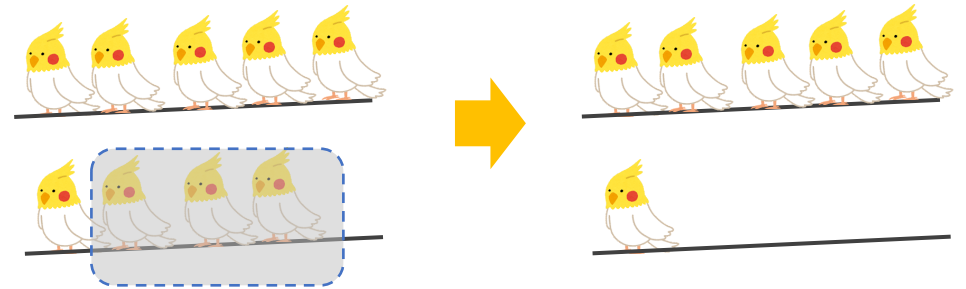
しき

こたえ ほん

日にち： 月 日

名まえ _____

- とりが 9わ とまっていたいました。
- 3わ とんでいきました。
- のこりは なんわ でしょう。



しき

こたえ わ





のこりはいくつ 2


しきをつくろう



日にち： 月 日

名まえ _____

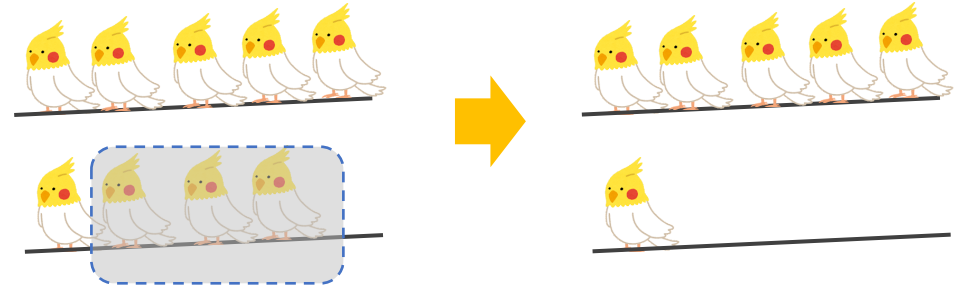
- はなが 5ほん あります。
1ほん あげました。
のこりは なんほん になりましたか。



しき $5 - 1 = 4$

こたえ 4 ほん

- とりが 9わ とまっていたました。
3わ とんでいきました。
のこりは なんわ でしょう。



しき $9 - 3 = 6$

こたえ 6 わ

