




のこりはいくつ？

しきをつくろう



- はなが 5ほん あります。
1ほん あげました。
のこりは なんほん になりましたか。



しき

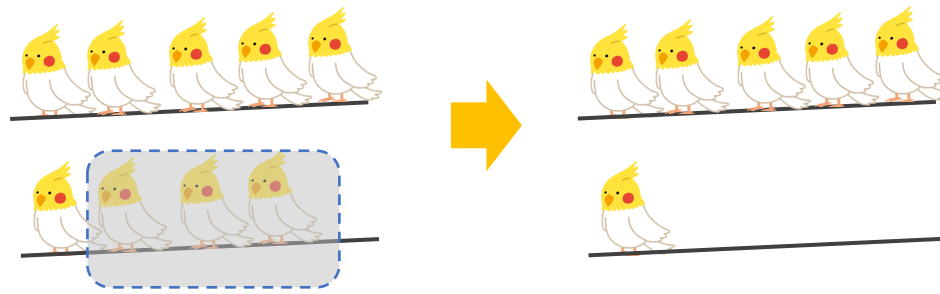
こたえ

ほん

日にち： 月 日

名まえ

- とりが 9わ とまっていたいました。
3わ とんでいきました。
のこりは なんわ でしょう。



しき

こたえ

わ




のこりはいくつ？ 2

しきをつくろう



- はなが 5ほん あります。
1ほん あげました。
のこりは なんほん になりましたか。



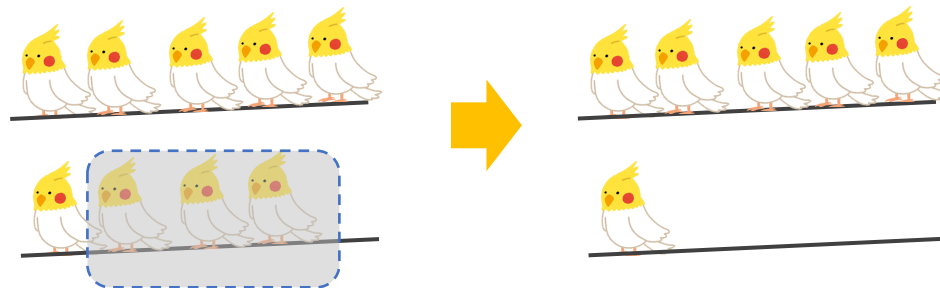
しき $5 - 1 = 4$

こたえ 4 ほん

日にち： 月 日

名まえ

- とりが 9わ とまっていたいました。
3わ とんでいきました。
のこりは なんわ でしょう。



しき $9 - 3 = 6$

こたえ 6 わ