




### どちらがおおい③

● コップでなんばいはいりますか？




日にち：            月            日

名まえ \_\_\_\_\_

・ みずが  のかずだけはいります。

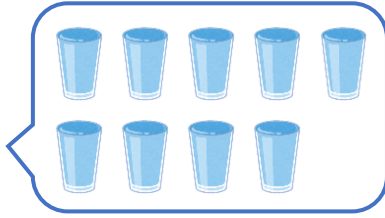
① あ




② い




③ う




①  でなんばいはいりますか。

① あ...  はい    ② い...  はい    ③ う...  はい

② ①と②では、どちらがどれだけおおくはいりますか。

のほうが、 で  はいぶん おおくはいる。

③ ②と③では、どちらがどれだけおおくはいりますか。

のほうが、 で  はいぶん おおくはいる。






### どちらがおおい③

● コップでなんばい  
はいりますか？




日にち：        月        日

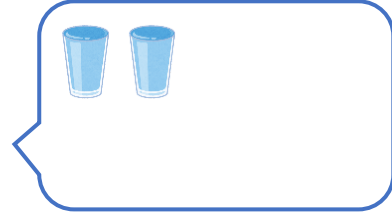
名まえ \_\_\_\_\_

・ みずが  のかずだけはいります。


① あ




② い



③ う



①  でなんばいはいりますか。

① あ... **5** はい    ② い... **2** はい    ③ う... **9** はい

② ①と②では、どちらがどれだけおおくはいりますか。

**①**のほうが、 で **3** はいぶんおおくはいる。

③ ②と③では、どちらがどれだけおおくはいりますか。

**③**のほうが、 で **7** はいぶんおおくはいる。

