



くりあがりのある
たしざん 8


● えとぶんしょうから
しきをつくろう




日にち： 月 日

名まえ _____

1 さかなは あわせて なんびき ですか。しきをかきましょう。




3 びき




9 ひき

しき： + =

2 にんじんは あわせて なんぼん ですか。しきをかきましょう。



8 ぼん



7 ぼん

しき： + =



くりあがりのある
たしざん 8


● えとぶんしょうから
しきをつくろう




日にち： 月 日

名まえ _____

1 さかなは あわせて なんびき ですか。しきをかきましょう。




3 びき




9 ひき

しき： $\boxed{3} + \boxed{9} = \boxed{12}$

2 にんじんは あわせて なんぼん ですか。しきをかきましょう。



8 ぼん



7 ぼん

しき： $\boxed{8} + \boxed{7} = \boxed{15}$

