



かけ算 19


◎ 6～9の段の
文しょうだい



日にち： 月 日

名まえ _____

1 | ゼリーの入ったはこが 5はこ あります。ゼリーは 1はこに
6こ 入っています。ゼリーは ぜんぶで 何こ ありますか。
(うすい字はなぞりましょう。)



$$\text{しき} : 6 \times 5 = 30$$

答え： 30こ

2 | 1週間は 7日です。3週間は 何日ですか。
(うすい字はなぞりましょう。)



$$\text{しき} : 7 \times 3 =$$

答え： _____



かけ算 19

◎ 6～9の段の
文しょうだい



日にち： 月 日

名まえ _____

- 1 たばが 8本ずつの花たばがあります。
7たばでは花は何本ありますか。
(うすい字はなぞりましょう。)

$$\text{しき： } 8 \times 7 = 56$$

答え： _____

- 2 ペットボトルが 6本入ったダンボールが 3はこ あります。
ペットボトルはぜんぶで何本ありますか。

しき：

答え： _____




かけ算 19

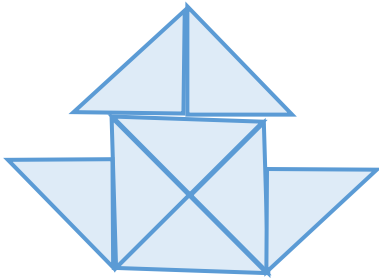
◎ 6～9の段の
文しょうだい



日にち： 月 日

名まえ _____

1 下のような形を 4つ 作ります。 の色いたは、
ぜんぶで 何まい いますか。



しき：

答え： _____

2 ゆみさんは あめが 6こ 入った ふくろを 5ふくろ もっています。
あめは ぜんぶで 何こ ありますか。

しき：

答え： _____



かけ算 19

◎ 6～9の段の
文しょうだい



日にち： 月 日

名まえ _____

1 パンの入ったふくろが 7ふくろ あります。パンは 1ふくろに
6こ 入っています。パンは ぜんぶで 何こ ありますか。

しき：

答え： _____

2 あきさんの家では、1日に 9dLずつ お茶を のみます。
3日間で、お茶は 何dL いらいますか。

しき：

答え： _____



かけ算 19

◎ 6～9の段の
文しょうだい



日にち： 月 日

名まえ _____

1 本を 1日に 7ページずつ 読みます。3日間では、
何ページ 読めますか。(うすい字はなぞりましょう。)


しき： $7 \times 3 =$

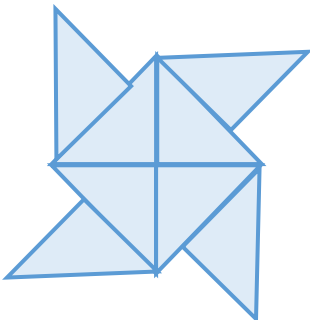
答え： _____

2 さきさんの家では、1日に 9dLずつ 牛にゆうを のみます。
5日間で、牛にゆうは 何dL いらいますか。

しき：

答え： _____

3 下のような形を 6つ 作ります。  の色いたは、
ぜんぶで 何まい いらいますか。



しき：

答え： _____





かけ算 19

◎ 6～9の段の
文しょうだい



日にち： 月 日

名まえ _____

1 3つのはこに ケーキが 6こずつ 入っています。
ケーキは ぜんぶで 何こ ありますか。

しき：

答え： _____

2 1まい 8円の色紙を 4まい 買います。
ぜんぶで いくらに なりますか。

しき：

答え： _____

3 ひとりに 色紙を 9まいずつ くばります。子どもは 6人 います。
色紙は 何まい あれば よい ですか。

しき：

答え： _____



かけ算 19

◎ 6～9の段の
文しょうだい



日にち： 月 日

名まえ _____

1 水そうに 7ひきずつ 金魚がいます。

この水そうが 4こ あるとき、金魚は ぜんぶで 何ひきになりますか。

しき：

答え： _____

2 1こ 9円の あめを 8こ 買います。

ぜんぶで いくらになりますか。

しき：

答え： _____

3 みかんを 4人に 6こずつ くばります。

みかんは 何こ あれば よいですか。

しき：

答え： _____



かけ算 19

◎ 6～9の段の
文しょうだい



日にち： 月 日

名まえ _____

1 週間は 7日です。3週間は 何日ですか。

しき：

答え： _____

2 りんごをひとり 6こずつ 8人にくばりました。
りんごは ぜんぶで 何こ ありますか。

しき：

答え： _____

3 けんたさんは あめが 8こ 入った ふくろを 4ふくろ もっています。
あめは ぜんぶで 何こ ありますか。

しき：

答え： _____





かけ算 19

◎ 6～9の段の
文しょうだい



日にち： 月 日

名まえ _____

1 長いすが 7つ あります。1つの いすに 子どもが 6人ずつ すわって
います。子どもは ぜんぶで 何人 いますか。

しき：

答え： _____

2 同じ 長さの リボンを 9本 つなげて ならべました。1本の リボンの
長さは 7cm です。ぜんたいの 長さは 何cmですか。

しき：

答え： _____

3 1まい 9円の 画用紙を 8まい 買いました。
ぜんぶで いくらに なりますか。

しき：

答え： _____



かけ算 19

◎ 6～9の段の
文しょうだい



日にち： 月 日

名まえ _____

1 リンゴの入ったはこが7はこあります。りんごは1はこに
8こ入っています。りんごはぜんぶで何こありますか。

しき：

答え： _____

2 ゆみさんの家では、1日に6dLずつお茶をのみます。
9日間で、お茶は、何dLいりますか。

しき：

答え： _____

3 8本ずつの花をさしてある花びんが4つあります。
花はぜんぶで何本ありますか。

しき：

答え： _____



かけ算 19

◎ 6～9の段の
文しょうだい



日にち： 月 日

名まえ _____

1 本を 1日に 9ページずつ 読みます。
6日間では、何ページ 読めますか。


しき：

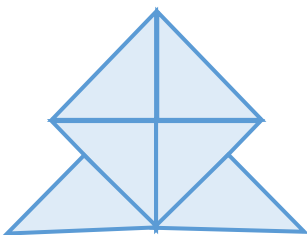
答え： _____

2 なぎさんの家では、1日に 8dLずつ 牛にゆうを のみます。
7日間で、牛にゆうは 何dL いらいますか。

しき：

答え： _____

3 下のような形を 5つ 作ります。  の色いたは、
ぜんぶで 何まい いらいますか。



しき：

答え： _____





かけ算 19

◎ 6～9の段の
文しょうだい

12

日にち： 月 日

名まえ _____

1 1まい8円の色紙を6まい買います。
ぜんぶでいくらになりますか。

しき：

答え： _____

2 5つのはこにケーキが7こずつ入っています。
ケーキはぜんぶで何こありますか。

しき：

答え： _____

3 ひとりに画用紙を9まいずつくばります。子どもは3人います。
画用紙は何まいあればよいですか。

しき：

答え： _____



かけ算 19

◎ 6～9の段の
文しょうだい

13

日にち： 月 日

名まえ _____

1 みかんを 7人に 8こずつくばります。
みかんは何こあればよいですか。

しき：

答え： _____

2 ドーナツの入ったはこが 6はこあります。ドーナツは 1はこに
9こ入っています。ドーナツはぜんぶで何こありますか。

しき：

答え： _____

3 1こ 8円のガムを 4こ買います。
ぜんぶでいくらになりますか。

しき：

答え： _____



かけ算 19

◎ 6～9の段の
文しょうだい

14

日にち： 月 日

名まえ

1 1週間は 7日です。8週間は 何日ですか。

しき：

答え：

2 あきらさんは あめが 9こ 入った ふくろを 6ふくろ もっています。
あめは ぜんぶで 何こ ありますか。

しき：

答え：

3 いちごを ひとり 8こずつ 3人にくばりました。
いちごは ぜんぶで 何こ ありますか。

しき：

答え：




かけ算 19

◎ 6～9の段の
文しょうだい

15

目指せ100点!



名まえ

1 ケーキの入ったはこが8はこあります。ケーキは1はこに
6こ入っています。ケーキはぜんぶで何こありますか。(50点)

しき：

答え：

2 みかんが7こずつ入ったふくろが6ふくろあります。
みかんはぜんぶで何こありますか。(50点)

しき：

答え：




かけ算 19

◎ 6～9の段の
文しょうだい

16

目指せ100点!



名まえ

1 ドーナツの入ったはこが 3はこ あります。ドーナツは 1はこに 9こ 入っています。ドーナツは ぜんぶで 何こ ありますか。(50点)

しき：

答え：

2 ゆみさんの家では、1日に 8dLずつ 牛にゆうを のみます。
7日間で、牛にゆうは 何dL いらいますか。(50点)

しき：

答え：



かけ算 19


◎ 6～9の段の
文しょうだい



日にち： 月 日

名まえ _____

1 | ゼリーの入ったはこが 5はこ あります。ゼリーは 1はこに
6こ 入っています。ゼリーは ぜんぶで 何こ ありますか。
(うすい字はなぞりましょう。)



$$\text{しき} : 6 \times 5 = 30$$

答え： 30こ

2 | 1週間は 7日です。3週間は 何日ですか。
(うすい字はなぞりましょう。)



$$\text{しき} : 7 \times 3 = 21$$

答え： 21日





かけ算 19

◎ 6～9の段の
文しょうだい



日にち： 月 日

名まえ _____

- 1 たばが 8本ずつの花たばがあります。
7たばでは花は何本ありますか。
(うすい字はなぞりましょう。)

$$\text{しき： } 8 \times 7 = 56$$

答え： 56本

- 2 ペットボトルが 6本入ったダンボールが 3はこ あります。
ペットボトルはぜんぶで何本ありますか。

$$\text{しき： } 6 \times 3 = 18$$

答え： 18本




かけ算 19

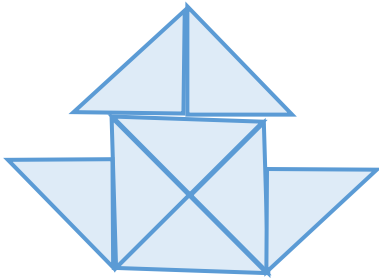
◎ 6～9の段の
文しょうだい



日にち： 月 日

名まえ _____

1 下のような形を 4つ 作ります。 の色いたは、
ぜんぶで 何まい いきますか。



$$\text{しき} : 8 \times 4 = 32$$

答え： 32まい

2 ゆみさんは あめが 6こ 入った ふくろを 5ふくろ もっています。
あめは ぜんぶで 何こ ありますか。

$$\text{しき} : 6 \times 5 = 30$$

答え： 30こ



かけ算 19

◎ 6～9の段の
文しょうだい



日にち： 月 日

名まえ _____

1 パンの入ったふくろが 7ふくろ あります。パンは 1ふくろに
6こ 入っています。パンは ぜんぶで 何こ ありますか。

$$\text{しき} : 6 \times 7 = 42$$

答え： 42こ

2 あきさんの家では、1日に 9dLずつ お茶を のみます。
3日間で、お茶は 何dL いきますか。

$$\text{しき} : 9 \times 3 = 27$$

答え： 27dL



かけ算 19

◎ 6～9の段の
文しょうだい



日にち： 月 日

名まえ _____

1 本を 1日に 7ページずつ 読みます。3日間では、
何ページ 読めますか。(うすい字はなぞりましょう。)


$$\text{しき： } 7 \times 3 = 21$$

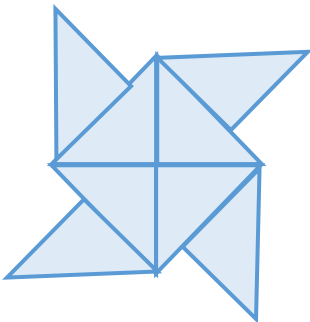
答え： 21ページ

2 さきさんの家では、1日に 9dLずつ 牛にゆうを のみます。
5日間で、牛にゆうは 何dL いらいますか。

$$\text{しき： } 9 \times 5 = 45$$

答え： 45dL

3 下のような 形を 6つ 作ります。  の色いたは、
ぜんぶで 何まい いらいますか。



$$\text{しき： } 8 \times 6 = 48$$

答え： 48まい





かけ算 19

◎ 6～9の段の
文しょうだい



日にち： 月 日

名まえ _____

1 3つのはこにケーキが6こずつ入っています。
ケーキはぜんぶで何こありますか。

$$\text{しき： } 6 \times 3 = 18$$

答え： 18こ

2 1まい8円の色紙を4まい買います。
ぜんぶでいくらになりますか。

$$\text{しき： } 8 \times 4 = 32$$

答え： 32円

3 ひとりに色紙を9まいずつくばります。子どもは6人います。
色紙は何まいあればよいですか。

$$\text{しき： } 9 \times 6 = 54$$

答え： 54枚





かけ算 19

◎ 6～9の段の
文しょうだい



日にち： 月 日

名まえ _____

1 水そうに 7ひきずつ 金魚がいます。

この水そうが 4こ あるとき、金魚は ぜんぶで 何ひきになりますか。

$$\text{しき： } 7 \times 4 = 28$$

答え： 28ひき

2 1こ 9円の あめを 8こ 買います。

ぜんぶで いくらになりますか。

$$\text{しき： } 9 \times 8 = 72$$

答え： 72円

3 みかんを 4人に 6こずつ くばります。

みかんは 何こ あればよいですか。

$$\text{しき： } 6 \times 4 = 24$$

答え： 24こ



かけ算 19

◎ 6～9の段の
文しょうだい



日にち： 月 日

名まえ _____

1 週間は 7日です。3週間は 何日ですか。

$$\text{しき} : 7 \times 3 = 21$$

答え： 21日

2 りんごをひとり 6こずつ 8人にくばりました。
りんごは ぜんぶで 何こ ありますか。

$$\text{しき} : 6 \times 8 = 48$$

答え： 48こ

3 けんたさんは あめが 8こ 入った ふくろを 4ふくろ もっています。
あめは ぜんぶで 何こ ありますか。

$$\text{しき} : 8 \times 4 = 32$$

答え： 32こ



かけ算 19

◎ 6～9の段の
文しょうだい



日にち： 月 日

名まえ _____

1 長いすが 7つ あります。1つの いすに 子どもが 6人ずつ すわって
います。子どもは ぜんぶで 何人 いますか。

$$\text{しき} : 6 \times 7 = 42$$

答え : 42人

2 同じ 長さの リボンを 9本 つなげて ならべました。1本の リボンの
長さは 7cm です。ぜんたいの 長さは 何cmですか。

$$\text{しき} : 7 \times 9 = 63$$

答え : 63cm

3 1まい 9円の 画用紙を 8まい 買いました。
ぜんぶで いくらに なりますか。

$$\text{しき} : 9 \times 8 = 72$$

答え : 72円



かけ算 19

◎ 6～9の段の
文しょうだい



日にち： 月 日

名まえ _____

1 りんごの入ったはこが7はこあります。りんごは1はこに
8こ入っています。りんごはぜんぶで何こありますか。

$$\text{しき： } 8 \times 7 = 56$$

答え： 56こ

2 ゆみさんの家では、1日に6dLずつお茶をのみます。
9日間で、お茶は、何dLいりますか。

$$\text{しき： } 6 \times 9 = 54$$

答え： 54dL

3 8本ずつの花をさしてある花びんが4つあります。
花はぜんぶで何本ありますか。

$$\text{しき： } 8 \times 4 = 32$$

答え： 32本



かけ算 19

◎ 6～9の段の
文しょうだい



日にち： 月 日

名まえ _____

1 本を 1日に 9ページずつ 読みます。
6日間では、何ページ 読めますか。


$$\text{しき： } 9 \times 6 = 54$$

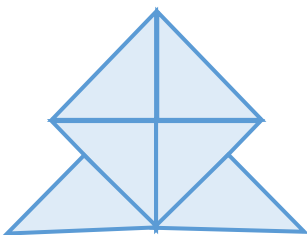
答え： 54ページ

2 なぎさんの家では、1日に 8dLずつ 牛にゆうを のみます。
7日間で、牛にゆうは 何dL いらいますか。

$$\text{しき： } 8 \times 7 = 56$$

答え： 56dL

3 下のような形を 5つ 作ります。  の色いたは、
ぜんぶで 何まい いらいますか。



$$\text{しき： } 6 \times 5 = 30$$

答え： 30まい





かけ算 19

◎ 6～9の段の
文しょうだい

12

日にち： 月 日

名まえ _____

1 1まい8円の色紙を6まい買います。
ぜんぶでいくらになりますか。

$$\text{しき： } 8 \times 6 = 48$$

答え： 48円

2 5つのはこにケーキが7こずつ入っています。
ケーキはぜんぶで何こありますか。

$$\text{しき： } 7 \times 5 = 35$$

答え： 35こ

3 ひとりに画用紙を9まいずつくばります。子どもは3人います。
画用紙は何まいあればよいですか。

$$\text{しき： } 9 \times 3 = 27$$

答え： 27まい





かけ算 19

◎ 6～9の段の
文しょうだい

13

日にち： 月 日

名まえ

1 みかんを 7人に 8こずつくばります。
みかんは何こあればよいですか。

$$\text{しき： } 8 \times 7 = 56$$

答え： 56こ

2 ドーナツの入ったはこが 6はこあります。ドーナツは 1はこに
9こ入っています。ドーナツはぜんぶで何こありますか。

$$\text{しき： } 9 \times 6 = 54$$

答え： 54こ

3 1こ 8円のガムを 4こ買います。
ぜんぶでいくらになりますか。

$$\text{しき： } 8 \times 4 = 32$$

答え： 32円



かけ算 19

◎ 6～9の段の
文しょうだい



日にち： 月 日

名まえ _____

1 1週間は 7日です。8週間は 何日ですか。

$$\text{しき} : 7 \times 8 = 56$$

答え： 56日

2 あきらさんは あめが 9こ 入った ふくろを 6ふくろ もっています。
あめは ぜんぶで 何こ ありますか。

$$\text{しき} : 9 \times 6 = 54$$

答え： 54こ

3 いちごを ひとり 8こずつ 3人にくばりました。
いちごは ぜんぶで 何こ ありますか。

$$\text{しき} : 8 \times 3 = 24$$

答え： 24こ






かけ算 19

◎ 6～9の段の
文しょうだい

15

目指せ100点!



名まえ

1 ケーキの入ったはこが8はこあります。ケーキは1はこに6こ入っています。ケーキはぜんぶで何こありますか。(50点)

$$\text{しき： } 6 \times 8 = 48$$

答え： 48こ

2 みかんが7こずつ入ったふくろが6ふくろあります。みかんはぜんぶで何こありますか。(50点)

$$\text{しき： } 7 \times 6 = 42$$

答え： 42こ




かけ算 19

◎ 6～9の段の
文しょうだい

16

目指せ100点!



名まえ

1 ドーナツの入ったはこが 3はこ あります。ドーナツは 1はこに
9こ 入っています。ドーナツは ぜんぶで 何こ ありますか。(50点)

$$\text{しき} : 9 \times 3 = 27$$

答え : 27こ

2 ゆみさんの家では、1日に 8dLずつ 牛にゆうを のみます。
7日間で、牛にゆうは 何dL いらいますか。(50点)

$$\text{しき} : 8 \times 7 = 56$$

答え : 56dL