



かけ算 25

● かけ算で
つみきの数をもとめる

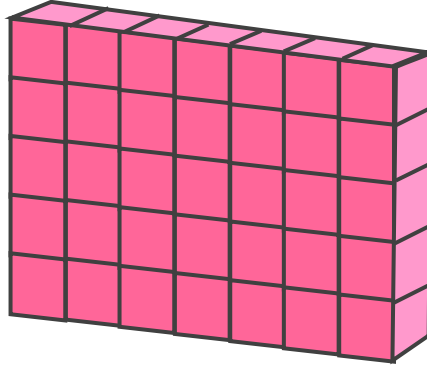


日にち： 月 日

名まえ _____


- 下の つみきの 数をもとめる かけ算の しきを 2つ 書きましょう。
(うすい字はなぞりましょう)

①



しき： () ()

②



しき： () ()





かけ算 25

● かけ算で
つみきの数をもとめる

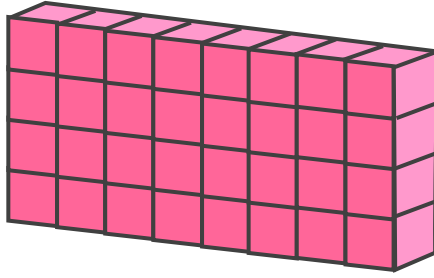


日にち： 月 日

名まえ _____

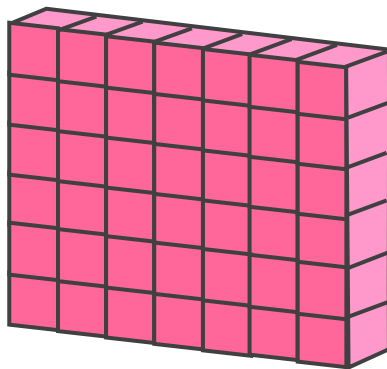
・ 下の つみきの 数をもとめる かけ算の しきを 2つ 書きましょう。

①



しき： () ()

②



しき： () ()



かけ算 25

● かけ算で
つみきの数をもとめる




日にち： 月 日

名まえ _____

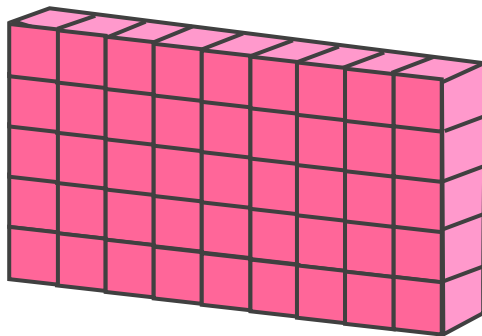
・ 下の つみきの 数をもとめる かけ算の しきを 2つ 書きましょう。

①



しき： () ()

②



しき： () ()



かけ算 25

● かけ算で
つみきの数をもとめる

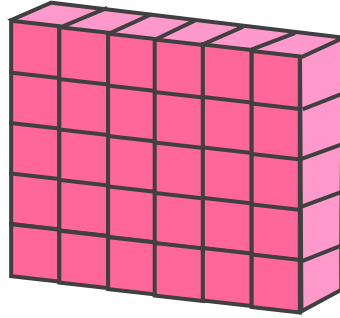


日にち： 月 日

名まえ _____


・ 下の つみきの 数をもとめる かけ算の しきを 2つ 書きましょう。

①



しき： () ()

②



しき： () ()





かけ算 25

● かけ算で
つみきの数をもとめる

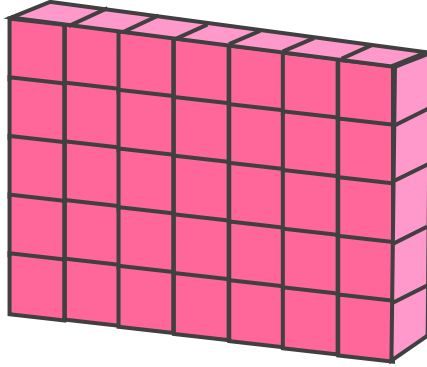


日にち： 月 日

名まえ _____


- 下の つみきの 数をもとめる かけ算の しきを 2つ 書きましょう。
(うすい字はなぞりましょう)

①



しき： (5 × 7) (7 × 5)

②



しき： (4 × 2) (2 × 4)





かけ算 25

● かけ算で
つみきの数をもとめる

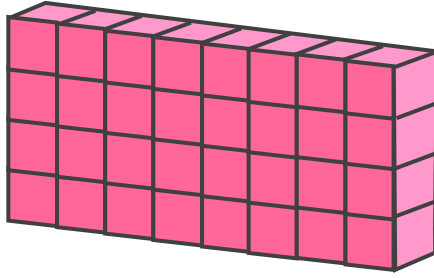


日にち： 月 日

名まえ _____

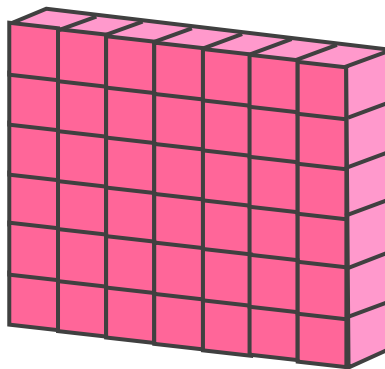
・ 下の つみきの 数をもとめる かけ算の しきを 2つ 書きましょう。

①



しき： (4×8) (8×4)

②



しき： (6×7) (7×6)





かけ算 25

● かけ算で
つみきの数をもとめる




日にち： 月 日

名まえ _____

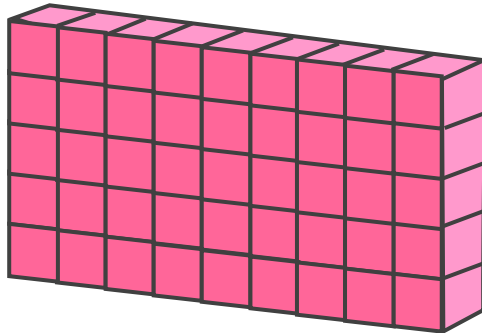
・ 下の つみきの 数をもとめる かけ算の しきを 2つ 書きましょう。

①



しき： (4×3) (3×4)

②



しき： (5×9) (9×5)





かけ算 25

● かけ算で
つみきの数をもとめる

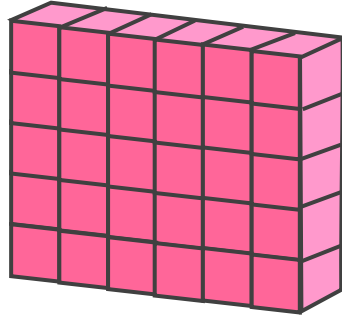


日にち： 月 日

名まえ _____


・ 下の つみきの 数をもとめる かけ算の しきを 2つ 書きましょう。

①



しき： (5 × 6) (6 × 5)

②



しき： (8 × 7) (7 × 8)

