



## かけ算 25

● かけ算で  
つみきの数をもとめる

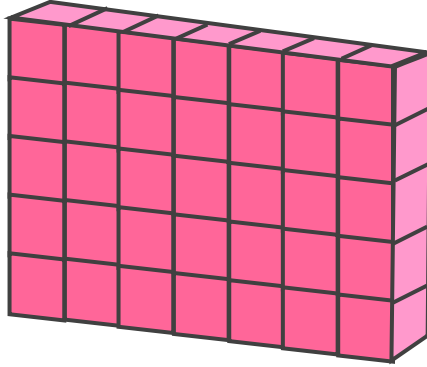


日にち：            月            日

名まえ \_\_\_\_\_


- 下の つみきの 数をもとめる かけ算の しきを 2つ 書きましょう。  
(うすい字はなぞりましょう)

①



しき：( 5 × 7 ) ( 7 × 5 )

②



しき：(            ) (            )





## かけ算 25

● かけ算で  
つみきの数をもとめる

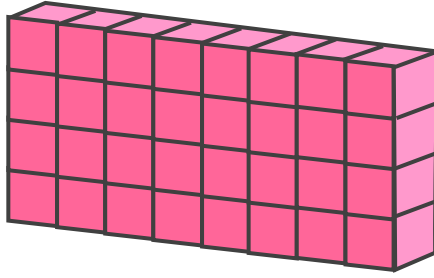


日にち：          月          日

名まえ \_\_\_\_\_

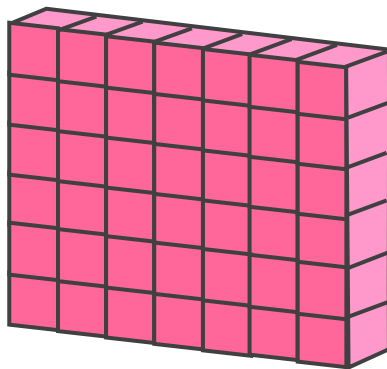
・ 下の つみきの 数をもとめる かけ算の しきを 2つ 書きましょう。

①



しき： (          ) (          )

②



しき： (          ) (          )



# かけ算 25

● かけ算で  
つみきの数をもとめる




日にち：            月            日

名まえ \_\_\_\_\_

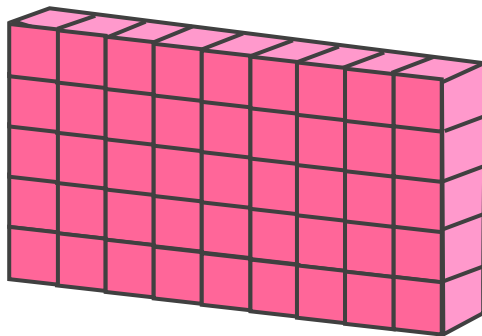
・ 下の つみきの 数をもとめる かけ算の しきを 2つ 書きましょう。

①



しき： (            ) (            )

②



しき： (            ) (            )



# かけ算 25

● かけ算で  
つみきの数をもとめる

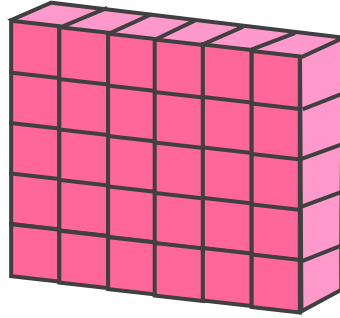


日にち：            月            日

名まえ \_\_\_\_\_


・ 下の つみきの 数をもとめる かけ算の しきを 2つ 書きましょう。

①



しき： (            ) (            )

②



しき： (            ) (            )



## かけ算 25

● かけ算で  
つみきの数をもとめる

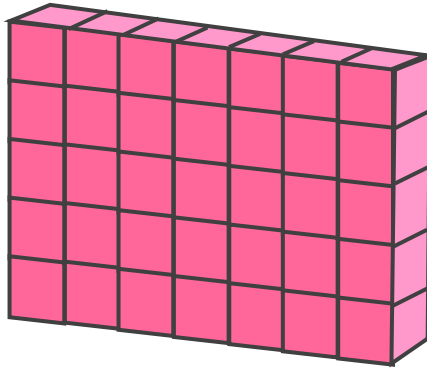


日にち：            月            日

名まえ \_\_\_\_\_


- 下の つみきの 数をもとめる かけ算の しきを 2つ 書きましょう。  
(うすい字はなぞりましょう)

①



しき： (  $5 \times 7$  ) (  $7 \times 5$  )

②



しき： (  $4 \times 2$  ) (  $2 \times 4$  )





## かけ算 25

● かけ算で  
つみきの数をもとめる

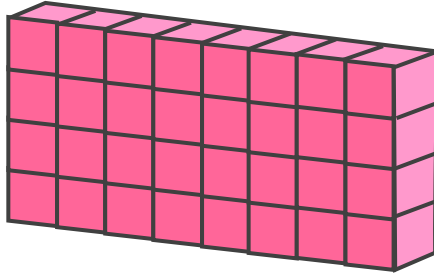


日にち：            月            日

名まえ \_\_\_\_\_

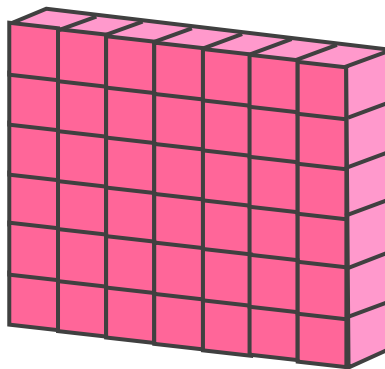
・ 下の つみきの 数をもとめる かけ算の しきを 2つ 書きましょう。

①



しき： (  $4 \times 8$  ) (  $8 \times 4$  )

②



しき： (  $6 \times 7$  ) (  $7 \times 6$  )





## かけ算 25

● かけ算で  
つみきの数をもとめる




日にち：            月            日

名まえ \_\_\_\_\_

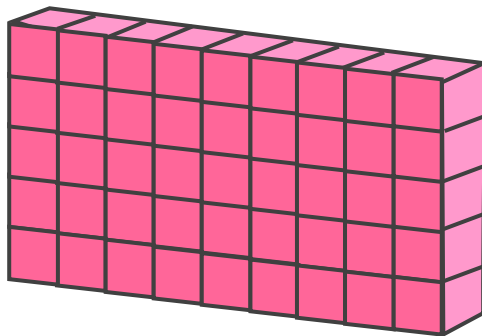
・ 下の つみきの 数をもとめる かけ算の しきを 2つ 書きましょう。

①



しき：  $(4 \times 3)$   $(3 \times 4)$

②



しき：  $(5 \times 9)$   $(9 \times 5)$





## かけ算 25

● かけ算で  
つみきの数をもとめる

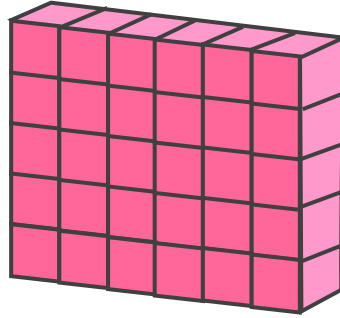


日にち：            月            日

名まえ \_\_\_\_\_


・ 下の つみきの 数をもとめる かけ算の しきを 2つ 書きましょう。

①



しき： (  $5 \times 6$  ) (  $6 \times 5$  )

②



しき： (  $8 \times 7$  ) (  $7 \times 8$  )

