



かけ算 29



くふうして丸を数えよう



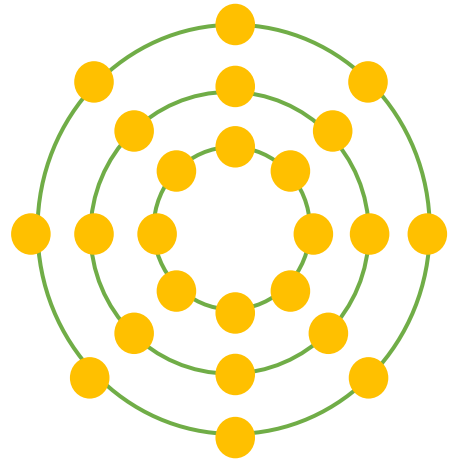
日にち： 月 日

名まえ _____

- はぜんぶで何こありますか。 ● の数をもとめるかけ算のしきを2つ書いて答えましょう。(うすい字はなぞりましょう)



しき： $3 \times 8 = 24$



しき： $8 \times 3 =$

答え： _____





かけ算 29


くふうして丸を数えよう



日にち： 月 日

名まえ _____

1 ● はぜんぶで何こありますか。 ● の数をもとめるかけ算のしきを2つ書いて答えましょう。(うすい字はなぞりましょう)




しき： $3 \times 4 =$

しき：

答え： _____

2 ● はぜんぶで何こありますか。 ● の数をもとめるかけ算のしきを2つ書いて答えましょう。



しき：

しき：

答え： _____



かけ算 29


くふうして丸を数えよう



日にち： 月 日

名まえ _____

1 ● はぜんぶで何こありますか。 ● の数をもとめるかけ算のしきを2つ書いて答えましょう。




しき：

しき：

答え： _____

2 ● はぜんぶで何こありますか。 ● の数をもとめるかけ算のしきを2つ書いて答えましょう。



しき：

しき：

答え： _____



かけ算 29


くふうして丸を数えよう

4

日にち： 月 日

名まえ _____

1 ● はぜんぶで何こありますか。 ● の数をもとめるかけ算のしきを2つ書いて答えましょう。




しき：

しき：

答え： _____

2 ● はぜんぶで何こありますか。 ● の数をもとめるかけ算のしきを2つ書いて答えましょう。



しき：

しき：

答え： _____



かけ算 29



くふうして丸を数えよう



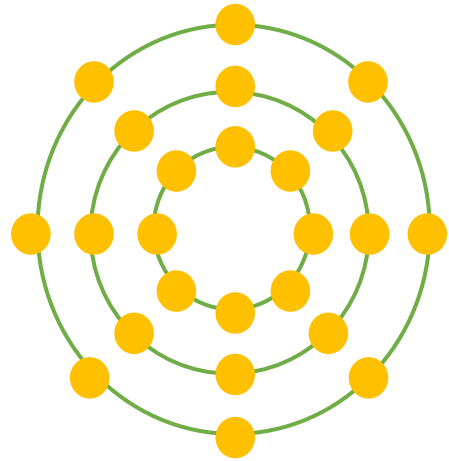
日にち： 月 日

名まえ _____

- はぜんぶで何こありますか。 ● の数をもとめるかけ算のしきを2つ書いて答えましょう。(うすい字はなぞりましょう)



しき： $3 \times 8 = 24$



しき： $8 \times 3 = 24$

答え： 24こ



かけ算 29


くふうして丸を数えよう



日にち： 月 日

名まえ _____

1 ● はぜんぶで何こありますか。 ● の数をもとめるかけ算のしきを2つ書いて答えましょう。(うすい字はなぞりましょう)




$$\text{しき： } 3 \times 4 = 12$$

$$\text{しき： } 4 \times 3 = 12$$

答え： 12こ

2 ● はぜんぶで何こありますか。 ● の数をもとめるかけ算のしきを2つ書いて答えましょう。



$$\text{しき： } 4 \times 5 = 20$$

$$\text{しき： } 5 \times 4 = 20$$

答え： 20こ



かけ算 29


くふうして丸を数えよう



日にち： 月 日

名まえ _____

1 ● はぜんぶで何こありますか。 ● の数をもとめるかけ算のしきを2つ書いて答えましょう。




$$\text{しき： } 5 \times 6 = 30$$

$$\text{しき： } 6 \times 5 = 30$$

答え： 30こ

2 ● はぜんぶで何こありますか。 ● の数をもとめるかけ算のしきを2つ書いて答えましょう。



$$\text{しき： } 6 \times 7 = 42$$

$$\text{しき： } 7 \times 6 = 42$$

答え： 42こ



かけ算 29


くふうして丸を数えよう

4

日にち： 月 日

名まえ _____

1 ● はぜんぶで何こありますか。 ● の数をもとめるかけ算のしきを2つ書いて答えましょう。




$$\text{しき： } 3 \times 6 = 18$$

$$\text{しき： } 6 \times 3 = 18$$

答え： 18こ

2 ● はぜんぶで何こありますか。 ● の数をもとめるかけ算のしきを2つ書いて答えましょう。



$$\text{しき： } 2 \times 8 = 16$$

$$\text{しき： } 8 \times 2 = 16$$

答え： 16こ