



かけ算 3

● かけ算のしきを作ろう



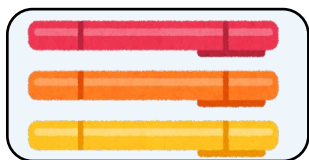
日にち： 月 日

名まえ _____

・ かけ算のしきに書きましょう。(うすい字はなぞりましょう)

①

3本



の 6つ分

しき： ×

文しょうの中から

と

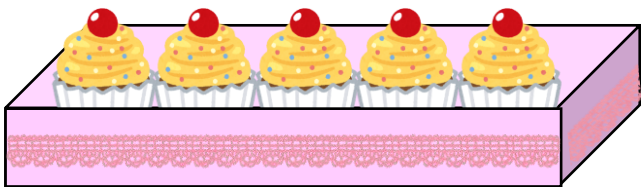
を

みつけよう



②

5こ



の

8つ分のことを

というよ

しき： ×





かけ算 3

● かけ算のしきを作ろう



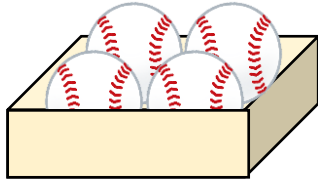
日にち： 月 日

名まえ _____

・ かけ算のしきに書きましょう。(うすい字はなぞりましょう)

①

4こ



の 7はこ分

しき： ×

文しょうの中から

と

を

みつけよう



②

2人



の 9ばい

しき： ×





かけ算 3

● かけ算のしきを作ろう



日にち： 月 日

名まえ _____

・ かけ算のしきに書きましょう。(うすい字はなぞりましょう)

①

3こ



の 5さら分

しき： ×

文しょうの中から

1つ分の数 と

いくつ分 を

みつけよう



②

4こ



の 2ばい

しき： ×

③ 確認



すらすらぷりんと



かけ算 3

◎ かけ算のしきを作ろう



日にち： 月 日

名まえ _____

・ かけ算のしきに書きましょう。(うすい字はなぞりましょう)

①

9こ



の 8はこ分

しき： ×

文しょうの中から

1つ分の数 と


いくつ分 を

みつけよう



②

7本



の 6ばい

しき： ×





かけ算 3

● かけ算のしきを作ろう



日にち： 月 日

名まえ _____

・ かけ算のしきに書きましょう。(うすい字はなぞりましょう)

①

4こ



の 8 はこ分

しき： ×

②

2人




の 7 ばい

しき： ×

③

3こ



の 6 さら分

しき： ×

④

6こ



の 4 ばい

しき：





かけ算 3

● かけ算のしきを作ろう



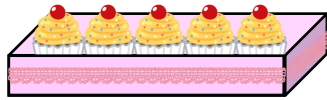
日にち： 月 日

名まえ _____

・ かけ算のしきに書きましょう。(うすい字はなぞりましょう)

①

5こ




の 4はこ分

しき： ×

②

3本




の 2ばい

しき： ×

③

6こ




の 7はこ分

しき： ×

④

2こ



の 5ばい

しき：





かけ算 3

◎ かけ算のしきを作ろう



日にち： 月 日

名まえ _____

・ かけ算のしきに書きましょう。(うすい字はなぞりましょう)

①

8こ



の 5 さら分

しき： ×

②

4こ




の 7 ばい

しき： ×

③

7こ



の 6 さら分

しき：

④

6こ



の 3 ばい

しき：





かけ算 3

● かけ算のしきを作ろう



日にち： 月 日

名まえ _____

・ かけ算のしきに書きましょう。(うすい字はなぞりましょう)

①

5本



の 6 つ分

しき： ×

②

3こ




の 9 ばい

しき： ×

③

3本



の 2 つ分

しき：

④

4こ



の 7 ばい

しき：





かけ算 3

● かけ算のしきを作ろう



日にち： 月 日

名まえ _____

・ かけ算のしきに書きましょう。(うすい字はなぞりましょう)

①

2人



の 7 台分

しき： ×

②

3こ

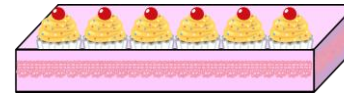


の 8 ばい

しき：

③

6こ



の 4 はこ分

しき：

④

7本



の 3 ばい

しき：





かけ算 3

● かけ算のしきを作ろう



日にち： 月 日

名まえ _____

・ かけ算のしきに書きましょう。

①

8こ

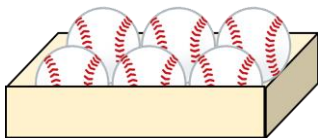


の 9 さら分

しき：

②

6こ




の 5 ばい

しき：

③

3本



の 2 つ分

しき：

④

7こ



の 3 ばい

しき：





かけ算 3

● かけ算のしきを作ろう




日にち： 月 日

名まえ _____

・ かけ算のしきに書きましょう。

①

4こ



の 5 さら分

しき：

②

9こ




の 8 ばい

しき：

③

3こ



の 6 さら分

しき：

④

6こ



の 9 ばい

しき：





かけ算 3

● かけ算のしきを作ろう

12

日にち： 月 日

名まえ _____

・ かけ算のしきに書きましょう。


① 5本



の 3つ分

しき：


② 7こ



の 4ばい

しき：


③ 6こ



の 8はこ分

しき：

④ 3本



の 2ばい

しき：





かけ算 3

◎ かけ算のしきを作ろう

13


日にち： 月 日

名まえ _____

・ かけ算のしきに書きましょう。

①

2こ



の 7 さら分

しき：

②

5こ



の 9 ばい

しき：

③

8こ



の 4 さら分

しき：

④

7本



の 6 ばい

しき：





かけ算 3

● かけ算のしきを作ろう

14

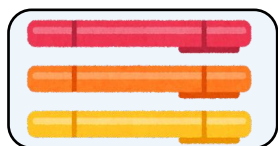
日にち： 月 日

名まえ _____

・ かけ算のしきに書きましょう。

①

3本



の 4つ分

しき：

②

7こ



の 5ばい

しき：

③

2人



の 6台分

しき：

④

3こ



の 2ばい

しき：





かけ算 3


● かけ算のしきを作ろう

15

日にち： 月 日

めざせ75点!


名まえ _____



・ かけ算のしきに書きましょう。(各25点)

①

4こ



の 7 さら分

しき：

②

9こ



の 4 ばい

しき：

③

6こ



の 6 つ分

しき：

④

5本



の 8 ばい

しき：





かけ算 3


● かけ算のしきを作ろう

16

日にち： 月 日

めざせ75点!

名まえ _____



・ かけ算のしきに書きましょう。(各25点)

①

3こ

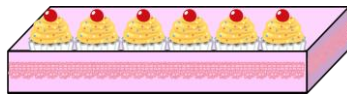


の 9 さら分

しき：

②

6こ



の 3 ばい

しき：

③

7本



の 4 つ分

しき：

④

2人



の 7 ばい

しき：





かけ算 3

● かけ算のしきを作ろう




日にち： 月 日

名まえ _____

・ かけ算のしきに書きましょう。(うすい字はなぞりましょう)

①

3本



の 6つ分

しき： 3×6

文しょうの中から

1つ分の数 と

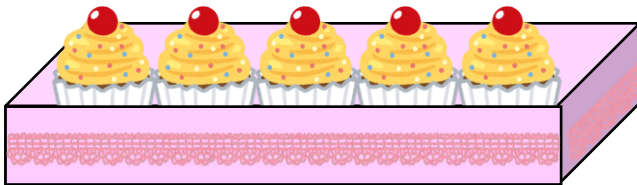
いくつ分 を

みつけよう



②

5こ



の 8ばい

8つ分のことを

8ばい というよ

しき： 5×8





かけ算 3

◎ かけ算のしきを作ろう



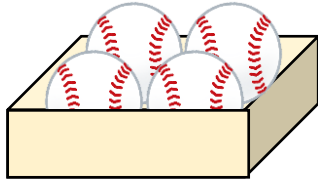
日にち： 月 日

名まえ _____

・ かけ算のしきに書きましょう。(うすい字はなぞりましょう)

①

4こ



の 7はこ分

しき： 4×7

文しょうの中から

一つ分の数 と

いくつ分 を

みつけよう



②

2人



の 9ばい

しき： 2×9





かけ算 3

● かけ算のしきを作ろう



日にち： 月 日

名まえ _____

・ かけ算のしきに書きましょう。(うすい字はなぞりましょう)

①

3こ



の 5さら分

しき： 3×5

文しょうの中から

1つ分の数 と


いくつ分 を

みつけよう



②

4こ



の 2ばい

しき： 4×2

③ 確認 答え



すらすらぷりんと



かけ算 3

◎ かけ算のしきを作ろう



日にち： 月 日

名まえ _____

・ かけ算のしきに書きましょう。(うすい字はなぞりましょう)

①

9こ



の 8はこ分

しき： 9×8

文しょうの中から

1つ分の数 と


いくつ分 を

みつけよう



②

7本



の 6ばい

しき： 7×6





かけ算 3

◎ かけ算のしきを作ろう



日にち： 月 日

名まえ _____

・ かけ算のしきに書きましょう。(うすい字はなぞりましょう)

①

4こ



の 8 はこ分

しき： 4×8

②

2人




の 7 ばい

しき： 2×7

③

3こ



の 6 さら分

しき： 3×6

④

6こ



の 4 ばい

しき： 6×4





かけ算 3

● かけ算のしきを作ろう

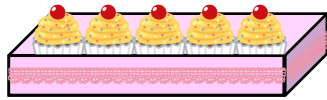


日にち： 月 日

名まえ _____

・ かけ算のしきに書きましょう。(うすい字はなぞりましょう)


① 5こ



の 4 はこ分

しき： 5×4


② 3本



の 2 ばい

しき： 3×2


③ 6こ



の 7 はこ分

しき： 6×7

④ 2こ



の 5 ばい

しき： 2×5





かけ算 3

● かけ算のしきを作ろう



日にち： 月 日

名まえ _____

・ かけ算のしきに書きましょう。(うすい字はなぞりましょう)

①

8こ




の 5 さら分

しき： 8×5

②

4こ




の 7 ばい

しき： 4×7

③

7こ



の 6 さら分

しき： 7×6

④

6こ



の 3 ばい

しき： 6×3





かけ算 3

◎ かけ算のしきを作ろう



日にち： 月 日

名まえ _____

・ かけ算のしきに書きましょう。(うすい字はなぞりましょう)

①

5本



の 6 つ分

しき： 5×6

②

3こ




の 9 ばい

しき： 3×9

③

3本



の 2 つ分

しき： 3×2

④

4こ



の 7 ばい

しき： 4×7





かけ算 3

● かけ算のしきを作ろう



日にち： 月 日

名まえ _____

・ かけ算のしきに書きましょう。(うすい字はなぞりましょう)

①

2人



の 7 台分

しき： 2×7

②

3こ

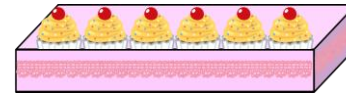


の 8 ばい

しき： 3×8

③

6こ



の 4 はこ分

しき： 6×4

④

7本



の 3 ばい

しき： 7×3





かけ算 3

● かけ算のしきを作ろう

10

日にち： 月 日

名まえ _____

・ かけ算のしきに書きましょう。

①

8こ

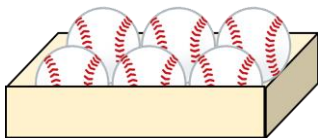


の 9 さら分

しき： 8×9

②

6こ




の 5 ばい

しき： 6×5

③

3本



の 2 つ分

しき： 3×2

④

7こ



の 3 ばい

しき： 7×3





かけ算 3

● かけ算のしきを作ろう




日にち： 月 日

名まえ _____

・ かけ算のしきに書きましょう。

①

4こ



の 5 さら分

しき： 4×5

②

9こ



の 8 ばい

しき： 9×8

③

3こ



の 6 さら分

しき： 3×6

④

6こ



の 9 ばい

しき： 6×9





かけ算 3

● かけ算のしきを作ろう

12

日にち： 月 日

名まえ _____

・ かけ算のしきに書きましょう。

① 5本



の 3つ分

しき： 5 × 3


② 7こ



の 4ばい

しき： 7 × 4


③ 6こ



の 8はこ分

しき： 6 × 8

④ 3本



の 2ばい

しき： 3 × 2





かけ算 3

● かけ算のしきを作ろう

13


日にち： 月 日

名まえ _____

・ かけ算のしきに書きましょう。

①

2こ



の 7 さら分

しき： 2×7

②

5こ



の 9 ばい

しき： 5×9

③

8こ



の 4 さら分

しき： 8×4

④

7本



の 6 ばい

しき： 7×6





かけ算 3

● かけ算のしきを作ろう

14

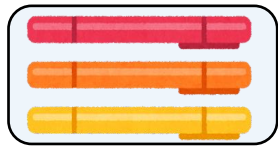
日にち： 月 日

名まえ _____

・ かけ算のしきに書きましょう。

①

3本




の 4つ分

しき： 3×4

②

7こ



の 5ばい

しき： 7×5

③

2人



の 6台分

しき： 2×6

④

3こ



の 2ばい

しき： 3×2





かけ算 3


● かけ算のしきを作ろう

15

日にち： 月 日

めざせ75点!


名まえ _____



・ かけ算のしきに書きましょう。(各25点)

①

4こ



の 7 さら分

しき： 4×7

②

9こ



の 4 ばい

しき： 9×4

③

6こ



の 6 つ分

しき： 6×6

④

5本



の 8 ばい

しき： 5×8





かけ算 3


● かけ算のしきを作ろう

16

日にち： 月 日

名まえ _____

めざせ75点!



・ かけ算のしきに書きましょう。(各25点)

①

3こ



の 9 さら分

しき： 3×9

②

6こ




の 3 ばい

しき： 6×3

③

7本



の 4 つ分

しき： 7×4

④

2人



の 7 ばい

しき： 2×7

