



かけ算 3!

● 2から5のだんの
ぶんしょうもんだい



日にち： 月 日

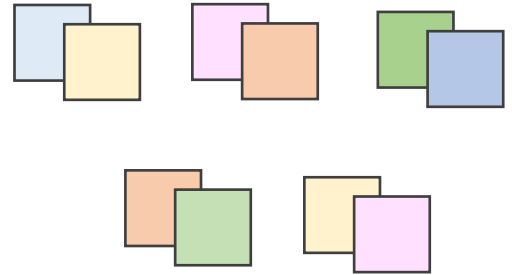
名まえ _____

1 色紙を 1人に 2まいずつ くばります。

5人に くばるには、色紙は ぜんぶで 何まい いきますか。
(うすい字はなぞりましょう。)

しき： $2 \times 5 =$

↑ ↑
1つ分の数 いくつ分



答え (まい)

2 ふくろが 6まい あります。

1まいのふくろに、ビー玉を 3こずつ 入れます。

ビー玉は、ぜんぶで なんこ いきますか。

(うすい字はなぞりましょう。)

しき： $3 \times \quad =$

↑ ↑
1つ分の数 いくつ分



答え ()



かけ算 31

● 2から5のだんの
ぶんしょうもんだい



日にち： 月 日


名まえ _____

1 えんぴつを 1人に 4本ずつ くばります。

2人に くばるには、えんぴつは ぜんぶで 何本 いらいますか。
(うすい字はなぞりましょう。)

1つ分の数 いくつ分

しき: $4 \times 2 =$



答え (本)

2 はこが 3はこ あります。


1はこに、りんごを 5こずつ いらいます。

りんごは、ぜんぶで なんこ いらいますか。

(うすい字はなぞりましょう。)

1つ分の数 いくつ分

しき: \times =



答え ()





かけ算 31

◎ 2から5のだんの
ぶんしょうもんだい



日にち： 月 日

名まえ _____

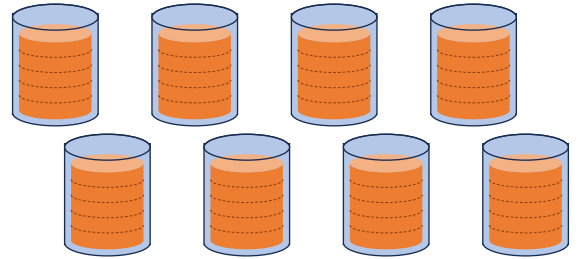
1 ゆみこさんは、1日に 5 dLの ジュースを のみます。

8日間では、ジュースを 何dL のおことになりますか。

(うすい字はなぞりましょう。)

1つ分の数 いくつ分

しき: 5 × =



答え (dL)

2 ふくろが 4まい あります。

1まいのふくろに、ビー玉を 2こずつ 入れます。

ビー玉は、ぜんぶで なんこ いらいますか。

(うすい字はなぞりましょう。)

1つ分の数 いくつ分

しき: × =



答え ()





かけ算 31

● 2から5のだんの
ぶんしょうもんだい



日にち： 月 日

名まえ _____

1 はこが 4はこ あります。

1はこに、 えんぴつを 3本ずつ いれます。

えんぴつは、 ぜんぶで なん本 いりますか。

しき：

答え

2 色紙を 1人に 4まいずつ くばります。

8人に くばるには、 色紙は ぜんぶで 何まい いりますか。

しき：

答え

3 はるとさんは、 1日に 5dLの ジュースを のみます。

2日間では、 ジュースを 何dL のおこと になりますか。

しき：

答え





かけ算 31

● 2から5のだんの
ぶんしょうもんだい



日にち： 月 日

名まえ _____

1 えんぴつを 1人に 3本ずつ くばります。

3人に くばるには、えんぴつは ぜんぶで 何本 いらいますか。

しき：

答え

2 ゆりさんは、1日に 2dLの ジュースを のみます。

8日間では、ジュースを 何dL のおこと になりますか。

しき：

答え

3 はこが 7はこ あります。

1はこに、りんごを 5こずつ 入れます。

りんごは、ぜんぶで なんこ いらいますか。

しき：

答え





かけ算 31

● 2から5のだんの
ぶんしょうもんだい



日にち： 月 日

名まえ _____

1 えんぴつを 1人に 2本ずつ くばります。

7人に くばるには、えんぴつは ぜんぶで 何本 いらいますか。

しき：

答え

2 ふくろが 4まい あります。

1まいのふくろに、ビー玉を 4こずつ 入れます。

ビー玉は、ぜんぶで なんこ いらいますか。

しき：

答え

3 色紙を 1人に 5まいずつ くばります。

9人に くばるには、色紙は ぜんぶで 何まい いらいますか。

しき：

答え





かけ算 31

● 2から5のだんの
ぶんしょうもんだい



日にち： 月 日

名まえ _____

1 はこが 3はこ あります。

1はこに、りんごを 4こずつ いれます。

りんごは、ぜんぶで なんこ いらいますか。

しき：

答え

2 えんぴつを 1人に 2本ずつ くばります。

2人に くばるには、えんぴつは ぜんぶで 何本 いらいますか。

しき：

答え

3 けんたさんは、1日に 3dLの ジュースを のみます。

9日間では、ジュースを 何dL のおこと になりますか。

しき：

答え





かけ算 31

● 2から5のだんの
ぶんしょうもんだい



日にち： 月 日

名まえ _____

1 えんぴつを 1人に 4本ずつ くばります。

7人に くばるには、えんぴつは ぜんぶで 何本 いらいますか。

しき：

答え

2 はこが 3はこ あります。

1はこに、りんごを 2こずつ いれます。

りんごは、ぜんぶで なんこ いらいますか。

しき：

答え

3 ゆうたさんは、1日に 5dLの ジュースを のみます。

6日間では、ジュースを 何dL のおこと になりますか。

しき：

答え





かけ算 31

● 2から5のだんの
ぶんしょうもんだい



日にち： 月 日

名まえ _____

1 けんじさんは、1日に 3 dLの ジュースを のみます。

2日間では、ジュースを 何dL のおことになりますか。

しき：

答え

2 はこが 6はこ あります。

1はこに、えんぴつを 4本ずつ いれます。

えんぴつは、ぜんぶで なん本 いらいますか。

しき：

答え

3 色紙を 1人に 5まいずつ くばります。

5人に くばるには、色紙は ぜんぶで 何まい いらいますか。

しき：

答え





かけ算 31

● 2から5のだんの
ぶんしょうもんだい

12

日にち： 月 日

名まえ _____

1 えんぴつを 1人に 2本ずつ くばります。

4人に くばるには、えんぴつは ぜんぶで 何本 いらいますか。

しき：

答え

2 あきなさんは、1日に 4dLの ジュースを のみます。

9日間では、ジュースを 何dL のおこと になりますか。

しき：

答え

3 はこが 5はこ あります。

1はこに、りんごを 3こずつ 入れます。

りんごは、ぜんぶで なんこ いらいますか。

しき：

答え





かけ算 31

● 2から5のだんの
ぶんしょうもんだい



日にち： 月 日

名まえ _____

1 はこが 2はこ あります。

1はこに、りんごを 3こずつ いれます。

りんごは、ぜんぶで なんこ いらいますか。

しき：

答え

2 えんぴつを 1人に 5本ずつ くばります。

4人に くばるには、えんぴつは ぜんぶで 何本 いらいますか。

しき：

答え

3 るみさんは、1日に 2dLの ジュースを のみます。

8日間では、ジュースを 何dL のおこと になりますか。

しき：

答え





かけ算 31

● 2から5のだんの
ぶんしょうもんだい



日にち： 月 日

名まえ _____

1 えんぴつを 1人に 3本ずつ くばります。

5人に くばるには、えんぴつは ぜんぶで 何本 いらいますか。

しき：

答え

2 ふくろが 9まい あります。

1まいのふくろに、ビー玉を 5こずつ いれます。

ビー玉は、ぜんぶで なんこ いらいますか。

しき：

答え

3 色紙を 1人に 4まいずつ くばります。

6人に くばるには、色紙は ぜんぶで 何まい いらいますか。

しき：

答え





かけ算 31

● 2から5のだんの
ぶんしょうもんだい

15

めざせ100点!



名まえ _____

1 はこが 9はこ あります。

1はこに、 えんぴつを 2本ずつ います。

えんぴつは、 ぜんぶで なん本 いますか。(式・答え各25点)

しき:

答え ()

2 ゆうきさんは、 1日に 4dLの ジュースを のみます。

5日間では、 ジュースを 何dL のむこと になりますか。

(式・答え各25点)

しき:

答え ()





かけ算 31

● 2から5のだんの
ぶんしょうもんだい

16

めざせ100点!



名まえ _____

1 色紙を 1人に 5まいずつ くばります。

8人に くばるには、色紙は ぜんぶで 何まい いりますか。

(式・答え各25点)

しき:

答え ()

2 ふくろが 7まい あります。

1まいのふくろに、ビー玉を 3こずつ いれます。

ビー玉は、ぜんぶで なんこ いりますか。 (式・答え各25点)

しき:

答え ()





かけ算 31

● 2から5のだんの
ぶんしょうもんだい



日にち： 月 日

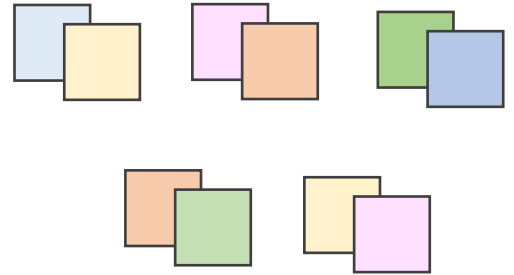
名まえ _____

1 色紙を 1人に 2まいずつ くばります。

5人に くばるには、色紙は ぜんぶで 何まい いきますか。
(うすい字はなぞりましょう。)

1つ分の数 いくつ分

しき: $2 \times 5 = 10$



答え (10まい)

2 ふくろが 6まい あります。

1まいのふくろに、ビー玉を 3こずつ いきます。

ビー玉は、ぜんぶで なんこ いきますか。

(うすい字はなぞりましょう。)

1つ分の数 いくつ分

しき: $3 \times 6 = 18$



答え (18こ)



かけ算 31

◎ 2から5のだんの
ぶんしょうもんだい



日にち： 月 日


名まえ _____

1 えんぴつを 1人に 4本ずつ くばります。

2人に くばるには、えんぴつは ぜんぶで 何本 いらいますか。
(うすい字はなぞりましょう。)

1つ分の数 いくつ分

しき: $4 \times 2 = 8$



答え (8 本)

2 はこが 3はこ あります。


1はこに、りんごを 5こずつ いらいます。

りんごは、ぜんぶで なんこ いらいますか。

(うすい字はなぞりましょう。)

1つ分の数 いくつ分

しき: $5 \times 3 = 15$



答え (15 こ)





かけ算 31

◎ 2から5のだんの
ぶんしょうもんだい



日にち： 月 日

名まえ _____

1 ゆみこさんは、1日に 5 dLの ジュースを のみます。

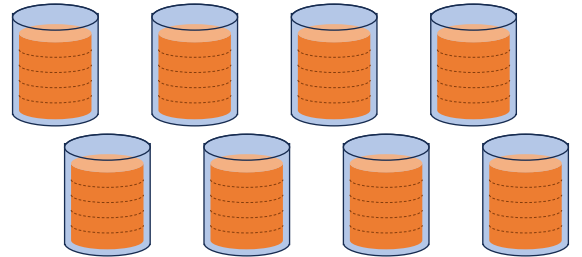
8日間では、ジュースを 何dL のおことになりますか。

(うすい字はなぞりましょう。)

1つ分の数

いくつ分

しき: $5 \times 8 = 40$



答え $\left[40 \text{ dL} \right]$

2 ふくろが 4まい あります。

1まいのふくろに、ビー玉を 2こずつ 入れます。

ビー玉は、ぜんぶで なんこ いらいますか。

(うすい字はなぞりましょう。)

1つ分の数

いくつ分

しき: $2 \times 4 = 8$



答え $\left[8 \text{ こ} \right]$





かけ算 31

◎ 2から5のだんの
ぶんしょうもんだい



日にち： 月 日

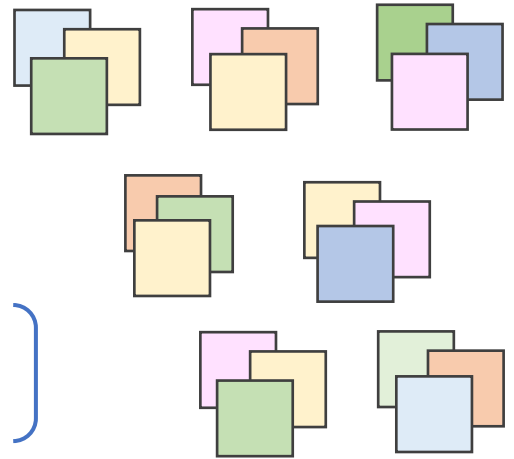
名まえ _____

1 色紙を 1人に 3まいずつ くばります。

7人に くばるには、色紙は ぜんぶで 何まい いらいますか。
(うすい字はなぞりましょう。)

一つ分の数 いくつ分

しき: $3 \times 7 = 21$



答え (21まい)

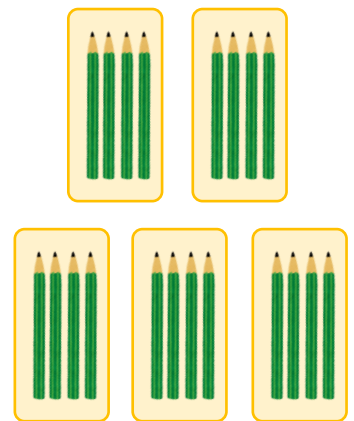
2 はこが 5はこ あります。

1はこに、 えんぴつを 4本ずつ いらえます。

えんぴつは、 ぜんぶで なん本 いらいますか。
(うすい字はなぞりましょう。)

一つ分の数 いくつ分

しき: $4 \times 5 = 20$



答え (20本)





かけ算 31

● 2から5のだんの
ぶんしょうもんだい



日にち： 月 日

名まえ _____

1 色紙を 1人に 2まいずつ くばります。

6人に くばるには、色紙は ぜんぶで 何まい いらいますか。
(うすい字はなぞりましょう。)

しき: $2 \times 6 = 12$

答え (12まい)

2 ふくろが 8まい あります。

1まいのふくろに、ビー玉を 3こずつ いれます。
ビー玉は、ぜんぶで なんこ いらいますか。

しき: $3 \times 8 = 24$

答え (24こ)

3 ゆうたさんは、1日に 4dLの ジュースを のみます。

9日間では、ジュースを 何dL のおこと になりますか。

しき: $4 \times 9 = 36$

答え (36dL)





かけ算 31

● 2から5のだんの
ぶんしょうもんだい



日にち： 月 日

名まえ _____

1 はこが 4はこ あります。

1はこに、 えんぴつを 3本ずつ いきます。

えんぴつは、 ぜんぶで なん本 いきますか。

$$\text{しき: } 3 \times 4 = 12$$

答え (12本)

2 色紙を 1人に 4まいずつ くばります。

8人に くばるには、 色紙は ぜんぶで 何まい いきますか。

$$\text{しき: } 4 \times 8 = 32$$

答え (32まい)

3 はるとさんは、 1日に 5dLの ジュースを のみます。

2日間では、 ジュースを 何dL のおこと になりますか。

$$\text{しき: } 5 \times 2 = 10$$

答え (10dL)





かけ算 31

● 2から5のだんの
ぶんしょうもんだい



日にち： 月 日

名まえ _____

1 えんぴつを 1人に 3本ずつ くばります。

3人に くばるには、えんぴつは ぜんぶで 何本 いらいますか。

$$\text{しき: } 3 \times 3 = 9$$

答え (9 本)

2 ゆりさんは、1日に 2dLの ジュースを のみます。

8日間では、ジュースを 何dL のおこと になりますか。

$$\text{しき: } 2 \times 8 = 16$$

答え (16 dL)

3 はこが 7はこ あります。

1はこに、りんごを 5こずつ いれます。

りんごは、ぜんぶで なんこ いらいますか。

$$\text{しき: } 5 \times 7 = 35$$

答え (35 こ)





かけ算 31

● 2から5のだんの
ぶんしょうもんだい



日にち： 月 日

名まえ _____

1 えんぴつを 1人に 2本ずつ くばります。

7人に くばるには、えんぴつは ぜんぶで 何本 いらいますか。

しき： $2 \times 7 = 14$

答え (14本)

2 ふくろが 4まい あります。

1まいのふくろに、ビー玉を 4こずつ いれます。

ビー玉は、ぜんぶで なんこ いらいますか。

しき： $4 \times 4 = 16$

答え (16こ)

3 色紙を 1人に 5まいずつ くばります。

9人に くばるには、色紙は ぜんぶで 何まい いらいますか。

しき： $5 \times 9 = 45$

答え (45まい)





かけ算 31

● 2から5のだんの
ぶんしょうもんだい



日にち： 月 日

名まえ _____

1 はこが 3はこ あります。

1はこに、りんごを 4こずつ います。

りんごは、ぜんぶで なんこ いますか。

$$\text{しき: } 4 \times 3 = 12$$

答え (12こ)

2 えんぴつを 1人に 2本ずつ くばります。

2人に くばるには、えんぴつは ぜんぶで 何本 いますか。

$$\text{しき: } 2 \times 2 = 4$$

答え (4本)

3 けんたさんは、1日に 3dLの ジュースを のみます。

9日間では、ジュースを 何dL のおこと になりますか。

$$\text{しき: } 3 \times 9 = 27$$

答え (27dL)





かけ算 31

● 2から5のだんの
ぶんしょうもんだい



日にち： 月 日

名まえ _____

1 えんぴつを 1人に 4本ずつ くばります。

7人に くばるには、えんぴつは ぜんぶで 何本 いらいますか。

しき： $4 \times 7 = 28$

答え (28本)

2 はこが 3はこ あります。

1はこに、りんごを 2こずつ いらえます。

りんごは、ぜんぶで なんこ いらいますか。

しき： $2 \times 3 = 6$

答え (6こ)

3 ゆうたさんは、1日に 5dLの ジュースを のみます。

6日間では、ジュースを 何dL のおこと になりますか。

しき： $5 \times 6 = 30$

答え (30dL)



かけ算 31

● 2から5のだんの
ぶんしょうもんだい



日にち： 月 日

名まえ _____

1 けんじさんは、1日に 3 dLの ジュースを のみます。

2日間では、ジュースを 何dL のおことになりますか。

しき： $3 \times 2 = 6$

答え (6 dL)

2 はこが 6はこ あります。

1はこに、えんぴつを 4本ずつ いれます。

えんぴつは、ぜんぶで なん本 いらいますか。

しき： $4 \times 6 = 24$

答え (24 本)

3 色紙を 1人に 5まいずつ くばります。

5人に くばるには、色紙は ぜんぶで 何まい いらいますか。

しき： $5 \times 5 = 25$

答え (25 まい)





かけ算 31

● 2から5のだんの
ぶんしょうもんだい



日にち： 月 日

名まえ _____

1 えんぴつを 1人に 2本ずつ くばります。

4人に くばるには、えんぴつは ぜんぶで 何本 いらいますか。

しき： $2 \times 4 = 8$

答え (8 本)

2 あきなさんは、1日に 4dLの ジュースを のみます。

9日間では、ジュースを 何dL のおこと になりますか。

しき： $4 \times 9 = 36$

答え (36 dL)

3 はこが 5はこ あります。

1はこに、りんごを 3こずつ 入れます。

りんごは、ぜんぶで なんこ いらいますか。

しき： $3 \times 5 = 15$

答え (15 こ)





かけ算 31

● 2から5のだんの
ぶんしょうもんだい



日にち： 月 日

名まえ _____

1 はこが 2はこ あります。

1はこに、りんごを 3こずつ いれます。

りんごは、ぜんぶで なんこ いらいますか。

$$\text{しき: } 3 \times 2 = 6$$

答え $\left(\quad 6 \text{ } \text{こ} \quad \right)$

2 えんぴつを 1人に 5本ずつ くばります。

4人に くばるには、えんぴつは ぜんぶで 何本 いらいますか。

$$\text{しき: } 5 \times 4 = 20$$

答え $\left(\quad 20 \text{ } \text{本} \quad \right)$

3 るみさんは、1日に 2dLの ジュースを のみます。

8日間では、ジュースを 何dL のおこと になりますか。

$$\text{しき: } 2 \times 8 = 16$$

答え $\left(\quad 16 \text{ } \text{dL} \quad \right)$





かけ算 31

● 2から5のだんの
ぶんしょうもんだい



日にち： 月 日

名まえ _____

1 えんぴつを 1人に 3本ずつ くばります。

5人に くばるには、えんぴつは ぜんぶで 何本 いらいますか。

しき： $3 \times 5 = 15$

答え (15本)

2 ふくろが 9まい あります。

1まいのふくろに、ビー玉を 5こずつ いれます。

ビー玉は、ぜんぶで なんこ いらいますか。

しき： $5 \times 9 = 45$

答え (45こ)

3 色紙を 1人に 4まいずつ くばります。

6人に くばるには、色紙は ぜんぶで 何まい いらいますか。

しき： $4 \times 6 = 24$

答え (24まい)





かけ算 31

● 2から5のだんの
ぶんしょうもんだい

15

めざせ100点!



名まえ _____

1 はこが 9 はこ あります。

1 はこに、 えんぴつを 2 本ずつ いれます。

えんぴつは、 ぜんぶで なん本 いらいますか。(式・答え各25点)

しき: $2 \times 9 = 18$

答え (18本)

2 ゆうきさんは、 1 日に 4 dL の ジュースを のみます。

5 日間では、 ジュースを 何dL のおこと になりますか。

(式・答え各25点)

しき: $4 \times 5 = 20$

答え (20dL)





かけ算 31

● 2から5のだんの
ぶんしょうもんだい

16

めざせ100点!



名まえ _____

1 色紙を 1人に 5まいずつ くばります。

8人に くばるには、色紙は ぜんぶで 何まい いりますか。

(式・答え各25点)

しき: $5 \times 8 = 40$

答え (40まい)

2 ふくろが 7まい あります。

1まいのふくろに、ビー玉を 3こずつ いれます。

ビー玉は、ぜんぶで なんこ いりますか。 (式・答え各25点)

しき: $3 \times 7 = 21$

答え (21こ)