



# かけ算 3!

● 2～5のだんの  
文しょうもんだい



日にち：            月            日

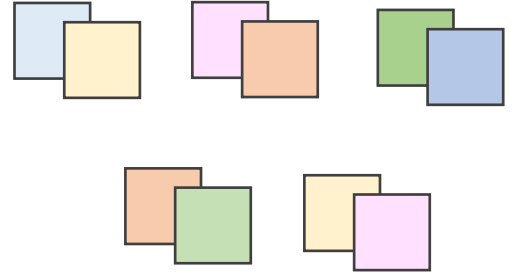
名まえ \_\_\_\_\_

1 色紙を 1人に 2まいずつ くばります。

5人に くばるには、色紙は ぜんぶで 何まい いりますか。  
(うすい字はなぞりましょう。)

一つ分の数    いくつ分

しき:  $2 \times 5 =$



答え (            まい            )

2 ふくろが 6まい あります。

1まいのふくろに、ビー玉を 3こずつ いれます。

ビー玉は、ぜんぶで なんこ いりますか。

(うすい字はなぞりましょう。)

一つ分の数    いくつ分

しき:  $3 \times \quad =$



答え (            )



# かけ算 31

● 2～5のだんの  
文しょうもんだい



日にち：            月            日


名まえ \_\_\_\_\_

1 えんぴつを 1人に 4本ずつ くばります。

2人に くばるには、えんぴつは ぜんぶで 何本 いらいますか。  
(うすい字はなぞりましょう。)

1つ分の数    いくつ分

しき:  $4 \times 2 =$



答え (            本 )

2 はこが 3はこ あります。


1はこに、りんごを 5こずつ いらいます。

りんごは、ぜんぶで なんこ いらいますか。

(うすい字はなぞりましょう。)

1つ分の数    いくつ分

しき:         $\times$         =



答え (            )





# かけ算 31

◎ 2～5のだんの  
文しょうもんだい



日にち：            月            日

名まえ \_\_\_\_\_

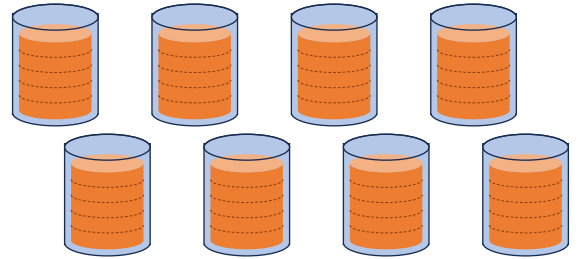
1 ゆみこさんは、1日に 5 dLの ジュースを のみます。

8日間では、ジュースを 何dL のおことになりますか。

(うすい字はなぞりましょう。)

1つ分の数    いくつ分

しき: 5 ×    =



答え (            dL )

2 ふくろが 4まい あります。

1まいのふくろに、ビー玉を 2こずつ 入れます。

ビー玉は、ぜんぶで なんこ いらいますか。

(うすい字はなぞりましょう。)

1つ分の数    いくつ分

しき:    ×    =



答え (            )





### かけ算 31

◎ 2～5のだんの  
文しょうもんだい



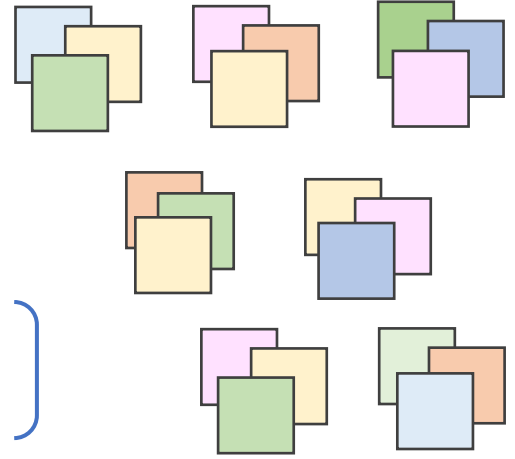
日にち： 月 日

名まえ \_\_\_\_\_

1 色紙を 1人に 3まいずつ くばります。

7人に くばるには、色紙は ぜんぶで 何まい いきますか。  
(うすい字はなぞりましょう。)

しき： $\overset{\text{1つ分の数}}{\quad} \times \overset{\text{いくつ分}}{\quad} =$



答え ( )

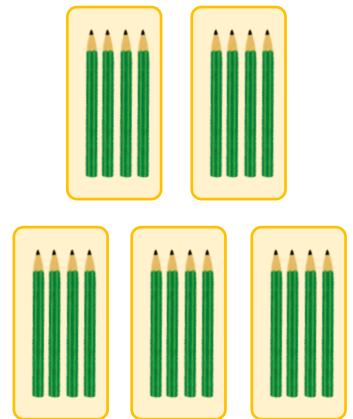
2 はこが 5はこ あります。

1はこに、えんぴつを 4本ずつ いきます。

えんぴつは、ぜんぶで なん本 いきますか。

(うすい字はなぞりましょう。)

しき： $\overset{\text{1つ分の数}}{\quad} \times \overset{\text{いくつ分}}{\quad} =$



答え ( )





## かけ算 31

◎ 2～5のだんの  
文しょうもんだい



日にち：        月        日

名まえ \_\_\_\_\_

1 色紙を 1人に 2まいずつ くばります。

6人に くばるには、色紙は ぜんぶで 何まい いらいますか。  
(うすい字はなぞりましょう。)

しき：        ×        =

答え

2 ふくろが 8まい あります。

1まいのふくろに、ビー玉を 3こずつ いれます。

ビー玉は、ぜんぶで なんこ いらいますか。

しき：

答え

3 ゆうたさんは、1日に 4dLの ジュースを のみます。

9日間では、ジュースを 何dL のおこと になりますか。

しき：

答え





## かけ算 31

● 2～5のだんの  
文しょうもんだい



日にち：            月            日

名まえ \_\_\_\_\_

1 はこが 4はこ あります。

1はこに、 えんぴつを 3本ずつ います。

えんぴつは、 ぜんぶで なん本 いますか。

しき：

答え

2 色紙を 1人に 4まいずつ くばります。

8人に くばるには、 色紙は ぜんぶで 何まい いますか。

しき：

答え

3 はるとさんは、 1日に 5dLの ジュースを のみます。

2日間では、 ジュースを 何dL のおこと になりますか。

しき：

答え





## かけ算 31

● 2～5のだんの  
文しょうもんだい



日にち：            月            日

名まえ \_\_\_\_\_

1 えんぴつを 1人に 3本ずつ くばります。

3人に くばるには、えんぴつは ぜんぶで 何本 いらいますか。

しき：

答え

2 ゆりさんは、1日に 2dLの ジュースを のみます。

8日間では、ジュースを 何dL のおこと になりますか。

しき：

答え

3 はこが 7はこ あります。

1はこに、りんごを 5こずつ 入れます。

りんごは、ぜんぶで なんこ いらいますか。

しき：

答え





## かけ算 31

◎ 2～5のだんの  
文しょうもんだい



日にち：          月          日

名まえ \_\_\_\_\_

1 えんぴつを 1人に 2本ずつ くばります。

7人に くばるには、えんぴつは ぜんぶで 何本 いらいますか。

しき：

答え

2 ふくろが 4まい あります。

1まいのふくろに、ビー玉を 4こずつ 入れます。

ビー玉は、ぜんぶで なんこ いらいますか。

しき：

答え

3 色紙を 1人に 5まいずつ くばります。

9人に くばるには、色紙は ぜんぶで 何まい いらいますか。

しき：

答え







## かけ算 31

● 2～5のだんの  
文しょうもんだい



日にち：            月            日

名まえ \_\_\_\_\_

1 はこが 3はこ あります。

1はこに、りんごを 4こずつ いれます。

りんごは、ぜんぶで なんこ いらいますか。

しき：

答え

2 えんぴつを 1人に 2本ずつ くばります。

2人に くばるには、えんぴつは ぜんぶで 何本 いらいますか。

しき：

答え

3 けんたさんは、1日に 3dLの ジュースを のみます。

9日間では、ジュースを 何dL のおこと になりますか。

しき：

答え





## かけ算 31

● 2～5のだんの  
文しょうもんだい



日にち：            月            日

名まえ \_\_\_\_\_

1 えんぴつを 1人に 4本ずつ くばります。

7人に くばるには、えんぴつは ぜんぶで 何本 いらいますか。

しき：

答え

2 はこが 3はこ あります。

1はこに、りんごを 2こずつ 入れます。

りんごは、ぜんぶで なんこ いらいますか。

しき：

答え

3 ゆうたさんは、1日に 5dLの ジュースを のみます。

6日間では、ジュースを 何dL のおこと になりますか。

しき：

答え





## かけ算 31

● 2～5のだんの  
文しょうもんだい



日にち：            月            日

名まえ \_\_\_\_\_

1 けんじさんは、1日に 3dLの ジュースを のみます。

2日間では、ジュースを 何dL のおことになりますか。

しき：

答え

2 はこが 6はこ あります。

1はこに、えんぴつを 4本ずつ いれます。

えんぴつは、ぜんぶで なん本 いらいますか。

しき：

答え

3 色紙を 1人に 5まいずつ くばります。

5人に くばるには、色紙は ぜんぶで 何まい いらいますか。

しき：

答え



## かけ算 31

● 2～5のだんの  
文しょうもんだい



日にち：            月            日

名まえ \_\_\_\_\_

1 えんぴつを 1人に 2本ずつ くばります。

4人に くばるには、えんぴつは ぜんぶで 何本 いらいますか。

しき：

答え

2 あきなさんは、1日に 4dLの ジュースを のみます。

9日間では、ジュースを 何dL のおこと になりますか。

しき：

答え

3 はこが 5はこ あります。

1はこに、りんごを 3こずつ 入れます。

りんごは、ぜんぶで なんこ いらいますか。

しき：

答え





## かけ算 31

● 2～5のだんの  
文しょうもんだい



日にち：            月            日

名まえ \_\_\_\_\_

1 はこが 2 はこ あります。

1 はこに、りんごを 3 こずつ いれます。

りんごは、ぜんぶで なんこ いらいますか。

しき：

答え

2 えんぴつを 1 人に 5 本ずつ くばります。

4 人に くばるには、えんぴつは ぜんぶで 何本 いらいますか。

しき：

答え

3 るみさんは、1 日に 2 dL の ジュースを のみます。

8 日間では、ジュースを 何dL のおこと になりますか。

しき：

答え





## かけ算 31

● 2～5のだんの  
文しょうもんだい



日にち： 月 日

名まえ \_\_\_\_\_

1 えんぴつを 1人に 3本ずつ くばります。

5人に くばるには、えんぴつは ぜんぶで 何本 いらいますか。

しき：

答え

2 ふくろが 9まい あります。

1まいのふくろに、ビー玉を 5こずつ いれます。

ビー玉は、ぜんぶで なんこ いらいますか。

しき：

答え

3 色紙を 1人に 4まいずつ くばります。

6人に くばるには、色紙は ぜんぶで 何まい いらいますか。

しき：

答え





## かけ算 31

● 2～5のだんの  
文しょうもんだい

15

めざせ100点!



てん

名まえ

1 はこが 9 はこ あります。

1 はこに、 えんぴつを 2 本ずつ いれます。

えんぴつは、 ぜんぶで なん本 いらいますか。(式・答え各25点)

しき:

答え ( )

2 ゆうきさんは、 1 日に 4 dL の ジュースを のみます。

5 日間では、 ジュースを 何dL のおこと になりますか。

(式・答え各25点)

しき:

答え ( )






## かけ算 31

● 2～5のだんの  
文しょうもんだい

16

めざせ100点!



てん

名まえ \_\_\_\_\_

1 色紙を 1人に 5まいずつ くばります。

8人に くばるには、色紙は ぜんぶで 何まい いりますか。

(式・答え各25点)

しき:

答え ( )

2 ふくろが 7まい あります。

1まいのふくろに、ビー玉を 3こずつ いれます。

ビー玉は、ぜんぶで なんこ いりますか。 (式・答え各25点)

しき:

答え ( )





# かけ算 31

● 2～5のだんの  
文しょうもんだい



日にち：            月            日

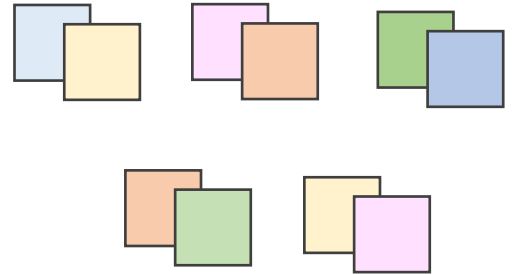
名まえ \_\_\_\_\_

1 色紙を 1人に 2まいずつ くばります。

5人に くばるには、色紙は ぜんぶで 何まい いきますか。  
(うすい字はなぞりましょう。)

1つ分の数    いくつ分

しき:  $2 \times 5 = 10$



答え  $( 10 \text{まい} )$

2 ふくろが 6まい あります。

1まいのふくろに、ビー玉を 3こずつ いきます。

ビー玉は、ぜんぶで なんこ いきますか。

(うすい字はなぞりましょう。)

1つ分の数    いくつ分

しき:  $3 \times 6 = 18$



答え  $( 18 \text{こ} )$



# かけ算 31

● 2～5のだんの  
文しょうもんだい



日にち：            月            日


名まえ \_\_\_\_\_

1 えんぴつを 1人に 4本ずつ くばります。

2人に くばるには、えんぴつは ぜんぶで 何本 いらいますか。  
(うすい字はなぞりましょう。)

1つ分の数    いくつ分

しき:  $4 \times 2 = 8$



答え  $( 8 \text{ 本 } )$

2 はこが 3はこ あります。


1はこに、りんごを 5こずつ いらいます。

りんごは、ぜんぶで なんこ いらいますか。

(うすい字はなぞりましょう。)

1つ分の数    いくつ分

しき:  $5 \times 3 = 15$



答え  $( 15 \text{ こ } )$





# かけ算 3!

◎ 2~5のだんの  
文しょうもんだい



日にち：            月            日

名まえ \_\_\_\_\_

1 ゆみこさんは、1日に 5 dLの ジュースを のみます。

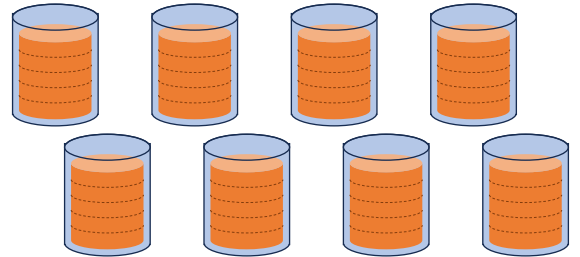
8日間では、ジュースを 何dL のおことになりますか。

(うすい字はなぞりましょう。)

1つ分の数

いくつ分

しき:  $5 \times 8 = 40$



答え  $\left[ 40 \text{ dL} \right]$

2 ふくろが 4まい あります。

1まいのふくろに、ビー玉を 2こずつ 入れます。

ビー玉は、ぜんぶで なんこ いらいますか。

(うすい字はなぞりましょう。)

1つ分の数

いくつ分

しき:  $2 \times 4 = 8$



答え  $\left[ 8 \text{ こ} \right]$





# かけ算 31

◎ 2～5のだんの  
文しょうもんだい



日にち：            月            日

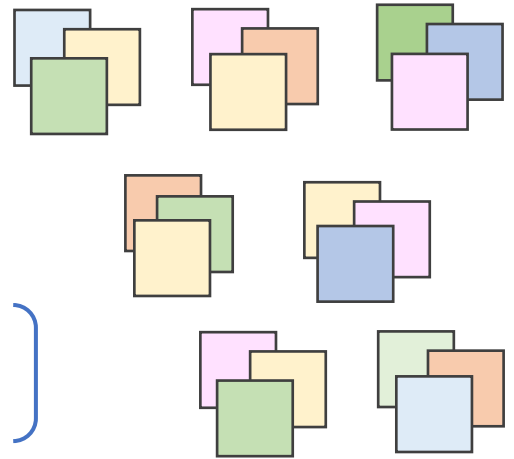
名まえ \_\_\_\_\_

1 色紙を 1人に 3まいずつ くばります。

7人に くばるには、色紙は ぜんぶで 何まい いきますか。  
(うすい字はなぞりましょう。)

1つ分の数    いくつ分

しき:  $3 \times 7 = 21$



答え  $( 21 \text{まい} )$

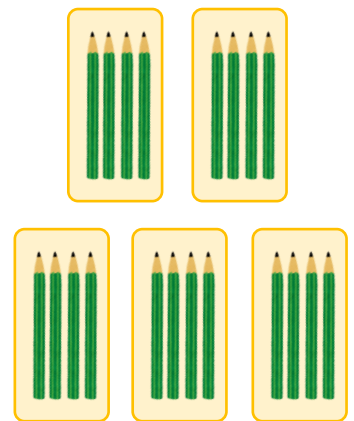
2 はこが 5はこ あります。

1はこに、 えんぴつを 4本ずつ いきます。

えんぴつは、 ぜんぶで なん本 いきますか。  
(うすい字はなぞりましょう。)

1つ分の数    いくつ分

しき:  $4 \times 5 = 20$



答え  $( 20 \text{本} )$





## かけ算 31

● 2～5のだんの  
文しょうもんだい



日にち：            月            日

名まえ \_\_\_\_\_

1 色紙を 1人に 2まいずつ くばります。

6人に くばるには、色紙は ぜんぶで 何まい いらいますか。  
(うすい字はなぞりましょう。)

しき:  $2 \times 6 = 12$

答え  $( 12 \text{まい} )$

2 ふくろが 8まい あります。

1まいのふくろに、ビー玉を 3こずつ いれます。

ビー玉は、ぜんぶで なんこ いらいますか。

しき:  $3 \times 8 = 24$

答え  $( 24 \text{こ} )$

3 ゆうたさんは、1日に 4dLの ジュースを のみます。

9日間では、ジュースを 何dL のおこと になりますか。

しき:  $4 \times 9 = 36$

答え  $( 36 \text{dL} )$





## かけ算 31

● 2～5のだんの  
文しょうもんだい



日にち：            月            日

名まえ \_\_\_\_\_

1 はこが 4はこ あります。

1はこに、 えんぴつを 3本ずつ います。

えんぴつは、 ぜんぶで なん本 いますか。

$$\text{しき: } 3 \times 4 = 12$$

答え  $( 12 \text{本} )$

2 色紙を 1人に 4まいずつ くばります。

8人に くばるには、 色紙は ぜんぶで 何まい いますか。

$$\text{しき: } 4 \times 8 = 32$$

答え  $( 32 \text{まい} )$

3 はるとさんは、 1日に 5dLの ジュースを のみます。

2日間では、 ジュースを 何dL のおこと になりますか。

$$\text{しき: } 5 \times 2 = 10$$

答え  $( 10 \text{dL} )$





## かけ算 31

● 2～5のだんの  
文しょうもんだい



日にち：            月            日

名まえ \_\_\_\_\_

1 えんぴつを 1人に 3本ずつ くばります。

3人に くばるには、えんぴつは ぜんぶで 何本 いらいますか。

$$\text{しき: } 3 \times 3 = 9$$

答え  $( 9 \text{ 本} )$

2 ゆりさんは、1日に 2dLの ジュースを のみます。

8日間では、ジュースを 何dL のおこと になりますか。

$$\text{しき: } 2 \times 8 = 16$$

答え  $( 16 \text{ dL} )$

3 はこが 7はこ あります。

1はこに、りんごを 5こずつ いれます。

りんごは、ぜんぶで なんこ いらいますか。

$$\text{しき: } 5 \times 7 = 35$$

答え  $( 35 \text{ こ} )$





## かけ算 31

● 2～5のだんの  
文しょうもんだい



日にち：        月        日

名まえ \_\_\_\_\_

1 えんぴつを 1人に 2本ずつ くばります。

7人に くばるには、えんぴつは ぜんぶで 何本 いらいますか。

しき：  $2 \times 7 = 14$

答え  $( 14 \text{本} )$

2 ふくろが 4まい あります。

1まいのふくろに、ビー玉を 4こずつ いれます。

ビー玉は、ぜんぶで なんこ いらいますか。

しき：  $4 \times 4 = 16$

答え  $( 16 \text{こ} )$

3 色紙を 1人に 5まいずつ くばります。

9人に くばるには、色紙は ぜんぶで 何まい いらいますか。

しき：  $5 \times 9 = 45$

答え  $( 45 \text{まい} )$







## かけ算 31

● 2～5のだんの  
文しょうもんだい



日にち：            月            日

名まえ \_\_\_\_\_

1 はこが 3はこ あります。

1はこに、りんごを 4こずつ いれます。

りんごは、ぜんぶで なんこ いらいますか。

$$\text{しき: } 4 \times 3 = 12$$

答え  $\left( \quad 12 \text{こ} \quad \right)$

2 えんぴつを 1人に 2本ずつ くばります。

2人に くばるには、えんぴつは ぜんぶで 何本 いらいますか。

$$\text{しき: } 2 \times 2 = 4$$

答え  $\left( \quad 4 \text{本} \quad \right)$

3 けんたさんは、1日に 3dLの ジュースを のみます。

9日間では、ジュースを 何dL のおこと になりますか。

$$\text{しき: } 3 \times 9 = 27$$

答え  $\left( \quad 27 \text{dL} \quad \right)$



## かけ算 31

● 2～5のだんの  
文しょうもんだい



日にち：            月            日

名まえ \_\_\_\_\_

1 えんぴつを 1人に 4本ずつ くばります。

7人に くばるには、えんぴつは ぜんぶで 何本 いらいますか。

しき：  $4 \times 7 = 28$

答え  $( 28 \text{本} )$

2 はこが 3はこ あります。

1はこに、りんごを 2こずつ いらえます。

りんごは、ぜんぶで なんこ いらいますか。

しき：  $2 \times 3 = 6$

答え  $( 6 \text{こ} )$

3 ゆうたさんは、1日に 5dLの ジュースを のみます。

6日間では、ジュースを 何dL のおこと になりますか。

しき：  $5 \times 6 = 30$

答え  $( 30 \text{dL} )$





## かけ算 31

● 2～5のだんの  
文しょうもんだい



日にち：          月          日

名まえ \_\_\_\_\_

1 けんじさんは、1日に 3 dLの ジュースを のみます。

2日間では、ジュースを 何dL のおことになりますか。

しき：  $3 \times 2 = 6$

答え  $( 6 \text{ dL} )$

2 はこが 6はこ あります。

1はこに、えんぴつを 4本ずつ いれます。

えんぴつは、ぜんぶで なん本 いりますか。

しき：  $4 \times 6 = 24$

答え  $( 24 \text{ 本} )$

3 色紙を 1人に 5まいずつ くばります。

5人に くばるには、色紙は ぜんぶで 何まい いりますか。

しき：  $5 \times 5 = 25$

答え  $( 25 \text{ まい} )$





## かけ算 31

● 2～5のだんの  
文しょうもんだい

12

日にち：            月            日

名まえ \_\_\_\_\_

1 えんぴつを 1人に 2本ずつ くばります。

4人に くばるには、えんぴつは ぜんぶで 何本 いらいますか。

しき：  $2 \times 4 = 8$

答え  $( 8 \text{ 本} )$

2 あきなさんは、1日に 4dLの ジュースを のみます。

9日間では、ジュースを 何dL のおこと になりますか。

しき：  $4 \times 9 = 36$

答え  $( 36 \text{ dL} )$

3 はこが 5はこ あります。

1はこに、りんごを 3こずつ 入れます。

りんごは、ぜんぶで なんこ いらいますか。

しき：  $3 \times 5 = 15$

答え  $( 15 \text{ こ} )$





## かけ算 31

● 2～5のだんの  
文しょうもんだい



日にち：            月            日

名まえ \_\_\_\_\_

1 はこが 2はこ あります。

1はこに、りんごを 3こずつ いれます。

りんごは、ぜんぶで なんこ いらいますか。

$$\text{しき: } 3 \times 2 = 6$$

答え  $\left( \quad 6 \text{ } \text{こ} \quad \right)$

2 えんぴつを 1人に 5本ずつ くばります。

4人に くばるには、えんぴつは ぜんぶで 何本 いらいますか。

$$\text{しき: } 5 \times 4 = 20$$

答え  $\left( \quad 20 \text{ } \text{本} \quad \right)$

3 るみさんは、1日に 2dLの ジュースを のみます。

8日間では、ジュースを 何dL のおこと になりますか。

$$\text{しき: } 2 \times 8 = 16$$

答え  $\left( \quad 16 \text{ } \text{dL} \quad \right)$





## かけ算 31

● 2～5のだんの  
文しょうもんだい



日にち：            月            日

名まえ \_\_\_\_\_

1 えんぴつを 1人に 3本ずつ くばります。

5人に くばるには、えんぴつは ぜんぶで 何本 いらいますか。

しき：  $3 \times 5 = 15$

答え  $( 15 \text{本} )$

2 ふくろが 9まい あります。

1まいのふくろに、ビー玉を 5こずつ いれます。

ビー玉は、ぜんぶで なんこ いらいますか。

しき：  $5 \times 9 = 45$

答え  $( 45 \text{こ} )$

3 色紙を 1人に 4まいずつ くばります。

6人に くばるには、色紙は ぜんぶで 何まい いらいますか。

しき：  $4 \times 6 = 24$

答え  $( 24 \text{まい} )$






## かけ算 31

● 2～5のだんの  
文しょうもんだい

15

めざせ100点!



名まえ \_\_\_\_\_

1 はこが 9 はこ あります。

1 はこに、 えんぴつを 2 本ずつ います。

えんぴつは、 ぜんぶで なん本 いますか。(式・答え各25点)

しき:  $2 \times 9 = 18$

答え  $( 18 \text{本} )$

2 ゆうきさんは、 1 日に 4 dL の ジュースを のみます。

5 日間では、 ジュースを 何dL のおこと になりますか。

(式・答え各25点)

しき:  $4 \times 5 = 20$

答え  $( 20 \text{dL} )$



## かけ算 31

● 2～5のだんの  
文しょうもんだい

16

めざせ100点!



名まえ \_\_\_\_\_

1 色紙を 1人に 5まいずつ くばります。

8人に くばるには、色紙は ぜんぶで 何まい いりますか。  
(式・答え各25点)

しき:  $5 \times 8 = 40$

答え  $(40 \text{ まい})$

2 ふくろが 7まい あります。

1まいのふくろに、ビー玉を 3こずつ いれます。

ビー玉は、ぜんぶで なんこ いりますか。 (式・答え各25点)

しき:  $3 \times 7 = 21$

答え  $(21 \text{ こ})$