



かけ算 4

5のだんの九九



(うすい字はなぞりましょう。)

日にち： 月 日

名まえ _____

ゆびは何本でしょう？	しきをかきましょう。	となえ方
	→ $5 \times 1 = 5$	ごいちがご
	$5 \times 2 = 10$	ごにじゅう
	$5 \times 3 =$	ごさんじゅうご
	$5 \times 4 =$	ごしにじゅう
	$5 \times 5 =$	ごごにじゅうご
	$5 \times 6 =$	ごろくさんじゅう
	$5 \times 7 =$	ごしちさんじゅうご
	$5 \times 8 =$	ごはしじゅう
	$5 \times 9 =$	ごっくしじゅうご



かけ算 4



5のだんの九九

(うすい字はなぞりましょう。)

日にち： 月 日

名まえ _____

ゆびは何本でしょう？	しきをかきましょう。	となえ方
	→ $5 \times 1 = 5$	ごいちがご
	$5 \times 2 =$	ごにじゅう
		ごさんじゅうご
		ごしにじゅう
		ごごにじゅうご
		ごろくさんじゅう
		ごしちさんじゅうご
		ごはしじゅう
		ごっくしじゅうご



かけ算 4

5のだんの九九



(うすい字はなぞりましょう。)

日にち： 月 日

名まえ _____

ぜんぶでいくつでしょう									しきをかきましょう。			となえ方		
5									→	5	×	1	=	ごいちがご
5	5									5	×	2	=	ごにじゅう
5	5	5								5	×	3	=	ごさんじゅうご
5	5	5	5							5	×	4	=	ごしにじゅう
5	5	5	5	5						5	×	5	=	ごごにじゅうご
5	5	5	5	5	5					5	×	6	=	ごろくさんじゅう
5	5	5	5	5	5	5				5	×	7	=	ごしちさんじゅうご
5	5	5	5	5	5	5	5			5	×	8	=	ごはしじゅう
5	5	5	5	5	5	5	5	5		5	×	9	=	ごっくしじゅうご



かけ算 4

5のだんの九九



(うすい字はなぞりましょう。)

日にち： 月 日

名まえ _____

ぜんぶでいくつでしょう									しきをかきましょう。			となえ方			
5									→	5	×	1	=	5	ごいちがご
5	5									5	×	2	=		ごにじゅう
5	5	5													ごさんじゅうご
5	5	5	5												ごしにじゅう
5	5	5	5	5											ごごにじゅうご
5	5	5	5	5	5										ごろくさんじゅう
5	5	5	5	5	5	5									ごしちさんじゅうご
5	5	5	5	5	5	5	5								ごはしじゅう
5	5	5	5	5	5	5	5	5							ごっくしじゅうご



かけ算 4



5のだんの九九

(うすい字はなぞりましょう。)

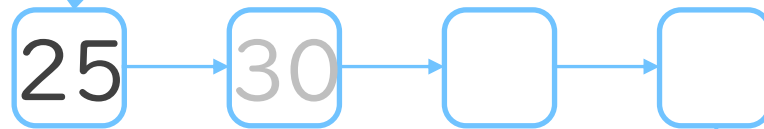
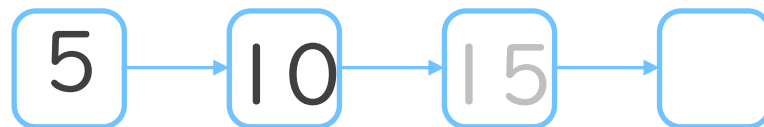
日にち： 月 日

名まえ _____

1. 九九を声に出して読みながらしきを書こう。

ごいちがご	→	ご	×	いち	が	ご
		5		1	=	5
ごにじゅう		ご	×	に	=	じゅう
		5		2	=	10
ごさんじゅうご		5	×	3	=	
ごしにじゅう		5	×	4	=	
ごごにじゅうご		5	×	5	=	
ごろくさんじゅう		5	×	6	=	
ごしちさんじゅうご		5	×	7	=	
ごはしじゅう		5	×	8	=	
ごっくしじゅうご		5	×	9	=	

2. つぎの にあてはまる数を書こう。





かけ算 4

5のだんの九九



(うすい字はなぞりましょう。)

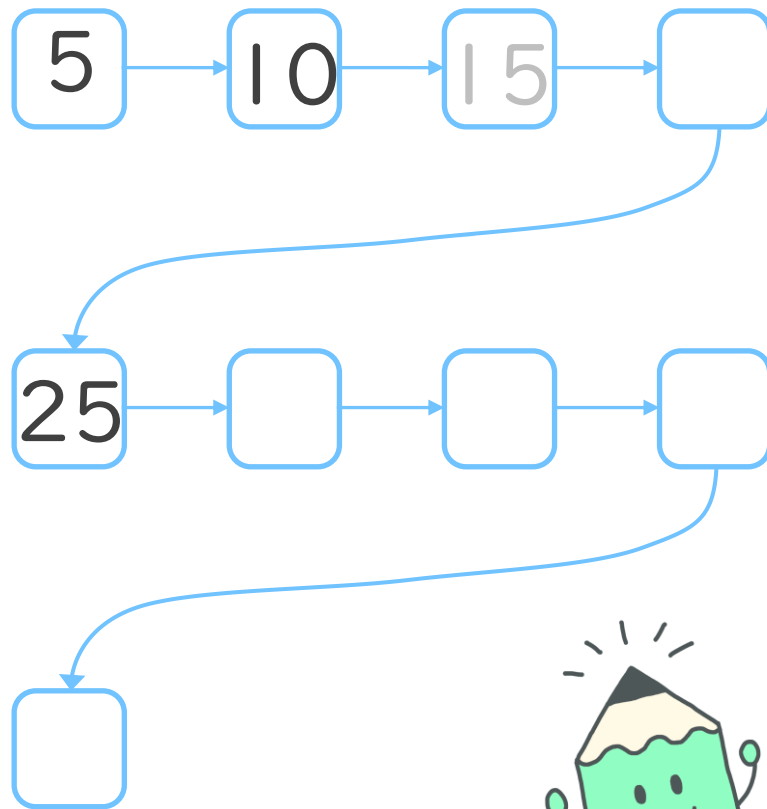
日にち： 月 日

名まえ _____

1. 九九を声に出して読みながらしきを書こう。

ごいちがご	→	5 × 1 = 5
ごにじゅう		5 × 2 =
ごさんじゅうご		
ごしにじゅう		
ごごにじゅうご		
ごろくさんじゅう		
ごしちさんじゅうご		
ごはしじゅう		
ごっくしじゅうご		

2. つぎの にあてはまる数を書こう。





かけ算 4

5のだんの九九



(うすい字はなぞりましょう。)

日にち： 月 日

名まえ _____

1. 九九を声に出して読みながらしきを書こう。

ごいちがご	→ 5 × 1 =
ごにじゅう	
ごさんじゅうご	
ごしにじゅう	
ごごにじゅうご	
ごろくさんじゅう	
ごしちさんじゅうご	
ごはしじゅう	
ごっくしじゅうご	

2. つぎの計算をしましょう。

① 5 × 1 =

② 5 × 3 =

③ 5 × 5 =

④ 5 × 7 =

3. 5 × 2は 5 × 1よりもいくつ大きいですか。

答え： _____



かけ算 4

5のだんの九九



日にち： 月 日

名まえ _____

1. 九九を声に出して読みながらしきを書こう。

ごいちがご	→
ごにじゅう	
ごさんじゅうご	
ごしにじゅう	
ごごにじゅうご	
ごろくさんじゅう	
ごしちさんじゅうご	
ごはしじゅう	
ごっくしじゅうご	

2. つぎの計算をしましょう。

① $5 \times 2 =$

② $5 \times 4 =$

③ $5 \times 6 =$

④ $5 \times 8 =$

3. 5×5 は 5×4 よりもいくつ大きいですか。

答え： _____



かけ算 4

◎ 5のだんの九九



日にち： 月 日

名まえ _____

1. 九九を声に出して読みながらしきを書こう。

ごいちがご	→
ごにじゅう	
ごさんじゅうご	
ごしにじゅう	
ごごにじゅうご	
ごろくさんじゅう	
ごしちさんじゅうご	
ごはしじゅう	
ごっくしじゅうご	

2. つぎの計算をしましょう。

① $5 \times 3 =$

② $5 \times 6 =$

③ $5 \times 2 =$

④ $5 \times 9 =$

3. 5×9 は 5×8 よりもいくつ大きいですか。

答え： _____





かけ算 4


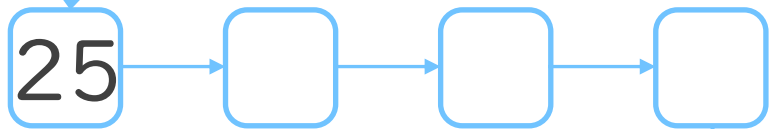
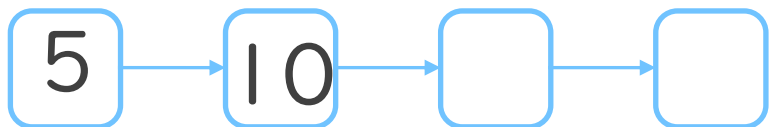
5のだんの九九



日にち： 月 日

名まえ _____

1. つぎの にあてはまる数を書こう。



2. つぎの計算をしましょう。

① $5 \times 5 =$

② $5 \times 7 =$

③ $5 \times 3 =$

④ $5 \times 9 =$

⑤ $5 \times 4 =$



かけ算 4


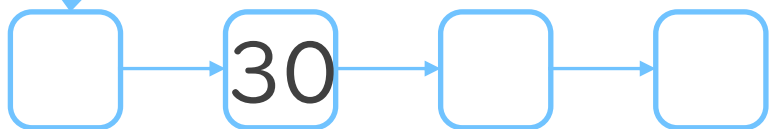
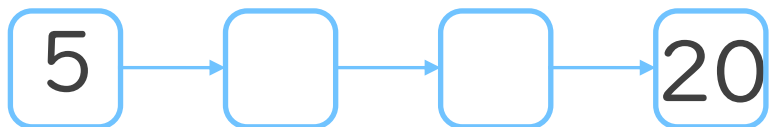
5のだんの九九



日にち： 月 日

名まえ _____

1. つぎの にあてはまる数を書こう。



2. つぎの計算をしましょう。

① $5 \times 8 =$

② $5 \times 2 =$

③ $5 \times 5 =$

④ $5 \times 7 =$

⑤ $5 \times 6 =$



かけ算 4


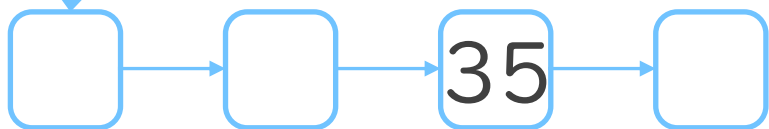
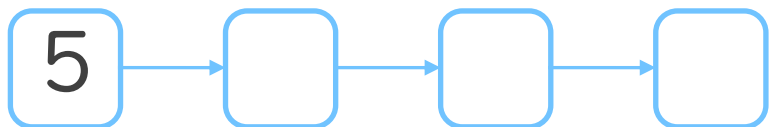
5のだんの九九



日にち： 月 日

名まえ _____

1. つぎの にあてはまる数を書こう。



2. つぎの計算をしましょう。

① $5 \times 4 =$

② $5 \times 9 =$

③ $5 \times 1 =$

④ $5 \times 3 =$

⑤ $5 \times 7 =$



かけ算 4


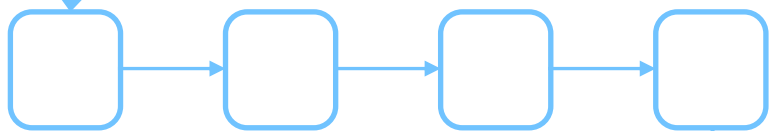
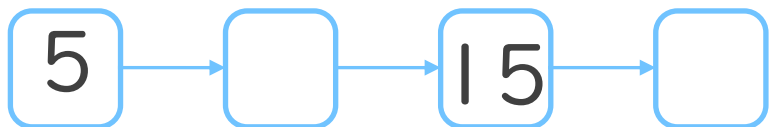
5のだんの九九



日にち： 月 日

名まえ _____

1. つぎの にあてはまる数を書こう。



2. つぎの計算をしましょう。

① $5 \times 2 =$

② $5 \times 5 =$

③ $5 \times 8 =$

④ $5 \times 4 =$

⑤ $5 \times 9 =$



かけ算 4


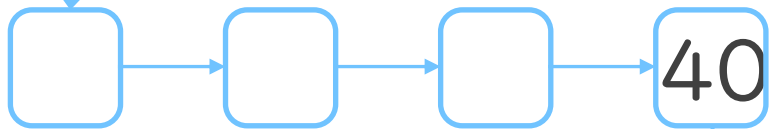
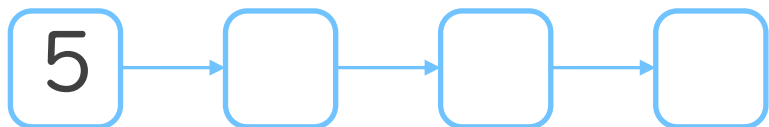
5のだんの九九



日にち： 月 日

名まえ _____

1. つぎの にあてはまる数を書こう。



2. つぎの計算をしましょう。

① $5 \times 7 =$

② $5 \times 6 =$

③ $5 \times 2 =$

④ $5 \times 1 =$

⑤ $5 \times 3 =$




かけ算 4

5のだんの九九


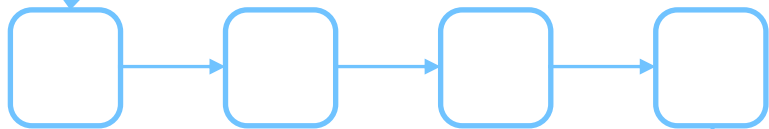
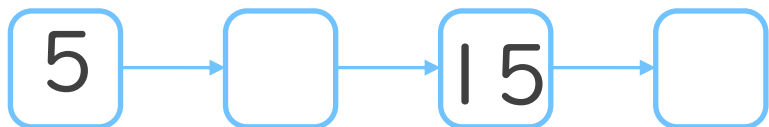


日にち： 月 日

名まえ _____



1. つぎの にあてはまる数を書こう。
(ぜんぶせいかいで50点)



2. つぎの計算をしましょう。
(1もん10点ずつ)

① $5 \times 8 =$

② $5 \times 2 =$

③ $5 \times 5 =$

④ $5 \times 6 =$

⑤ $5 \times 9 =$




かけ算 4

5のだんの九九

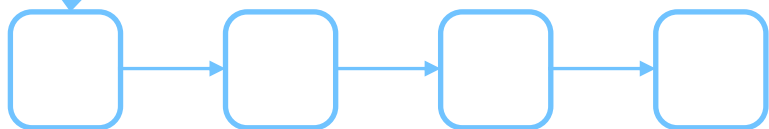
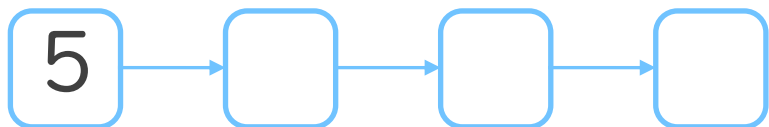


日にち： 月 日


名まえ _____



1. つぎの にあてはまる数を書こう。
(ぜんぶせいかいで50点)



45



2. つぎの計算をしましょう。
(1もん10点ずつ)

① $5 \times 3 =$

② $5 \times 8 =$

③ $5 \times 4 =$

④ $5 \times 7 =$

⑤ $5 \times 2 =$



かけ算 4

5のだんの九九



(うすい字はなぞりましょう。)

日にち： 月 日

名まえ _____

ゆびは何本でしょう？	しきをかきましょう。	となえ方
	→ $5 \times 1 = 5$	ごいちがご
	$5 \times 2 = 10$	ごにじゅう
	$5 \times 3 = 15$	ごさんじゅうご
	$5 \times 4 = 20$	ごしにじゅう
	$5 \times 5 = 25$	ごごにじゅうご
	$5 \times 6 = 30$	ごろくさんじゅう
	$5 \times 7 = 35$	ごしちさんじゅうご
	$5 \times 8 = 40$	ごはしじゅう
	$5 \times 9 = 45$	ごっくしじゅうご



かけ算 4



5のだんの九九

(うすい字はなぞりましょう。)

日にち： 月 日

名まえ _____

ゆびは何本でしょう？	しきをかきましょう。	となえ方
	→ $5 \times 1 = 5$	ごいちがご
	$5 \times 2 = 10$	ごにじゅう
	$5 \times 3 = 15$	ごさんじゅうご
	$5 \times 4 = 20$	ごしにじゅう
	$5 \times 5 = 25$	ごごにじゅうご
	$5 \times 6 = 30$	ごろくさんじゅう
	$5 \times 7 = 35$	ごしちさんじゅうご
	$5 \times 8 = 40$	ごはしじゅう
	$5 \times 9 = 45$	ごっくしじゅうご





かけ算 4

5のだんの九九



(うすい字はなぞりましょう。)

日にち： 月 日

名まえ _____

ぜんぶでいくつでしょう									しきをかきましょう。			となえ方			
5									→	5	×	1	=	5	ごいちがご
5	5									5	×	2	=	10	ごにじゅう
5	5	5								5	×	3	=	15	ごさんじゅうご
5	5	5	5							5	×	4	=	20	ごしにじゅう
5	5	5	5	5						5	×	5	=	25	ごごにじゅうご
5	5	5	5	5	5					5	×	6	=	30	ごろくさんじゅう
5	5	5	5	5	5	5				5	×	7	=	35	ごしちさんじゅうご
5	5	5	5	5	5	5	5			5	×	8	=	40	ごはしじゅう
5	5	5	5	5	5	5	5	5		5	×	9	=	45	ごっくしじゅうご



かけ算 4

5のだんの九九



(うすい字はなぞりましょう。)

日にち： 月 日

名まえ _____

ぜんぶでいくつでしょう									しきをかきましょう。			となえ方			
5									→	5	×	1	=	5	ごいちがご
5	5									5	×	2	=	10	ごにじゅう
5	5	5								5	×	3	=	15	ごさんじゅうご
5	5	5	5							5	×	4	=	20	ごしにじゅう
5	5	5	5	5						5	×	5	=	25	ごごにじゅうご
5	5	5	5	5	5					5	×	6	=	30	ごろくさんじゅう
5	5	5	5	5	5	5				5	×	7	=	35	ごしちさんじゅうご
5	5	5	5	5	5	5	5			5	×	8	=	40	ごはしじゅう
5	5	5	5	5	5	5	5	5		5	×	9	=	45	ごっくしじゅうご



かけ算 4



5のだんの九九

(うすい字はなぞりましょう。)

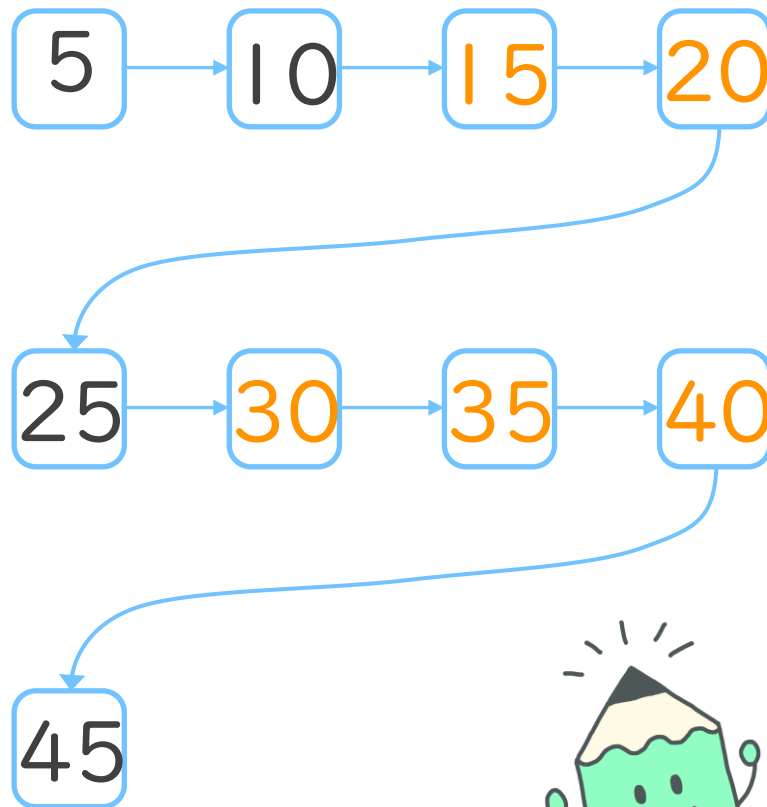
日にち： 月 日

名まえ _____

1. 九九を声に出して読みながらしきを書こう。

ごいちがご	→	ご	×	いち	=	ご
		5		1		5
ごにじゅう		ご	×	に	=	じゅう
		5		2		10
ごさんじゅうご		5	×	3	=	15
ごしにじゅう		5	×	4	=	20
ごごにじゅうご		5	×	5	=	25
ごろくさんじゅう		5	×	6	=	30
ごしちさんじゅうご		5	×	7	=	35
ごはしじゅう		5	×	8	=	40
ごっくしじゅうご		5	×	9	=	45

2. つぎの にあてはまる数を書こう。





かけ算 4

5のだんの九九



(うすい字はなぞりましょう。)

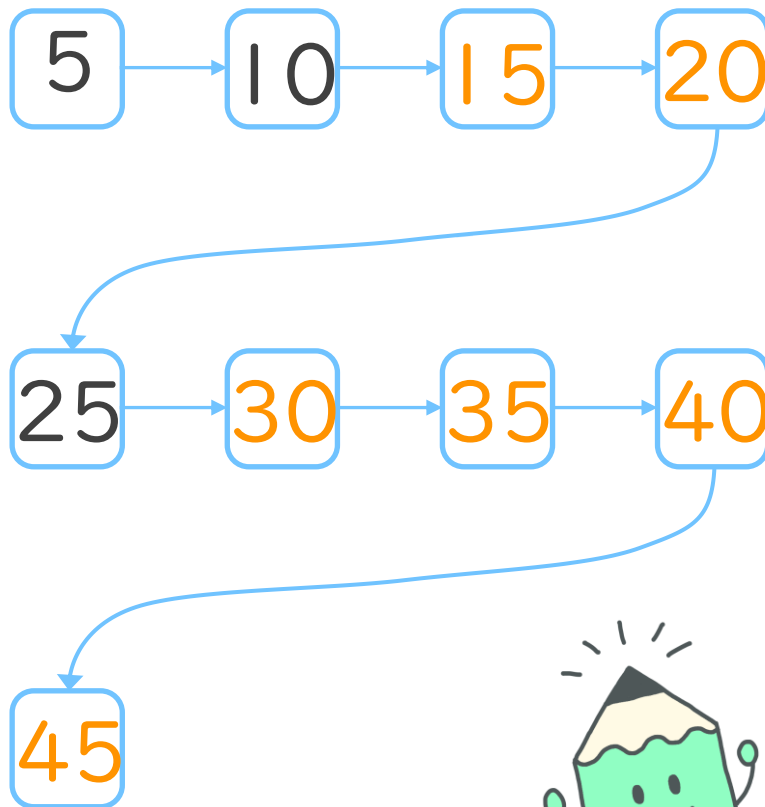
日にち： 月 日

名まえ _____

1. 九九を声に出して読みながらしきを書こう。

ごいちがご	→	5 × 1 = 5
ごにじゅう		5 × 2 = 10
ごさんじゅうご		5 × 3 = 15
ごしにじゅう		5 × 4 = 20
ごごにじゅうご		5 × 5 = 25
ごろくさんじゅう		5 × 6 = 30
ごしちさんじゅうご		5 × 7 = 35
ごはしじゅう		5 × 8 = 40
ごっくしじゅうご		5 × 9 = 45

2. つぎの にあてはまる数を書こう。





かけ算 4

5のだんの九九



(うすい字はなぞりましょう。)

日にち： 月 日

名まえ _____

1. 九九を声に出して読みながらしきを書こう。

ごいちがご	→ $5 \times 1 = 5$
ごにじゅう	$5 \times 2 = 10$
ごさんじゅうご	$5 \times 3 = 15$
ごしにじゅう	$5 \times 4 = 20$
ごごにじゅうご	$5 \times 5 = 25$
ごろくさんじゅう	$5 \times 6 = 30$
ごしちさんじゅうご	$5 \times 7 = 35$
ごはしじゅう	$5 \times 8 = 40$
ごっくしじゅうご	$5 \times 9 = 45$

2. つぎの計算をしましょう。

① $5 \times 1 = 5$

② $5 \times 3 = 15$

③ $5 \times 5 = 25$

④ $5 \times 7 = 35$

3. 5×2 は 5×1 よりもいくつ大きいですか。

答え： 5



かけ算 4

◎ 5のだんの九九



日にち： 月 日

名まえ _____

1. 九九を声に出して読みながらしきを書こう。

ごいちがご	→ $5 \times 1 = 5$
ごにじゅう	$5 \times 2 = 10$
ごさんじゅうご	$5 \times 3 = 15$
ごしにじゅう	$5 \times 4 = 20$
ごごにじゅうご	$5 \times 5 = 25$
ごろくさんじゅう	$5 \times 6 = 30$
ごしちさんじゅうご	$5 \times 7 = 35$
ごはしじゅう	$5 \times 8 = 40$
ごっくしじゅうご	$5 \times 9 = 45$

2. つぎの計算をしましょう。

① $5 \times 2 = 10$

② $5 \times 4 = 20$

③ $5 \times 6 = 30$

④ $5 \times 8 = 40$

3. 5×5 は 5×4 よりもいくつ大きいですか。

答え： 5



かけ算 4

◎ 5のだんの九九



日にち： 月 日

名まえ _____

1. 九九を声に出して読みながらしきを書こう。

ごいちがご	→ $5 \times 1 = 5$
ごにじゅう	$5 \times 2 = 10$
ごさんじゅうご	$5 \times 3 = 15$
ごしにじゅう	$5 \times 4 = 20$
ごごにじゅうご	$5 \times 5 = 25$
ごろくさんじゅう	$5 \times 6 = 30$
ごしちさんじゅうご	$5 \times 7 = 35$
ごはしじゅう	$5 \times 8 = 40$
ごっくしじゅうご	$5 \times 9 = 45$

2. つぎの計算をしましょう。

① $5 \times 3 = 15$

② $5 \times 6 = 30$

③ $5 \times 2 = 10$

④ $5 \times 9 = 45$

3. 5×9 は 5×8 よりもいくつ大きいですか。

答え： 5





かけ算 4


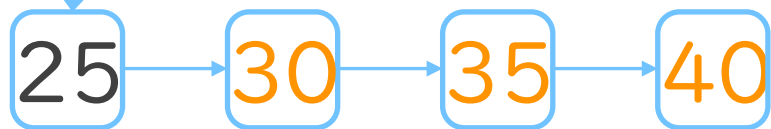
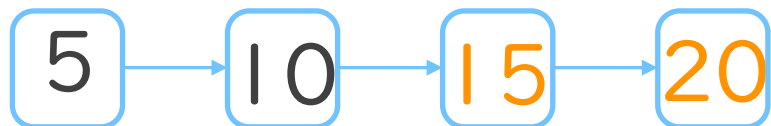
5のだんの九九



日にち： 月 日

名まえ _____

1. つぎの にあてはまる数を書こう。



2. つぎの計算をしましょう。

① $5 \times 5 = 25$

② $5 \times 7 = 35$

③ $5 \times 3 = 15$

④ $5 \times 9 = 45$

⑤ $5 \times 4 = 20$



かけ算 4


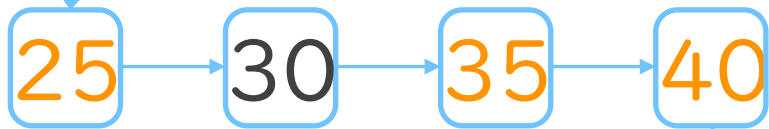
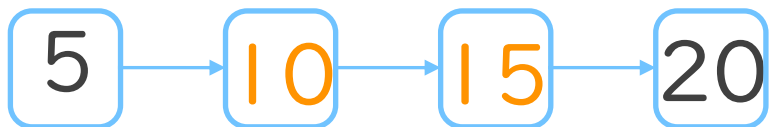
5のだんの九九



日にち： 月 日

名まえ _____

1. つぎの にあてはまる数を書こう。



2. つぎの計算をしましょう。

① $5 \times 8 = 40$

② $5 \times 2 = 10$

③ $5 \times 5 = 25$

④ $5 \times 7 = 35$

⑤ $5 \times 6 = 30$



かけ算 4


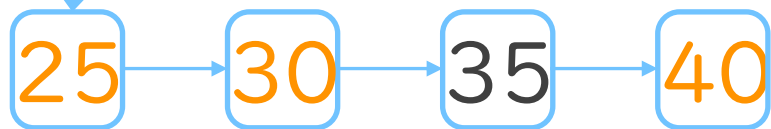
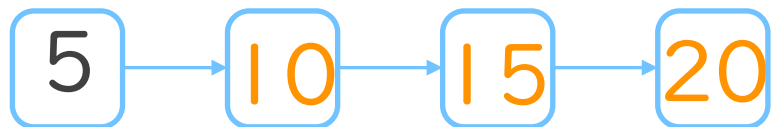
5のだんの九九



日にち： 月 日

名まえ _____

1. つぎの にあてはまる数を書こう。



2. つぎの計算をしましょう。

① $5 \times 4 = 20$

② $5 \times 9 = 45$

③ $5 \times 1 = 5$

④ $5 \times 3 = 15$

⑤ $5 \times 7 = 35$



かけ算 4


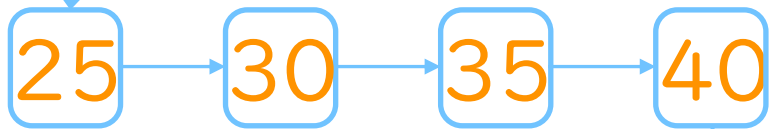
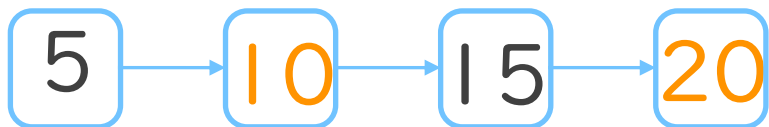
5のだんの九九



日にち： 月 日

名まえ _____

1. つぎの にあてはまる数を書こう。



2. つぎの計算をしましょう。

① $5 \times 2 = 10$

② $5 \times 5 = 25$

③ $5 \times 8 = 40$

④ $5 \times 4 = 20$

⑤ $5 \times 9 = 45$



かけ算 4


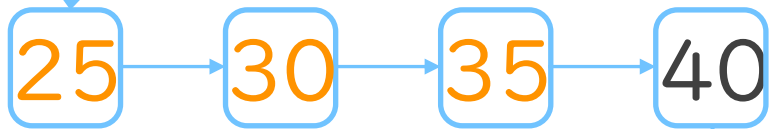
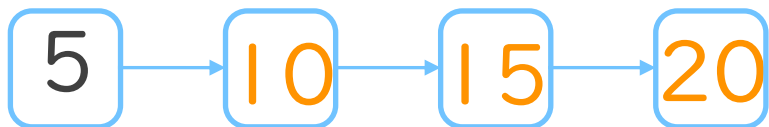
5のだんの九九



日にち： 月 日

名まえ _____

1. つぎの にあてはまる数を書こう。



2. つぎの計算をしましょう。

① $5 \times 7 = 35$

② $5 \times 6 = 30$

③ $5 \times 2 = 10$

④ $5 \times 1 = 5$

⑤ $5 \times 3 = 15$




かけ算 4

5のだんの九九


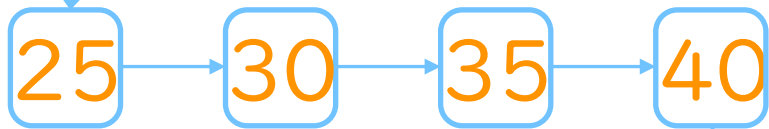
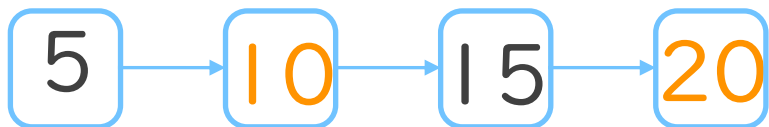


日にち： 月 日

名まえ _____



1. つぎの にあてはまる数を書こう。
(ぜんぶせいかいで50点)



2. つぎの計算をしましょう。
(1もん10点ずつ)

① $5 \times 8 = 40$

② $5 \times 2 = 10$

③ $5 \times 5 = 25$

④ $5 \times 6 = 30$

⑤ $5 \times 9 = 45$






かけ算 4

5のだんの九九

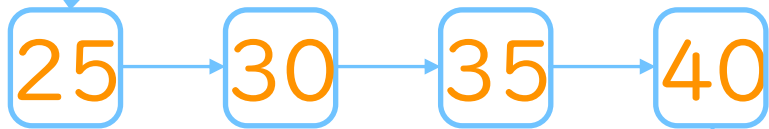
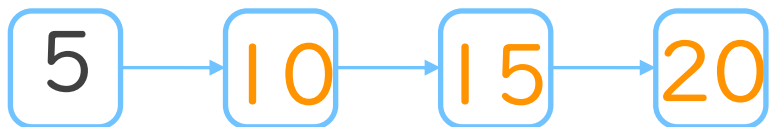


日にち： 月 日


名まえ _____



1. つぎの にあてはまる数を書こう。
(ぜんぶせいかいで50点)



45



2. つぎの計算をしましょう。
(1もん10点ずつ)

① $5 \times 3 = 15$

② $5 \times 8 = 40$

③ $5 \times 4 = 20$

④ $5 \times 7 = 35$

⑤ $5 \times 2 = 10$