

かけ算 5


2のだんの九九



日にち： 月 日

名まえ _____

さくらんぼのみは何こでしょう？	しきをかきましょう	となえ方
	に 2 × 1 = 2	にいちがに
	に 2 × 2 = 4	ににんがし
	2 × 3 =	にさんがろく
	2 × 4 =	にしがはち
	2 × 5 =	にごじゅう
	2 × 6 =	にろくじゅうに
	2 × 7 =	にしちじゅうし
	2 × 8 =	にはちじゅうろく
	2 × 9 =	にくじゅうはち



かけ算 5


2のだんの九九



日にち： 月 日

名まえ _____

さくらんぼのみは何こでしょう？	しきをかきましょう	となえ方
	→ $2 \times 1 = 2$	にいちがに
	$2 \times 2 =$	ににんがし
		にさんがろく
		にしがはち
		にごじゅう
		にろくじゅうに
		にしちじゅうし
		にはちじゅうろく
		にくじゅうはち



かけ算 5


2のだんの九九



日にち： 月 日

名まえ

ぜんぶでいくつでしょう	しきをかきましょう	となえ方
2	→ 2 × 1 = 2	にいちがに
2 2	2 × 2 =	ににんがし
2 2 2	2 × 3 =	にさんがろく
2 2 2 2	2 × 4 =	にしがはち
2 2 2 2 2	2 × 5 =	にごじゅう
2 2 2 2 2 2	2 × 6 =	にろくじゅうに
2 2 2 2 2 2 2	2 × 7 =	にしちじゅうし
2 2 2 2 2 2 2 2	2 × 8 =	にはちじゅうろく
2 2 2 2 2 2 2 2 2	2 × 9 =	にくじゅうはち



かけ算 5


2のだんの九九



日にち： 月 日

名まえ _____

ぜんぶでいくつでしょう	しきをかきましょう	となえ方
2	→ $2 \times 1 = 2$	にいちがに
2 2	$2 \times 2 =$	ににんがし
2 2 2		にさんがろく
2 2 2 2		にしがはち
2 2 2 2 2		にごじゅう
2 2 2 2 2 2		にろくじゅうに
2 2 2 2 2 2 2		にしちじゅうし
2 2 2 2 2 2 2 2		にはちじゅうろく
2 2 2 2 2 2 2 2 2		にくじゅうはち



かけ算 5

2のだんの九九



日にち： 月 日

名まえ _____

1. 九九をこえにだして読みながらしきを書こう

にいちがに → $2 \times 1 = 2$

ににんがし $2 \times 2 = 4$

にさんがろく $2 \times 3 =$

にしがはち $2 \times 4 =$

にごじゅう $2 \times 5 =$

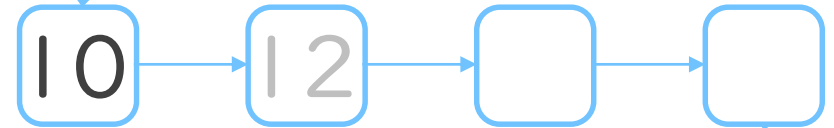
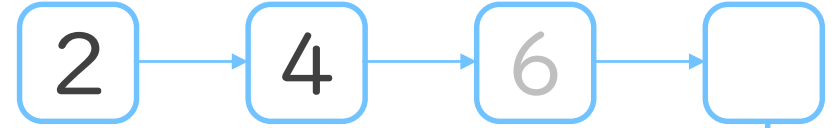
にろくじゅうに $2 \times 6 =$


にしちじゅうし $2 \times 7 =$

にはちじゅうろく $2 \times 8 =$

にくじゅうはち $2 \times 9 =$

2. つぎの にあてはまる数を書こう





かけ算 5

2のだんの九九



日にち： 月 日

名まえ _____

1. 九九をこえにだして読みながらしきを書こう

にいちがに → 2 × 1 = 2

ににんがし 2 × 2 =

にさんがろく

にしがはち

にごじゅう

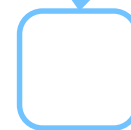
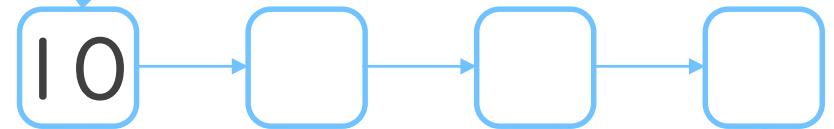
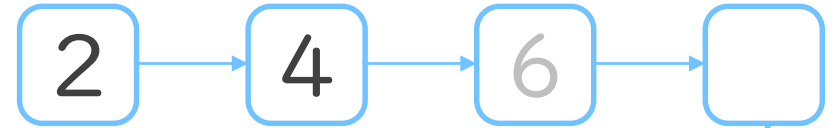
にろくじゅうに


にしちじゅうし

にはちじゅうろく

にくじゅうはち

2. つぎの にあてはまる数を書こう





かけ算 5

2のだんの九九



日にち： 月 日

名まえ _____

1. 九九を こえに だして 読みながら しきを書こう

にいちがに → 2 × 1 =

ににんがし

にさんがろく

にしがはち

にごじゅう

にろくじゅうに

にしちじゅうし

にはちじゅうろく

にくじゅうはち

2. つぎのけいさんをしましょう

① $2 \times 1 =$


② $2 \times 3 =$

③ $2 \times 5 =$

④ $2 \times 7 =$

3. 2×2 は 2×1 よりもいくつ大きいですか

答え： _____



かけ算 5

2のだんの九九



日にち： 月 日

名まえ _____

1. 九九を こえに だして 読みながら しきを書こう

にいちがに → 2 × 1 =

ににんがし

にさんがろく

にしがはち

にごじゅう

にろくじゅうに

にしちじゅうし

にはちじゅうろく

にくじゅうはち

2. つぎのけいさんをしましょう

① $2 \times 2 =$


② $2 \times 4 =$

③ $2 \times 6 =$

④ $2 \times 8 =$

3. 2×6 は 2×5 よりもいくつ大きいですか

答え： _____



かけ算 5

2のだんの九九



日にち： 月 日

名まえ _____

1. 九九を こえに だして 読みながら しき を 書こう

にいちがに →

ににんがし

にさんがろく

にしがはち

にごじゅう

にろくじゅうに

にしちじゅうし

にはちじゅうろく

にくじゅうはち

2. つぎの けいさんを しましょう

① $2 \times 3 =$


② $2 \times 6 =$

③ $2 \times 2 =$

④ $2 \times 9 =$

3. 2×9 は 2×8 よりも いくつ 大きい ですか

答え： _____



かけ算 5


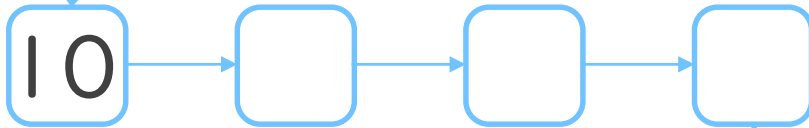
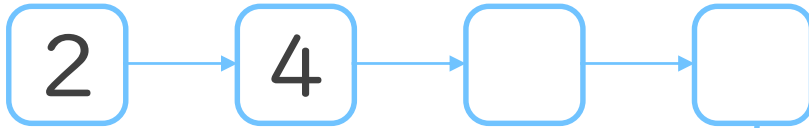
2のだんの九九



日にち： 月 日

名まえ _____

1. つぎの にあてはまる数を書こう



2. つぎのけいさんをしましょう


① $2 \times 5 =$

② $2 \times 7 =$

③ $2 \times 3 =$

④ $2 \times 9 =$

⑤ $2 \times 4 =$



かけ算 5


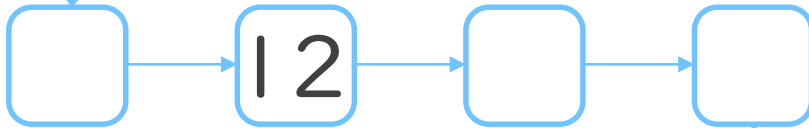
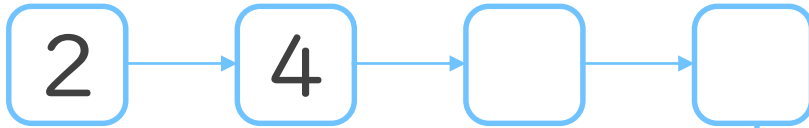
2のだんの九九



日にち： 月 日

名まえ _____

1. つぎの にあてはまる数を書こう



2. つぎのけいさんをしましょう


① $2 \times 8 =$

② $2 \times 2 =$

③ $2 \times 5 =$

④ $2 \times 7 =$

⑤ $2 \times 6 =$



かけ算 5



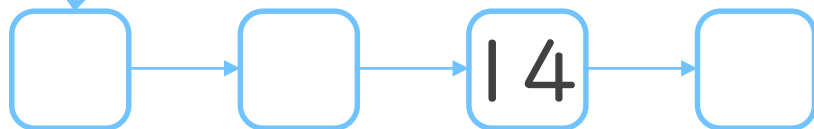
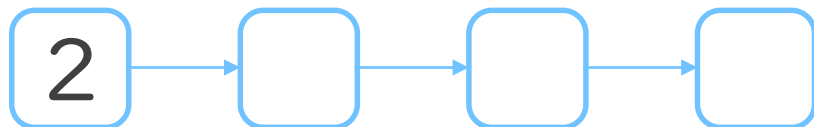
2のだんの九九



日にち： 月 日

名まえ _____

1. つぎの にあてはまる数を書こう



2. つぎのけいさんをしましょう


① $2 \times 4 =$

② $2 \times 9 =$

③ $2 \times 1 =$

④ $2 \times 3 =$

⑤ $2 \times 7 =$



かけ算 5


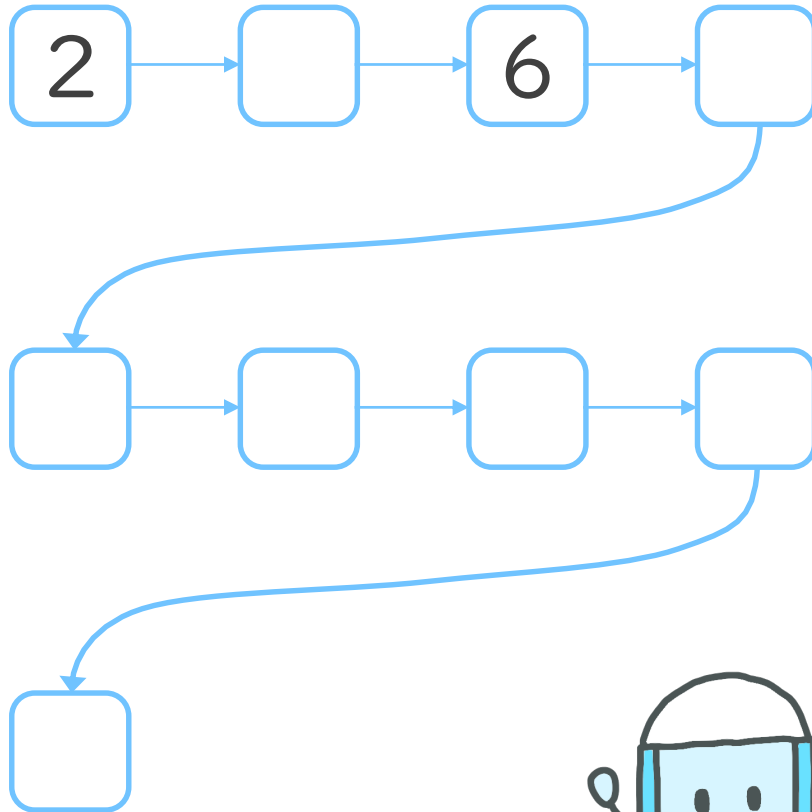
2のだんの九九



日にち： 月 日

名まえ _____

1. つぎの にあてはまる数を書こう



2. つぎのけいさんをしましょう


① $2 \times 2 =$

② $2 \times 5 =$

③ $2 \times 8 =$

④ $2 \times 4 =$

⑤ $2 \times 9 =$



かけ算 5


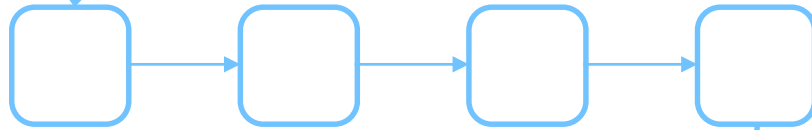
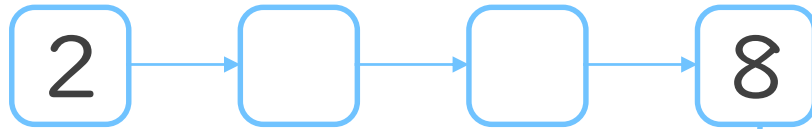
2のだんの九九



日にち： 月 日

名まえ _____

1. つぎの にあてはまる数を書こう



2. つぎのけいさんをしましょう


① $2 \times 7 =$

② $2 \times 6 =$

③ $2 \times 2 =$

④ $2 \times 5 =$

⑤ $2 \times 3 =$




かけ算 5

2のだんの九九


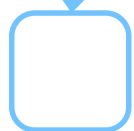
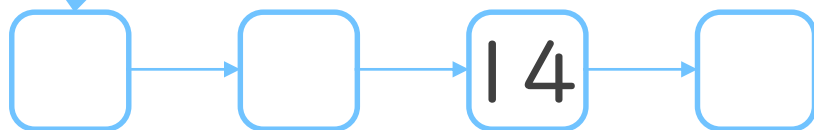
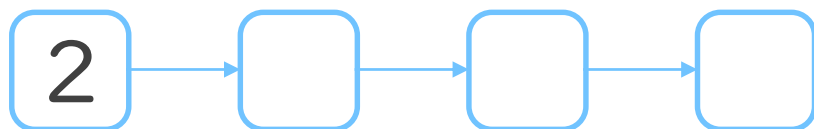


日にち： 月 日

名まえ _____



1. つぎの にあてはまる数を書こう
(ぜんぶせいかいで50点)



2. つぎのけいさんをしましょう
(1もん10点ずつ)


① $2 \times 8 =$

② $2 \times 2 =$

③ $2 \times 5 =$

④ $2 \times 6 =$

⑤ $2 \times 9 =$




かけ算 5

2のだんの九九

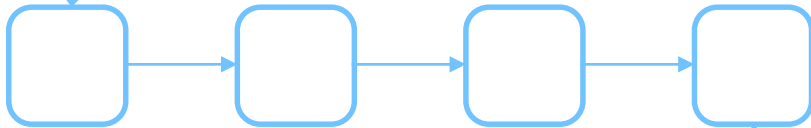
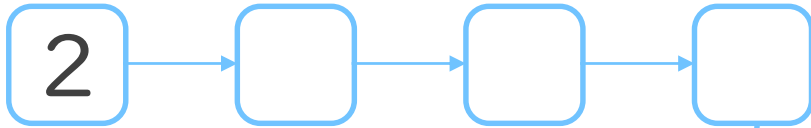


日にち： 月 日


名まえ _____



1. つぎの にあてはまる数を書こう
(ぜんぶせいかいで50点)



18



2. つぎのけいさんをしましょう
(1もん10点ずつ)


① $2 \times 3 =$

② $2 \times 8 =$

③ $2 \times 4 =$

④ $2 \times 7 =$

⑤ $2 \times 2 =$



かけ算 5


2のだんの九九



日にち： 月 日

名まえ

ゆびは何本でしょう？	しきをかきましょう	となえ方
	→ $2 \times 1 = 2$	にいちがに
	$2 \times 2 = 4$	ににんがし
	$2 \times 3 = 6$	にさんがろく
	$2 \times 4 = 8$	にしがはち
	$2 \times 5 = 10$	にごじゅう
	$2 \times 6 = 12$	にろくじゅうに
	$2 \times 7 = 14$	にしちじゅうし
	$2 \times 8 = 16$	にはちじゅうろく
	$2 \times 9 = 18$	にくじゅうはち



かけ算 5


2のだんの九九



日にち： 月 日

名まえ

ゆびは何本でしょう？	しきをかきましょう	となえ方
	→ $2 \times 1 = 2$	にいちがに
	$2 \times 2 = 4$	ににんがし
	$2 \times 3 = 6$	にさんがろく
	$2 \times 4 = 8$	にしがはち
	$2 \times 5 = 10$	にごじゅう
	$2 \times 6 = 12$	にろくじゅうに
	$2 \times 7 = 14$	にしちじゅうし
	$2 \times 8 = 16$	にはちじゅうろく
	$2 \times 9 = 18$	にくじゅうはち



かけ算 5


2のだんの九九



日にち： 月 日

名まえ _____

ぜんぶでいくつでしょう	しきをかきましょう	となえ方
2	→ 2 × 1 = 2	にいちがに
2 2	2 × 2 = 4	ににんがし
2 2 2	2 × 3 = 6	にさんがろく
2 2 2 2	2 × 4 = 8	にしがはち
2 2 2 2 2	2 × 5 = 10	にごじゅう
2 2 2 2 2 2	2 × 6 = 12	にろくじゅうに
2 2 2 2 2 2 2	2 × 7 = 14	にしちじゅうし
2 2 2 2 2 2 2 2	2 × 8 = 16	にはちじゅうろく
2 2 2 2 2 2 2 2 2	2 × 9 = 18	にくじゅうはち



かけ算 5


2のだんの九九



日にち： 月 日

名まえ

ぜんぶでいくつでしょう	しきをかきましょう	となえ方
2	→ $2 \times 1 = 2$	にいちがに
2 2	$2 \times 2 = 4$	ににんがし
2 2 2	$2 \times 3 = 6$	にさんがろく
2 2 2 2	$2 \times 4 = 8$	にしがはち
2 2 2 2 2	$2 \times 5 = 10$	にごじゅう
2 2 2 2 2 2	$2 \times 6 = 12$	にろくじゅうに
2 2 2 2 2 2 2	$2 \times 7 = 14$	にしちじゅうし
2 2 2 2 2 2 2 2	$2 \times 8 = 16$	にはちじゅうろく
2 2 2 2 2 2 2 2 2	$2 \times 9 = 18$	にくじゅうはち



かけ算 5

2のだんの九九




日にち： 月 日


名まえ _____

1. 九九をこえにだして読みながらしきを書こう

にいちがに	→	に	×	いち	=	が	に
		2		1		2	
ににんがし		に	×	に	=	んが	し
		2		2		4	
にさんがろく		2	×	3	=	6	
にしがはち		2	×	4	=	8	
にごじゅう		2	×	5	=	10	
にろくじゅうに		2	×	6	=	12	
にしちじゅうし		2	×	7	=	14	
にはちじゅうろく		2	×	8	=	16	
にくじゅうはち		2	×	9	=	18	

2. つぎの にあてはまる数を書こう





かけ算 5

2のだんの九九



日にち： 月 日

名まえ _____

1. 九九をこえにだして読みながらしきを書こう

にいちがに → 2 × 1 = 2

ににんがし 2 × 2 = 4

にさんがろく 2 × 3 = 6

にしがはち 2 × 4 = 8

にごじゅう 2 × 5 = 10

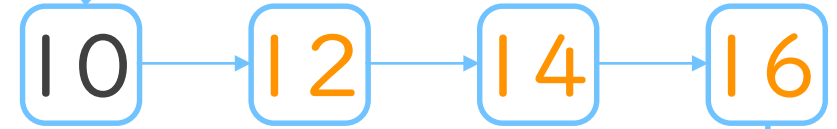
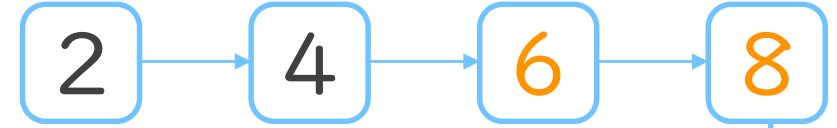
にろくじゅうに 2 × 6 = 12


にしちじゅうし 2 × 7 = 14

にはちじゅうろく 2 × 8 = 16

にくじゅうはち 2 × 9 = 18

2. つぎの にあてはまる数を書こう





かけ算 5

2のだんの九九



日にち： 月 日

名まえ _____

1. 九九をこえにだして読みながらしきを書こう

にいちがに	→	$2 \times 1 = 2$
ににんがし		$2 \times 2 = 4$
にさんがろく		$2 \times 3 = 6$
にしがはち		$2 \times 4 = 8$
にごじゅう		$2 \times 5 = 10$
にろくじゅうに		$2 \times 6 = 12$
にしちじゅうし		$2 \times 7 = 14$
にはちじゅうろく		$2 \times 8 = 16$
にくじゅうはち		$2 \times 9 = 18$

2. つぎのけいさんをしましょう

① $2 \times 1 = 2$


② $2 \times 3 = 6$

③ $2 \times 5 = 10$

④ $2 \times 7 = 14$

3. 2×2 は 2×1 よりもいくつ大きいですか

答え： 2



かけ算 5

2のだんの九九



日にち： 月 日

名まえ _____

1. 九九をこえにだして読みながらしきを書こう

にいちがに → $2 \times 1 = 2$

ににんがし $2 \times 2 = 4$

にさんがろく $2 \times 3 = 6$

にしがはち $2 \times 4 = 8$

にごじゅう $2 \times 5 = 10$

にろくじゅうに $2 \times 6 = 12$

にしちじゅうし $2 \times 7 = 14$

にはちじゅうろく $2 \times 8 = 16$

にくじゅうはち $2 \times 9 = 18$

2. つぎのけいさんをしましょう

① $2 \times 2 = 4$


② $2 \times 4 = 8$

③ $2 \times 6 = 12$

④ $2 \times 8 = 16$

3. 2×6 は 2×5 よりもいくつ大きいですか

答え： 2



かけ算 5

2のだんの九九



日にち： 月 日

名まえ _____

1. 九九をこえにだして読みながらしきを書こう

にいちがに → $2 \times 1 = 2$

ににんがし $2 \times 2 = 4$

にさんがろく $2 \times 3 = 6$

にしがはち $2 \times 4 = 8$

にごじゅう $2 \times 5 = 10$

にろくじゅうに $2 \times 6 = 12$

にしちじゅうし $2 \times 7 = 14$

にはちじゅうろく $2 \times 8 = 16$

にくじゅうはち $2 \times 9 = 18$

2. つぎのけいさんをしましょう

① $2 \times 3 = 6$


② $2 \times 6 = 12$

③ $2 \times 2 = 4$

④ $2 \times 9 = 18$

3. 2×9 は 2×8 よりもいくつ大きいですか

答え： 2



かけ算 5


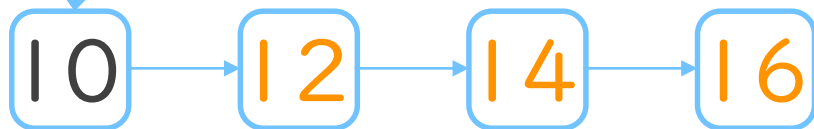
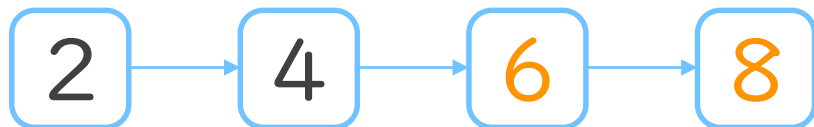
2のだんの九九



日にち： 月 日

名まえ _____

1. つぎの にあてはまる数を書こう



2. つぎのけいさんをしましょう


① $2 \times 5 = 10$

② $2 \times 7 = 14$

③ $2 \times 3 = 6$

④ $2 \times 9 = 18$

⑤ $2 \times 4 = 8$



かけ算 5


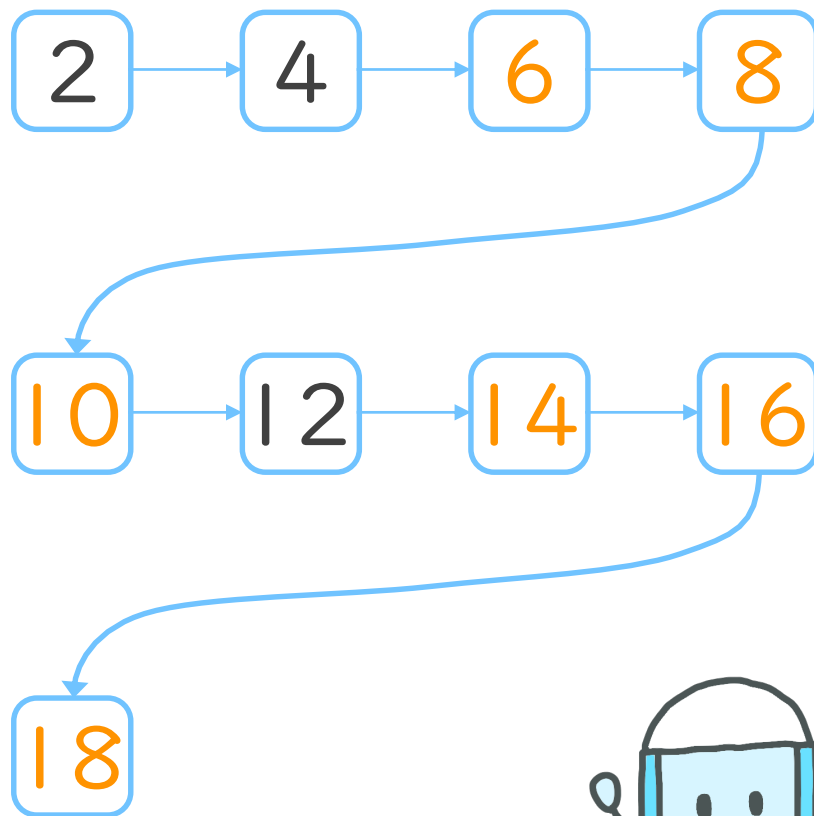
2のだんの九九



日にち： 月 日

名まえ _____

1. つぎの にあてはまる数を書こう



2. つぎのけいさんをしましょう


① $2 \times 8 = 16$

② $2 \times 2 = 4$

③ $2 \times 5 = 10$

④ $2 \times 7 = 14$

⑤ $2 \times 6 = 12$



かけ算 5


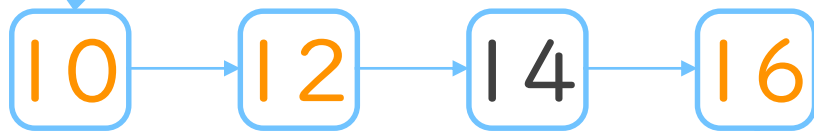
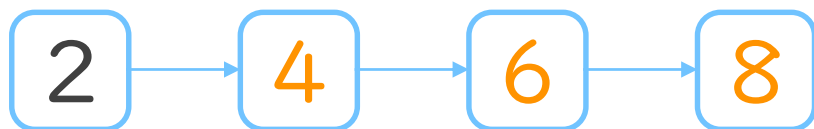
2のだんの九九



日にち： 月 日

名まえ _____

1. つぎの にあてはまる数を書こう



2. つぎのけいさんをしましょう


① $2 \times 4 = 8$

② $2 \times 9 = 18$

③ $2 \times 1 = 2$

④ $2 \times 3 = 6$

⑤ $2 \times 7 = 14$



かけ算 5


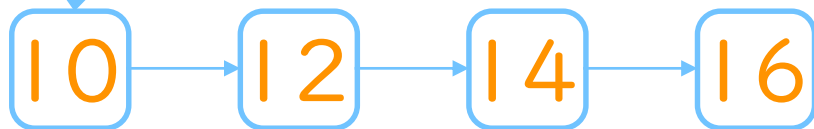
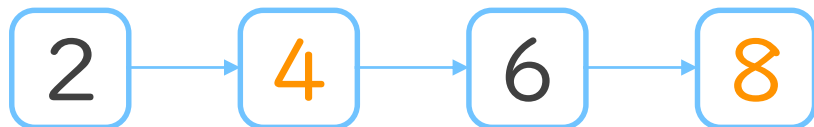
2のだんの九九



日にち： 月 日

名まえ _____

1. つぎの にあてはまる数を書こう



2. つぎのけいさんをしましょう


① $2 \times 2 = 4$

② $2 \times 5 = 10$

③ $2 \times 8 = 16$

④ $2 \times 4 = 8$

⑤ $2 \times 9 = 18$



かけ算 5


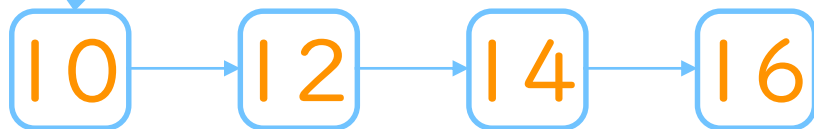
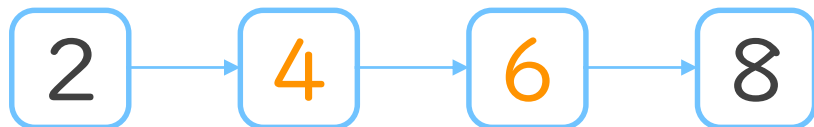
2のだんの九九



日にち： 月 日

名まえ _____

1. つぎの にあてはまる数を書こう



2. つぎのけいさんをしましょう


① $2 \times 7 = 14$

② $2 \times 6 = 12$

③ $2 \times 2 = 4$

④ $2 \times 5 = 10$

⑤ $2 \times 3 = 6$




かけ算 5

2のだんの九九


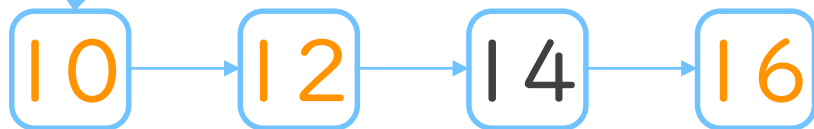
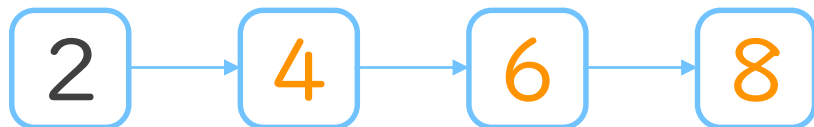


日にち： 月 日

名まえ _____



1. つぎの にあてはまる数を書こう
(ぜんぶせいかいで50点)



2. つぎのけいさんをしましょう
(1もん10点ずつ)


① $2 \times 8 = 16$

② $2 \times 2 = 4$

③ $2 \times 5 = 10$

④ $2 \times 6 = 12$

⑤ $2 \times 9 = 18$




かけ算 5

2のだんの九九


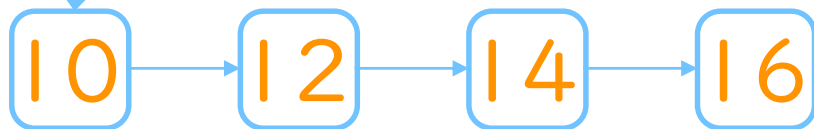
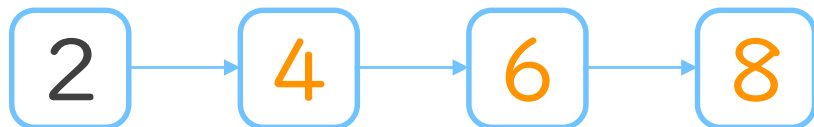


日にち： 月 日

名まえ _____



1. つぎの にあてはまる数を書こう
(ぜんぶせいかいで50点)



2. つぎのけいさんをしましょう
(1もん10点ずつ)

① $2 \times 3 = 6$

② $2 \times 8 = 16$

③ $2 \times 4 = 8$

④ $2 \times 7 = 14$

⑤ $2 \times 2 = 4$