










かけ算 6


4のだんの九九



日にち： 月 日

名まえ _____

クローバーのはは何まい？	しきをかきましょう	となえ方
	→ $4 \times 1 = 4$	しいちがし
	$4 \times 2 = 8$	しにがはち
	$4 \times 3 =$	しさんじゅうに
	$4 \times 4 =$	ししじゅうろく
	$4 \times 5 =$	しごにじゅう
	$4 \times 6 =$	しろくにじゅうし
	$4 \times 7 =$	ししちにじゅうはち
	$4 \times 8 =$	しはさんじゅうに
	$4 \times 9 =$	しくさんじゅうろく



かけ算 6

4のだんの九九



日にち： 月 日

名まえ

クローバーのはは何まい？

しきをかきましょう

となえ方

→ $4 \times 1 = 4$

$4 \times 2 =$

しいちがし

しにがはち

しさんじゅうに

ししじゅうろく

しごにじゅう

しろくにじゅうし

ししちにじゅうはち

しはさんじゅうに

しくさんじゅうろく



かけ算 6

4のだんの九九



日にち： 月 日

名まえ

ぜんぶでいくつでしょう？	しきをかきましょう	となえ方
4	→ 4 × 1 = 4	しいちがし
4 4	4 × 2 =	しにがはち
4 4 4	4 × 3 =	しさんじゅうに
4 4 4 4	4 × 4 =	ししじゅうろく
4 4 4 4 4	4 × 5 =	しごにじゅう
4 4 4 4 4 4	4 × 6 =	しろくにじゅうし
4 4 4 4 4 4 4	4 × 7 =	ししちにじゅうはち
4 4 4 4 4 4 4 4	4 × 8 =	しはさんじゅうに
4 4 4 4 4 4 4 4 4	4 × 9 =	しくさんじゅうろく



かけ算 6

4のだんの九九



日にち： 月 日

名まえ _____

ぜんぶでいくつでしょう？	しきをかきましょう	となえ方
4	→ $4 \times 1 = 4$	しいちがし
4 4	$4 \times 2 =$	しにがはち
4 4 4		しさんじゅうに
4 4 4 4		ししじゅうろく
4 4 4 4 4		しごにじゅう
4 4 4 4 4 4		しろくにじゅうし
4 4 4 4 4 4 4		ししちにじゅうはち
4 4 4 4 4 4 4 4		しはさんじゅうに
4 4 4 4 4 4 4 4 4		しくさんじゅうろく



かけ算 6

4のだんの九九



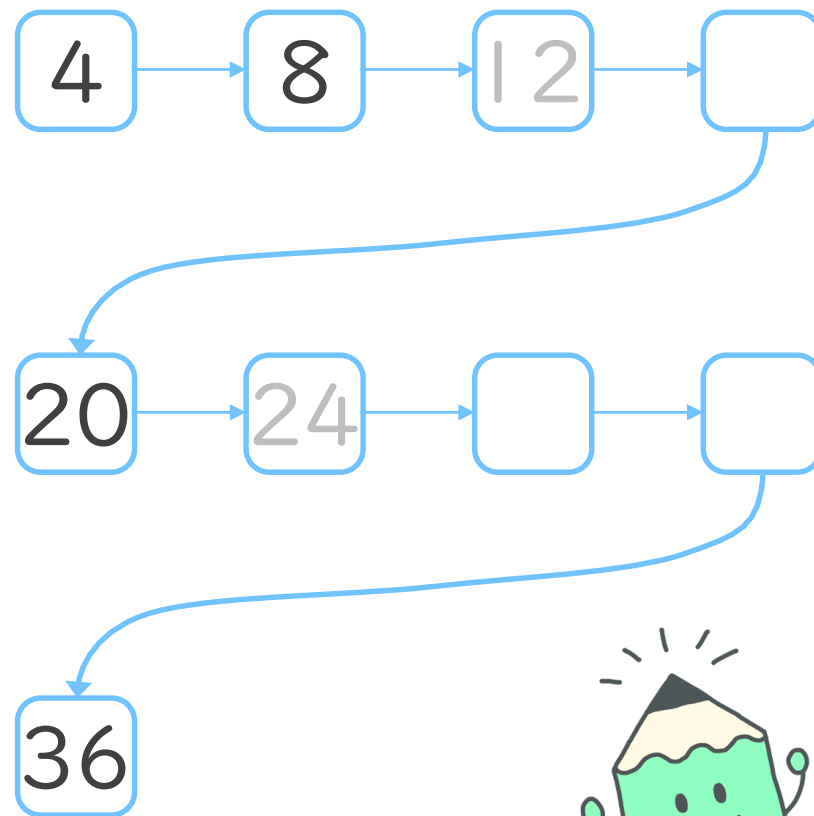
日にち： 月 日

名まえ _____

1. 九九をこえにだして読みながらしきを書こう

しいちがし	→	し	×	いち	=	に	4
しにがはち		し	×	に	=	が	はち
しさんじゅうに		4	×	3	=		
ししじゅうろく		4	×	4	=		
しごにじゅう		4	×	5	=		
しろくにじゅうし		4	×	6	=		
ししちにじゅうはち		4	×	7	=		
しはさんじゅうに		4	×	8	=		
しくさんじゅうろく		4	×	9	=		

2. つぎの にあてはまる数を書こう





かけ算 6

4のだんの九九



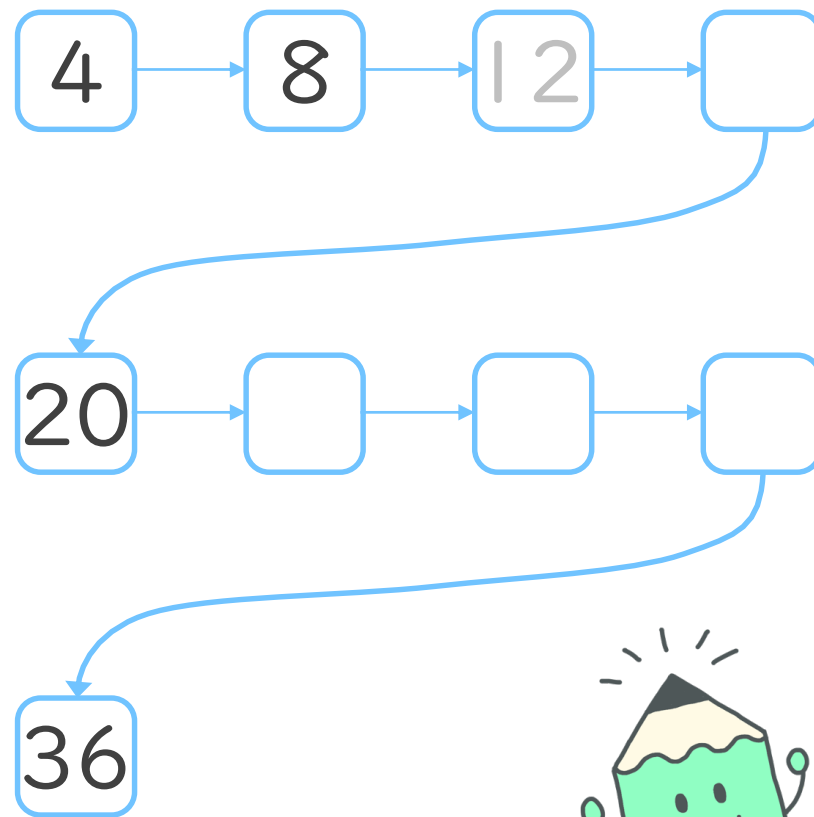
日にち： 月 日

名まえ _____

1. 九九をこえにだして読みながらしきを書こう

しいちがし	→	4 × 1 = 4
しにがはち		4 × 2 =
しさんじゅうに		
ししじゅうろく		
しごにじゅう		
しろくにじゅうし		
ししちにじゅうはち		
しはさんじゅうに		
しくさんじゅうろく		

2. つぎの にあてはまる数を書こう





かけ算 6

4のだんの九九



日にち： 月 日

名まえ _____

1. 九九を こえに だして 読みながら しきを書こう

しいちがし → 4 × 1 =

しにがはち

しさんじゅうに

ししじゅうろく

しごにじゅう

しろくにじゅうし

ししちにじゅうはち

しはさんじゅうに

しくさんじゅうろく

2. つぎのけいさんをしましょう

① $4 \times 1 =$

② $4 \times 3 =$


③ $4 \times 5 =$

④ $4 \times 7 =$

3. 4×3 は 4×2 よりもいくつ大きいですか

答え： _____





かけ算 6

4のだんの九九



日にち： 月 日

名まえ _____

1. 九九を こえに だして 読みながら しきを書こう

しいちがし	→	4 × 1 =
しにがはち		
しさんじゅうに		
ししじゅうろく		
しごにじゅう		
しろくにじゅうし		
ししちにじゅうはち		
しはさんじゅうに		
しくさんじゅうろく		

2. つぎのけいさんをしましょう

① $4 \times 2 =$


② $4 \times 4 =$

③ $4 \times 6 =$

④ $4 \times 8 =$

3. 4×5 は 4×4 よりもいくつ大きいですか

答え： _____



かけ算 6

4のだんの九九



日にち： 月 日

名まえ _____

1. 九九を こえに だして 読みながら しきを書こう

しいちがし



しにがはち

しさんじゅうに

ししじゅうろく

しごにじゅう

しろくにじゅうし

ししちにじゅうはち

しはさんじゅうに

しくさんじゅうろく

2. つぎの けいさんを しましょう

① $4 \times 3 =$

② $4 \times 6 =$


③ $4 \times 2 =$

④ $4 \times 9 =$

3. 4×9 は 4×8 よりも いくつ大きいですか

答え： _____





かけ算 6


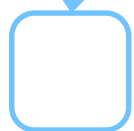
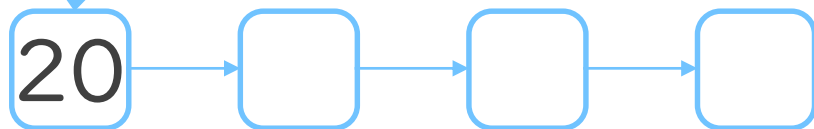
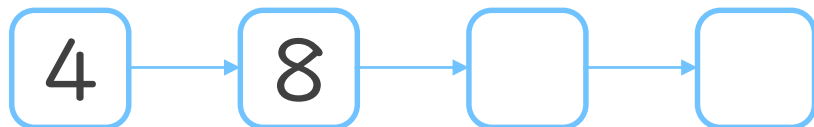
● 4のだんの九九



日にち： 月 日

名まえ _____

1. つぎの にあてはまる数を書こう



2. つぎのけいさんをしましょう

① $4 \times 5 =$

② $4 \times 7 =$

③ $4 \times 3 =$

④ $4 \times 9 =$

⑤ $4 \times 4 =$



かけ算 6


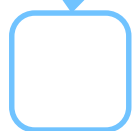
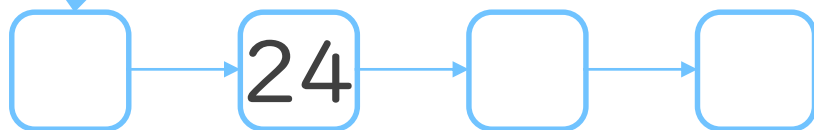
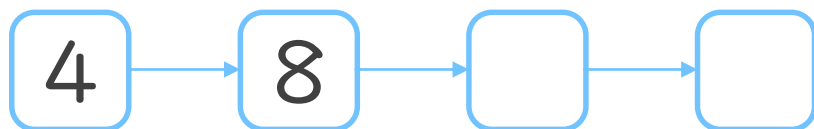
4のだんの九九



日にち： 月 日

名まえ _____

1. つぎの にあてはまる数を書こう



2. つぎのけいさんをしましょう

① $4 \times 8 =$

② $4 \times 2 =$

③ $4 \times 5 =$

④ $4 \times 7 =$

⑤ $4 \times 6 =$



かけ算 6



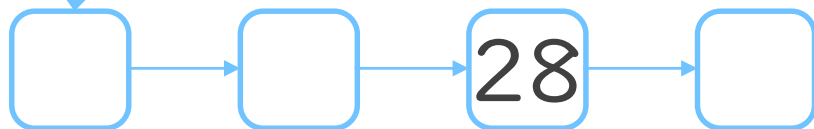
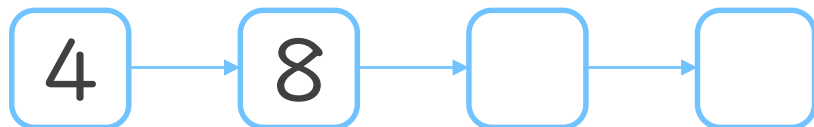
4のだんの九九



日にち： 月 日

名まえ _____

1. つぎの にあてはまる数を書こう



2. つぎのけいさんをしましょう

① $4 \times 4 =$

② $4 \times 9 =$

③ $4 \times 1 =$

④ $4 \times 3 =$

⑤ $4 \times 7 =$



かけ算 6


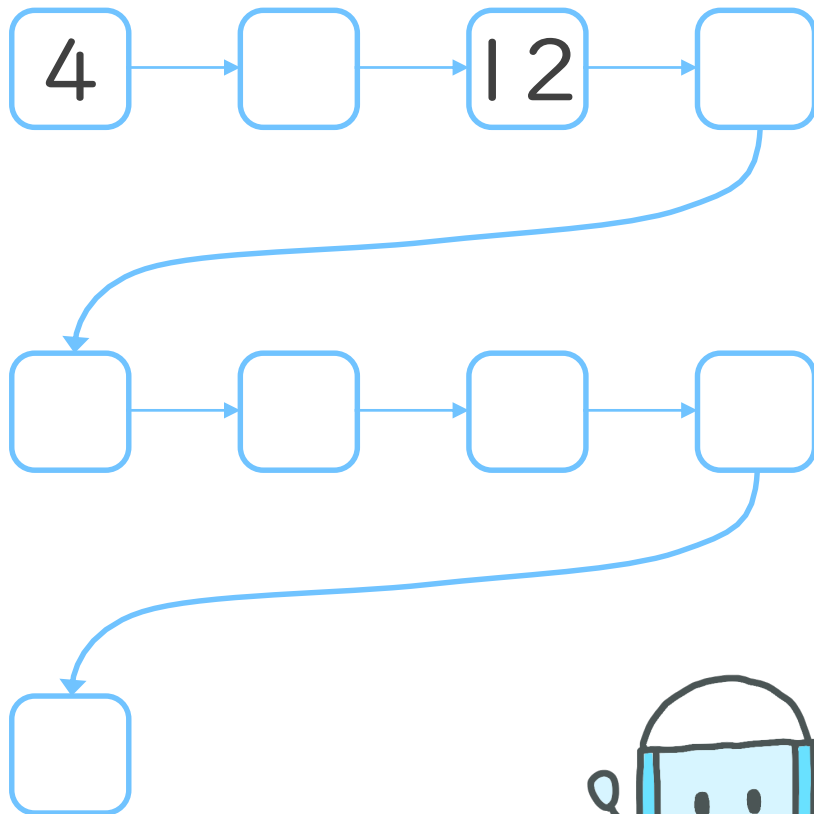
● 4のだんの九九



日にち： 月 日

名まえ _____

1. つぎの にあてはまる数を書こう



2. つぎのけいさんをしましょう

① $4 \times 2 =$

② $4 \times 5 =$

③ $4 \times 8 =$

④ $4 \times 9 =$

⑤ $4 \times 4 =$



かけ算 6



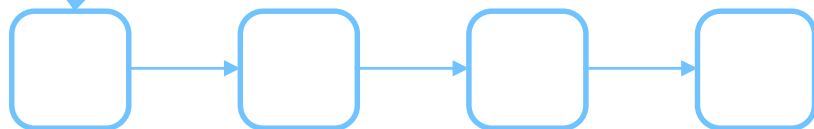
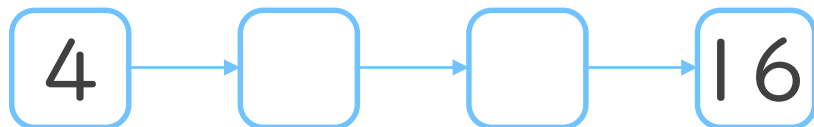
4のだんの九九



日にち： 月 日

名まえ _____

1. つぎの にあてはまる数を書こう



2. つぎのけいさんをしましょう

① $4 \times 7 =$

② $4 \times 6 =$

③ $4 \times 2 =$

④ $4 \times 5 =$

⑤ $4 \times 3 =$




かけ算 6

● 4のだんの九九


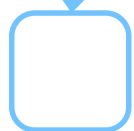
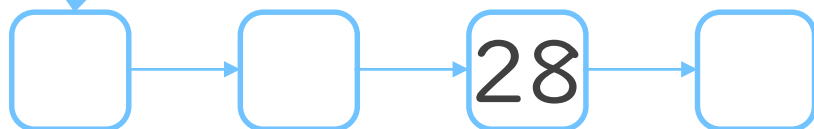
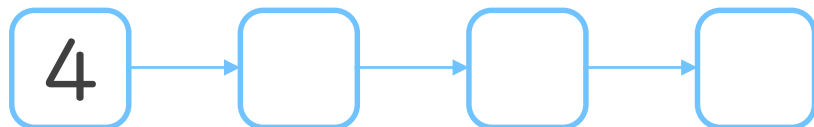


日にち： 月 日

名まえ _____



1. つぎの にあてはまる数を書こう



2. つぎのけいさんをしましょう


① $4 \times 8 =$

② $4 \times 2 =$

③ $4 \times 5 =$

④ $4 \times 6 =$

⑤ $4 \times 9 =$




かけ算 6

● 4のだんの九九

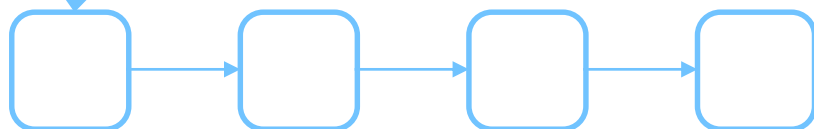
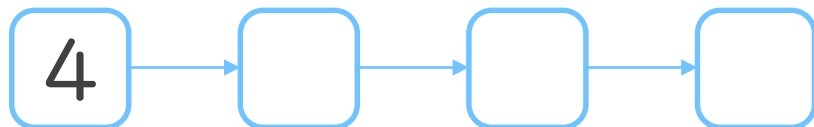


日にち： 月 日


名まえ _____



1. つぎの にあてはまる数を書こう



36



2. つぎのけいさんをしましょう


① $4 \times 3 =$

② $4 \times 8 =$

③ $4 \times 4 =$

④ $4 \times 7 =$

⑤ $4 \times 2 =$



かけ算 6

4のだんの九九



日にち： 月 日

名まえ _____


クローバーのはは何まい？

しきをかきましょう

となえ方

→ $4 \times 1 = 4$
$4 \times 2 = 8$
$4 \times 3 = 12$
$4 \times 4 = 16$
$4 \times 5 = 20$
$4 \times 6 = 24$
$4 \times 7 = 28$
$4 \times 8 = 32$
$4 \times 9 = 36$

しいちがし
しにがはち
しさんじゅうに
ししじゅうろく
しごにじゅう
しろくにじゅうし
ししちにじゅうはち
しはさんじゅうに
しくさんじゅうろく












かけ算 6

4のだんの九九



日にち： 月 日

名まえ

クローバーのはは何まい？	しきをかきましょう	となえ方
	→ $4 \times 1 = 4$	しいちがし
	$4 \times 2 = 8$	しにがはち
	$4 \times 3 = 12$	しさんじゅうに
	$4 \times 4 = 16$	ししじゅうろく
	$4 \times 5 = 20$	しごにじゅう
	$4 \times 6 = 24$	しろくにじゅうし
	$4 \times 7 = 28$	ししちにじゅうはち
	$4 \times 8 = 32$	しはさんじゅうに
	$4 \times 9 = 36$	しくさんじゅうろく



かけ算 6

4のだんの九九



日にち： 月 日

名まえ

ぜんぶでいくつでしょう？	しきをかきましょう	となえ方
4	→ 4 × 1 = 4	しいちがし
4 4	4 × 2 = 8	しにがはち
4 4 4	4 × 3 = 12	しさんじゅうに
4 4 4 4	4 × 4 = 16	ししじゅうろく
4 4 4 4 4	4 × 5 = 20	しごにじゅう
4 4 4 4 4 4	4 × 6 = 24	しろくにじゅうし
4 4 4 4 4 4 4	4 × 7 = 28	ししちにじゅうはち
4 4 4 4 4 4 4 4	4 × 8 = 32	しはさんじゅうに
4 4 4 4 4 4 4 4 4	4 × 9 = 36	しくさんじゅうろく



かけ算 6

4のだんの九九



日にち： 月 日

名まえ _____

ぜんぶでいくつでしょう？	しきをかきましょう	となえ方
4	→ 4 × 1 = 4	しいちがし
4 4	4 × 2 = 8	しにがはち
4 4 4	4 × 3 = 12	しさんじゅうに
4 4 4 4	4 × 4 = 16	ししじゅうろく
4 4 4 4 4	4 × 5 = 20	しごにじゅう
4 4 4 4 4 4	4 × 6 = 24	しろくにじゅうし
4 4 4 4 4 4 4	4 × 7 = 28	ししちにじゅうはち
4 4 4 4 4 4 4 4	4 × 8 = 32	しはさんじゅうに
4 4 4 4 4 4 4 4 4	4 × 9 = 36	しくさんじゅうろく



かけ算 6

4のだんの九九



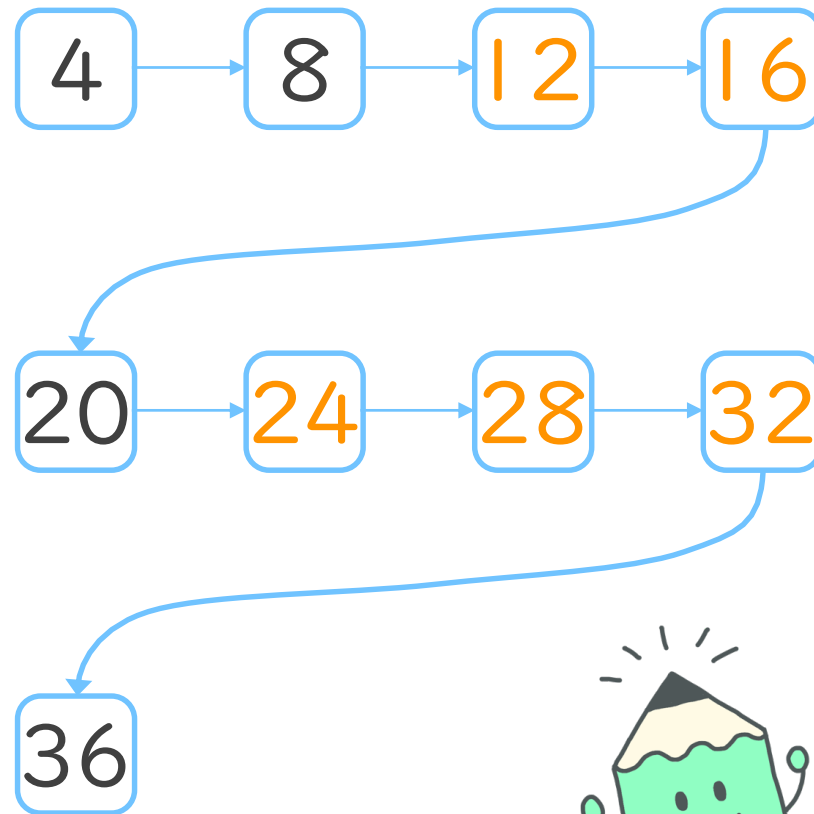
日にち： 月 日

名まえ _____

1. 九九をこえにだして読みながらしきを書こう

しいちがし	→	し 4	×	いち 1	=	に 4
しにがはち		し 4	×	に 2	=	はち 8
しさんじゅうに		4	×	3	=	12
ししじゅうろく		4	×	4	=	16
しごにじゅう		4	×	5	=	20
しろくにじゅうし		4	×	6	=	24
ししちにじゅうはち		4	×	7	=	28
しはさんじゅうに		4	×	8	=	32
しくさんじゅうろく		4	×	9	=	36

2. つぎの にあてはまる数を書こう





かけ算 6

4のだんの九九



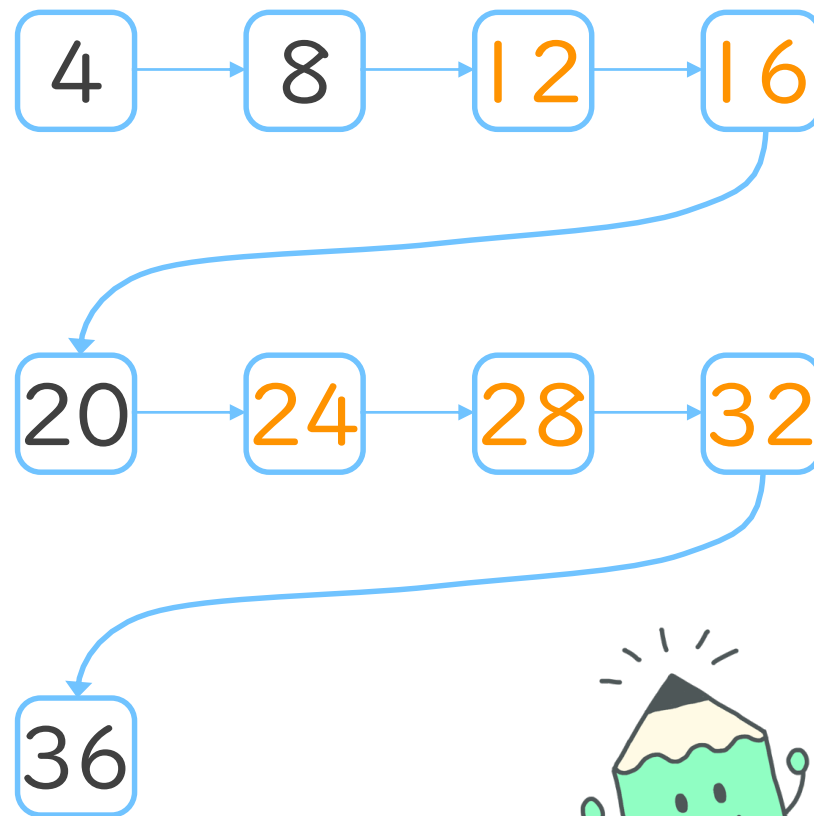
日にち： 月 日

名まえ _____

1. 九九をこえにだして読みながらしきを書こう

しいちがし	→	4 × 1 = 4
しにがはち		4 × 2 = 8
しさんじゅうに		4 × 3 = 12
ししじゅうろく		4 × 4 = 16
しごにじゅう		4 × 5 = 20
しろくにじゅうし		4 × 6 = 24
ししちにじゅうはち		4 × 7 = 28
しはさんじゅうに		4 × 8 = 32
しくさんじゅうろく		4 × 9 = 36

2. つぎの にあてはまる数を書こう





かけ算 6

4のだんの九九



日にち： 月 日

名まえ _____

1. 九九を こえに だして 読みながら しきを書こう

しいちがし	→	$4 \times 1 = 4$
しにがはち		$4 \times 2 = 8$
しさんじゅうに		$4 \times 3 = 12$
ししじゅうろく		$4 \times 4 = 16$
しごにじゅう		$4 \times 5 = 20$
しろくにじゅうし		$4 \times 6 = 24$
ししちにじゅうはち		$4 \times 7 = 28$
しはさんじゅうに		$4 \times 8 = 32$
しくさんじゅうろく		$4 \times 9 = 36$

2. つぎのけいさんをしましょう

① $4 \times 1 = 4$

② $4 \times 3 = 12$


③ $4 \times 5 = 20$

④ $4 \times 7 = 28$

3. 4×3 は 4×2 よりもいくつ大きいですか

答え： 4





かけ算 6

4のだんの九九



日にち： 月 日

名まえ _____

1. 九九をこえにだして読みながらしきを書こう

しいちがし	→	$4 \times 1 = 4$
しにがはち		$4 \times 2 = 8$
しさんじゅうに		$4 \times 3 = 12$
ししじゅうろく		$4 \times 4 = 16$
しごにじゅう		$4 \times 5 = 20$
しろくにじゅうし		$4 \times 6 = 24$
ししちにじゅうはち		$4 \times 7 = 28$
しはさんじゅうに		$4 \times 8 = 32$
しくさんじゅうろく		$4 \times 9 = 36$

2. つぎのけいさんをしましょう

① $4 \times 2 = 8$

② $4 \times 4 = 16$


③ $4 \times 6 = 24$

④ $4 \times 8 = 32$

3. 4×5 は 4×4 よりもいくつ大きいですか

答え： 4





かけ算 6

4のだんの九九



日にち： 月 日

名まえ _____

1. 九九を こえに だして 読みながら しきを書こう

しいちがし	→	$4 \times 1 = 4$
しにがはち		$4 \times 2 = 8$
しさんじゅうに		$4 \times 3 = 12$
ししじゅうろく		$4 \times 4 = 16$
しごにじゅう		$4 \times 5 = 20$
しろくにじゅうし		$4 \times 6 = 24$
ししちにじゅうはち		$4 \times 7 = 28$
しはさんじゅうに		$4 \times 8 = 32$
しくさんじゅうろく		$4 \times 9 = 36$

2. つぎの けいさんを しましょう

① $4 \times 3 = 12$

② $4 \times 6 = 24$


③ $4 \times 2 = 8$

④ $4 \times 9 = 36$

3. 4×9 は 4×8 よりも いくつ大きいですか

答え： 4





かけ算 6

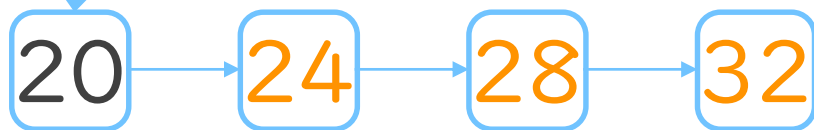
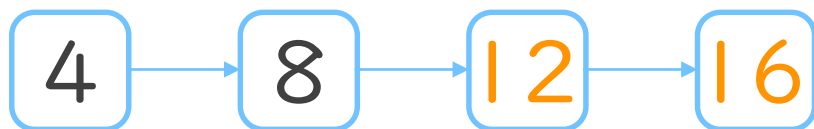
4のだんの九九




日にち： 月 日

名まえ _____

1. つぎの にあてはまる数を書こう



36



2. つぎのけいさんをしましょう

① $4 \times 5 = 20$

② $4 \times 7 = 28$

③ $4 \times 3 = 12$

④ $4 \times 9 = 36$

⑤ $4 \times 4 = 16$



かけ算 6


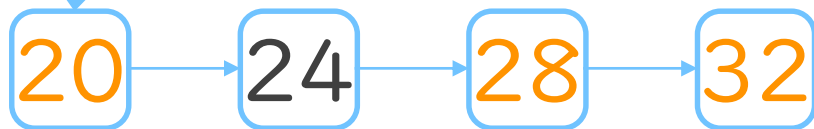
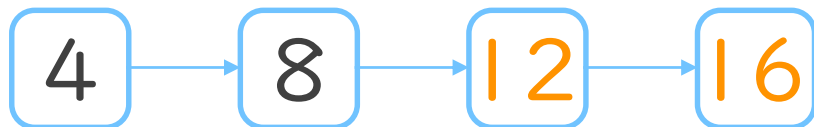
4のだんの九九



日にち： 月 日

名まえ _____

1. つぎの にあてはまる数を書こう



2. つぎのけいさんをしましょう

① $4 \times 8 = 32$

② $4 \times 2 = 8$

③ $4 \times 5 = 20$

④ $4 \times 7 = 28$

⑤ $4 \times 6 = 24$



かけ算 6


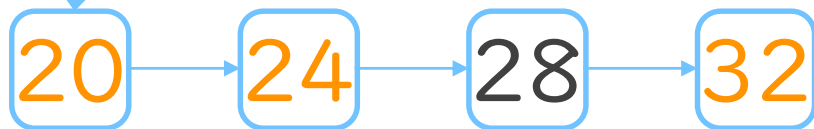
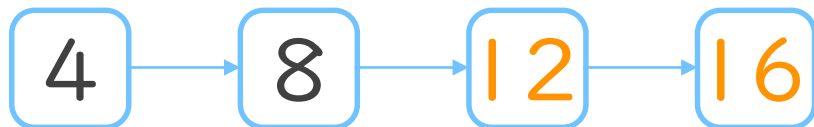
4のだんの九九



日にち： 月 日

名まえ _____

1. つぎの にあてはまる数を書こう



2. つぎのけいさんをしましょう

① $4 \times 4 = 16$

② $4 \times 9 = 36$

③ $4 \times 1 = 4$

④ $4 \times 3 = 12$

⑤ $4 \times 7 = 28$



かけ算 6


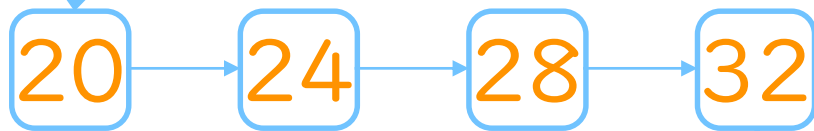
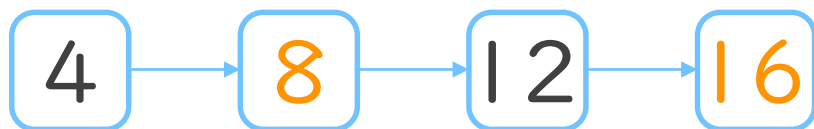
4のだんの九九



日にち： 月 日

名まえ _____

1. つぎの にあてはまる数を書こう



2. つぎのけいさんをしましょう

① $4 \times 2 = 8$

② $4 \times 5 = 20$

③ $4 \times 8 = 32$

④ $4 \times 9 = 36$

⑤ $4 \times 4 = 16$



かけ算 6


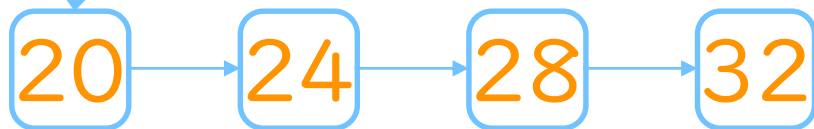
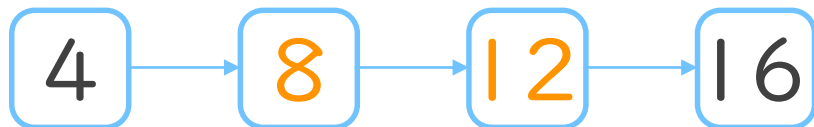
4のだんの九九



日にち： 月 日

名まえ _____

1. つぎの にあてはまる数を書こう



2. つぎのけいさんをしましょう

① $4 \times 7 = 28$

② $4 \times 6 = 24$

③ $4 \times 2 = 8$

④ $4 \times 5 = 20$

⑤ $4 \times 3 = 12$




かけ算 6

4のだんの九九


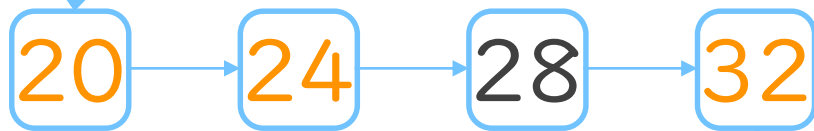
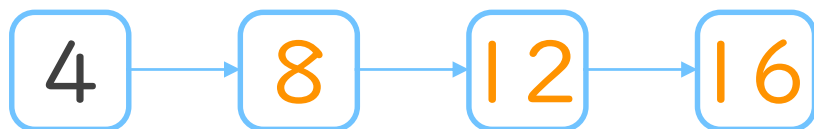


日にち： 月 日

名まえ _____



1. つぎの にあてはまる数を書こう



2. つぎのけいさんをしましょう


① $4 \times 8 = 32$

② $4 \times 2 = 8$

③ $4 \times 5 = 20$

④ $4 \times 6 = 24$

⑤ $4 \times 9 = 36$




かけ算 6

4のだんの九九


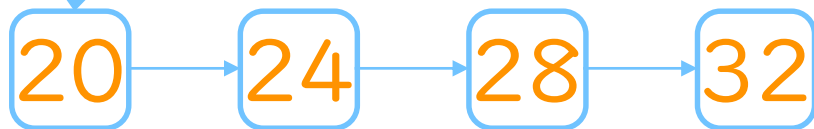
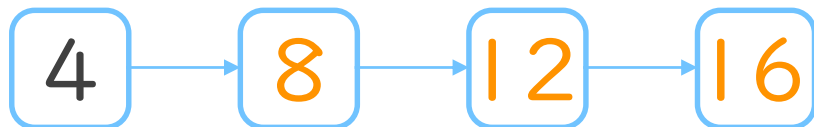


日にち： 月 日

名まえ _____



1. つぎの にあてはまる数を書こう



2. つぎのけいさんをしましょう

① $4 \times 3 = 12$

② $4 \times 8 = 32$

③ $4 \times 4 = 16$

④ $4 \times 7 = 28$

⑤ $4 \times 2 = 8$