



かけ算 6










4のだんの九九



(うすい字はなぞりましょう。)

日にち： 月 日

名まえ _____

クローバーのはは何まい？	しきをかきましょう。	となえ方
	→ し 4 × いち 1 = が し 4	しいちがし
	し 4 × に 2 = が はち 8	しにがはち
	4 × 3 =	しさんじゅうに
	4 × 4 =	ししじゅうろく
	4 × 5 =	しごにじゅう
	4 × 6 =	しろくにじゅうし
	4 × 7 =	ししちにじゅうはち
	4 × 8 =	しはさんじゅうに
	4 × 9 =	しくさんじゅうろく



かけ算 6










4のだんの九九



(うすい字はなぞりましょう。)

日にち： 月 日

名まえ _____

クローバーのはは何まい？	しきをかきましょう。	となえ方
	→ 4 × 1 = 4	しいちがし
	4 × 2 =	しにがはち
		しさんじゅうに
		ししじゅうろく
		しごにじゅう
		しろくにじゅうし
		ししちにじゅうはち
		しはさんじゅうに
		しくさんじゅうろく



かけ算 6

4のだんの九九



(うすい字はなぞりましょう。)

日にち： 月 日

名まえ _____

ぜんぶでいくつでしょう？								しきをかきましょう。			となえ方				
4								→	4	×	1	=	4	しいちがし	
4	4								4	×	2	=		しにがはち	
4	4	4							4	×	3	=		しさんじゅうに	
4	4	4	4						4	×	4	=		ししじゅうろく	
4	4	4	4	4					4	×	5	=		しごにじゅう	
4	4	4	4	4	4				4	×	6	=		しろくにじゅうし	
4	4	4	4	4	4	4			4	×	7	=		ししちにじゅうはち	
4	4	4	4	4	4	4	4		4	×	8	=		しはさんじゅうに	
4	4	4	4	4	4	4	4	4		4	×	9	=		しくさんじゅうろく



かけ算 6

4のだんの九九



(うすい字はなぞりましょう。)

日にち： 月 日

名まえ _____

ぜんぶでいくつでしょう？								しきをかきましょう。		となえ方	
4								→	$4 \times 1 = 4$	しいちがし	
4	4								$4 \times 2 =$	しにがはち	
4	4	4								しさんじゅうに	
4	4	4	4							ししじゅうろく	
4	4	4	4	4						しごにじゅう	
4	4	4	4	4	4					しろくにじゅうし	
4	4	4	4	4	4	4				ししちにじゅうはち	
4	4	4	4	4	4	4	4			しはさんじゅうに	
4	4	4	4	4	4	4	4	4			しくさんじゅうろく



かけ算 6

4のだんの九九



(うすい字はなぞりましょう。)

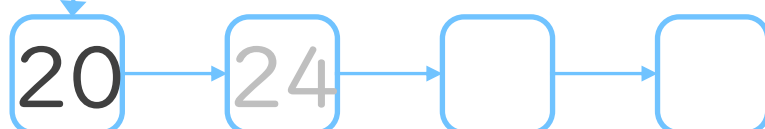
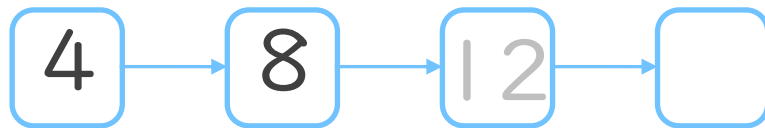
日にち： 月 日

名まえ _____

1. 九九を声に出して読みながらしきを書こう。

しいちがし	→	し	×	いち	=	に
		4		1		4
しにがはち		し	×	に	=	はち
		4		2		8
しさんじゅうに		4	×	3	=	
ししじゅうろく		4	×	4	=	
しごにじゅう		4	×	5	=	
しろくにじゅうし		4	×	6	=	
ししちにじゅうはち		4	×	7	=	
しはさんじゅうに		4	×	8	=	
しくさんじゅうろく		4	×	9	=	

2. つぎの にあてはまる数を書こう。



36





かけ算 6

4のだんの九九



(うすい字はなぞりましょう。)

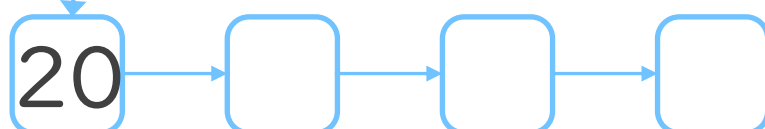
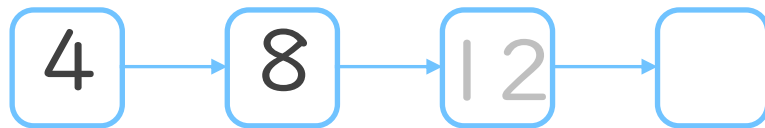
日にち： 月 日

名まえ _____

1. 九九を声に出して読みながらしきを書こう。

しいちがし	→ $4 \times 1 = 4$
しにがはち	$4 \times 2 =$
しさんじゅうに	
ししじゅうろく	
しごにじゅう	
しろくにじゅうし	
ししちにじゅうはち	
しはさんじゅうに	
しくさんじゅうろく	

2. つぎの にあてはまる数を書こう。





かけ算 6

4のだんの九九



(うすい字はなぞりましょう。)

日にち： 月 日

名まえ _____

1. 九九を声に出して読みながらしきを書こう。

しいちがし	→ 4 × 1 =
しにがはち	
しさんじゅうに	
ししじゅうろく	
しごにじゅう	
しろくにじゅうし	
ししちにじゅうはち	
しはさんじゅうに	
しくさんじゅうろく	

2. つぎの計算をしましょう。

① $4 \times 1 =$

② $4 \times 3 =$

③ $4 \times 5 =$

④ $4 \times 7 =$

3. 4×3 は 4×2 よりもいくつ大きいですか。

答え： _____



かけ算 6

4のだんの九九



日にち： 月 日

名まえ _____

1. 九九を声に出して読みながらしきを書こう。

しいちがし



しにがはち

しさんじゅうに

ししじゅうろく

しごにじゅう

しろくにじゅうし

ししちにじゅうはち

しはさんじゅうに

しくさんじゅうろく

2. つぎの計算をしましょう。

① $4 \times 2 =$

② $4 \times 4 =$

③ $4 \times 6 =$

④ $4 \times 8 =$

3. 4×5 は 4×4 よりもいくつ大きいですか。

答え： _____



かけ算 6

4のだんの九九



日にち： 月 日

名まえ _____

1. 九九を声に出して読みながらしきを書こう。

しいちがし



しにがはち

しさんじゅうに

ししじゅうろく

しごにじゅう

しろくにじゅうし

ししちにじゅうはち

しはさんじゅうに

しくさんじゅうろく

2. つぎの計算をしましょう。

① $4 \times 3 =$

② $4 \times 6 =$

③ $4 \times 2 =$

④ $4 \times 9 =$

3. 4×8 は 4×7 よりもいくつ大きいですか。

答え： _____



かけ算 6


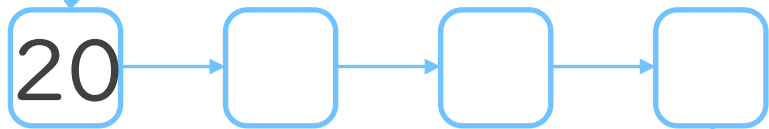
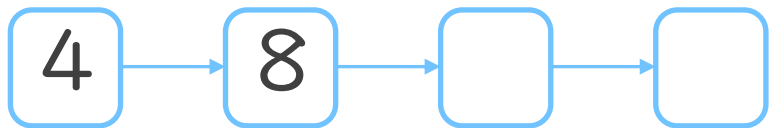
4のだんの九九



日にち： 月 日

名まえ _____

1. つぎの にあてはまる数を書こう。



2. つぎの計算をしましょう。

① $4 \times 5 =$

② $4 \times 7 =$

③ $4 \times 3 =$

④ $4 \times 9 =$

⑤ $4 \times 4 =$



かけ算 6



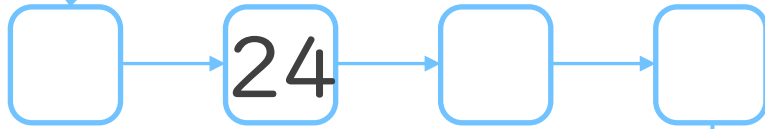
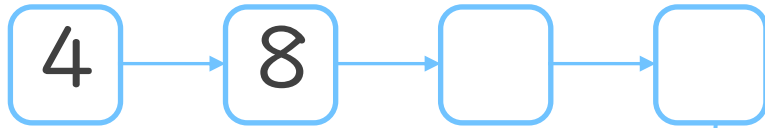
4のだんの九九



日にち： 月 日

名まえ _____

1. つぎの にあてはまる数を書こう。



2. つぎの計算をしましょう。

① $4 \times 8 =$

② $4 \times 2 =$

③ $4 \times 5 =$

④ $4 \times 7 =$

⑤ $4 \times 6 =$



かけ算 6



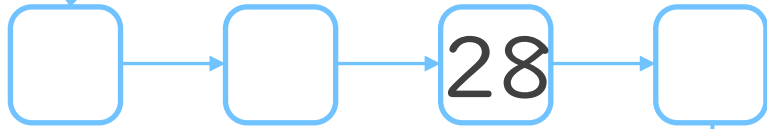
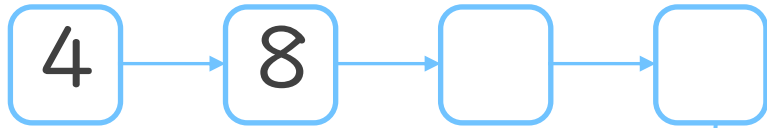
4のだんの九九



日にち： 月 日

名まえ _____

1. つぎの にあてはまる数を書こう。



2. つぎの計算をしましょう。

① $4 \times 4 =$

② $4 \times 9 =$

③ $4 \times 1 =$

④ $4 \times 3 =$

⑤ $4 \times 7 =$



かけ算 6


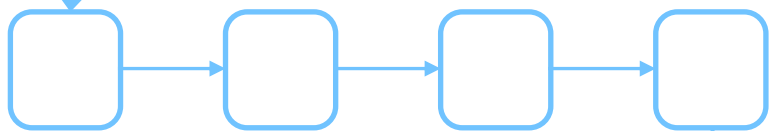
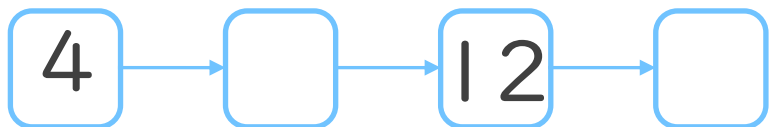
4のだんの九九



日にち： 月 日

名まえ _____

1. つぎの にあてはまる数を書こう。



2. つぎの計算をしましょう。

① $4 \times 2 =$

② $4 \times 5 =$

③ $4 \times 8 =$

④ $4 \times 9 =$

⑤ $4 \times 4 =$



かけ算 6


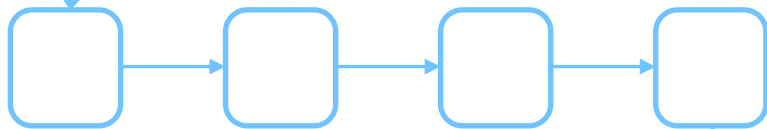
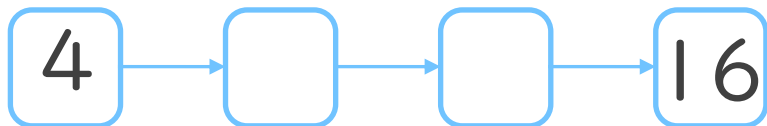
4のだんの九九



日にち： 月 日

名まえ _____

1. つぎの にあてはまる数を書こう。



2. つぎの計算をしましょう。

① $4 \times 7 =$

② $4 \times 6 =$

③ $4 \times 2 =$

④ $4 \times 5 =$

⑤ $4 \times 3 =$




かけ算 6

4のだんの九九



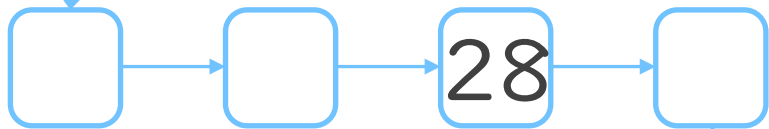
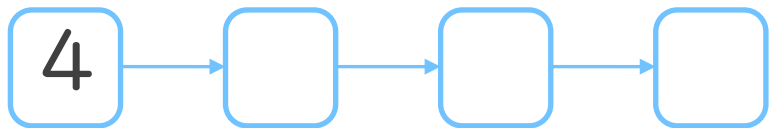


日にち： 月 日

名まえ _____



1. つぎの にあてはまる数を書こう。
(ぜんぶ せいかいで 50点)



2. つぎの計算をしましょう。
(1もん 10点ずつ)

① $4 \times 8 =$

② $4 \times 2 =$

③ $4 \times 5 =$

④ $4 \times 6 =$

⑤ $4 \times 9 =$




かけ算 6

4のだんの九九

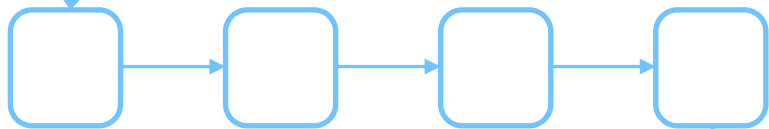
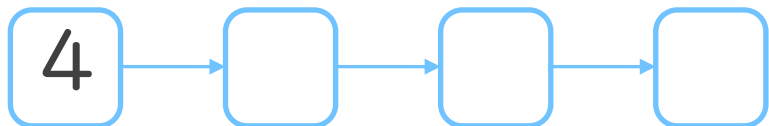


日にち： 月 日


名まえ _____



1. つぎの にあてはまる数を書こう。
(ぜんぶせいはいで50点)



36



2. つぎの計算をしましょう。
(1もん10点ずつ)

① $4 \times 3 =$

② $4 \times 8 =$

③ $4 \times 4 =$

④ $4 \times 7 =$

⑤ $4 \times 2 =$



かけ算 6










4のだんの九九



(うすい字はなぞりましょう。)

日にち： 月 日

名まえ _____

クローバーのはは何まい？	しきをかきましょう。	となえ方
	→ $4 \times 1 = 4$	しいちがし
	$4 \times 2 = 8$	しにがはち
	$4 \times 3 = 12$	しさんじゅうに
	$4 \times 4 = 16$	ししじゅうろく
	$4 \times 5 = 20$	しごにじゅう
	$4 \times 6 = 24$	しろくにじゅうし
	$4 \times 7 = 28$	ししちにじゅうはち
	$4 \times 8 = 32$	しはさんじゅうに
	$4 \times 9 = 36$	しくさんじゅうろく



かけ算 6










4のだんの九九



(うすい字はなぞりましょう。)

日にち： 月 日

名まえ _____

クローバーのはは何まい？	しきをかきましょう。	となえ方
	→ $4 \times 1 = 4$	しいちがし
	$4 \times 2 = 8$	しにがはち
	$4 \times 3 = 12$	しさんじゅうに
	$4 \times 4 = 16$	ししじゅうろく
	$4 \times 5 = 20$	しごにじゅう
	$4 \times 6 = 24$	しろくにじゅうし
	$4 \times 7 = 28$	ししちにじゅうはち
	$4 \times 8 = 32$	しはさんじゅうに
	$4 \times 9 = 36$	しくさんじゅうろく



かけ算 6

4のだんの九九



(うすい字はなぞりましょう。)

日にち： 月 日

名まえ _____

ぜんぶでいくつでしょう？								しきをかきましょう。			となえ方				
4								→	4	×	1	=	4	しいちがし	
4	4								4	×	2	=	8	しにがはち	
4	4	4							4	×	3	=	12	しさんじゅうに	
4	4	4	4						4	×	4	=	16	ししじゅうろく	
4	4	4	4	4					4	×	5	=	20	しごにじゅう	
4	4	4	4	4	4				4	×	6	=	24	しろくにじゅうし	
4	4	4	4	4	4	4			4	×	7	=	28	ししちにじゅうはち	
4	4	4	4	4	4	4	4		4	×	8	=	32	しはさんじゅうに	
4	4	4	4	4	4	4	4	4		4	×	9	=	36	しくさんじゅうろく



かけ算 6

4のだんの九九



(うすい字はなぞりましょう。)

日にち： 月 日

名まえ _____

ぜんぶでいくつでしょう？								しきをかきましょう。			となえ方				
4								→	4	×	1	=	4	しいちがし	
4	4								4	×	2	=	8	しにがはち	
4	4	4							4	×	3	=	12	しさんじゅうに	
4	4	4	4						4	×	4	=	16	ししじゅうろく	
4	4	4	4	4					4	×	5	=	20	しごにじゅう	
4	4	4	4	4	4				4	×	6	=	24	しろくにじゅうし	
4	4	4	4	4	4	4			4	×	7	=	28	ししちにじゅうはち	
4	4	4	4	4	4	4	4		4	×	8	=	32	しはさんじゅうに	
4	4	4	4	4	4	4	4	4		4	×	9	=	36	しくさんじゅうろく



かけ算 6

4のだんの九九



(うすい字はなぞりましょう。)

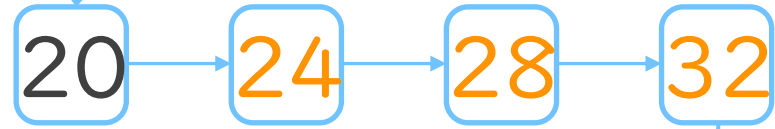
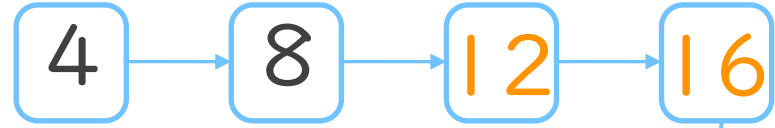
日にち： 月 日

名まえ _____

1. 九九を声に出して読みながらしきを書こう。

しいちがし	→	し	×	いち	=	に
		4		1		4
しにがはち		し	×	に	=	はち
		4		2		8
しさんじゅうに		し	×	さん	=	じゅうに
		4		3		12
ししじゅうろく		し	×	し	=	じゅうろく
		4		4		16
しごにじゅう		し	×	ご	=	じゅう
		4		5		20
しろくにじゅうし		し	×	ろく	=	じゅうし
		4		6		24
ししちにじゅうはち		し	×	しち	=	じゅうはち
		4		7		28
しはさんじゅうに		し	×	さん	=	じゅうに
		4		8		32
しくさんじゅうろく		し	×	さん	=	じゅうろく
		4		9		36

2. つぎの にあてはまる数を書こう。



36





かけ算 6

4のだんの九九



(うすい字はなぞりましょう。)

日にち： 月 日

名まえ _____

1. 九九を声に出して読みながらしきを書こう。

しいちがし → $4 \times 1 = 4$

しにがはち $4 \times 2 = 8$

しさんじゅうに $4 \times 3 = 12$

ししじゅうろく $4 \times 4 = 16$

しごにじゅう $4 \times 5 = 20$

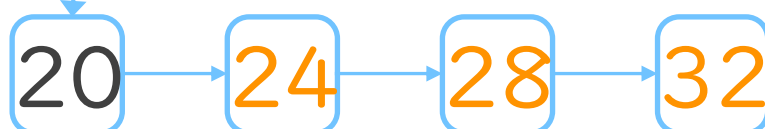
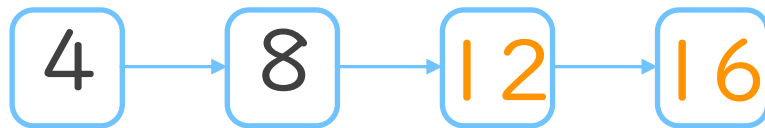
しろくにじゅうし $4 \times 6 = 24$

ししちにじゅうはち $4 \times 7 = 28$

しはさんじゅうに $4 \times 8 = 32$

しくさんじゅうろく $4 \times 9 = 36$

2. つぎの にあてはまる数を書こう。





かけ算 6

4のだんの九九



(うすい字はなぞりましょう。)

日にち： 月 日

名まえ _____

1. 九九を声に出して読みながらしきを書こう。

しいちがし	→ $4 \times 1 = 4$
しにがはち	$4 \times 2 = 8$
しさんじゅうに	$4 \times 3 = 12$
ししじゅうろく	$4 \times 4 = 16$
しごにじゅう	$4 \times 5 = 20$
しろくにじゅうし	$4 \times 6 = 24$
ししちにじゅうはち	$4 \times 7 = 28$
しはさんじゅうに	$4 \times 8 = 32$
しくさんじゅうろく	$4 \times 9 = 36$

2. つぎの計算をしましょう。

① $4 \times 1 = 4$

② $4 \times 3 = 12$

③ $4 \times 5 = 20$

④ $4 \times 7 = 28$

3. 4×3 は 4×2 よりもいくつ大きいですか。

答え： 4



かけ算 6

4のだんの九九



日にち： 月 日

名まえ _____

1. 九九を声に出して読みながらしきを書こう。

しいちがし	→ $4 \times 1 = 4$
しにがはち	$4 \times 2 = 8$
しさんじゅうに	$4 \times 3 = 12$
ししじゅうろく	$4 \times 4 = 16$
しごにじゅう	$4 \times 5 = 20$
しろくにじゅうし	$4 \times 6 = 24$
ししちにじゅうはち	$4 \times 7 = 28$
しはさんじゅうに	$4 \times 8 = 32$
しくさんじゅうろく	$4 \times 9 = 36$

2. つぎの計算をしましょう。

① $4 \times 2 = 8$

② $4 \times 4 = 16$

③ $4 \times 6 = 24$

④ $4 \times 8 = 32$

3. 4×5 は 4×4 よりもいくつ大きいですか。

答え： 4



かけ算 6

4のだんの九九



日にち： 月 日

名まえ _____

1. 九九を声に出して読みながらしきを書こう。

しいちがし	$4 \times 1 = 4$
しにがはち	$4 \times 2 = 8$
しさんじゅうに	$4 \times 3 = 12$
ししじゅうろく	$4 \times 4 = 16$
しごにじゅう	$4 \times 5 = 20$
しろくにじゅうし	$4 \times 6 = 24$
ししちにじゅうはち	$4 \times 7 = 28$
しはさんじゅうに	$4 \times 8 = 32$
しくさんじゅうろく	$4 \times 9 = 36$

2. つぎの計算をしましょう。

① $4 \times 3 = 12$

② $4 \times 6 = 24$

③ $4 \times 2 = 8$

④ $4 \times 9 = 36$

3. 4×8 は 4×7 よりもいくつ大きいですか。

答え： 4



かけ算 6

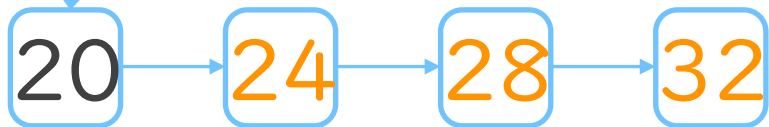
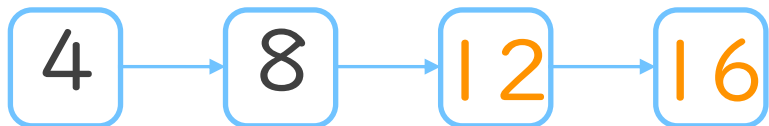
4のだんの九九




日にち： 月 日

名まえ _____

1. つぎの にあてはまる数を書こう。



36



2. つぎの計算をしましょう。

① $4 \times 5 = 20$

② $4 \times 7 = 28$

③ $4 \times 3 = 12$

④ $4 \times 9 = 36$

⑤ $4 \times 4 = 16$



かけ算 6

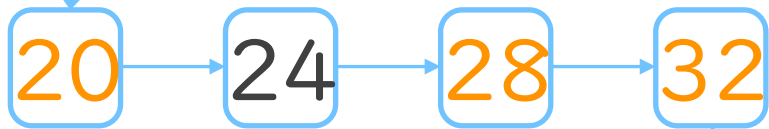
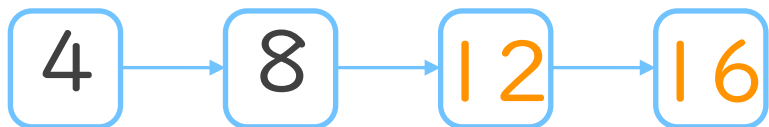
4のだんの九九




日にち： 月 日

名まえ _____

1. つぎの にあてはまる数を書こう。



36



2. つぎの計算をしましょう。

① $4 \times 8 = 32$

② $4 \times 2 = 8$

③ $4 \times 5 = 20$

④ $4 \times 7 = 28$

⑤ $4 \times 6 = 24$



かけ算 6

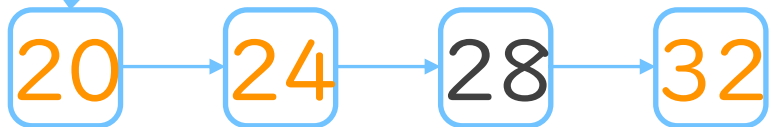
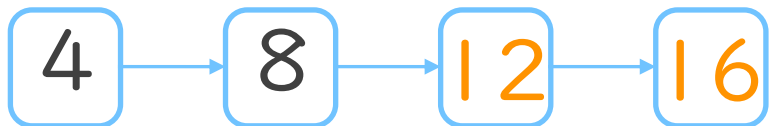
4のだんの九九




日にち： 月 日

名まえ _____

1. つぎの にあてはまる数を書こう。



36



2. つぎの計算をしましょう。

① $4 \times 4 = 16$

② $4 \times 9 = 36$

③ $4 \times 1 = 4$

④ $4 \times 3 = 12$

⑤ $4 \times 7 = 28$



かけ算 6

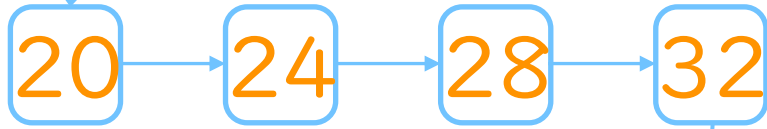
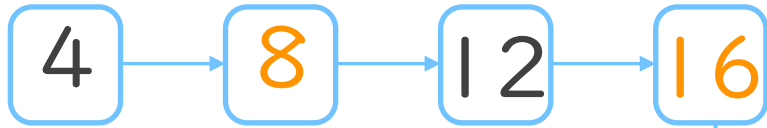
4のだんの九九




日にち： 月 日

名まえ _____

1. つぎの にあてはまる数を書こう。



36



2. つぎの計算をしましょう。

① $4 \times 2 = 8$

② $4 \times 5 = 20$

③ $4 \times 8 = 32$

④ $4 \times 9 = 36$

⑤ $4 \times 4 = 16$



かけ算 6

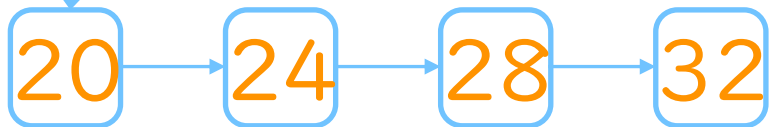
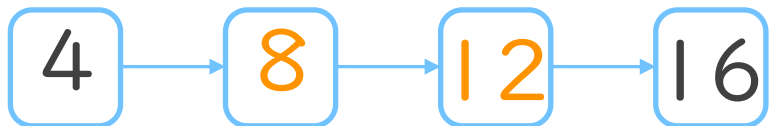
4のだんの九九




日にち： 月 日

名まえ _____

1. つぎの にあてはまる数を書こう。



36



2. つぎの計算をしましょう。

① $4 \times 7 = 28$

② $4 \times 6 = 24$

③ $4 \times 2 = 8$

④ $4 \times 5 = 20$

⑤ $4 \times 3 = 12$




かけ算 6

4のだんの九九

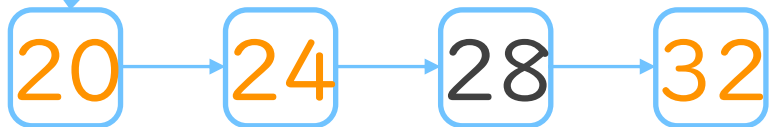
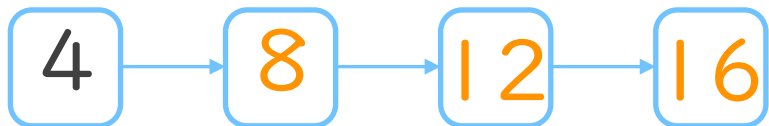


日にち： 月 日


名まえ _____



1. つぎの にあてはまる数を書こう。
(ぜんぶせいはいで50点)



36



2. つぎの計算をしましょう。
(1もん10点ずつ)

① $4 \times 8 = 32$

② $4 \times 2 = 8$

③ $4 \times 5 = 20$

④ $4 \times 6 = 24$

⑤ $4 \times 9 = 36$




かけ算 6

4のだんの九九

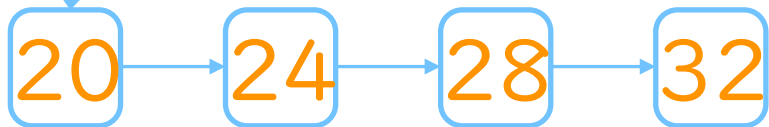
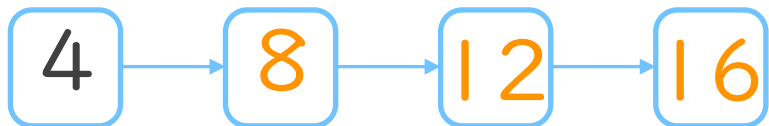


日にち： 月 日


名まえ _____



1. つぎの にあてはまる数を書こう。
(ぜんぶせいかいで50点)



36



2. つぎの計算をしましょう。
(1もん10点ずつ)

① $4 \times 3 = 12$

② $4 \times 8 = 32$

③ $4 \times 4 = 16$

④ $4 \times 7 = 28$

⑤ $4 \times 2 = 8$