



# かけ算 8

## 6のだんの九九



(うすい字はなぞりましょう。)

日にち： 月 日

名まえ \_\_\_\_\_

さいころのめはぜんぶでいくつ？	しきをかきましょう。	となえ方
	ろく × いち が ろく 6 × 1 = 6	ろくいちがろく
	ろく × に じゅうに 6 × 2 = 12	ろくにじゅうに
	6 × 3 =	ろくさんじゅうはち
	6 × 4 =	ろくしにじゅうし
	6 × 5 =	ろくごさんじゅう
	6 × 6 =	ろくろくさんじゅうろく
	6 × 7 =	ろくしちしじゅうに
	6 × 8 =	ろくはしじゅうはち
	6 × 9 =	ろっくごじゅうし



# かけ算 8

6のだんの九九



(うすい字はなぞりましょう。)

日にち： 月 日

名まえ \_\_\_\_\_

さいころのめはぜんぶでいくつ？	しきをかきましょう。	となえ方
	→ $6 \times 1 = 6$	ろくいちがろく
	$6 \times 2 =$	ろくにじゅうに
		ろくさんじゅうはち
		ろくしにじゅうし
		ろくごさんじゅう
		ろくろくさんじゅうろく
		ろくしちしじゅうに
		ろくはしじゅうはち
		ろっくごじゅうし



# かけ算 8

6のだんの九九



(うすい字はなぞりましょう。)

日にち： 月 日

名まえ \_\_\_\_\_

ぜんぶでいくつでしょう？									しきをかきましょう。			となえ方			
6									→	6	×	1	=	6	ろくいちがろく
6	6									6	×	2	=	12	ろくにじゅうに
6	6	6								6	×	3	=		ろくさんじゅうはち
6	6	6	6							6	×	4	=		ろくしにじゅうし
6	6	6	6	6						6	×	5	=		ろくごさんじゅう
6	6	6	6	6	6					6	×	6	=		ろくろくさんじゅうろく
6	6	6	6	6	6	6				6	×	7	=		ろくしちしじゅうに
6	6	6	6	6	6	6	6			6	×	8	=		ろくはしじゅうはち
6	6	6	6	6	6	6	6	6		6	×	9	=		ろっくごじゅうし



# かけ算 8

6のだんの九九



(うすい字はなぞりましょう。)

日にち： 月 日

名まえ \_\_\_\_\_

ぜんぶでいくつでしょう？									しきをかきましょう。			となえ方			
6									→	6	×	1	=	6	ろくいちがろく
6	6									6	×	2	=		ろくにじゅうに
6	6	6													ろくさんじゅうはち
6	6	6	6												ろくしにじゅうし
6	6	6	6	6											ろくごさんじゅう
6	6	6	6	6	6										ろくろくさんじゅうろく
6	6	6	6	6	6	6									ろくしちしじゅうに
6	6	6	6	6	6	6	6								ろくはしじゅうはち
6	6	6	6	6	6	6	6	6							ろっくごじゅうし



# かけ算 8

6のだんの九九



(うすい字はなぞりましょう。)

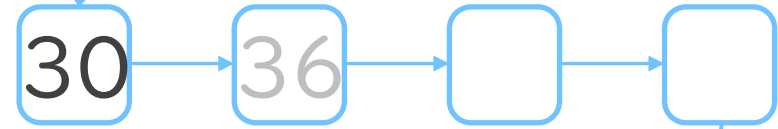
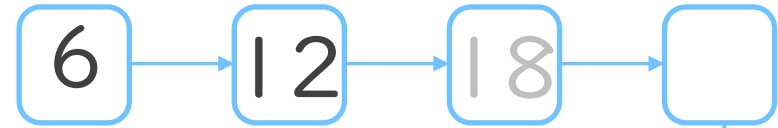
日にち： 月 日

名まえ \_\_\_\_\_

1. 九九を声に出して読みながらしきを書こう。

ろくいちがろく	ろく	×	いち	=	ろく
ろくにじゅうに	ろく	×	に	=	じゅうに
ろくさんじゅうはち	ろく	×	さん	=	
ろくしにじゅうし	ろく	×	し	=	
ろくごさんじゅう	ろく	×	ごさん	=	
ろくろくさんじゅうろく	ろく	×	さん	=	
ろくしちしじゅうに	ろく	×	しち	=	
ろくはしじゅうはち	ろく	×	はし	=	
ろっくごじゅうし	ろく	×	ご	=	

2. つぎの  にあてはまる数を書こう。



54





# かけ算 8

6のだんの九九



(うすい字はなぞりましょう。)

日にち： 月 日

名まえ \_\_\_\_\_

1. 九九を声に出して読みながらしきを書こう。

ろくいちがろく



$6 \times 1 = 6$

ろくにじゅうに

$6 \times 2 =$

ろくさんじゅうはち

ろくしにじゅうし

ろくごさんじゅう

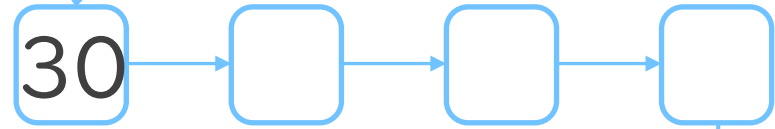
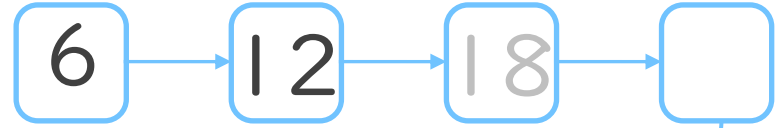
ろくろくさんじゅうろく

ろくしちしじゅうに

ろくはしじゅうはち

ろっくごじゅうし

2. つぎの  にあてはまる数を書こう。



54





# かけ算 8

6のだんの九九



(うすい字はなぞりましょう。)

日にち：      月      日

名まえ \_\_\_\_\_

1. 九九を声に出して読みながらしきを書こう。

ろくいちがろく	→ 6 × 1 =
ろくにじゅうに	
ろくさんじゅうはち	
ろくしにじゅうし	
ろくごさんじゅう	
ろくろくさんじゅうろく	
ろくしちしじゅうに	
ろくはしじゅうはち	
ろっくごじゅうし	

2. つぎの計算をしましょう。

① 6 × 1 =

② 6 × 3 =

③ 6 × 5 =

④ 6 × 7 =

3. 6 × 2は 6 × 1よりもいくつ大きいですか。

答え： \_\_\_\_\_



# かけ算 8

6のだんの九九



日にち：      月      日

名まえ \_\_\_\_\_

1. 九九を声に出して読みながらしきを書こう。

ろくいちがろく



ろくにじゅうに

ろくさんじゅうはち

ろくしにじゅうし

ろくごさんじゅう

ろくろくさんじゅうろく

ろくしちしじゅうに

ろくはしじゅうはち

ろっくごじゅうし

2. つぎの計算をしましょう。

①  $6 \times 2 =$

②  $6 \times 4 =$

③  $6 \times 6 =$

④  $6 \times 8 =$

3.  $6 \times 4$ は  $6 \times 3$ よりもいくつ大きいですか。

答え： \_\_\_\_\_







# かけ算 8

6のだんの九九



日にち：      月      日

名まえ \_\_\_\_\_

1. 九九を声に出して読みながらしきを書こう。

ろくいちがろく



ろくにじゅうに

ろくさんじゅうはち

ろくしにじゅうし

ろくごさんじゅう

ろくろくさんじゅうろく

ろくしちしじゅうに

ろくはしじゅうはち

ろっくごじゅうし

2. つぎの計算をしましょう。

①  $6 \times 3 =$

②  $6 \times 6 =$

③  $6 \times 2 =$

④  $6 \times 9 =$

3.  $6 \times 9$ は  $6 \times 8$ よりもいくつ大きいですか。

答え： \_\_\_\_\_





# かけ算 8



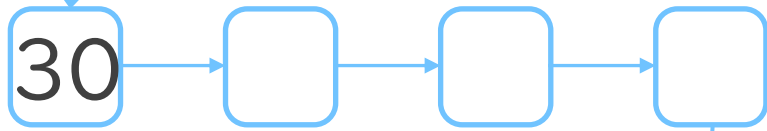
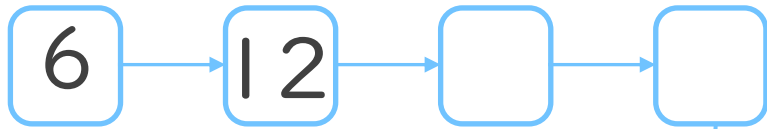
6のだんの九九



日にち：      月      日

名まえ \_\_\_\_\_

1. つぎの  にあてはまる数を書こう。



2. つぎの計算をしましょう。

①  $6 \times 5 =$

②  $6 \times 7 =$

③  $6 \times 3 =$

④  $6 \times 9 =$

⑤  $6 \times 4 =$



# かけ算 8


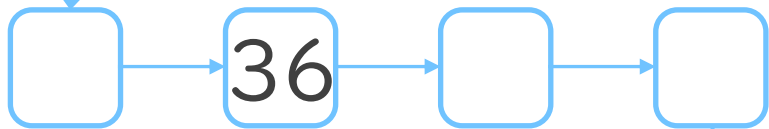
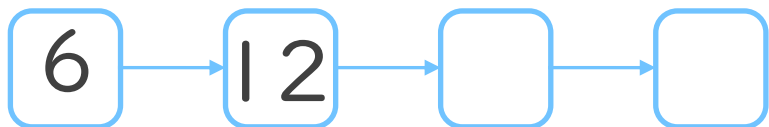
6のだんの九九



日にち：      月      日

名まえ \_\_\_\_\_

1. つぎの  にあてはまる数を書こう。



2. つぎの計算をしましょう。

①  $6 \times 8 =$

②  $6 \times 2 =$

③  $6 \times 5 =$

④  $6 \times 7 =$

⑤  $6 \times 6 =$





# かけ算 8



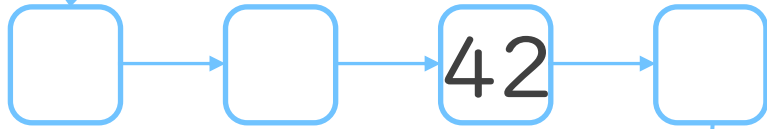
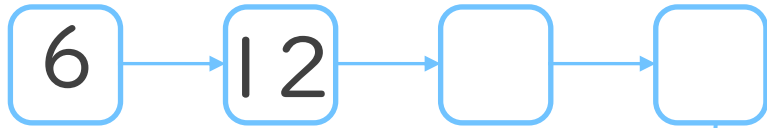
6のだんの九九



日にち：      月      日

名まえ \_\_\_\_\_

1. つぎの  にあてはまる数を書こう。



2. つぎの計算をしましょう。

①  $6 \times 4 =$

②  $6 \times 9 =$

③  $6 \times 1 =$

④  $6 \times 3 =$

⑤  $6 \times 7 =$



# かけ算 8



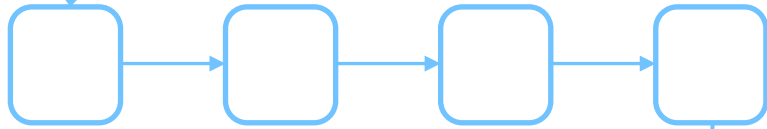
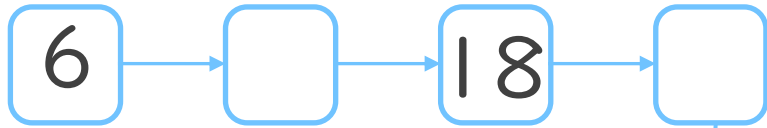
6のだんの九九



日にち：      月      日

名まえ \_\_\_\_\_

1. つぎの  にあてはまる数を書こう。



2. つぎの計算をしましょう。

①  $6 \times 2 =$

②  $6 \times 5 =$

③  $6 \times 8 =$

④  $6 \times 9 =$

⑤  $6 \times 4 =$



# かけ算 8



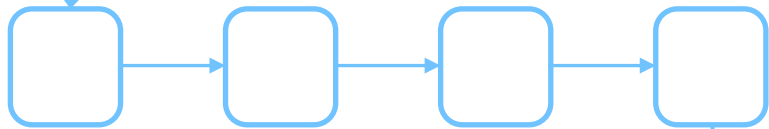
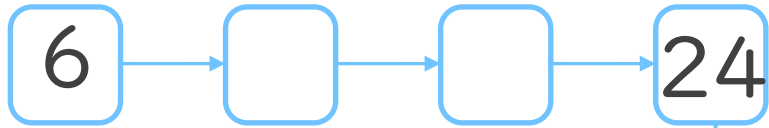
6のだんの九九



日にち：      月      日

名まえ \_\_\_\_\_

1. つぎの  にあてはまる数を書こう。



2. つぎの計算をしましょう。

①  $6 \times 7 =$

②  $6 \times 6 =$

③  $6 \times 2 =$

④  $6 \times 5 =$

⑤  $6 \times 3 =$



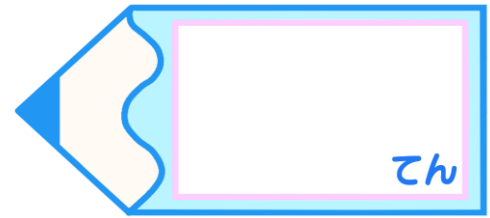
# かけ算 8

6のだんの九九



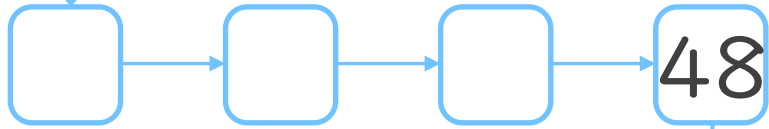
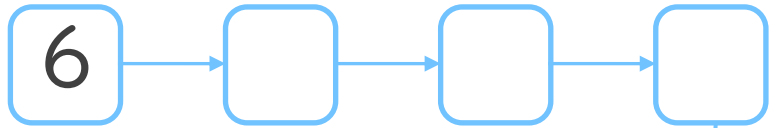
15

日にち：            月            日

名まえ \_\_\_\_\_



1. つぎの  にあてはまる数を書こう。  
(ぜんぶ せいかいで 50点)



2. つぎの計算をしましょう。  
(1もん 10点ずつ)

①  $6 \times 8 =$

②  $6 \times 2 =$

③  $6 \times 5 =$

④  $6 \times 6 =$

⑤  $6 \times 9 =$



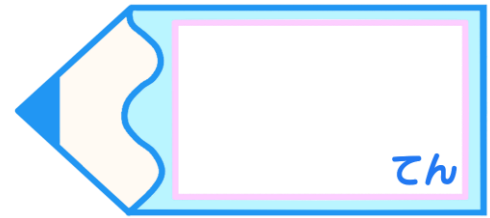
# かけ算 8

6のだんの九九

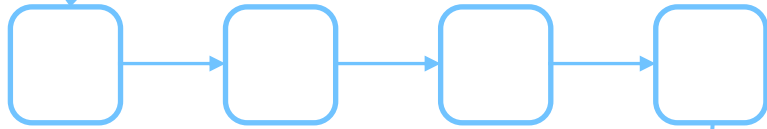
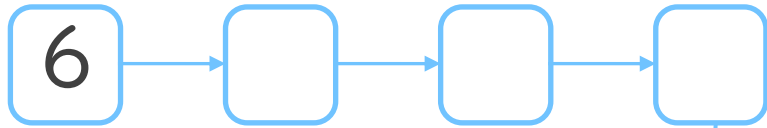


日にち：          月          日


名まえ \_\_\_\_\_



1. つぎの  にあてはまる数を書こう。  
(ぜんぶ せいかいで 50点)



54



2. つぎの計算をしましょう。  
(1もん 10点ずつ)

①  $6 \times 3 =$

②  $6 \times 8 =$

③  $6 \times 4 =$

④  $6 \times 7 =$

⑤  $6 \times 2 =$





# かけ算 8

## 6のだんの九九



(うすい字はなぞりましょう。)

日にち： 月 日

名まえ \_\_\_\_\_

さいころのめはぜんぶでいくつ？	しきをかきましょう。	となえ方
	ろく × いち が ろく 6 × 1 = 6	ろくいちがろく
	ろく × に じゅうに 6 × 2 = 12	ろくにじゅうに
	6 × 3 = 18	ろくさんじゅうはち
	6 × 4 = 24	ろくしにじゅうし
	6 × 5 = 30	ろくごさんじゅう
	6 × 6 = 36	ろくろくさんじゅうろく
	6 × 7 = 42	ろくしちしじゅうに
	6 × 8 = 48	ろくはしじゅうはち
	6 × 9 = 54	ろっくごじゅうし



# かけ算 8

6のだんの九九



(うすい字はなぞりましょう。)

日にち： 月 日

名まえ \_\_\_\_\_

さいころのめはぜんぶでいくつ？	しきをかきましょう。	となえ方
	→ $6 \times 1 = 6$	ろくいちがろく
	$6 \times 2 = 12$	ろくにじゅうに
	$6 \times 3 = 18$	ろくさんじゅうはち
	$6 \times 4 = 24$	ろくしにじゅうし
	$6 \times 5 = 30$	ろくごさんじゅう
	$6 \times 6 = 36$	ろくろくさんじゅうろく
	$6 \times 7 = 42$	ろくしちしじゅうに
	$6 \times 8 = 48$	ろくはしじゅうはち
	$6 \times 9 = 54$	ろっくごじゅうし



# かけ算 8

6のだんの九九



(うすい字はなぞりましょう。)

日にち： 月 日

名まえ \_\_\_\_\_

ぜんぶでいくつでしょう？									しきをかきましょう。			となえ方			
6									→	6	×	1	=	6	ろくいちがろく
6	6									6	×	2	=	12	ろくにじゅうに
6	6	6								6	×	3	=	18	ろくさんじゅうはち
6	6	6	6							6	×	4	=	24	ろくしにじゅうし
6	6	6	6	6						6	×	5	=	30	ろくごさんじゅう
6	6	6	6	6	6					6	×	6	=	36	ろくろくさんじゅうろく
6	6	6	6	6	6	6				6	×	7	=	42	ろくしちしじゅうに
6	6	6	6	6	6	6	6			6	×	8	=	48	ろくはしじゅうはち
6	6	6	6	6	6	6	6	6		6	×	9	=	54	ろっくごじゅうし



# かけ算 8

6のだんの九九



(うすい字はなぞりましょう。)

日にち： 月 日

名まえ \_\_\_\_\_

ぜんぶでいくつでしょう？									しきをかきましょう。			となえ方			
6									→	6	×	1	=	6	ろくいちがろく
6	6									6	×	2	=	12	ろくにじゅうに
6	6	6								6	×	3	=	18	ろくさんじゅうはち
6	6	6	6							6	×	4	=	24	ろくしにじゅうし
6	6	6	6	6						6	×	5	=	30	ろくごさんじゅう
6	6	6	6	6	6					6	×	6	=	36	ろくろくさんじゅうろく
6	6	6	6	6	6	6				6	×	7	=	42	ろくしちしじゅうに
6	6	6	6	6	6	6	6			6	×	8	=	48	ろくはしじゅうはち
6	6	6	6	6	6	6	6	6		6	×	9	=	54	ろっくごじゅうし



# かけ算 8

6のだんの九九



(うすい字はなぞりましょう。)

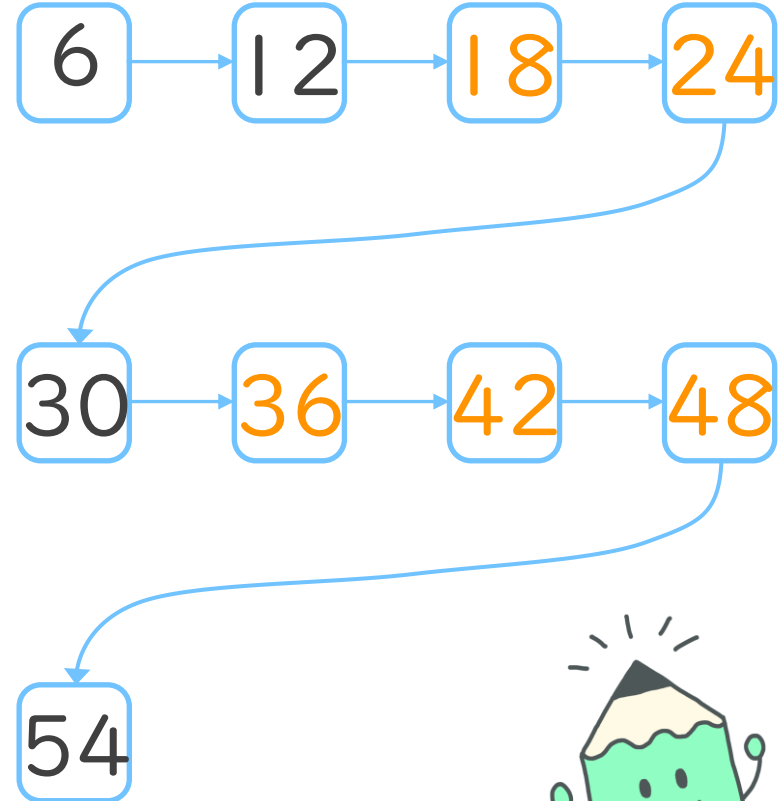
日にち：      月      日

名まえ \_\_\_\_\_

1. 九九を声に出して読みながらしきを書こう。

ろくいちがろく	→	ろく 6	×	いち 1	=	ろく 6
ろくにじゅうに		ろく 6	×	に 2	=	じゅうに 12
ろくさんじゅうはち		6	×	3	=	18
ろくしにじゅうし		6	×	4	=	24
ろくごさんじゅう		6	×	5	=	30
ろくろくさんじゅうろく		6	×	6	=	36
ろくしちしじゅうに		6	×	7	=	42
ろくはしじゅうはち		6	×	8	=	48
ろっくごじゅうし		6	×	9	=	54

2. つぎの  にあてはまる数を書こう。





# かけ算 8

6のだんの九九



(うすい字はなぞりましょう。)

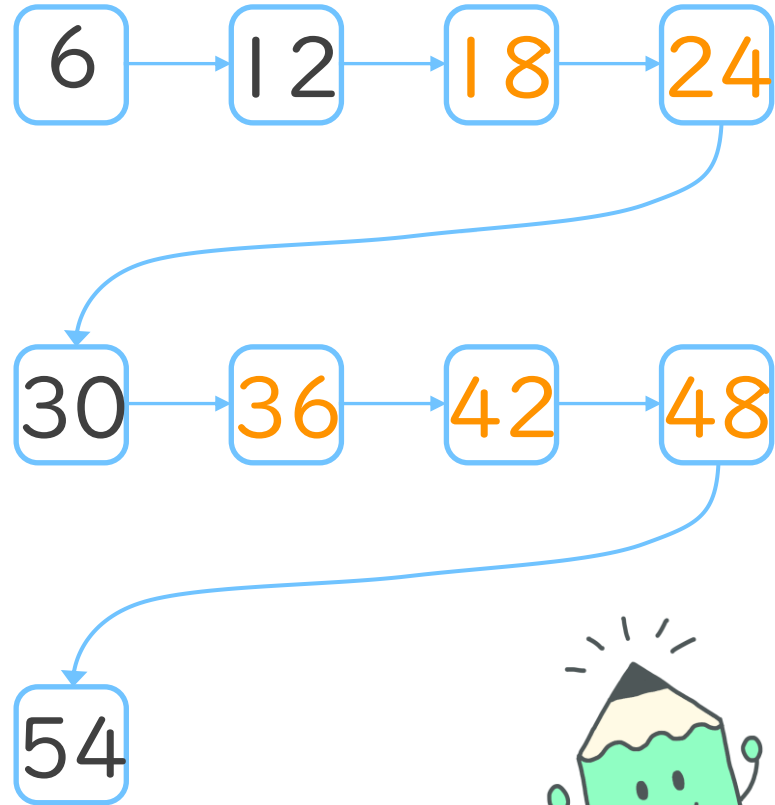
日にち： 月 日

名まえ \_\_\_\_\_

1. 九九を声に出して読みながらしきを書こう。

ろくいちがろく	→ $6 \times 1 = 6$
ろくにじゅうに	$6 \times 2 = 12$
ろくさんじゅうはち	$6 \times 3 = 18$
ろくしにじゅうし	$6 \times 4 = 24$
ろくごさんじゅう	$6 \times 5 = 30$
ろくろくさんじゅうろく	$6 \times 6 = 36$
ろくしちしじゅうに	$6 \times 7 = 42$
ろくはしじゅうはち	$6 \times 8 = 48$
ろっくごじゅうし	$6 \times 9 = 54$

2. つぎの  にあてはまる数を書こう。





# かけ算 8

6のだんの九九



(うすい字はなぞりましょう。)

日にち：      月      日

名まえ \_\_\_\_\_

1. 九九を声に出して読みながらしきを書こう。

ろくいちがろく	➡	$6 \times 1 = 6$
ろくにじゅうに		$6 \times 2 = 12$
ろくさんじゅうはち		$6 \times 3 = 18$
ろくしにじゅうし		$6 \times 4 = 24$
ろくごさんじゅう		$6 \times 5 = 30$
ろくろくさんじゅうろく		$6 \times 6 = 36$
ろくしちしじゅうに		$6 \times 7 = 42$
ろくはしじゅうはち		$6 \times 8 = 48$
ろっくごじゅうし		$6 \times 9 = 54$

2. つぎの計算をしましょう。

①  $6 \times 1 = 6$

②  $6 \times 3 = 18$

③  $6 \times 5 = 30$

④  $6 \times 7 = 42$

3.  $6 \times 2$ は  $6 \times 1$ よりもいくつ大きいですか。

答え：      6



# かけ算 8

6のだんの九九



日にち：      月      日

名まえ \_\_\_\_\_

1. 九九を声に出して読みながらしきを書こう。

ろくいちがろく	→ $6 \times 1 = 6$
ろくにじゅうに	$6 \times 2 = 12$
ろくさんじゅうはち	$6 \times 3 = 18$
ろくしにじゅうし	$6 \times 4 = 24$
ろくごさんじゅう	$6 \times 5 = 30$
ろくろくさんじゅうろく	$6 \times 6 = 36$
ろくしちしじゅうに	$6 \times 7 = 42$
ろくはしじゅうはち	$6 \times 8 = 48$
ろっくごじゅうし	$6 \times 9 = 54$

2. つぎの計算をしましょう。

①  $6 \times 2 = 12$

②  $6 \times 4 = 24$

③  $6 \times 6 = 36$

④  $6 \times 8 = 48$

3.  $6 \times 4$ は  $6 \times 3$ よりもいくつ大きいですか。

答え： 6





# かけ算 8

6のだんの九九



日にち：      月      日

名まえ \_\_\_\_\_

1. 九九を声に出して読みながらしきを書こう。

ろくいちがろく	→ $6 \times 1 = 6$
ろくにじゅうに	$6 \times 2 = 12$
ろくさんじゅうはち	$6 \times 3 = 18$
ろくしにじゅうし	$6 \times 4 = 24$
ろくごさんじゅう	$6 \times 5 = 30$
ろくろくさんじゅうろく	$6 \times 6 = 36$
ろくしちしじゅうに	$6 \times 7 = 42$
ろくはしじゅうはち	$6 \times 8 = 48$
ろっくごじゅうし	$6 \times 9 = 54$

2. つぎの計算をしましょう。

①  $6 \times 3 = 18$

②  $6 \times 6 = 36$

③  $6 \times 2 = 12$

④  $6 \times 9 = 54$

3.  $6 \times 9$ は  $6 \times 8$ よりもいくつ大きいですか。

答え： 6



# かけ算 8

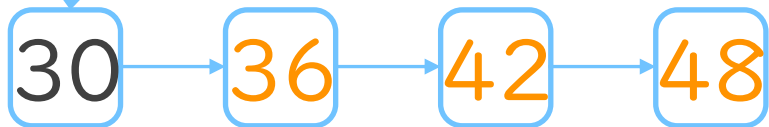
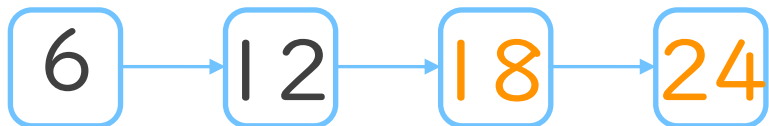
6のだんの九九




日にち：      月      日

名まえ \_\_\_\_\_

1. つぎの  にあてはまる数を書こう。



54



2. つぎの計算をしましょう。

①  $6 \times 5 = 30$

②  $6 \times 7 = 42$

③  $6 \times 3 = 18$

④  $6 \times 9 = 54$

⑤  $6 \times 4 = 24$





# かけ算 8

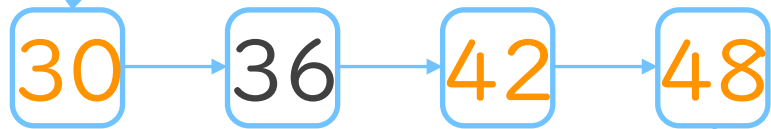
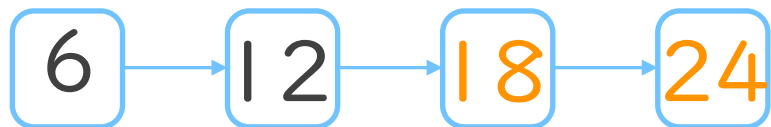
6のだんの九九




日にち：      月      日

名まえ \_\_\_\_\_

1. つぎの  にあてはまる数を書こう。



54



2. つぎの計算をしましょう。

①  $6 \times 8 = 48$

②  $6 \times 2 = 12$

③  $6 \times 5 = 30$

④  $6 \times 7 = 42$

⑤  $6 \times 6 = 36$



# かけ算 8

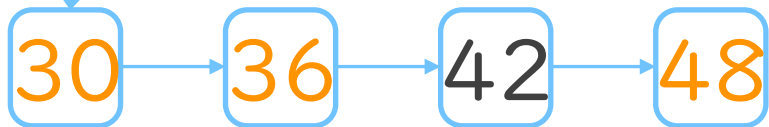
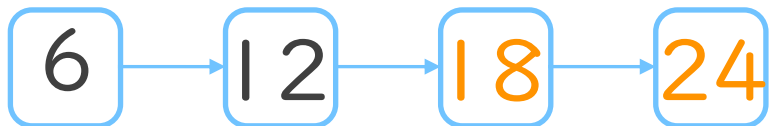
6のだんの九九




日にち：      月      日

名まえ \_\_\_\_\_

1. つぎの  にあてはまる数を書こう。



54



2. つぎの計算をしましょう。

①  $6 \times 4 = 24$

②  $6 \times 9 = 54$

③  $6 \times 1 = 6$

④  $6 \times 3 = 18$

⑤  $6 \times 7 = 42$





# かけ算 8


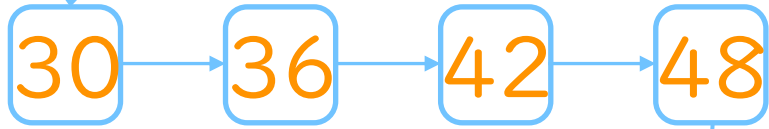
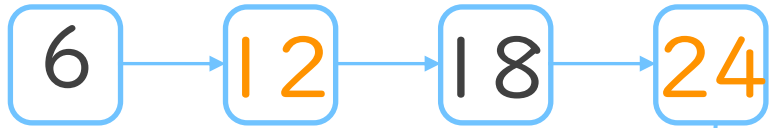
6のだんの九九



日にち：      月      日

名まえ \_\_\_\_\_

1. つぎの  にあてはまる数を書こう。



2. つぎの計算をしましょう。

①  $6 \times 2 = 12$

②  $6 \times 5 = 30$

③  $6 \times 8 = 48$

④  $6 \times 9 = 54$

⑤  $6 \times 4 = 24$



# かけ算 8

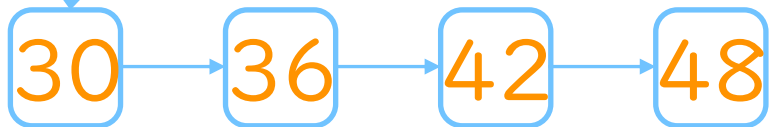
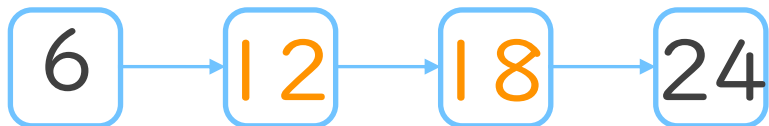
6のだんの九九




日にち：      月      日

名まえ \_\_\_\_\_

1. つぎの  にあてはまる数を書こう。



54



2. つぎの計算をしましょう。

①  $6 \times 7 = 42$

②  $6 \times 6 = 36$

③  $6 \times 2 = 12$

④  $6 \times 5 = 30$

⑤  $6 \times 3 = 18$





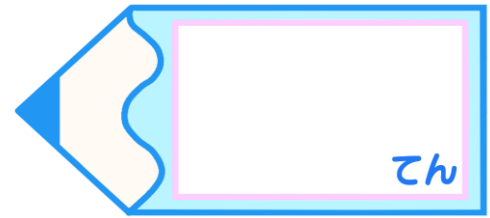
# かけ算 8

6のだんの九九



日にち：          月          日

名まえ \_\_\_\_\_




1. つぎの  にあてはまる数を書こう。  
(ぜんぶ せい かい いて 50 点)

6 → 12 → 18 → 24

30 → 36 → 42 → 48

54



2. つぎの計算をしましょう。  
(1もん 10点ずつ)

①  $6 \times 8 = 48$

②  $6 \times 2 = 12$

③  $6 \times 5 = 30$

④  $6 \times 6 = 36$

⑤  $6 \times 9 = 54$



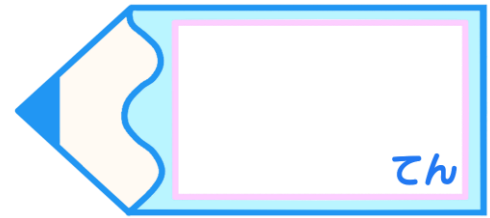
# かけ算 8

6のだんの九九


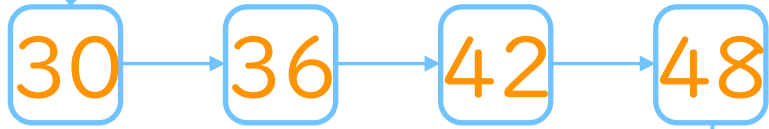
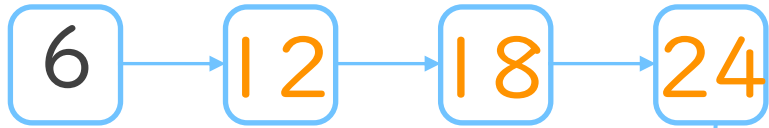


日にち：            月            日

名まえ \_\_\_\_\_



1. つぎの  にあてはまる数を書こう。  
(ぜんぶ せい かい いて 50 点)



2. つぎの計算をしましょう。  
(1もん 10点ずつ)

①  $6 \times 3 = 18$

②  $6 \times 8 = 48$

③  $6 \times 4 = 24$

④  $6 \times 7 = 42$

⑤  $6 \times 2 = 12$