



たし算のひっ算！

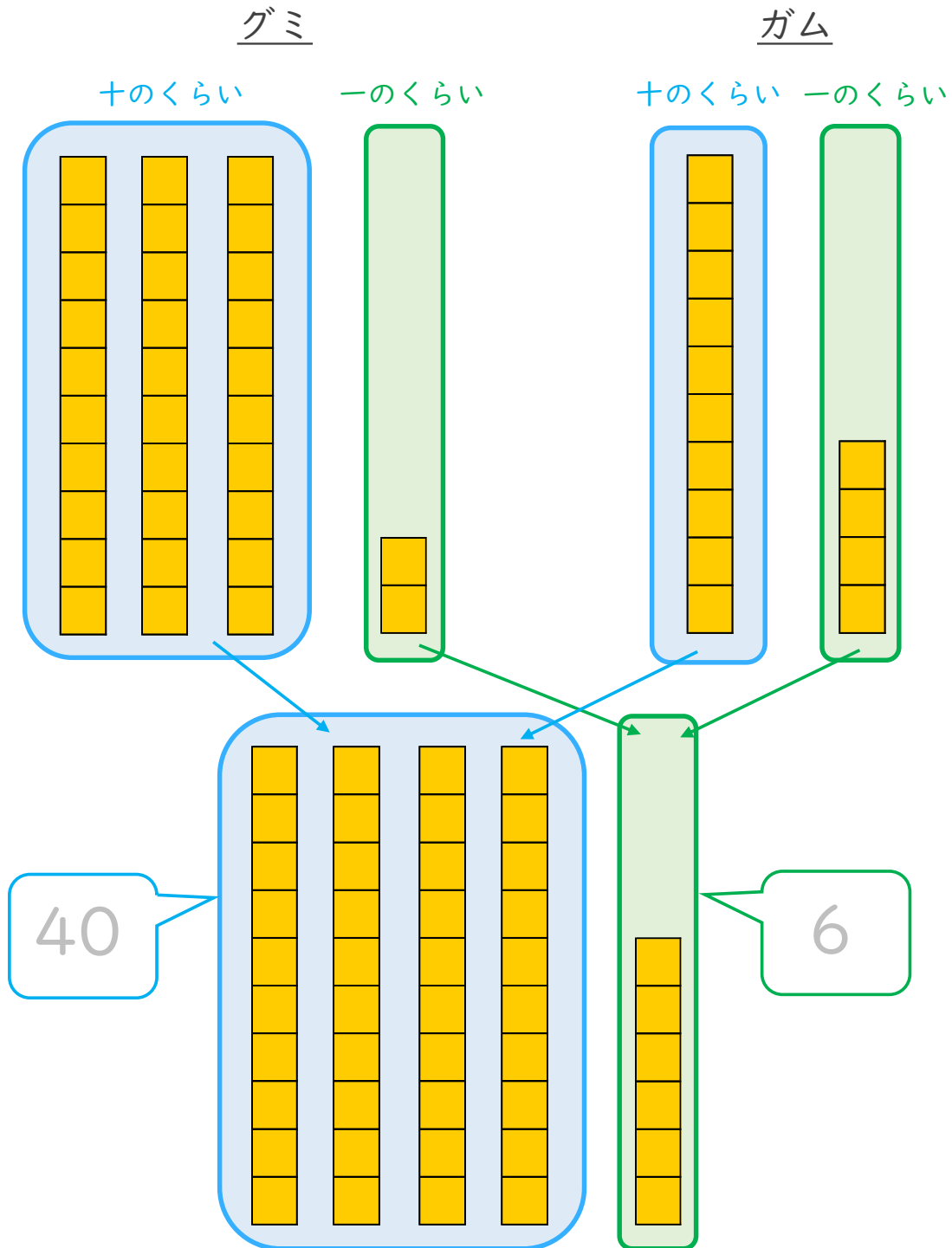
◎ タイルで数える
(ひっ算のじゅんび)



日にち： 月 日

名まえ _____

- ・ ゆきさんは 32円のグミと、14円のガムを買います。
だいは金は いくらになりますか。(うすい字はなぞりましょう。)



答え： 46円





たし算のひっ算 I

◎ タイルで数える
(ひっ算のじゅんび)



日にち： 月 日

名まえ _____

・ ゆうさんは 44円のチョコレートと、15円のラムネを買います。
だいたいはいくらになりますか。(うすい字はなぞりましょう。)

チョコレート

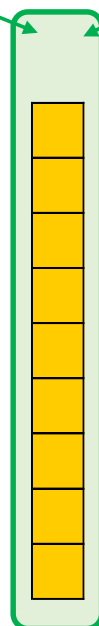
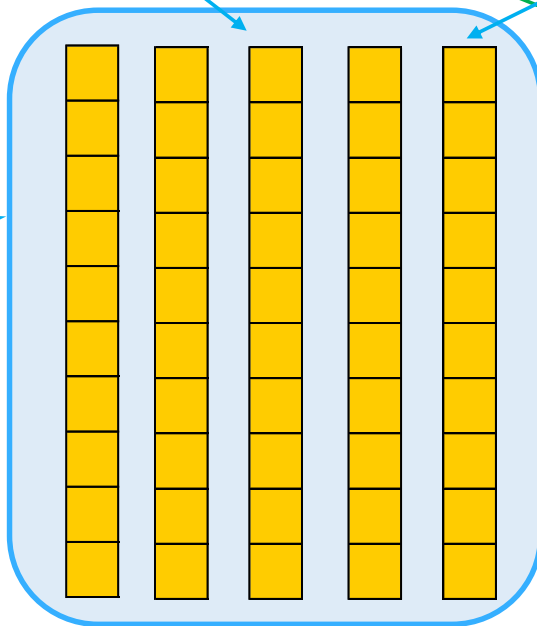
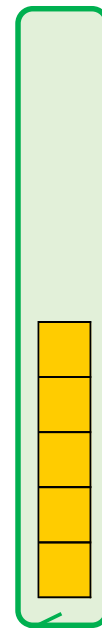


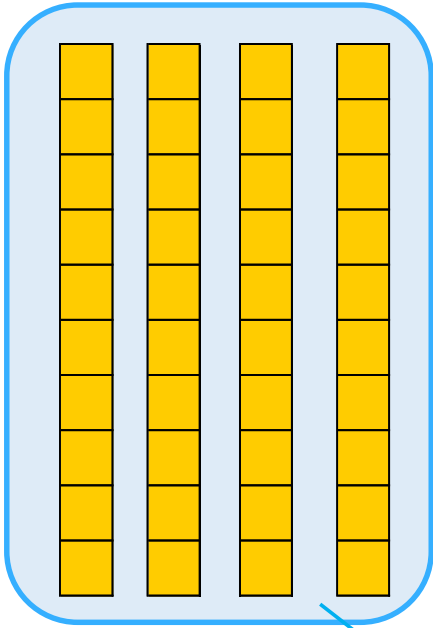
ラムネ

十のくらい

一のくらい

十のくらい

一のくらい



50

答え： _____





たし算のひっ算 I

◎ タイルで数える
(ひっ算のじゅんび)



日にち： 月 日

名まえ _____

- ・みわさんは 52円のクッキーと、23円のグミを買います。
だいたいはいくらになりますか。(うすい字はなぞりましょう。)

クッキー


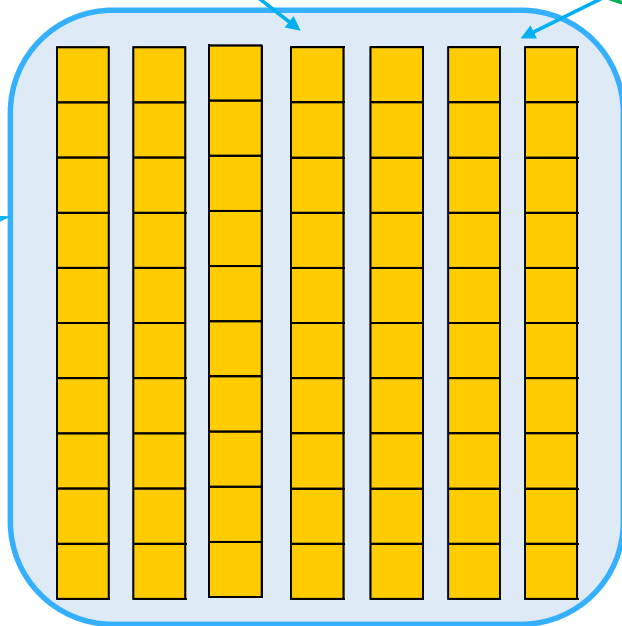
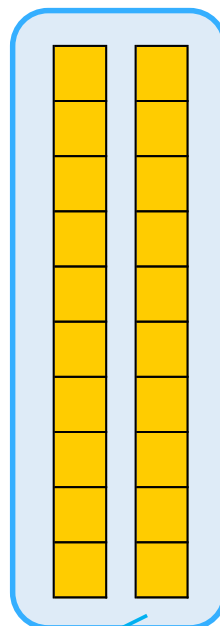

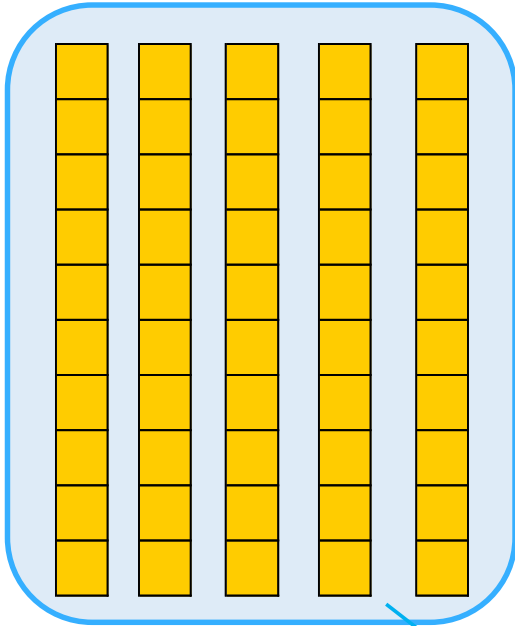
グミ

十のくらい

一のくらい

十のくらい

一のくらい



5

答え： _____





たし算のひっ算！

◎ タイルで数える
(ひっ算のじゅんび)



日にち： 月 日

名まえ _____

- ・ りささんは 33円のチョコレートと、14円のグミを買います。
だいはいくらになりますか。

チョコレート



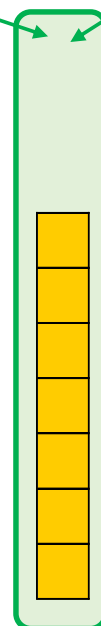
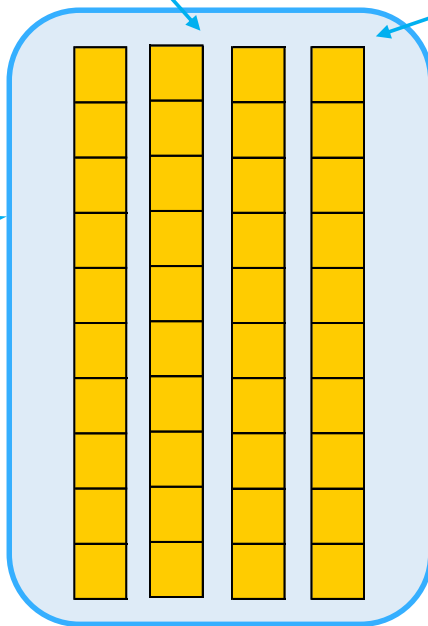
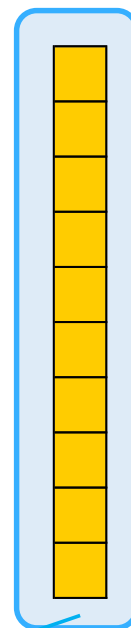

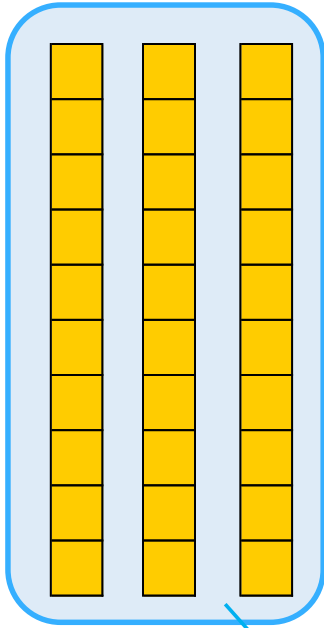
グミ

十のくらい

一のくらい

十のくらい

一のくらい



答え： _____





たし算のひっ算 I

◎ タイルで数える
(ひっ算のじゅんび)



日にち： 月 日

名まえ _____

- ・ ゆきさんは 32円のグミと、14円のガムを買います。
だいは金は いくらになりますか。(うすい字はなぞりましょう。)

グミ

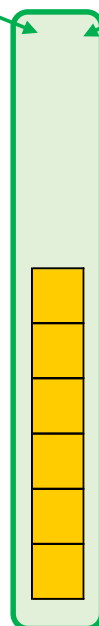



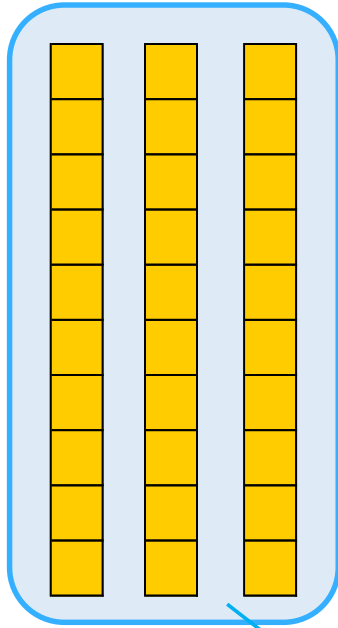
ガム

十のくらい

一のくらい

十のくらい

一のくらい



40

6

答え： 46円





たし算のひっ算！

◎ タイルで数える
(ひっ算のじゅんぴ)



日にち： 月 日

名まえ _____

- ・ ゆうさんは 44円のチョコレートと、15円のラムネを買います。だいたいはいくらになりますか。(うすい字はなぞりましょう。)

チョコレート

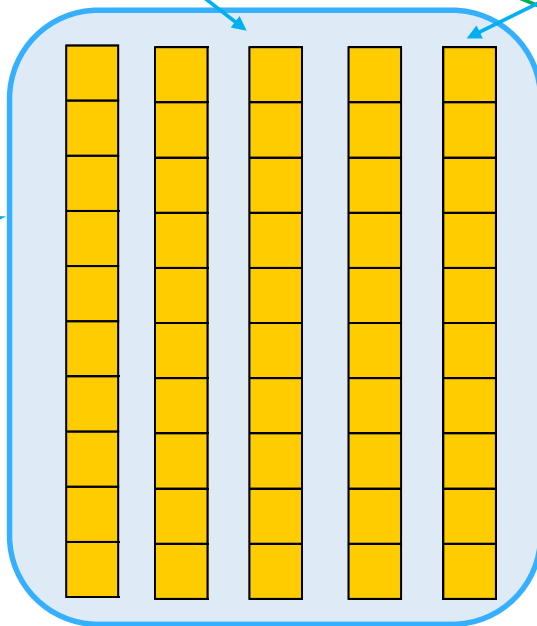
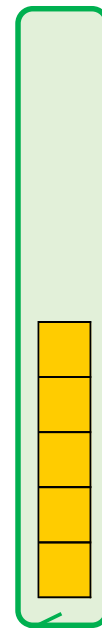


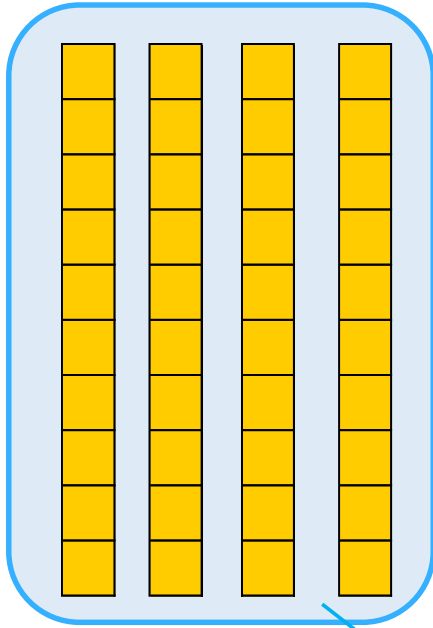
ラムネ

十のくらい

一のくらい

十のくらい

一のくらい



50

9

答え： 59円





たし算のひっ算！

◎ タイルで数える
(ひっ算のじゅんび)



日にち： 月 日

名まえ _____

- ・みわさんは 52円のクッキーと、23円のグミを買います。
だいたいはいくらになりますか。(うすい字はなぞりましょう。)

クッキー

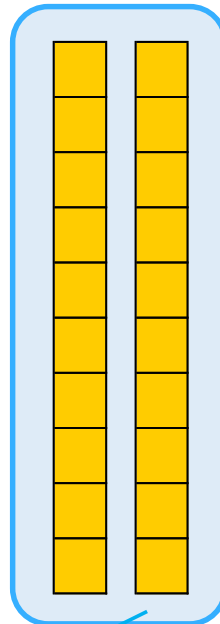

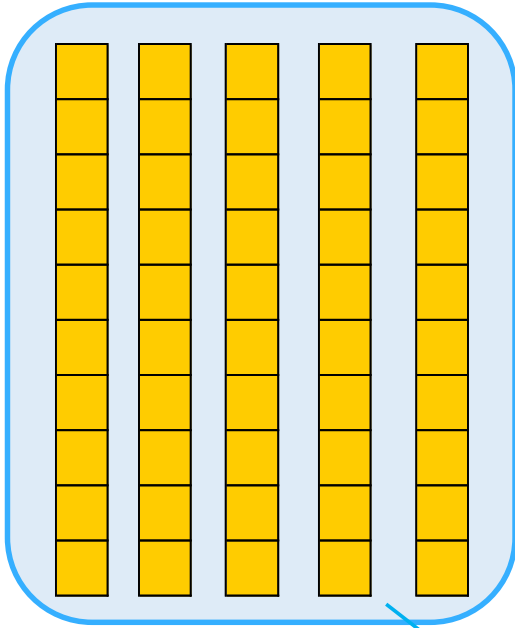
グミ

十のくらい

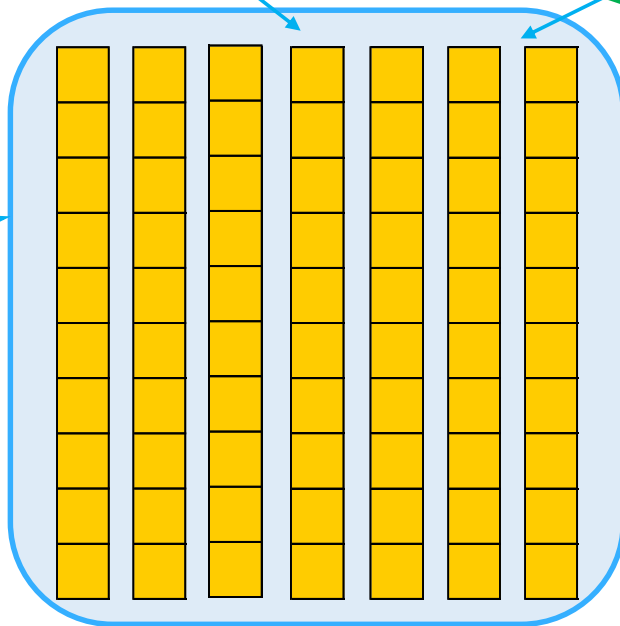
一のくらい

十のくらい

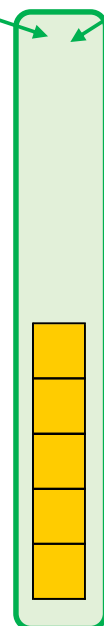
一のくらい



70



5



答え： 75円





たし算のひっ算！

◎ タイルで数える
(ひっ算のじゅんぴ)



日にち： 月 日

名まえ _____

- ・ りささんは 33円のチョコレートと、14円のグミを買います。
だいたいはいくらになりますか。

チョコレート

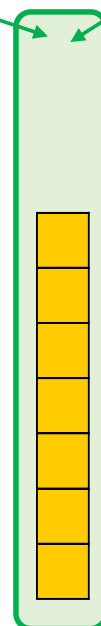
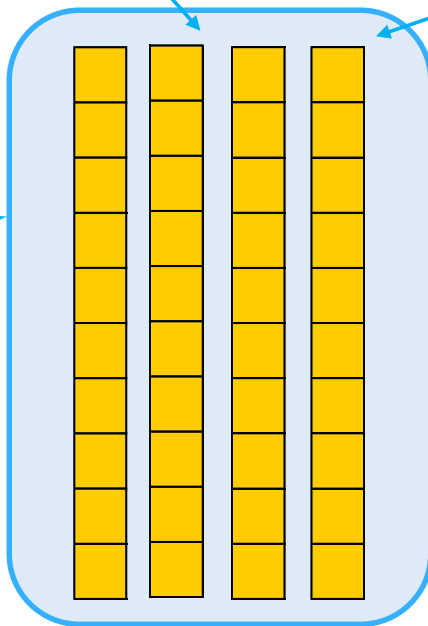
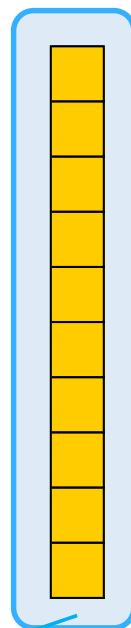

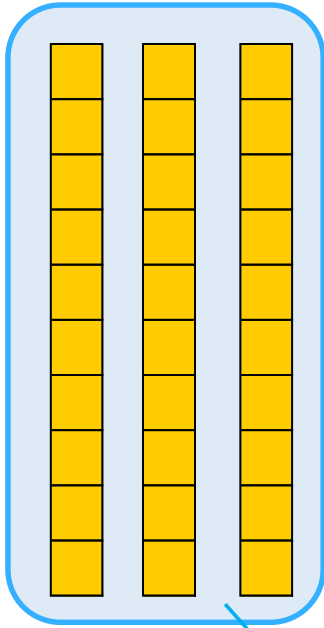
グミ

十のくらい

一のくらい

十のくらい

一のくらい



40

7

答え： 47円

