



# たし算のひっ算II

◎ ひっ算のまちがいさがし



日にち： 月 日

名まえ \_\_\_\_\_

・ 答えが正しければ ○、まちがっていれば正しい答えを書きましょう。  
(うすい字はなぞりましょう。)

①

$$\begin{array}{r} 26 \\ + 34 \\ \hline 50 \end{array}$$

$$\begin{array}{r} 70 \\ + 19 \\ \hline 89 \end{array}$$

$$\begin{array}{r} 56 \\ + 37 \\ \hline 93 \end{array}$$

$$\begin{array}{r} 7 \\ + 48 \\ \hline 45 \end{array}$$

( 60 )

( ○ )

( ○ )

( 55 )

<計算スペース>

$\begin{array}{r} 26 \\ + 34 \\ \hline 60 \end{array}$	$\begin{array}{r} 7 \\ + 48 \\ \hline 55 \end{array}$
--	---

②

$$\begin{array}{r} 17 \\ + 24 \\ \hline 41 \end{array}$$

$$\begin{array}{r} 3 \\ + 26 \\ \hline 56 \end{array}$$

$$\begin{array}{r} 30 \\ + 57 \\ \hline 87 \end{array}$$

$$\begin{array}{r} 42 \\ + 28 \\ \hline 60 \end{array}$$

( )

( )

( )

( )

<計算スペース>



# たし算のひっ算 II

◎ ひっ算のまちがいさがし



日にち： 月 日

名まえ \_\_\_\_\_

・ 答えが正しければ ○、まちがっていれば正しい答えを書きましょう。  
(うすい字はなぞりましょう。)

①

$$\begin{array}{r} 12 \\ + 60 \\ \hline 72 \end{array}$$

$$\begin{array}{r} 58 \\ + 22 \\ \hline 70 \end{array}$$

$$\begin{array}{r} 2 \\ + 79 \\ \hline 99 \end{array}$$

$$\begin{array}{r} 46 \\ + 27 \\ \hline 73 \end{array}$$

( ○ ) ( ) ( ) ( )

<計算スペース>

$$\begin{array}{r} 58 \\ + 22 \\ \hline \end{array}$$

②

$$\begin{array}{r} 30 \\ + 44 \\ \hline 70 \end{array}$$

$$\begin{array}{r} 58 \\ + 33 \\ \hline 91 \end{array}$$

$$\begin{array}{r} 47 \\ + 3 \\ \hline 50 \end{array}$$

$$\begin{array}{r} 19 \\ + 28 \\ \hline 37 \end{array}$$

( ) ( ) ( ) ( )

<計算スペース>



# たし算のひっ算 II

◎ ひっ算のまちがいさがし



日にち： 月 日

名まえ \_\_\_\_\_

・ 答えが正しければ ○、まちがっていれば正しい答えを書きましょう。  
(うすい字はなぞりましょう。)

①

$$\begin{array}{r} 34 \\ + 65 \\ \hline 99 \end{array}$$

$$\begin{array}{r} 46 \\ + 17 \\ \hline 63 \end{array}$$

$$\begin{array}{r} 52 \\ + 8 \\ \hline 50 \end{array}$$

$$\begin{array}{r} 64 \\ + 19 \\ \hline 73 \end{array}$$

( ○ ) ( ) ( ) ( )

<計算スペース>

$$\begin{array}{r} 52 \\ + 8 \\ \hline \end{array}$$

②

$$\begin{array}{r} 17 \\ + 8 \\ \hline 97 \end{array}$$

$$\begin{array}{r} 36 \\ + 23 \\ \hline 69 \end{array}$$

$$\begin{array}{r} 55 \\ + 35 \\ \hline 90 \end{array}$$

$$\begin{array}{r} 70 \\ + 20 \\ \hline 90 \end{array}$$

( ) ( ) ( ) ( )

<計算スペース>

③ 確認



# たし算のひっ算II

◎ ひっ算のまちがいさがし



日にち： 月 日

名まえ \_\_\_\_\_

・ 答えが正しければ ○、まちがっていれば正しい答えを書きましょう。  
(うすい字はなぞりましょう。)

①

$$\begin{array}{r} 79 \\ + 2 \\ \hline 81 \end{array}$$

$$\begin{array}{r} 52 \\ + 28 \\ \hline 70 \end{array}$$

$$\begin{array}{r} 50 \\ + 10 \\ \hline 60 \end{array}$$

$$\begin{array}{r} 4 \\ + 28 \\ \hline 68 \end{array}$$

( ○ ) ( ) ( ) ( )

<計算スペース>

②

$$\begin{array}{r} 37 \\ + 12 \\ \hline 59 \end{array}$$

$$\begin{array}{r} 45 \\ + 8 \\ \hline 53 \end{array}$$

$$\begin{array}{r} 24 \\ + 26 \\ \hline 40 \end{array}$$

$$\begin{array}{r} 49 \\ + 38 \\ \hline 87 \end{array}$$

( ) ( ) ( ) ( )

<計算スペース>



# たし算のひっ算II

◎ ひっ算のまちがいさがし



日にち： 月 日

名まえ \_\_\_\_\_

・ 答えが正しければ○、まちがっていれば正しい答えを書きましょう。

(うすい字はなぞりましょう。)

①

$$\begin{array}{r} 43 \\ + 10 \\ \hline 50 \end{array}$$

$$\begin{array}{r} 55 \\ + 19 \\ \hline 64 \end{array}$$

$$\begin{array}{r} 32 \\ + 17 \\ \hline 49 \end{array}$$

$$\begin{array}{r} 61 \\ + \quad 9 \\ \hline 70 \end{array}$$

( 53 )

( )

( )

( )

<計算スペース>

$$\begin{array}{r} 43 \\ + 10 \\ \hline 53 \end{array}$$

②

$$\begin{array}{r} 36 \\ + 18 \\ \hline 54 \end{array}$$

$$\begin{array}{r} 15 \\ + 25 \\ \hline 40 \end{array}$$

$$\begin{array}{r} 3 \quad \\ + 27 \\ \hline 57 \end{array}$$

$$\begin{array}{r} 48 \\ + 38 \\ \hline 76 \end{array}$$

( )

( )

( )

( )

<計算スペース>



# たし算のひっ算II

◎ ひっ算のまちがいさがし



日にち： 月 日

名まえ \_\_\_\_\_

・ 答えが正しければ ○、まちがっていれば正しい答えを書きましょう。  
(うすい字はなぞりましょう。)

①

$$\begin{array}{r} 40 \\ + 50 \\ \hline 90 \end{array}$$

$$\begin{array}{r} 5 \\ + 38 \\ \hline 88 \end{array}$$

$$\begin{array}{r} 23 \\ + 66 \\ \hline 89 \end{array}$$

$$\begin{array}{r} 27 \\ + 6 \\ \hline 23 \end{array}$$

( ○ ) ( ) ( ) ( )

<計算スペース>

$$\begin{array}{r} 1 \\ + 38 \\ \hline \end{array}$$

②

$$\begin{array}{r} 23 \\ + 17 \\ \hline 30 \end{array}$$

$$\begin{array}{r} 31 \\ + 40 \\ \hline 71 \end{array}$$

$$\begin{array}{r} 6 \\ + 29 \\ \hline 89 \end{array}$$

$$\begin{array}{r} 27 \\ + 18 \\ \hline 45 \end{array}$$

( ) ( ) ( ) ( )

<計算スペース>



# たし算のひっ算II

◎ ひっ算のまちがいさがし



日にち： 月 日

名まえ \_\_\_\_\_

・ 答えが正しければ ○、まちがっていれば正しい答えを書きましょう。  
(うすい字はなぞりましょう。)

①

$$\begin{array}{r} 23 \\ + 56 \\ \hline 79 \end{array}$$

$$\begin{array}{r} 64 \\ + 18 \\ \hline 72 \end{array}$$

$$\begin{array}{r} 50 \\ + 30 \\ \hline 80 \end{array}$$

$$\begin{array}{r} 37 \\ + \quad 9 \\ \hline 46 \end{array}$$

( ○ ) ( ) ( ) ( )

<計算スペース>

②

$$\begin{array}{r} 30 \\ + 56 \\ \hline 80 \end{array}$$

$$\begin{array}{r} 18 \\ + 37 \\ \hline 55 \end{array}$$

$$\begin{array}{r} 4 \quad \\ + 34 \\ \hline 74 \end{array}$$

$$\begin{array}{r} 63 \\ + 28 \\ \hline 81 \end{array}$$

( ) ( ) ( ) ( )

<計算スペース>



# たし算のひっ算II

◎ ひっ算のまちがいさがし



日にち： 月 日

名まえ \_\_\_\_\_

・ 答えが正しければ ○、まちがっていれば正しい答えを書きましょう。

①

$$\begin{array}{r} 6 \\ + 44 \\ \hline 40 \end{array}$$

$$\begin{array}{r} 73 \\ + 8 \\ \hline 81 \end{array}$$

$$\begin{array}{r} 20 \\ + 50 \\ \hline 70 \end{array}$$

$$\begin{array}{r} 56 \\ + 28 \\ \hline 84 \end{array}$$

( ) ( ) ( ) ( )

<計算スペース>

②

$$\begin{array}{r} 88 \\ + 8 \\ \hline 96 \end{array}$$

$$\begin{array}{r} 4 \\ + 13 \\ \hline 53 \end{array}$$

$$\begin{array}{r} 32 \\ + 38 \\ \hline 60 \end{array}$$

$$\begin{array}{r} 59 \\ + 23 \\ \hline 72 \end{array}$$

( ) ( ) ( ) ( )

<計算スペース>





# たし算のひっ算II

◎ ひっ算のまちがいさがし



日にち： 月 日

名まえ \_\_\_\_\_

・ 答えが正しければ ○、まちがっていれば正しい答えを書きましょう。

①

$$\begin{array}{r} 63 \\ + 24 \\ \hline 87 \end{array}$$

$$\begin{array}{r} 54 \\ + 6 \\ \hline 60 \end{array}$$

$$\begin{array}{r} 48 \\ + 2 \\ \hline 68 \end{array}$$

$$\begin{array}{r} 22 \\ + 29 \\ \hline 51 \end{array}$$

( ) ( ) ( ) ( )

<計算スペース>

②

$$\begin{array}{r} 16 \\ + 36 \\ \hline 52 \end{array}$$

$$\begin{array}{r} 72 \\ + 12 \\ \hline 84 \end{array}$$

$$\begin{array}{r} 7 \\ + 22 \\ \hline 92 \end{array}$$

$$\begin{array}{r} 27 \\ + 18 \\ \hline 35 \end{array}$$

( ) ( ) ( ) ( )

<計算スペース>



# たし算のひっ算II

◎ ひっ算のまちがいさがし



日にち： 月 日

名まえ \_\_\_\_\_

1 答えが正しければ○、まちがっていれば正しい答えを書きましょう。

①

$$\begin{array}{r} 43 \\ + 10 \\ \hline 50 \end{array}$$

$$\begin{array}{r} 55 \\ + 19 \\ \hline 64 \end{array}$$

$$\begin{array}{r} 32 \\ + 17 \\ \hline 49 \end{array}$$

$$\begin{array}{r} 61 \\ + \quad 9 \\ \hline 70 \end{array}$$

( )

( )

( )

( )

<計算スペース>

2 つぎの問いに 答えましょう。

ゆりさんは、きのうまでに本を26ページ読みました。

きょうは9ページ読みました。ぜんぶで何ページ読みましたか。

しき：

答え：

---



# たし算のひっ算II

◎ ひっ算のまちがいさがし



日にち： 月 日

名まえ \_\_\_\_\_

1 答えが正しければ○、まちがっていれば正しい答えを書きましょう。

①

$$\begin{array}{r} 23 \\ + 56 \\ \hline 79 \end{array}$$

$$\begin{array}{r} 64 \\ + 18 \\ \hline 72 \end{array}$$

$$\begin{array}{r} 50 \\ + 30 \\ \hline 80 \end{array}$$

$$\begin{array}{r} 37 \\ + \quad 9 \\ \hline 46 \end{array}$$

( )

( )

( )

( )

<計算スペース>

2 つぎの問いに 答えましょう。

学校の花だんに 赤い花が 32本、白い花が 28本 さいています。

花は あわせて 何本 ありますか。

しき：

答え：

\_\_\_\_\_



# たし算のひっ算 II

◎ ひっ算のまちがいさがし

12

日にち： 月 日

名まえ \_\_\_\_\_

1 答えが正しければ ○、まちがっていれば正しい答えを書きましょう。

①

$$\begin{array}{r} 2 \\ + 44 \\ \hline 64 \end{array}$$

$$\begin{array}{r} 73 \\ + 8 \\ \hline 81 \end{array}$$

$$\begin{array}{r} 20 \\ + 50 \\ \hline 70 \end{array}$$

$$\begin{array}{r} 56 \\ + 28 \\ \hline 84 \end{array}$$

( )

( )

( )

( )

<計算スペース>

2 つぎの問いに 答えましょう。

水そうに 赤い魚が 9ひき、青い魚が 30ひき います。

魚は ぜんぶで 何ひき いますか。

しき：

答え：

\_\_\_\_\_



# たし算のひっ算 II

◎ ひっ算のまちがいさがし



日にち： 月 日

名まえ \_\_\_\_\_

1 答えが正しければ○、まちがっていれば正しい答えを書きましょう。

①

$$\begin{array}{r} 63 \\ + 24 \\ \hline 87 \end{array}$$

$$\begin{array}{r} 54 \\ + 6 \\ \hline 60 \end{array}$$

$$\begin{array}{r} 48 \\ + 2 \\ \hline 68 \end{array}$$

$$\begin{array}{r} 22 \\ + 29 \\ \hline 51 \end{array}$$

( )

( )

( )

( )

<計算スペース>

2 つぎの問いに 答えましょう。

りんさんは、色紙を 11まい もっています。きょう 19まい 買いました。  
色紙は ぜんぶで 何まい になりますか。

しき：

答え：

---



# たし算のひっ算 II

◎ ひっ算のまちがいさがし



日にち： 月 日

名まえ \_\_\_\_\_

1 答えが正しければ○、まちがっていれば正しい答えを書きましょう。

①

$$\begin{array}{r} 88 \\ + 8 \\ \hline 96 \end{array}$$

$$\begin{array}{r} 4 \\ + 13 \\ \hline 53 \end{array}$$

$$\begin{array}{r} 32 \\ + 38 \\ \hline 60 \end{array}$$

$$\begin{array}{r} 59 \\ + 23 \\ \hline 72 \end{array}$$

( ) ( ) ( ) ( )

<計算スペース>

2 つぎの問いに 答えましょう。

西小学校の 2 年生は、2クラス あります。

1組が 32人、2組が 34人です。2年生は、みんなで 何人ですか。

しき：

答え：

---




# たし算のひっ算 II

◎ ひっ算のまちがいさがし

15

目指せ80点!



名まえ \_\_\_\_\_

1 答えが正しければ ○、まちがっていれば正しい答えを書きましょう。

(各20点)

①

$$\begin{array}{r} 43 \\ + 10 \\ \hline 53 \end{array}$$

$$\begin{array}{r} 5 \\ + 32 \\ \hline 82 \end{array}$$

$$\begin{array}{r} 32 \\ + 17 \\ \hline 49 \end{array}$$

$$\begin{array}{r} 74 \\ + \quad 9 \\ \hline 73 \end{array}$$

( )

( )

( )

( )

<計算スペース>

2 つぎの問いに 答えましょう。(20点)

みきさんは、15円の あめと 78円の クッキーを 買いました。

だいはいは いくらに なりましたか。

しき：

答え：

---




# たし算のひっ算 II

◎ ひっ算のまちがいさがし

16

目指せ80点!



名まえ \_\_\_\_\_

1 答えが正しければ ○、まちがっていれば正しい答えを書きましょう。

(各20点)

①

$$\begin{array}{r} 16 \\ + 36 \\ \hline 52 \end{array}$$

$$\begin{array}{r} 72 \\ + 12 \\ \hline 84 \end{array}$$

$$\begin{array}{r} 7 \\ + 22 \\ \hline 92 \end{array}$$

$$\begin{array}{r} 27 \\ + 18 \\ \hline 35 \end{array}$$

( )

( )

( )

( )

<計算スペース>

2 つぎの問いに 答えましょう。(20点)

まことさんのクラスは、男子が 18人、女子が 17人です。

クラスは みんなで 何人ですか。

しき：

答え：

---





# たし算のひっ算II

◎ ひっ算のまちがいがし



日にち： 月 日

名まえ \_\_\_\_\_

・ 答えが正しければ ○、まちがっていれば正しい答えを書きましょう。  
(うすい字はなぞりましょう。)

①

$$\begin{array}{r} 26 \\ + 34 \\ \hline 50 \end{array}$$

$$\begin{array}{r} 70 \\ + 19 \\ \hline 89 \end{array}$$

$$\begin{array}{r} 56 \\ + 37 \\ \hline 93 \end{array}$$

$$\begin{array}{r} 7 \\ + 48 \\ \hline 45 \end{array}$$

( 60 )

( ○ )

( ○ )

( 55 )

<計算スペース>

$$\begin{array}{r} 26 \\ + 34 \\ \hline 60 \end{array}$$

$$\begin{array}{r} 7 \\ + 48 \\ \hline 55 \end{array}$$

②

$$\begin{array}{r} 17 \\ + 24 \\ \hline 41 \end{array}$$

$$\begin{array}{r} 3 \\ + 26 \\ \hline 56 \end{array}$$

$$\begin{array}{r} 30 \\ + 57 \\ \hline 87 \end{array}$$

$$\begin{array}{r} 42 \\ + 28 \\ \hline 60 \end{array}$$

( ○ )

( 29 )

( ○ )

( 70 )

<計算スペース>

$$\begin{array}{r} 3 \\ + 26 \\ \hline 29 \end{array}$$

$$\begin{array}{r} 42 \\ + 28 \\ \hline 70 \end{array}$$



# たし算のひっ算 II

◎ ひっ算のまちがいがし



日にち： 月 日

名まえ \_\_\_\_\_

・ 答えが正しければ ○、まちがっていれば正しい答えを書きましょう。  
(うすい字はなぞりましょう。)

①

$$\begin{array}{r} 12 \\ + 60 \\ \hline 72 \end{array}$$

$$\begin{array}{r} 58 \\ + 22 \\ \hline 70 \end{array}$$

$$\begin{array}{r} 2 \\ + 79 \\ \hline 99 \end{array}$$

$$\begin{array}{r} 46 \\ + 27 \\ \hline 73 \end{array}$$

( ○ )

( 80 )

( 81 )

( ○ )

<計算スペース>

$$\begin{array}{r} 58 \\ + 22 \\ \hline 80 \end{array}$$

$$\begin{array}{r} 2 \\ + 79 \\ \hline 81 \end{array}$$

②

$$\begin{array}{r} 30 \\ + 44 \\ \hline 70 \end{array}$$

$$\begin{array}{r} 58 \\ + 33 \\ \hline 91 \end{array}$$

$$\begin{array}{r} 47 \\ + 3 \\ \hline 50 \end{array}$$

$$\begin{array}{r} 19 \\ + 28 \\ \hline 37 \end{array}$$

( 74 )

( ○ )

( ○ )

( 47 )

<計算スペース>

$$\begin{array}{r} 30 \\ + 44 \\ \hline 74 \end{array}$$

$$\begin{array}{r} 19 \\ + 28 \\ \hline 47 \end{array}$$



# たし算のひっ算 II

◎ ひっ算のまちがいさがし



日にち： 月 日

名まえ \_\_\_\_\_

・ 答えが正しければ ○、まちがっていれば正しい答えを書きましょう。  
(うすい字はなぞりましょう。)

①

$$\begin{array}{r} 34 \\ + 65 \\ \hline 99 \end{array}$$

$$\begin{array}{r} 46 \\ + 17 \\ \hline 63 \end{array}$$

$$\begin{array}{r} 52 \\ + 8 \\ \hline 50 \end{array}$$

$$\begin{array}{r} 64 \\ + 19 \\ \hline 73 \end{array}$$

( ○ )

( ○ )

( 60 )

( 83 )

<計算スペース>

$$\begin{array}{r} 52 \\ + 8 \\ \hline 60 \end{array} \quad \begin{array}{r} 64 \\ + 19 \\ \hline 83 \end{array}$$

②

$$\begin{array}{r} 17 \\ + 8 \\ \hline 97 \end{array}$$

$$\begin{array}{r} 36 \\ + 23 \\ \hline 69 \end{array}$$

$$\begin{array}{r} 55 \\ + 35 \\ \hline 90 \end{array}$$

$$\begin{array}{r} 70 \\ + 20 \\ \hline 90 \end{array}$$

( 25 )

( 59 )

( ○ )

( ○ )

<計算スペース>

$$\begin{array}{r} 17 \\ + 8 \\ \hline 25 \end{array} \quad \begin{array}{r} 36 \\ + 23 \\ \hline 59 \end{array}$$



# たし算のひっ算 II

◎ ひっ算のまちがいさがし



日にち： 月 日

名まえ \_\_\_\_\_

・ 答えが正しければ ○、まちがっていれば正しい答えを書きましょう。  
(うすい字はなぞりましょう。)

①

$$\begin{array}{r} 79 \\ + 2 \\ \hline 81 \end{array}$$

$$\begin{array}{r} 52 \\ + 28 \\ \hline 70 \end{array}$$

$$\begin{array}{r} 50 \\ + 10 \\ \hline 60 \end{array}$$

$$\begin{array}{r} 4 \\ + 28 \\ \hline 68 \end{array}$$

( ○ )

( 80 )

( ○ )

( 32 )

<計算スペース>

$$\begin{array}{r} 52 \\ + 28 \\ \hline 80 \end{array}$$

$$\begin{array}{r} 4 \\ + 28 \\ \hline 32 \end{array}$$

②

$$\begin{array}{r} 37 \\ + 12 \\ \hline 59 \end{array}$$

$$\begin{array}{r} 45 \\ + 8 \\ \hline 53 \end{array}$$

$$\begin{array}{r} 24 \\ + 26 \\ \hline 40 \end{array}$$

$$\begin{array}{r} 49 \\ + 38 \\ \hline 87 \end{array}$$

( 49 )

( ○ )

( 50 )

( ○ )

<計算スペース>

$$\begin{array}{r} 37 \\ + 12 \\ \hline 49 \end{array}$$

$$\begin{array}{r} 24 \\ + 26 \\ \hline 50 \end{array}$$



# たし算のひっ算II

◎ ひっ算のまちがいがし



日にち： 月 日

名まえ \_\_\_\_\_

・ 答えが正しければ ○、まちがっていれば正しい答えを書きましょう。  
(うすい字はなぞりましょう。)

①

$$\begin{array}{r} 43 \\ + 10 \\ \hline 50 \end{array}$$

$$\begin{array}{r} 55 \\ + 19 \\ \hline 64 \end{array}$$

$$\begin{array}{r} 32 \\ + 17 \\ \hline 49 \end{array}$$

$$\begin{array}{r} 61 \\ + 9 \\ \hline 70 \end{array}$$

( 53 )

( 74 )

( ○ )

( ○ )

<計算スペース>

$$\begin{array}{r} 43 \\ + 10 \\ \hline 53 \end{array}$$

$$\begin{array}{r} 55 \\ + 19 \\ \hline 74 \end{array}$$

②

$$\begin{array}{r} 36 \\ + 18 \\ \hline 54 \end{array}$$

$$\begin{array}{r} 15 \\ + 25 \\ \hline 40 \end{array}$$

$$\begin{array}{r} 3 \\ + 27 \\ \hline 57 \end{array}$$

$$\begin{array}{r} 48 \\ + 38 \\ \hline 76 \end{array}$$

( ○ )

( ○ )

( 30 )

( 86 )

<計算スペース>

$$\begin{array}{r} 3 \\ + 27 \\ \hline 30 \end{array}$$

$$\begin{array}{r} 48 \\ + 38 \\ \hline 86 \end{array}$$



# たし算のひっ算II

◎ ひっ算のまちがいさがし



日にち： 月 日

名まえ \_\_\_\_\_

・ 答えが正しければ ○、まちがっていれば正しい答えを書きましょう。  
(うすい字はなぞりましょう。)

①

$$\begin{array}{r} 40 \\ + 50 \\ \hline 90 \end{array}$$

$$\begin{array}{r} 5 \\ + 38 \\ \hline 88 \end{array}$$

$$\begin{array}{r} 23 \\ + 66 \\ \hline 89 \end{array}$$

$$\begin{array}{r} 27 \\ + 6 \\ \hline 23 \end{array}$$

( ○ )

( 43 )

( ○ )

( 33 )

<計算スペース>

$$\begin{array}{r} | \\ + 38 \\ \hline 43 \end{array}$$

$$\begin{array}{r} | \\ + 6 \\ \hline 33 \end{array}$$

②

$$\begin{array}{r} 23 \\ + 17 \\ \hline 30 \end{array}$$

$$\begin{array}{r} 31 \\ + 40 \\ \hline 71 \end{array}$$

$$\begin{array}{r} 6 \\ + 29 \\ \hline 89 \end{array}$$

$$\begin{array}{r} 27 \\ + 18 \\ \hline 45 \end{array}$$

( 40 )

( ○ )

( 35 )

( ○ )

<計算スペース>

$$\begin{array}{r} | \\ + 17 \\ \hline 40 \end{array}$$

$$\begin{array}{r} | \\ + 29 \\ \hline 35 \end{array}$$



# たし算のひっ算 II

◎ ひっ算のまちがいさがし



日にち： 月 日

名まえ \_\_\_\_\_

・ 答えが正しければ ○、まちがっていれば正しい答えを書きましょう。  
(うすい字はなぞりましょう。)

①

$$\begin{array}{r} 23 \\ + 56 \\ \hline 79 \end{array}$$

$$\begin{array}{r} 64 \\ + 18 \\ \hline 72 \end{array}$$

$$\begin{array}{r} 50 \\ + 30 \\ \hline 80 \end{array}$$

$$\begin{array}{r} 37 \\ + \quad 9 \\ \hline 46 \end{array}$$

( ○ )

( 82 )

( ○ )

( ○ )

<計算スペース>

$$\begin{array}{r} 64 \\ + 18 \\ \hline 82 \end{array}$$

②

$$\begin{array}{r} 30 \\ + 56 \\ \hline 80 \end{array}$$

$$\begin{array}{r} 18 \\ + 37 \\ \hline 55 \end{array}$$

$$\begin{array}{r} 4 \quad \\ + 34 \\ \hline 74 \end{array}$$

$$\begin{array}{r} 63 \\ + 28 \\ \hline 81 \end{array}$$

( 86 )

( ○ )

( 38 )

( 91 )

<計算スペース>

$$\begin{array}{r} 30 \\ + 56 \\ \hline 86 \end{array}$$

$$\begin{array}{r} 4 \quad \\ + 34 \\ \hline 38 \end{array}$$

$$\begin{array}{r} 63 \\ + 28 \\ \hline 91 \end{array}$$



# たし算のひっ算II

◎ ひっ算のまちがいさがし



日にち： 月 日

名まえ \_\_\_\_\_

・ 答えが正しければ ○、まちがっていれば正しい答えを書きましょう。

①

$$\begin{array}{r} 6 \\ + 44 \\ \hline 40 \end{array}$$

$$\begin{array}{r} 73 \\ + 8 \\ \hline 81 \end{array}$$

$$\begin{array}{r} 20 \\ + 50 \\ \hline 70 \end{array}$$

$$\begin{array}{r} 56 \\ + 28 \\ \hline 84 \end{array}$$

( 50 )

( ○ )

( ○ )

( ○ )

<計算スペース>

$$\begin{array}{r} 6 \\ + 44 \\ \hline 50 \end{array}$$

②

$$\begin{array}{r} 88 \\ + 8 \\ \hline 96 \end{array}$$

$$\begin{array}{r} 4 \\ + 13 \\ \hline 53 \end{array}$$

$$\begin{array}{r} 32 \\ + 38 \\ \hline 60 \end{array}$$

$$\begin{array}{r} 59 \\ + 23 \\ \hline 72 \end{array}$$

( ○ )

( 17 )

( 70 )

( 82 )

<計算スペース>

$$\begin{array}{r} 4 \\ + 13 \\ \hline 17 \end{array} \quad \begin{array}{r} 32 \\ + 38 \\ \hline 70 \end{array} \quad \begin{array}{r} 59 \\ + 23 \\ \hline 82 \end{array}$$







# たし算のひっ算 II

◎ ひっ算のまちがいがし



日にち： 月 日

名まえ \_\_\_\_\_

・ 答えが正しければ ○、まちがっていれば正しい答えを書きましょう。

①

$$\begin{array}{r} 63 \\ + 24 \\ \hline 87 \end{array}$$

$$\begin{array}{r} 54 \\ + 6 \\ \hline 60 \end{array}$$

$$\begin{array}{r} 48 \\ + 2 \\ \hline 68 \end{array}$$

$$\begin{array}{r} 22 \\ + 29 \\ \hline 51 \end{array}$$

( ○ )

( ○ )

( 50 )

( ○ )

<計算スペース>

$$\begin{array}{r} 48 \\ + 2 \\ \hline 50 \end{array}$$

②

$$\begin{array}{r} 16 \\ + 36 \\ \hline 52 \end{array}$$

$$\begin{array}{r} 72 \\ + 12 \\ \hline 84 \end{array}$$

$$\begin{array}{r} 7 \\ + 22 \\ \hline 92 \end{array}$$

$$\begin{array}{r} 27 \\ + 18 \\ \hline 35 \end{array}$$

( ○ )

( ○ )

( 29 )

( 45 )

<計算スペース>

$$\begin{array}{r} 7 \\ + 22 \\ \hline 29 \end{array} \quad \begin{array}{r} 27 \\ + 18 \\ \hline 45 \end{array}$$



# たし算のひっ算II

◎ ひっ算のまちがいさがし



日にち： 月 日

名まえ \_\_\_\_\_

1 答えが正しければ○、まちがっていれば正しい答えを書きましょう。

①

$$\begin{array}{r} 43 \\ + 10 \\ \hline 50 \end{array}$$

$$\begin{array}{r} 55 \\ + 19 \\ \hline 64 \end{array}$$

$$\begin{array}{r} 32 \\ + 17 \\ \hline 49 \end{array}$$

$$\begin{array}{r} 61 \\ + \quad 9 \\ \hline 70 \end{array}$$

( 53 )

( 74 )

( ○ )

( ○ )

<計算スペース>

$$\begin{array}{r} 43 \\ + 10 \\ \hline 53 \end{array}$$

$$\begin{array}{r} 55 \\ + 19 \\ \hline 74 \end{array}$$

2 つぎの問いに 答えましょう。

ゆりさんは、きのうまでに本を26ページ読みました。

きょうは9ページ読みました。ぜんぶで何ページ読みましたか。

$$\text{しき： } 26 + 9 = 35$$

答え： 35ページ

$$\begin{array}{r} 26 \\ + \quad 9 \\ \hline 35 \end{array}$$



# たし算のひっ算II

◎ ひっ算のまちがいさがし



日にち： 月 日

名まえ \_\_\_\_\_

1 答えが正しければ○、まちがっていれば正しい答えを書きましょう。

①

$$\begin{array}{r} 23 \\ + 56 \\ \hline 79 \end{array}$$

$$\begin{array}{r} 64 \\ + 18 \\ \hline 72 \end{array}$$

$$\begin{array}{r} 50 \\ + 30 \\ \hline 80 \end{array}$$

$$\begin{array}{r} 37 \\ + \quad 9 \\ \hline 46 \end{array}$$

( ○ )

( 82 )

( ○ )

( ○ )

<計算スペース>

$$\begin{array}{r} 64 \\ + 18 \\ \hline 82 \end{array}$$

2 つぎの問いに 答えましょう。

学校の花だんに 赤い花が 32本、白い花が 28本 さいています。

花は あわせて 何本 ありますか。

しき：  $32 + 28 = 60$

答え： 60本

$$\begin{array}{r} 32 \\ + 28 \\ \hline 60 \end{array}$$



# たし算のひっ算 II

◎ ひっ算のまちがいさがし



日にち： 月 日

名まえ \_\_\_\_\_

1 答えが正しければ ○、まちがっていれば正しい答えを書きましょう。

①

$$\begin{array}{r} 2 \\ + 44 \\ \hline 64 \end{array}$$

$$\begin{array}{r} 73 \\ + 8 \\ \hline 81 \end{array}$$

$$\begin{array}{r} 20 \\ + 50 \\ \hline 70 \end{array}$$

$$\begin{array}{r} 56 \\ + 28 \\ \hline 84 \end{array}$$

( 46 )

( ○ )

( ○ )

( ○ )

<計算スペース>

$$\begin{array}{r} 2 \\ + 44 \\ \hline 46 \end{array}$$

2 つぎの問いに 答えましょう。

水そうに 赤い魚が 9ひき、青い魚が 30ひき います。

魚は ぜんぶで 何ひき いますか。

しき：  $9 + 30 = 39$

答え： 39ひき

$$\begin{array}{r} 9 \\ + 30 \\ \hline 39 \end{array}$$



# たし算のひっ算II

◎ ひっ算のまちがいさがし

13

日にち： 月 日

名まえ \_\_\_\_\_

1 答えが正しければ○、まちがっていれば正しい答えを書きましょう。

①

$$\begin{array}{r} 63 \\ + 24 \\ \hline 87 \end{array}$$

$$\begin{array}{r} 54 \\ + 6 \\ \hline 60 \end{array}$$

$$\begin{array}{r} 48 \\ + 2 \\ \hline 68 \end{array}$$

$$\begin{array}{r} 22 \\ + 29 \\ \hline 51 \end{array}$$

( ○ )

( ○ )

( 50 )

( ○ )

<計算スペース>

$$\begin{array}{r} 48 \\ + 2 \\ \hline 50 \end{array}$$

2 つぎの問いに 答えましょう。

りんさんは、色紙を 11まいもっています。きょう 19まい 買いました。色紙は ぜんぶで 何まいになりますか。

しき： $11 + 19 = 30$

答え：30まい

$$\begin{array}{r} 11 \\ + 19 \\ \hline 30 \end{array}$$



# たし算のひっ算 II

◎ ひっ算のまちがいさがし

14

日にち： 月 日

名まえ \_\_\_\_\_

1 答えが正しければ○、まちがっていれば正しい答えを書きましょう。

①

$$\begin{array}{r} 88 \\ + 8 \\ \hline 96 \end{array}$$

$$\begin{array}{r} 4 \\ + 13 \\ \hline 53 \end{array}$$

$$\begin{array}{r} 32 \\ + 38 \\ \hline 60 \end{array}$$

$$\begin{array}{r} 59 \\ + 23 \\ \hline 72 \end{array}$$

( ○ )

( 17 )

( 70 )

( 82 )

<計算スペース>

$$\begin{array}{r} 4 \\ + 13 \\ \hline 17 \end{array}$$

$$\begin{array}{r} 32 \\ + 38 \\ \hline 70 \end{array}$$

$$\begin{array}{r} 59 \\ + 23 \\ \hline 82 \end{array}$$

2 つぎの問いに 答えましょう。

西小学校の 2 年生は、2クラス あります。

1組が 32人、2組が 34人です。2年生は、みんなで 何人ですか。

しき： $32 + 34 = 66$

答え：66人

$$\begin{array}{r} 32 \\ + 34 \\ \hline 66 \end{array}$$




# たし算のひっ算II

◎ ひっ算のまちがいさがし

15

目指せ80点!



名まえ \_\_\_\_\_

1 答えが正しければ○、まちがっていれば正しい答えを書きましょう。

(各20点)

①

$$\begin{array}{r} 43 \\ + 10 \\ \hline 53 \end{array}$$

$$\begin{array}{r} 5 \\ + 32 \\ \hline 82 \end{array}$$

$$\begin{array}{r} 32 \\ + 17 \\ \hline 49 \end{array}$$

$$\begin{array}{r} 74 \\ + \quad 9 \\ \hline 73 \end{array}$$

( ○ )

( 37 )

( ○ )

( 83 )

<計算スペース>

$$\begin{array}{r} 5 \\ + 32 \\ \hline 37 \end{array}$$

$$\begin{array}{r} 74 \\ + \quad 9 \\ \hline 83 \end{array}$$

2 つぎの問いに 答えましょう。(20点)

みきさんは、15円の あめと 78円の クッキーを 買いました。

だいはいは いくらになりましたか。

しき： $15 + 78 = 93$

答え：93円

$$\begin{array}{r} 15 \\ + 78 \\ \hline 93 \end{array}$$




# たし算のひっ算 II

◎ ひっ算のまちがいさがし

16

目指せ80点!



名まえ \_\_\_\_\_

1 答えが正しければ ○、まちがっていれば正しい答えを書きましょう。

(各20点)

①

$$\begin{array}{r} 16 \\ + 36 \\ \hline 52 \end{array}$$

$$\begin{array}{r} 72 \\ + 12 \\ \hline 84 \end{array}$$

$$\begin{array}{r} 7 \\ + 22 \\ \hline 92 \end{array}$$

$$\begin{array}{r} 27 \\ + 18 \\ \hline 35 \end{array}$$

( ○ )

( ○ )

( 29 )

( 45 )

<計算スペース>

$$\begin{array}{r} 7 \\ + 22 \\ \hline 29 \end{array}$$

$$\begin{array}{r} 27 \\ + 18 \\ \hline 45 \end{array}$$

2 つぎの問いに 答えましょう。(20点)

まことさんのクラスは、男子が 18人、女子が 17人です。

クラスは みんなで 何人ですか。

しき： $18 + 17 = 35$

答え：35人

$$\begin{array}{r} 18 \\ + 17 \\ \hline 35 \end{array}$$