



たし算のひっ算2

◎ ひっ算の書き方



日にち： 月 日

名まえ _____

・ つぎの計算を ひっ算で しましょう。(うすい字はなぞりましょう。)

$$34 + 21$$

	十のくらい	一のくらい
+		

一のくらいから計算するよ!

	3	4
+	2	1
	5	5

このような計算のしかたを **ひっ算** といいます。



たし算のひっ算2

◎ ひっ算の書き方

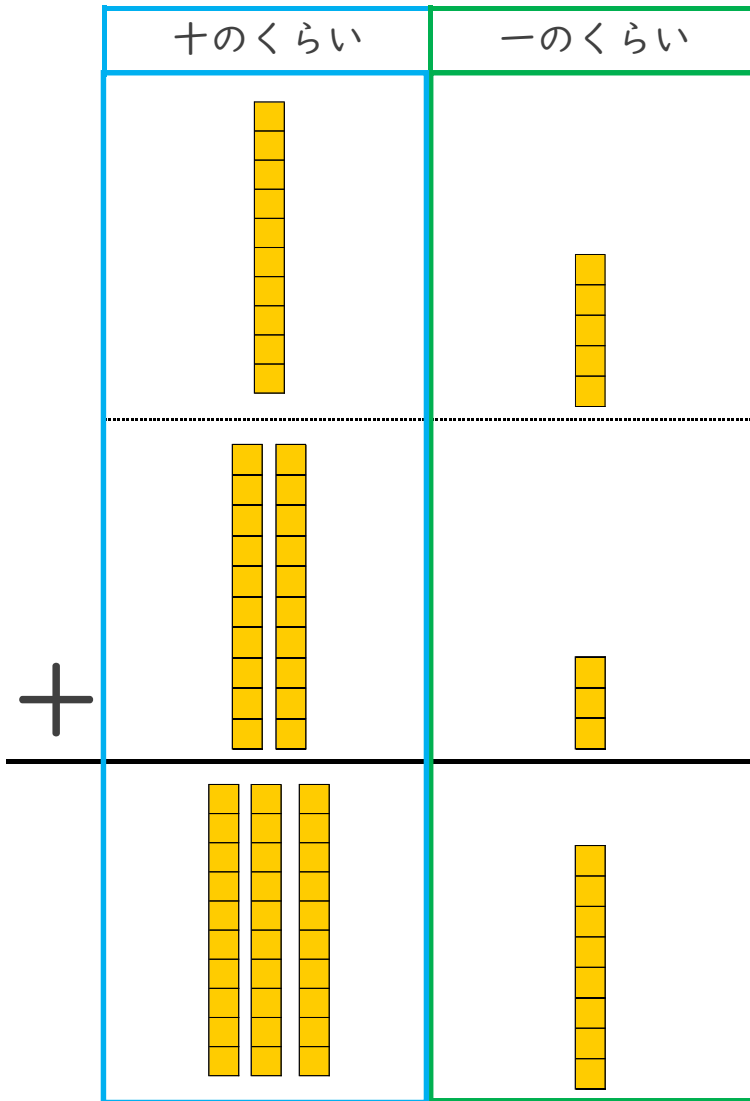


日にち： 月 日

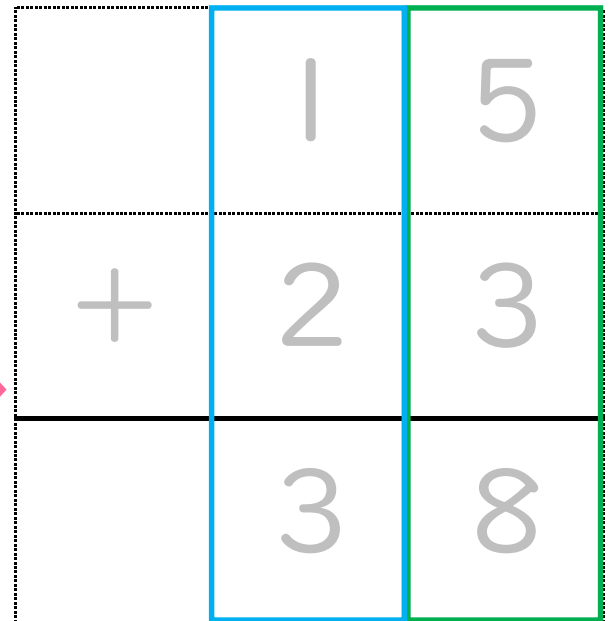
名まえ _____

・ つぎの計算を ひっ算で しましょう。(うすい字はなぞりましょう。)

$$15 + 23$$



① くらいをたてに
そろえてかくよ!



② 一のくらいから計算しよう!

このような計算のしかたを といいます。



たし算のひっ算2

◎ ひっ算の書き方

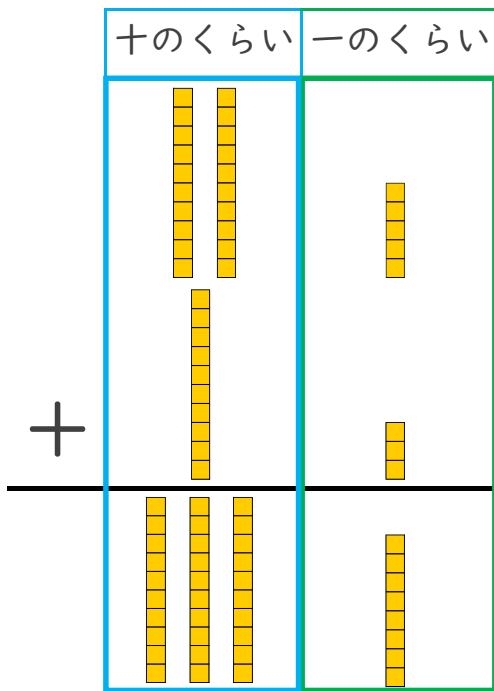
3

日にち： 月 日

名まえ _____

・ つぎの計算を ひっ算で しましょう。(うすい字はなぞりましょう。)

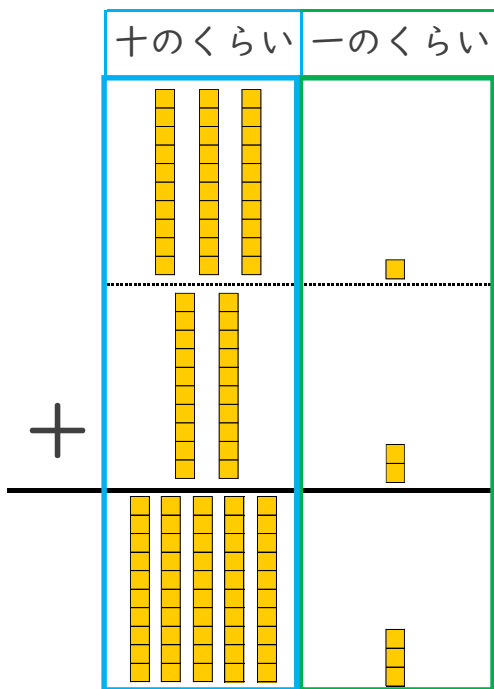
① $25 + 13$



くらいごとに計算するよ！

	2	5
+	1	3
<hr/>		

② $31 + 22$



くらいをそろえて書こう！

	3	1
+		
<hr/>		



たし算のひっ算2

◎ ひっ算の書き方

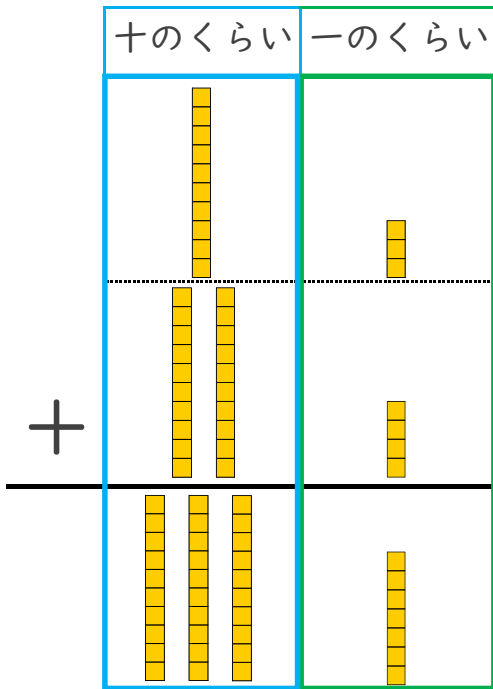
4

日にち： 月 日

名まえ _____

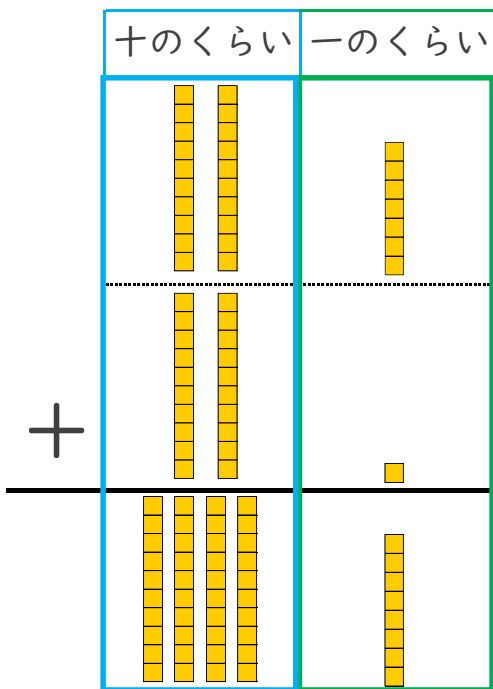
・ つぎの計算を ひっ算で しましょう。

① $13 + 24$



くらいをそろえて書こう！

② $27 + 21$



くらいをそろえて書こう！



たし算のひっ算2

◎ ひっ算の書き方



日にち： 月 日

名まえ _____

・ つぎの計算を ひっ算で しましょう。(うすい字はなぞりましょう。)

$$34 + 21$$

	十のくらい	一のくらい
+		

一のくらいから計算するよ!

	3	4
+	2	1
	5	5

このような計算のしかたを **ひっ算** といいます。



たし算のひっ算2

◎ ひっ算の書き方

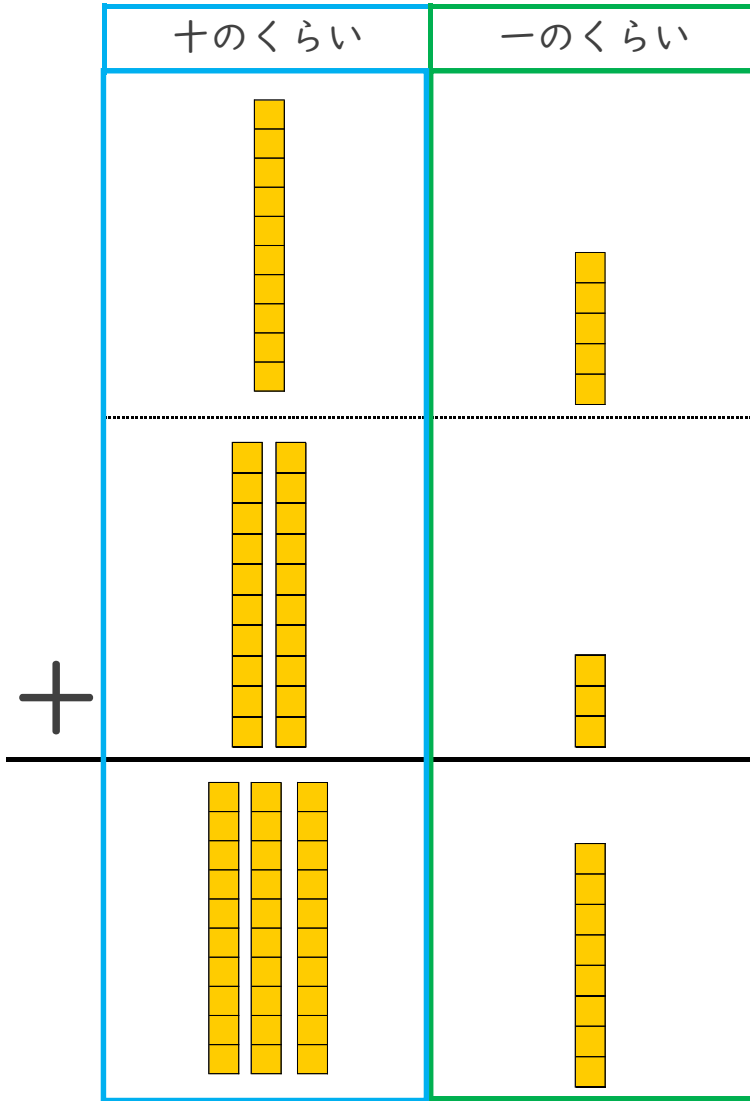


日にち： 月 日

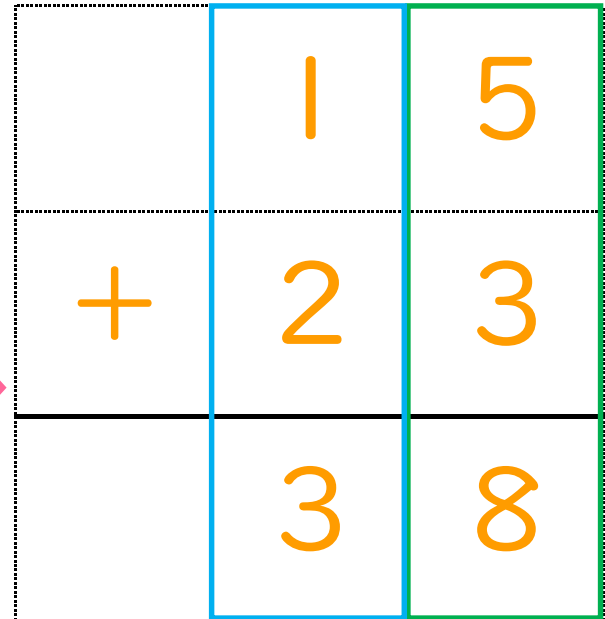
名まえ _____

・ つぎの計算を ひっ算で しましょう。(うすい字はなぞりましょう。)

$$15 + 23$$



① くらいをたてに
そろえてかくよ!



② 一のくらいから計算しよう!

このような計算のしかたを **ひっ算** といいます。



たし算のひっ算2

◎ ひっ算の書き方

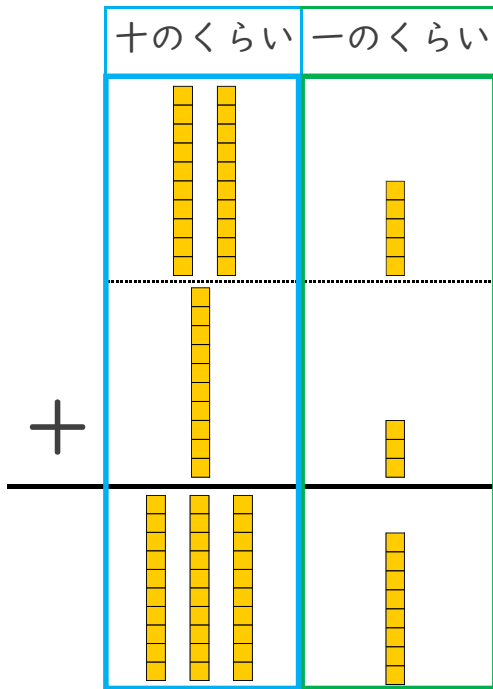


日にち： 月 日

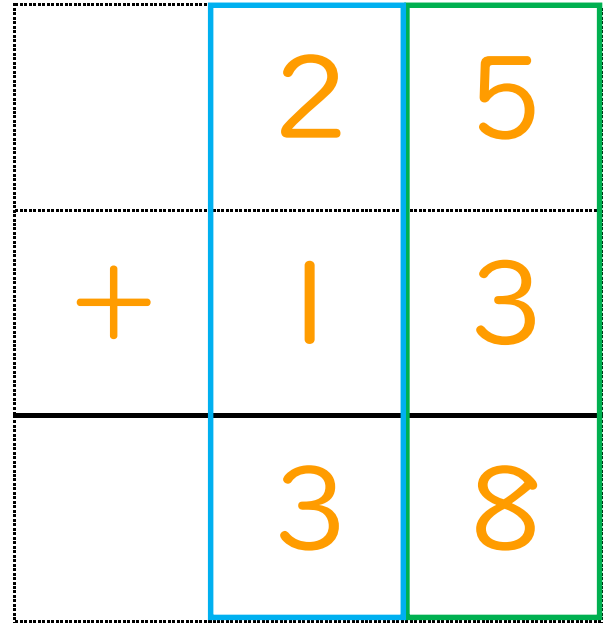
名まえ _____

・ つぎの計算を ひっ算で しましょう。(うすい字はなぞりましょう。)

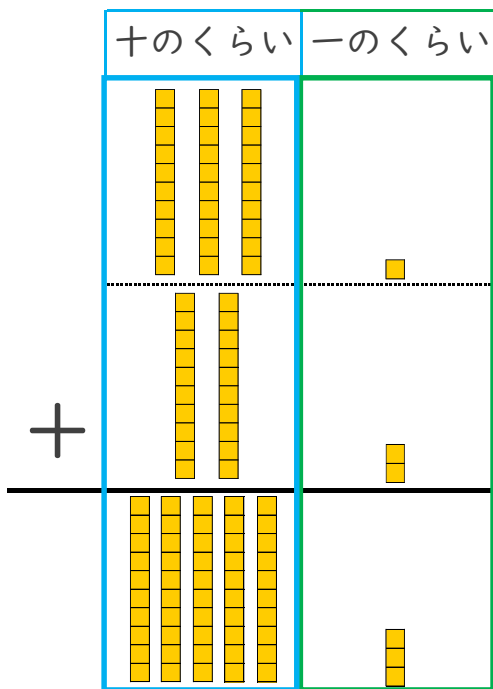
① $25 + 13$



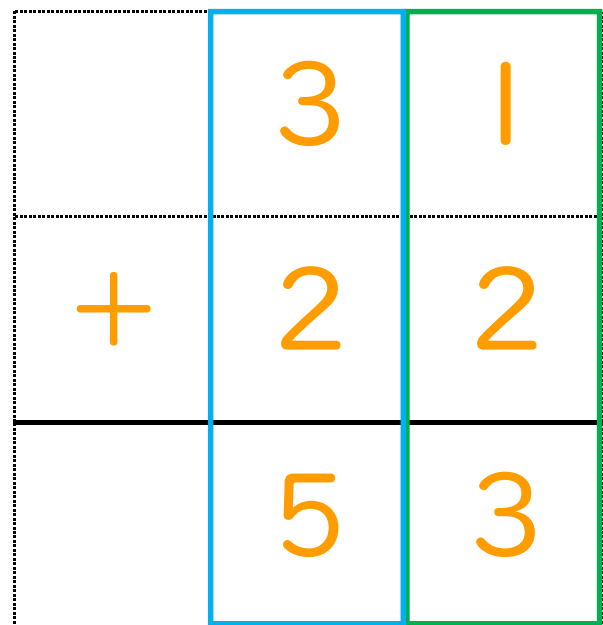
くらいごとに計算するよ!



② $31 + 22$



くらいをそろえて書こう!



③ 確認 答え



たし算のひっ算2

◎ ひっ算の書き方

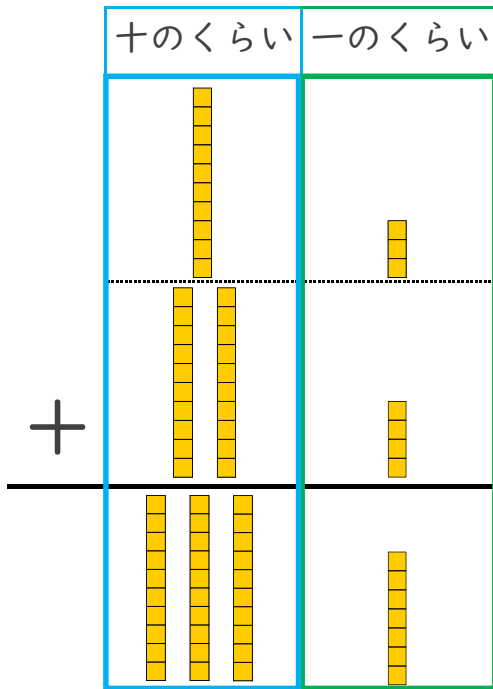


日にち： 月 日

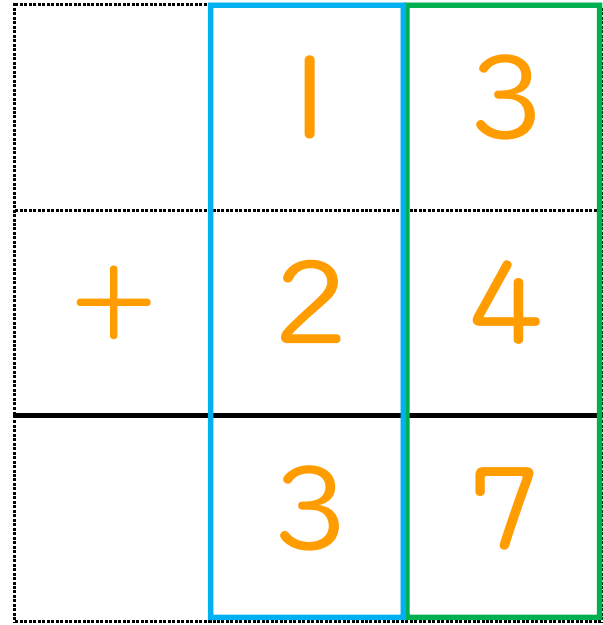
名まえ _____

・ つぎの計算を ひっ算で しましょう。(うすい字はなぞりましょう。)

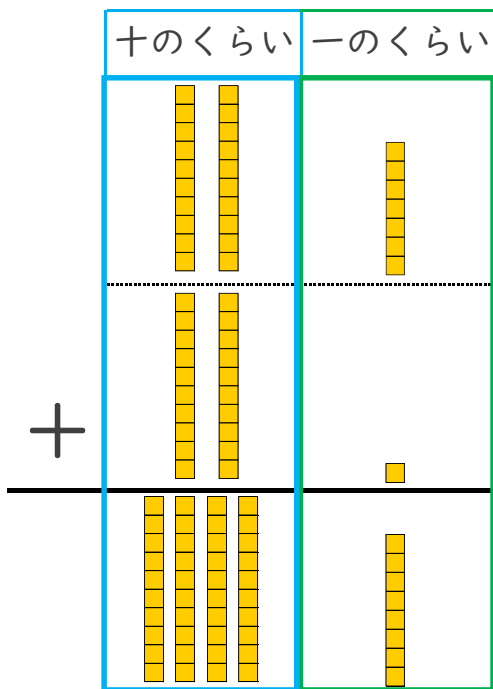
① $13 + 24$



くらいをそろえて書こう！



② $27 + 21$



くらいをそろえて書こう！

