

たし算のひっ算I

● 2けた+2けた
(くり上がりなし)



日にち： 月 日

名まえ _____

・ つぎの計算をひっ算でしましょう。

(うすい字はしっかりなぞりましょう。)

① $12 + 13$

	1	2
+	1	3
<hr/>		
	2	5

② $73 + 14$

	7	3
+	1	4
<hr/>		

③ $34 + 51$

	3	4
+	5	1
<hr/>		

④ $32 + 11$

	3	2
+	1	1
<hr/>		


⑤ $41 + 22$

	4	1
+	2	2
<hr/>		

⑥ $15 + 33$

	1	5
+	3	3
<hr/>		





たし算のひっ算I

● 2けた+2けた
(くり上がりなし)



日にち： 月 日

名まえ _____

・ つぎの計算をひっ算でしましょう。

(うすい字はしっかりなぞりましょう。)

① $52 + 16$

	5	2
+	1	6
<hr/>		
	6	8

② $51 + 23$

	5	1
+	2	3
<hr/>		

③ $35 + 54$

	3	5
+	5	4
<hr/>		

④ $46 + 11$


	4	6
+	1	1
<hr/>		
	5	7

⑤ $11 + 28$

	1	1
+	2	8
<hr/>		

⑥ $13 + 42$

	1	3
+	4	2
<hr/>		



たし算のひっ算I

2けた+2けた
(くり上がりなし)



日にち： 月 日

名まえ _____

・ つぎの計算をひっ算でしましょう。

(うすい字はしっかりなぞりましょう。)

① $23 + 41$

	2	3
+	4	1
<hr/>		
	6	4

④ $44 + 33$

	4	4
+	3	3
<hr/>		

② $15 + 12$

	1	5
+	1	2
<hr/>		

⑤ $27 + 62$


	2	7
+	6	2
<hr/>		

③ $41 + 51$

	4	1
+	5	1
<hr/>		

⑥ $76 + 13$

	7	6
+	1	3
<hr/>		



たし算のひっ算I

2けた+2けた
(くり上がりなし)



日にち： 月 日

名まえ _____

・ つぎの計算をひっ算でしましょう。

(うすい字はしっかりなぞりましょう。)

① $33 + 21$

	3	3
+	2	1
<hr/>		
	5	4

② $77 + 22$

	7	7
+	2	2
<hr/>		

③ $38 + 21$

	3	8
+	2	1
<hr/>		

④ $36 + 52$

	3	6
+	5	2
<hr/>		

⑤ $55 + 23$

	5	5
+	2	3
<hr/>		

⑥ $41 + 38$

	4	1
+	3	8
<hr/>		



たし算のひっ算I

● 2けた+2けた
(くり上がりなし)



日にち： 月 日

名まえ _____

・ つぎの計算をひっ算でしましょう。

(うすい字はしっかりなぞりましょう。)

① $35 + 44$

	3	5
+	4	4
<hr/>		
	7	9

④ $81 + 11$

	8	1
+	1	1
<hr/>		

② $52 + 32$

	5	2
+	3	2
<hr/>		

⑤ $64 + 34$

	6	4
+	3	4
<hr/>		

③ $66 + 13$

	6	6
+	1	3
<hr/>		

⑥ $23 + 54$

	2	3
+	5	4
<hr/>		



たし算のひっ算I

2けた+2けた
(くり上がりなし)



日にち： 月 日

名まえ _____

・ つぎの 計算を ひっ算で しましょう。

① 24 + 14

	2	4
+	1	4
<hr/>		

④ 53 + 36

	5	3
+	3	6
<hr/>		

② 61 + 33

	6	1
+	3	3
<hr/>		

⑤ 42 + 56


	4	2
+	5	6
<hr/>		

③ 77 + 21

	7	7
+	2	1
<hr/>		

⑥ 13 + 15

	1	3
+	1	5
<hr/>		



たし算のひっ算I

2けた+2けた
(くり上がりなし)



日にち： 月 日

名まえ _____

・ つぎの 計算を ひっ算で しましょう。

① $32 + 25$

	3	2
+	2	5
<hr/>		

② $42 + 17$

	4	2
+	1	7
<hr/>		

③ $12 + 36$

	1	2
+	3	6
<hr/>		

④ $47 + 21$

	4	7
+	2	1
<hr/>		

⑤ $51 + 23$

	5	1
+	2	3
<hr/>		

⑥ $22 + 37$

	2	2
+	3	7
<hr/>		



たし算のひっ算I

● 2けた+2けた
(くり上がりなし)



日にち： 月 日

名まえ _____

・ つぎの計算をひっ算でしましょう。

① $13 + 22$

	1	3
+	2	2
<hr/>		

② $34 + 33$

	3	4
+	3	3
<hr/>		

③ $26 + 71$

	2	6
+	7	1
<hr/>		

④ $53 + 15$

	5	3
+	1	5
<hr/>		


⑤ $67 + 11$

	6	7
+	1	1
<hr/>		

⑥ $34 + 31$

	3	4
+	3	1
<hr/>		





たし算のひっ算I

2けた+2けた
(くり上がりなし)



日にち： 月 日

名まえ _____

・ つぎの 計算を ひっ算で しましょう。

① $15 + 13$

	1	5
+	1	3
<hr/>		

② $21 + 71$

	2	1
+	7	1
<hr/>		

③ $56 + 33$

	5	6
+	3	3
<hr/>		

④ $47 + 31$

	4	7
+	3	1
<hr/>		


⑤ $24 + 25$

	2	4
+	2	5
<hr/>		

⑥ $64 + 35$

	6	4
+	3	5
<hr/>		





たし算のひっ算I

● 2けた+2けた
(くり上がりなし)



日にち： 月 日

名まえ _____

・ つぎの計算をひっ算でしましょう。

(うすい字はしっかりなぞりましょう。)

① $23 + 14$

	2	3
+	1	4
<hr/>		

④ $45 + 22$

	4	5
+	2	2
<hr/>		

② $62 + 13$


	6	2
+	1	3
<hr/>		

⑤ $85 + 12$

③ $31 + 62$

	3	1
+	6	2
<hr/>		

⑥ $42 + 45$



たし算のひっ算I

● 2けた+2けた
(くり上がりなし)



日にち： 月 日

名まえ _____

・ つぎの計算をひっ算でしましょう。

(うすい字はしっかりなぞりましょう。)

① $45 + 24$

	4	5
+	2	4
<hr/>		

④ $13 + 55$

	1	3
+	5	5
<hr/>		

② $72 + 25$


	7	2
+	2	5
<hr/>		

⑤ $88 + 11$

③ $64 + 24$

	6	4
+	2	4
<hr/>		

⑥ $36 + 13$



たし算のひっ算I

2けた+2けた
(くり上がりなし)



日にち： 月 日

名まえ _____

・ つぎの計算をひっ算でしましょう。

(うすい字はしっかりなぞりましょう。)

① $18 + 11$

	1	8
+	1	1
<hr/>		

④ $27 + 21$

	2	7
+	2	1
<hr/>		

② $42 + 22$

	4	2
+	2	2
<hr/>		

⑤ $52 + 46$

③ $63 + 15$

	6	3
+	1	5
<hr/>		

⑥ $77 + 12$



たし算のひっ算I

2けた+2けた
(くり上がりなし)



日にち： 月 日

名まえ _____

・ つぎの計算をひっ算でしましょう。

(うすい字はしっかりなぞりましょう。)

① $16 + 12$

	1	6
+	1	2
<hr/>		

④ $42 + 55$

	4	2
+	5	5
<hr/>		

② $26 + 31$

	2	6
+	3	1
<hr/>		

⑤ $27 + 21$

③ $52 + 27$

	5	2
+	2	7
<hr/>		

⑥ $42 + 37$



たし算のひっ算I

2けた+2けた
(くり上がりなし)

14

日にち： 月 日

名まえ _____

・ つぎの計算をひっ算でしましょう。

(うすい字はしっかりなぞりましょう。)

① $25 + 31$

	2	5
+	3	1
<hr/>		

④ $73 + 25$

	7	3
+	2	5
<hr/>		

② $41 + 21$


	4	1
+	2	1
<hr/>		

⑤ $42 + 44$

③ $67 + 12$

	6	7
+	1	2
<hr/>		

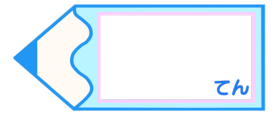
⑥ $52 + 37$



たし算のひっ算I

● 2けた+2けた
(くり上がりなし)

15



名まえ

・ つぎの計算をひっ算でしましょう。

(それぞれ20てん)

① $44 + 15$

	4	4
+	1	5
<hr/>		

④ $17 + 62$

② $23 + 21$

	2	3
+	2	1
<hr/>		

⑤ $75 + 14$

③ $32 + 56$

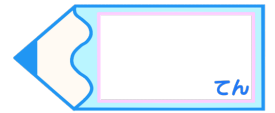
	3	2
+	5	6
<hr/>		





たし算のひっ算I

2けた+2けた
(くり上がりなし)



名まえ

・ つぎの 計算を ひっ算で しましょう。

(それぞれ20てん)

① $62 + 32$


④ $66 + 21$

② $35 + 24$

⑤ $53 + 15$

③ $81 + 16$





たし算のひっ算I

● 2けた+2けた
(くり上がりなし)



日にち： 月 日

名まえ _____

・ つぎの計算をひっ算でしましょう。

(うすい字はしっかりなぞりましょう。)

① $12 + 13$

	1	2
+	1	3
<hr/>		
	2	5

④ $32 + 11$

	3	2
+	1	1
<hr/>		
	4	3

② $73 + 14$

	7	3
+	1	4
<hr/>		
	8	7

⑤ $41 + 22$

	4	1
+	2	2
<hr/>		
	6	3


③ $34 + 51$

	3	4
+	5	1
<hr/>		
	8	5

⑥ $15 + 33$

	1	5
+	3	3
<hr/>		
	4	8





たし算のひっ算I

2けた+2けた
(くり上がりなし)



日にち： 月 日

名まえ _____

・ つぎの計算をひっ算でしましょう。

(うすい字はしっかりなぞりましょう。)

① $52 + 16$

	5	2
+	1	6
<hr/>		
	6	8

② $51 + 23$

	5	1
+	2	3
<hr/>		
	7	4

③ $35 + 54$

	3	5
+	5	4
<hr/>		
	8	9

④ $46 + 11$

	4	6
+	1	1
<hr/>		
	5	7


⑤ $11 + 28$

	1	1
+	2	8
<hr/>		
	3	9

⑥ $13 + 42$

	1	3
+	4	2
<hr/>		
	5	5





たし算のひっ算I

2けた+2けた
(くり上がりなし)



日にち： 月 日

名まえ _____

・ つぎの計算をひっ算でしましょう。

(うすい字はしっかりなぞりましょう。)

① $23 + 41$

	2	3
+	4	1
<hr/>		
	6	4

② $15 + 12$

	1	5
+	1	2
<hr/>		
	2	7

③ $41 + 51$

	4	1
+	5	1
<hr/>		
	9	2

④ $44 + 33$

	4	4
+	3	3
<hr/>		
	7	7


⑤ $27 + 62$

	2	7
+	6	2
<hr/>		
	8	9

⑥ $76 + 13$

	7	6
+	1	3
<hr/>		
	8	9





たし算のひっ算I

2けた+2けた
(くり上がりなし)



日にち： 月 日

名まえ _____

・ つぎの計算をひっ算でしましょう。

(うすい字はしっかりなぞりましょう。)

① $33 + 21$

	3	3
+	2	1
<hr/>		
	5	4

② $77 + 22$

	7	7
+	2	2
<hr/>		
	9	9

③ $38 + 21$

	3	8
+	2	1
<hr/>		
	5	9

④ $36 + 52$

	3	6
+	5	2
<hr/>		
	8	8

⑤ $55 + 23$

	5	5
+	2	3
<hr/>		
	7	8

⑥ $41 + 38$

	4	1
+	3	8
<hr/>		
	7	9



たし算のひっ算I

2けた+2けた
(くり上がりなし)



日にち： 月 日

名まえ _____

・ つぎの計算をひっ算でしましょう。

(うすい字はしっかりなぞりましょう。)

① $35 + 44$

	3	5
+	4	4
<hr/>		
	7	9

② $52 + 32$

	5	2
+	3	2
<hr/>		
	8	4

③ $66 + 13$

	6	6
+	1	3
<hr/>		
	7	9

④ $81 + 11$

	8	1
+	1	1
<hr/>		
	9	2

⑤ $64 + 34$

	6	4
+	3	4
<hr/>		
	9	8

⑥ $23 + 54$

	2	3
+	5	4
<hr/>		
	7	7





たし算のひっ算I

2けた+2けた
(くり上がりなし)



日にち： 月 日

名まえ

・ つぎの 計算を ひっ算で しましょう。

① 24 + 14

	2	4
+	1	4
<hr/>		
	3	8

② 61 + 33

	6	1
+	3	3
<hr/>		
	9	4

③ 77 + 21

	7	7
+	2	1
<hr/>		
	9	8

④ 53 + 36


	5	3
+	3	6
<hr/>		
	8	9

⑤ 42 + 56

	4	2
+	5	6
<hr/>		
	9	8

⑥ 13 + 15

	1	3
+	1	5
<hr/>		
	2	8



たし算のひっ算I

2けた+2けた
(くり上がりなし)



日にち： 月 日

名まえ _____

・ つぎの 計算を ひっ算で しましょう。

① 32 + 25

	3	2
+	2	5
<hr/>		
	5	7

② 42 + 17

	4	2
+	1	7
<hr/>		
	5	9

③ 12 + 36

	1	2
+	3	6
<hr/>		
	4	8

④ 47 + 21

	4	7
+	2	1
<hr/>		
	6	8


⑤ 51 + 23

	5	1
+	2	3
<hr/>		
	7	4

⑥ 22 + 37

	2	2
+	3	7
<hr/>		
	5	9





たし算のひっ算I

2けた+2けた
(くり上がりなし)



日にち： 月 日

名まえ _____

・ つぎの 計算を ひっ算で しましょう。

① $13 + 22$

	1	3
+	2	2
<hr/>		
	3	5

② $34 + 33$

	3	4
+	3	3
<hr/>		
	6	7

③ $26 + 71$

	2	6
+	7	1
<hr/>		
	9	7

④ $53 + 15$

	5	3
+	1	5
<hr/>		
	6	8


⑤ $67 + 11$

	6	7
+	1	1
<hr/>		
	7	8

⑥ $34 + 31$

	3	4
+	3	1
<hr/>		
	6	5





たし算のひっ算I

2けた+2けた
(くり上がりなし)



日にち： 月 日

名まえ _____

・ つぎの計算をひっ算でしましょう。

① $15 + 13$

	1	5
+	1	3
<hr/>		
	2	8

② $21 + 71$

	2	1
+	7	1
<hr/>		
	9	2

③ $56 + 33$

	5	6
+	3	3
<hr/>		
	8	9

④ $47 + 31$

	4	7
+	3	1
<hr/>		
	7	8


⑤ $24 + 25$

	2	4
+	2	5
<hr/>		
	4	9

⑥ $64 + 35$

	6	4
+	3	5
<hr/>		
	9	9





たし算のひっ算I

● 2けた+2けた
(くり上がりなし)



日にち： 月 日

名まえ

・ つぎの計算をひっ算でしましょう。

(うすい字はしっかりなぞりましょう。)

① $23 + 14$

	2	3
+	1	4
<hr/>		
	3	7

④ $45 + 22$

	4	5
+	2	2
<hr/>		
	6	7

② $62 + 13$

	6	2
+	1	3
<hr/>		
	7	5

⑤ $85 + 12$


	8	5
+	1	2
<hr/>		
	9	7

③ $31 + 62$

	3	1
+	6	2
<hr/>		
	9	3

⑥ $42 + 45$

	4	2
+	4	5
<hr/>		
	8	7



たし算のひっ算I

● 2けた+2けた
(くり上がりなし)



日にち： 月 日

名まえ _____

・ つぎの計算をひっ算でしましょう。

(うすい字はしっかりなぞりましょう。)

① $45 + 24$

	4	5
+	2	4
<hr/>		
	6	9

④ $13 + 55$

	1	3
+	5	5
<hr/>		
	6	8

② $72 + 25$

	7	2
+	2	5
<hr/>		
	9	7

⑤ $88 + 11$


	8	8
+	1	1
<hr/>		
	9	9

③ $64 + 24$

	6	4
+	2	4
<hr/>		
	8	8

⑥ $36 + 13$

	3	6
+	1	3
<hr/>		
	4	9



たし算のひっ算I

2けた+2けた
(くり上がりなし)



日にち： 月 日

名まえ _____

・ つぎの計算をひっ算でしましょう。

(うすい字はしっかりなぞりましょう。)

① $18 + 11$

	1	8
+	1	1
<hr/>		
	2	9

④ $27 + 21$

	2	7
+	2	1
<hr/>		
	4	8

② $42 + 22$

	4	2
+	2	2
<hr/>		
	6	4

⑤ $52 + 46$

	5	2
+	4	6
<hr/>		
	9	8

③ $63 + 15$

	6	3
+	1	5
<hr/>		
	7	8

⑥ $77 + 12$

	7	7
+	1	2
<hr/>		
	8	9





たし算のひっ算I

2けた+2けた
(くり上がりなし)



日にち： 月 日

名まえ _____

・ つぎの計算をひっ算でしましょう。

(うすい字はしっかりなぞりましょう。)

① $16 + 12$

	1	6
+	1	2
<hr/>		
	2	8

④ $42 + 55$

	4	2
+	5	5
<hr/>		
	9	7

② $26 + 31$

	2	6
+	3	1
<hr/>		
	5	7

⑤ $27 + 21$

	2	7
+	2	1
<hr/>		
	4	8

③ $52 + 27$

	5	2
+	2	7
<hr/>		
	7	9

⑥ $42 + 37$

	4	2
+	3	7
<hr/>		
	7	9





たし算のひっ算I

◎ 2けた+2けた
(くり上がりなし)

14

日にち： 月 日

名まえ _____

・ つぎの計算をひっ算でしましょう。

(うすい字はしっかりなぞりましょう。)

① $25 + 31$

	2	5
+	3	1
<hr/>		
	5	6

④ $73 + 25$

	7	3
+	2	5
<hr/>		
	9	8

② $41 + 21$

	4	1
+	2	1
<hr/>		
	6	2

⑤ $42 + 44$


	4	2
+	4	4
<hr/>		
	8	6

③ $67 + 12$

	6	7
+	1	2
<hr/>		
	7	9

⑥ $52 + 37$

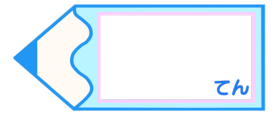
	5	2
+	3	7
<hr/>		
	8	9



たし算のひっ算I

2けた+2けた
(くり上がりなし)

15



名まえ

・ つぎの 計算を ひっ算で しましょう。

(それぞれ20てん)

① $44 + 15$

	4	4
+	1	5
<hr/>		
	5	9

② $23 + 21$

	2	3
+	2	1
<hr/>		
	4	4

③ $32 + 56$

	3	2
+	5	6
<hr/>		
	8	8

④ $17 + 62$

	1	7
+	6	2
<hr/>		
	7	9

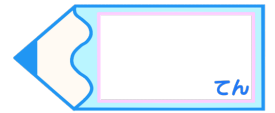
⑤ $75 + 14$

	7	5
+	1	4
<hr/>		
	8	9



たし算のひっ算I

2けた+2けた
(くり上がりなし)



名まえ

・ つぎの 計算を ひっ算で しましょう。

(それぞれ20てん)

① $62 + 32$

	6	2
+	3	2
<hr/>		
	9	4

④ $66 + 21$

	6	6
+	2	1
<hr/>		
	8	7

② $35 + 24$

	3	5
+	2	4
<hr/>		
	5	9

⑤ $53 + 15$

	5	3
+	1	5
<hr/>		
	6	8

③ $81 + 16$

	8	1
+	1	6
<hr/>		
	9	7

