



## はこの形 2

● 竹ひごと  
粘土玉で作る箱の形

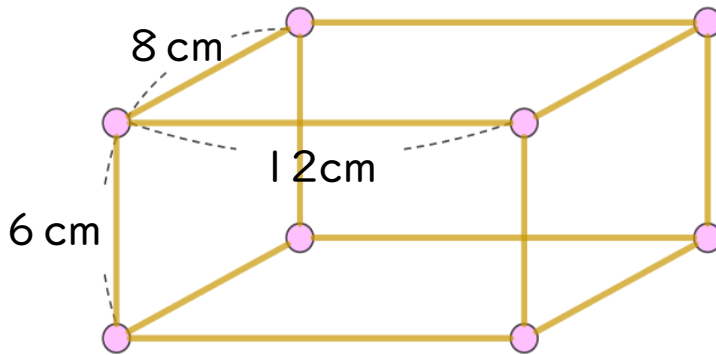


日にち： 月 日

名まえ \_\_\_\_\_

・ ひごとねん土玉をつかって、下のようないろはの形を作ります。

(うすい字はしっかりなぞりましょう。)



① 6cmのひごはぜんぶで何本いらいますか。

答え： \_\_\_\_\_

② 8cmのひごはぜんぶで何本いらいますか。


答え： \_\_\_\_\_

③ 12cmのひごはぜんぶで何本いらいますか。

答え： \_\_\_\_\_

④ ねん土玉はぜんぶで何こいらいますか。

答え： \_\_\_\_\_



## はこの形 2

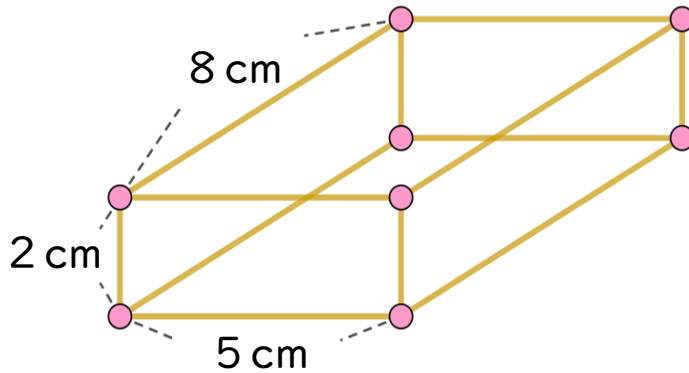
● 竹ひごと  
粘土玉で作る箱の形



日にち： 月 日

名まえ \_\_\_\_\_

・ ひごとねん土玉をつかって、下のようないろいろな箱を作ります。



① 2 cmのひごはぜんぶで何本いらいますか。

答え： \_\_\_\_\_

② 5 cmのひごはぜんぶで何本いらいますか。

答え： \_\_\_\_\_

③ 8 cmのひごはぜんぶで何本いらいますか。

答え： \_\_\_\_\_

④ ねん土玉はぜんぶで何こいらいますか。

答え： \_\_\_\_\_



## はこの形 2

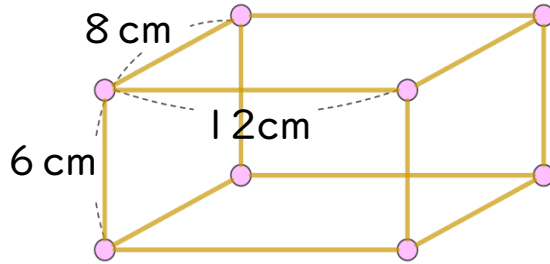
● 竹ひごと  
粘土玉で作る箱の形



日にち： 月 日

名まえ \_\_\_\_\_

1 ひごとねん土玉をつかって、下のようないこの形を作ります。



① 8 cmのひごはぜんぶで何本いらいますか。

答え：

\_\_\_\_\_

② 12 cmのひごはぜんぶで何本いらいますか。

答え：

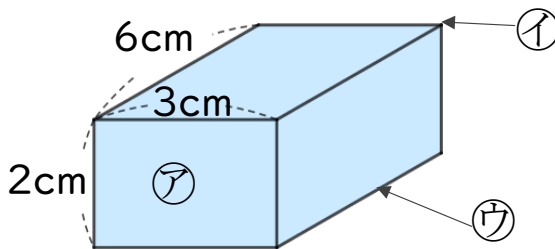
\_\_\_\_\_

③ ねん土玉はぜんぶで何こいらいますか。

答え：

\_\_\_\_\_

2 つぎの形について答えましょう。



① ア～ウはそれぞれいくつありますか。

答え： ア…

イ…

ウ…

\_\_\_\_\_

② うつしとった面の形は何という四角形ですか。

答え：

\_\_\_\_\_

④ 同じ形の面は、いくつずつありますか。

答え：

\_\_\_\_\_





## はこの形 2

● 竹ひごと  
粘土玉で作る箱の形

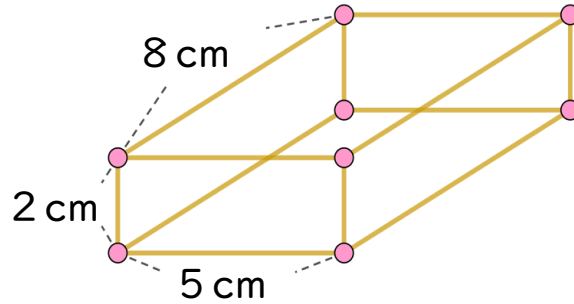
4

めざせ90点!



名まえ

1 ひごとねん土玉をつかって、下のようにはこの形を作ります。(各15点)



① 8 cmのひごはぜんぶで何本いらいますか。

答え：

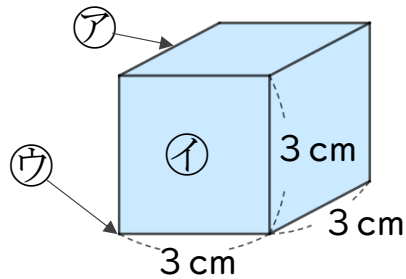
② 12 cmのひごはぜんぶで何本いらいますか。

答え：

③ ねん土玉はぜんぶで何こいらいますか。

答え：

2 つぎの形について答えましょう。



① ア～ウはそれぞれいくつありますか。(各15点)

答え： ア…

イ…

ウ…

② うつしとった面の形は何という四角形ですか。

(各5点)

答え：

③ 同じ長さのへんは、いくつありますか。(各5点)

答え：





## はこの形 2

● 竹ひごと  
粘土玉で作る箱の形

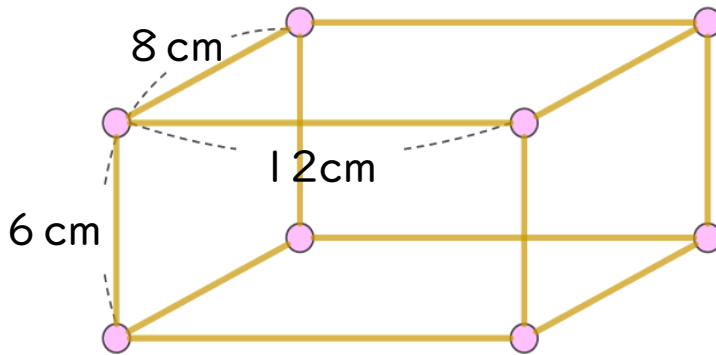


日にち： 月 日

名まえ \_\_\_\_\_

・ ひごとねん土玉をつかって、下のようないろいろな箱を作ります。

(うすい字はしっかりなぞりましょう。)



① 6 cmのひごはぜんぶで何本いらいますか。

答え： 4本

② 8 cmのひごはぜんぶで何本いらいますか。

答え： 4本

③ 12 cmのひごはぜんぶで何本いらいますか。

答え： 4本

④ ねん土玉はぜんぶで何こいらいますか。

答え： 8こ



## はこの形 2

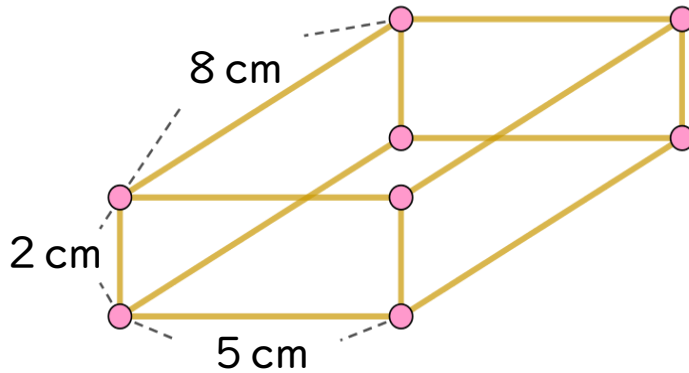
● 竹ひごと  
粘土玉で作る箱の形



日にち： 月 日

名まえ \_\_\_\_\_

・ ひごとねん土玉をつかって、下のようないこの形を作ります。



① 2 cmのひごはぜんぶで何本いらいますか。

答え： 4本

② 5 cmのひごはぜんぶで何本いらいますか。

答え： 4本

③ 8 cmのひごはぜんぶで何本いらいますか。

答え： 4本

④ ねん土玉はぜんぶで何こいらいますか。

答え： 8つ





## はこの形 2

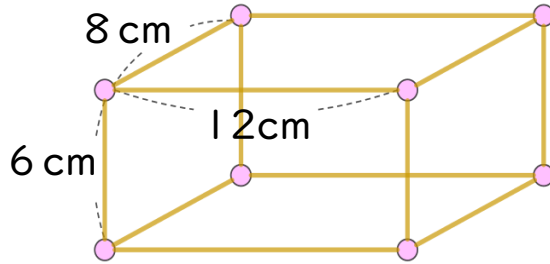
● 竹ひごと  
粘土玉で作る箱の形



日にち： 月 日

名まえ \_\_\_\_\_

1 ひごとねん土玉をつかって、下のよう な はこの形を作ります。



① 8 cm のひごはぜんぶで何本ありますか。

答え： 4 本

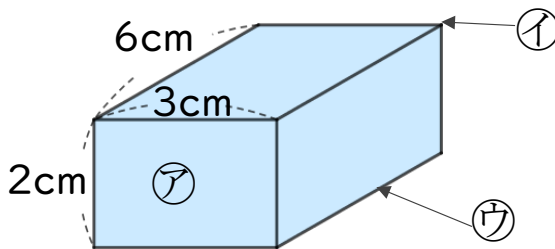
② 12 cm のひごはぜんぶで何本ありますか。

答え： 4 本

③ ねん土玉はぜんぶで何こありますか。

答え： 8 こ

2 つぎの形について答えましょう。



① ①～③はそれぞれいくつありますか。

答え： ①... 6 つ ②... 8 つ ③... 12 本

② うつしとった面の形は何という四角形ですか。

答え： 長方形

④ 同じ形の面は、いくつずつありますか。

答え： 2 つ





## はこの形 2

● 竹ひごと  
粘土玉で作る箱の形

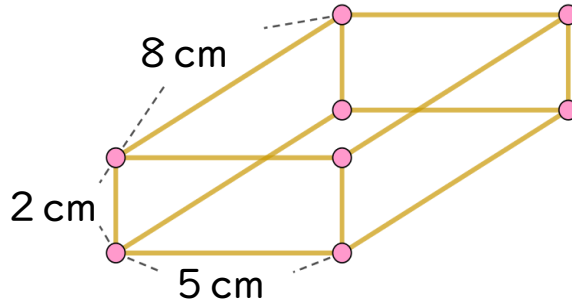
4

めざせ90点!



名まえ

1 ひごとねん土玉をつかって、下のよう な はこの形を作ります。(各15点)



① 8 cmのひごはぜんぶで何本いらいますか。

答え： 4本

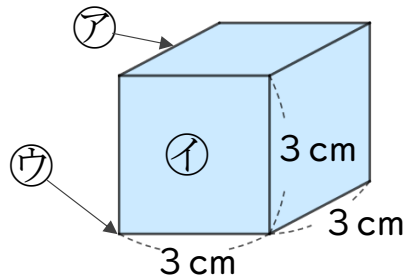
② 12 cmのひごはぜんぶで何本いらいますか。

答え： 4本

③ ねん土玉はぜんぶで何こいらいますか。

答え： 12こ

2 つぎの形について答えましょう。



① ア～ウはそれぞれいくつありますか。(各15点)

答え： ア… 12本    イ… 6つ    ウ… 8つ

② うつしとった面の形は何という四角形ですか。

(各5点)

答え： 正方形

③ 同じ長さのへんは、いくつありますか。(各5点)

答え： 12本

