



はこの形 2

● 竹ひごと
粘土玉で作る箱の形

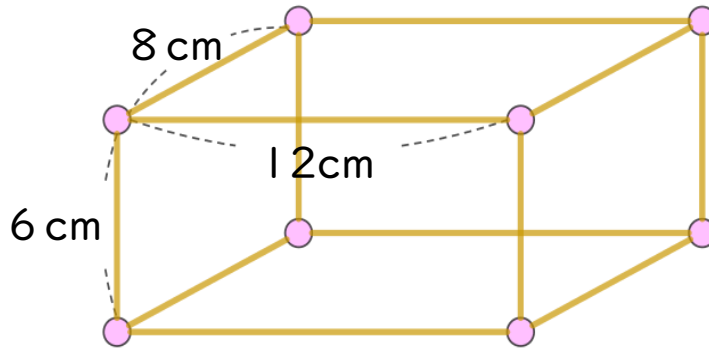


日にち： 月 日

名まえ _____

・ ひごとねん土玉をつかって、下のようにはこの形を作ります。

(うすい字はしっかりなぞりましょう。)



① 6cmのひごはぜんぶで何本ありますか。

答え： _____

② 8cmのひごはぜんぶで何本ありますか。

答え： _____

③ 12cmのひごはぜんぶで何本ありますか。

答え： _____

④ ねん土玉はぜんぶで何こありますか。

答え： _____





はこの形 2

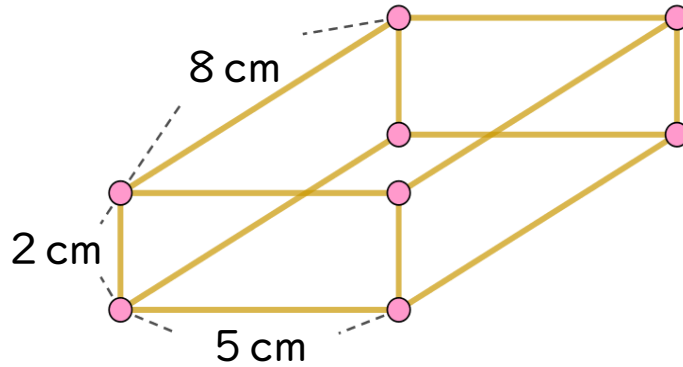
● 竹ひごと
粘土玉で作る箱の形



日にち： 月 日

名まえ _____

・ ひごとねん土玉をつかって、下のようにはこの形を作ります。



① 2 cmのひごはぜんぶで何本いらいますか。

答え： _____

② 5 cmのひごはぜんぶで何本いらいますか。

答え： _____

③ 8 cmのひごはぜんぶで何本いらいますか。

答え： _____

④ ねん土玉はぜんぶで何こいらいますか。

答え： _____





はこの形 2

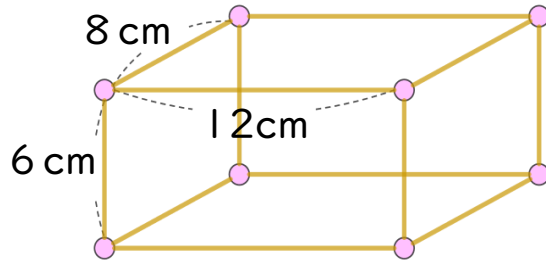
● 竹ひごと
粘土玉で作る箱の形



日にち： 月 日

名まえ _____

1 ひごとねん土玉をつかって、下のようないこの形を作ります。



① 8 cmのひごはぜんぶで何本ありますか。

答え： _____

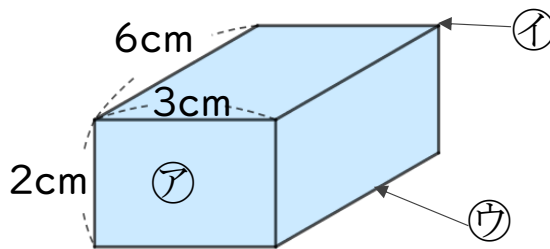
② 12 cmのひごはぜんぶで何本ありますか。

答え： _____

③ ねん土玉はぜんぶで何こありますか。

答え： _____

2 つぎの形について答えましょう。



① ア～ウはそれぞれいくつありますか。

答え： ア... イ... ウ...

② うつしとった面の形は何という四角形ですか。

答え： _____

④ 同じ形の面は、いくつずつありますか。

答え： _____



はこの形 2

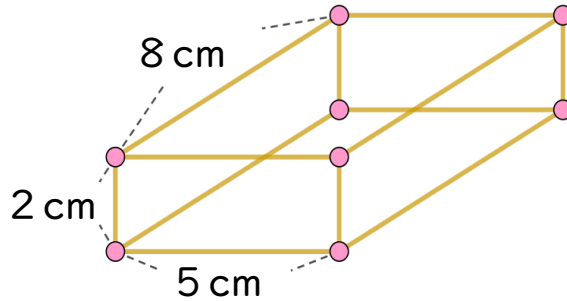
● 竹ひごと
粘土玉で作る箱の形



日にち： 月 日

名まえ _____

1 ひごとねん土玉をつかって、下のようないこの形を作ります。



① 8 cmのひごはぜんぶで何本ありますか。

答え： _____

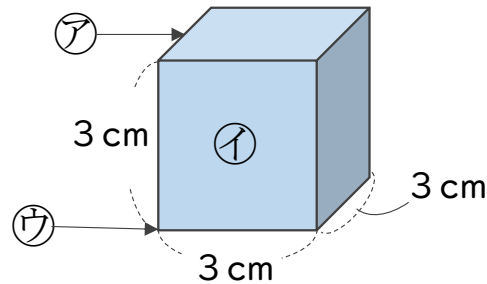
② 5 cmのひごはぜんぶで何本ありますか。

答え： _____

③ ねん土玉はぜんぶで何こありますか。

答え： _____

2 つぎの形について答えましょう。



① ア～ウはそれぞれいくつありますか。

答え： ア…

イ…

ウ…

② うつしとった面の形は何という四角形ですか。

答え： _____

③ 同じ長さのへんは、いくつありますか。

答え： _____



はこの形 2

◎ 竹ひごと
粘土玉で作る箱の形

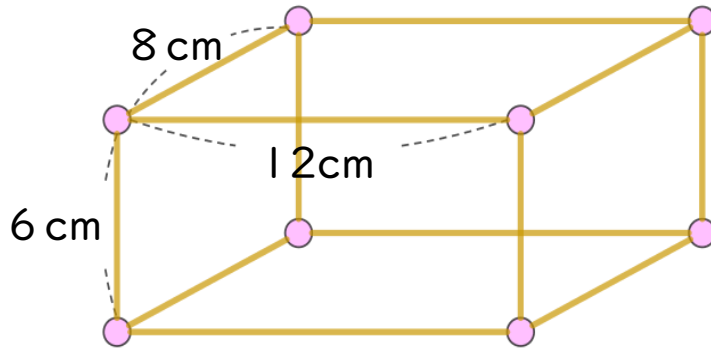


日にち： 月 日

名まえ _____

・ ひごとねん土玉をつかって、下のようにはこの形を作ります。

(うすい字はしっかりなぞりましょう。)



① 6 cmのひごはぜんぶで何本いらいますか。

答え： 4本

② 8 cmのひごはぜんぶで何本いらいますか。

答え： 4本

③ 12 cmのひごはぜんぶで何本いらいますか。

答え： 4本

④ ねん土玉はぜんぶで何こいらいますか。

答え： 8こ





はこの形 2

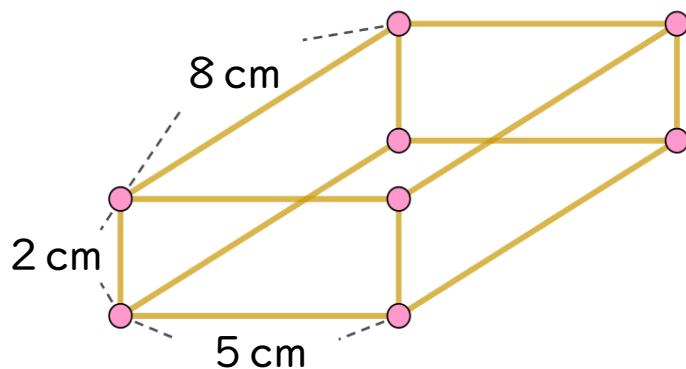
● 竹ひごと
粘土玉で作る箱の形



日にち： 月 日

名まえ _____

・ ひごとねん土玉をつかって、下のようにはこの形を作ります。



① 2 cmのひごはぜんぶで何本いらいますか。

答え： 4本

② 5 cmのひごはぜんぶで何本いらいますか。

答え： 4本

③ 8 cmのひごはぜんぶで何本いらいますか。

答え： 4本

④ ねん土玉はぜんぶで何こいらいますか。

答え： 8つ





はこの形 2

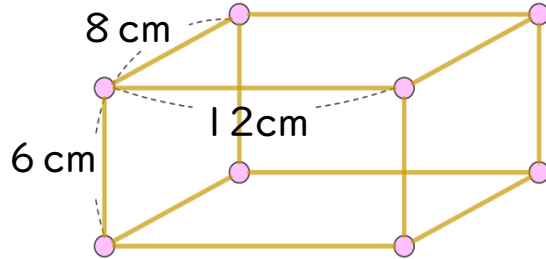
● 竹ひごと
粘土玉で作る箱の形



日にち： 月 日

名まえ _____

1 ひごとねん土玉をつかって、下のようないこの形を作ります。



① 8 cmのひごはぜんぶで何本いらいますか。

答え： 4本

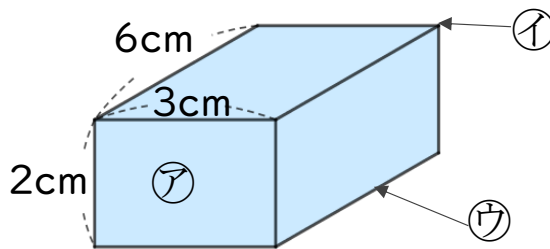
② 12 cmのひごはぜんぶで何本いらいますか。

答え： 4本

③ ねん土玉はぜんぶで何こいらいますか。

答え： 8こ

2 つぎの形について答えましょう。



① ア～ウはそれぞれいくつありますか。

答え： ア… 6つ イ… 8つ ウ… 12本

② うつしとった面の形は何という四角形ですか。

答え： 長方形

④ 同じ形の面は、いくつずつありますか。

答え： 2つ



はこの形 2

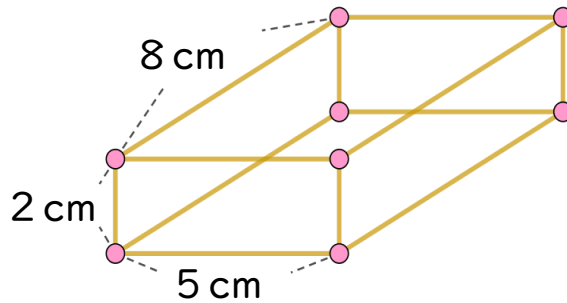
● 竹ひごと
粘土玉で作る箱の形



日にち： 月 日

名まえ _____

1 ひごとねん土玉をつかって、下のようなはこの形を作ります。



① 8 cmのひごはぜんぶで何本いらいますか。

答え： 4本

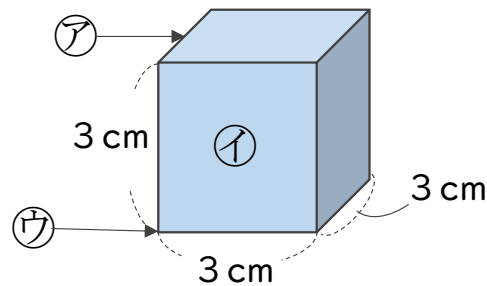
② 5 cmのひごはぜんぶで何本いらいますか。

答え： 4本

③ ねん土玉はぜんぶで何こいらいますか。

答え： 12こ

2 つぎの形について答えましょう。



① ア～ウはそれぞれいくつありますか。

答え： ア… 12本 イ… 6つ ウ… 8つ

② うつしとった面の形は何という四角形ですか。

答え： 正方形

③ 同じ長さのへんは、いくつありますか。

答え： 12本