



はこの形 4

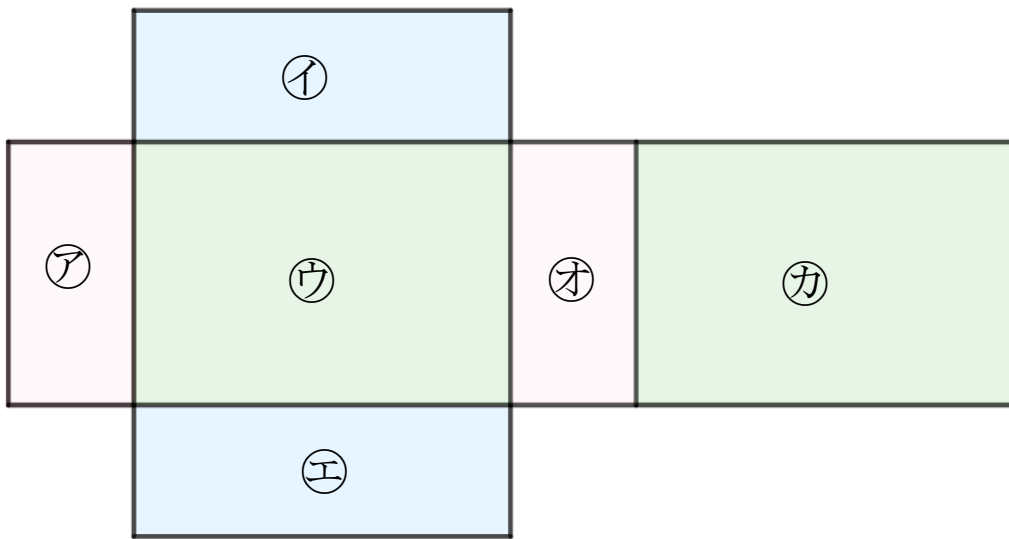
◎サイコロの向かい合う面



日にち： 月 日

名まえ _____

- ・ つぎの図ははこの形を切りひらいたものです。
組み立てたときにむかい合う面を3組さがして、
㊦～㊦で答えましょう。 (うすい字はしっかりなぞりましょう。)



答え： ㊦ と ㊦ , と , と



はこの形 4

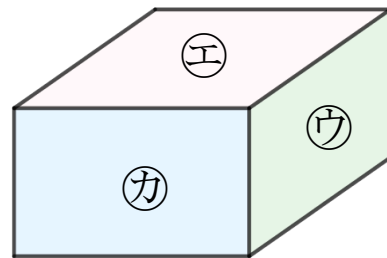
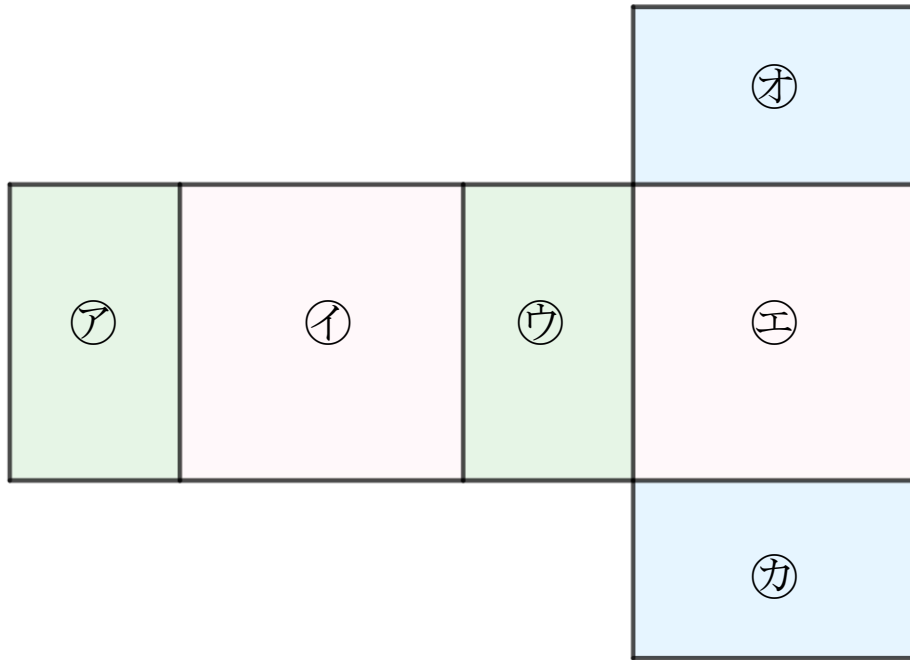
サイコロの向かい合う面

2

日にち： 月 日

名まえ _____

- つぎの図ははこの形を切りひらいたものです。
組み立てたときにむかい合う面を3組さがして、
㊦～㊨で答えましょう。(うすい字はしっかりなぞりましょう。)



答え： ㊦ と ㊨ , と , と



はこの形 4

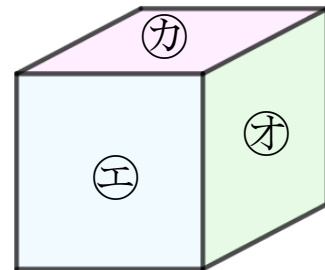
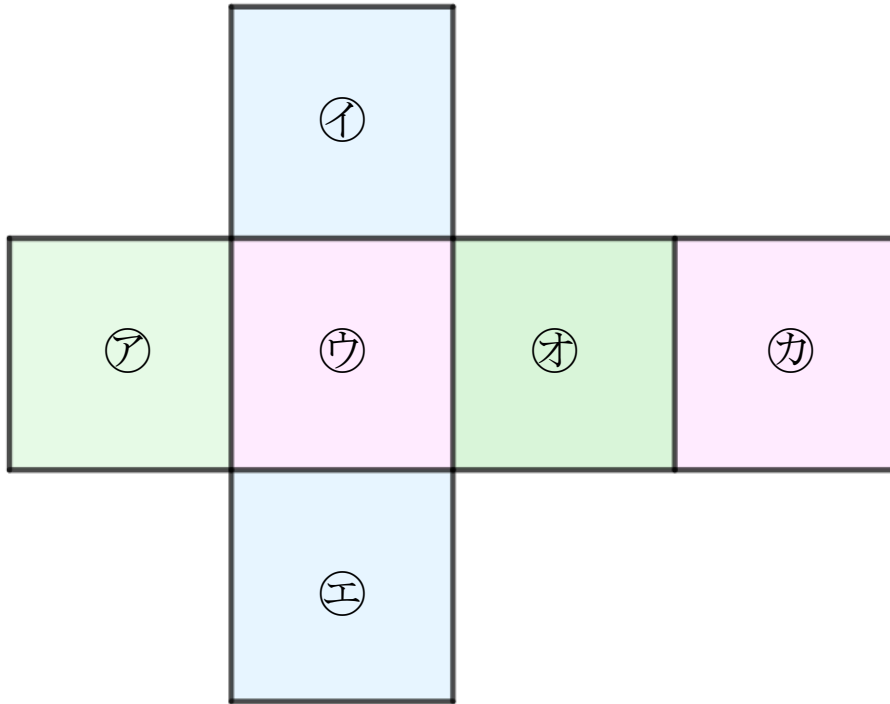
サイコロの向かい合う面



日にち： 月 日

名まえ _____

- つぎの図はサイコロの形を切りひらいたものです。組み立てたときにおかい合う面を3組さがして、
ア～カで答えましょう。(うすい字はしっかりなぞりましょう。)



答え： ア と オ ， と ， と



はこの形 4

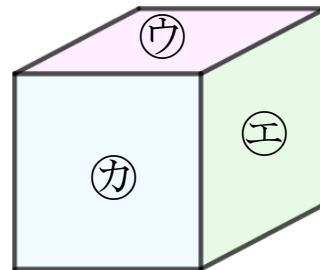
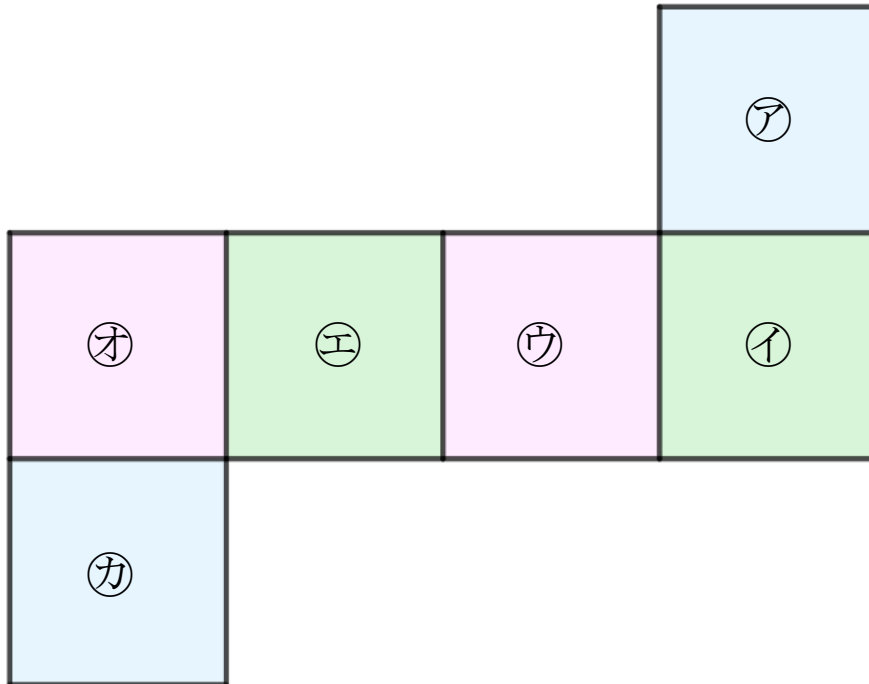
サイコロの向かい合う面



日にち： 月 日

名まえ _____

- つぎの図はさいころの形を切りひらいたものです。組み立てたときにおかい合う面を3組さがして、
①～④で答えましょう。(うすい字はしっかりなぞりましょう。)



答え： ① と ④ , と , と



はこの形 4

サイコロの向かい合う面

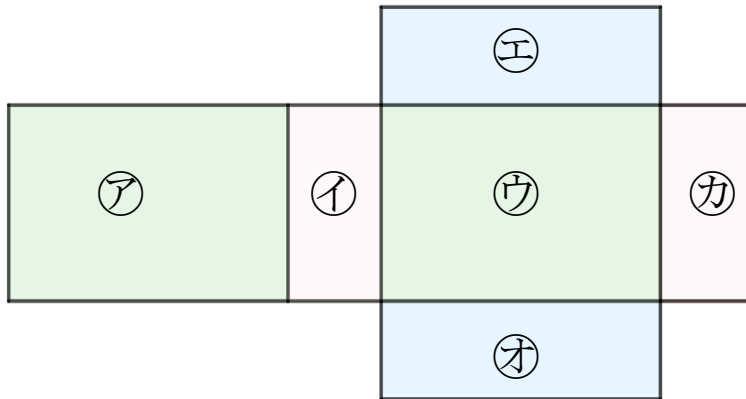


日にち： 月 日

名まえ _____

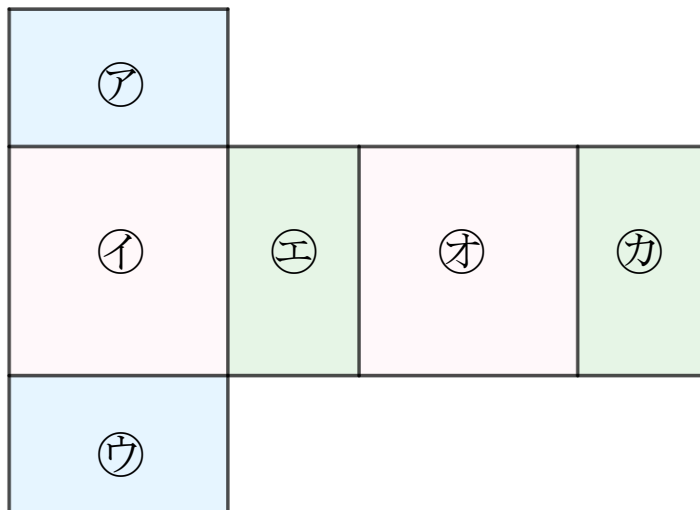
- つぎの図は はこやさいころの形を切りひらいたものです。組み立てたときにおかい合う面を3組さがして、ア～カで答えましょう。

①



答え： と , と , と

②



答え： と , と , と



はこの形 4

サイコロの向かい合う面

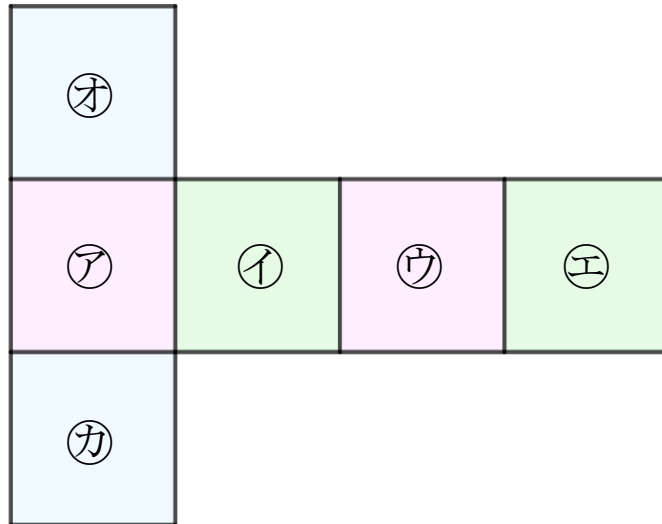


日にち： 月 日

名まえ _____

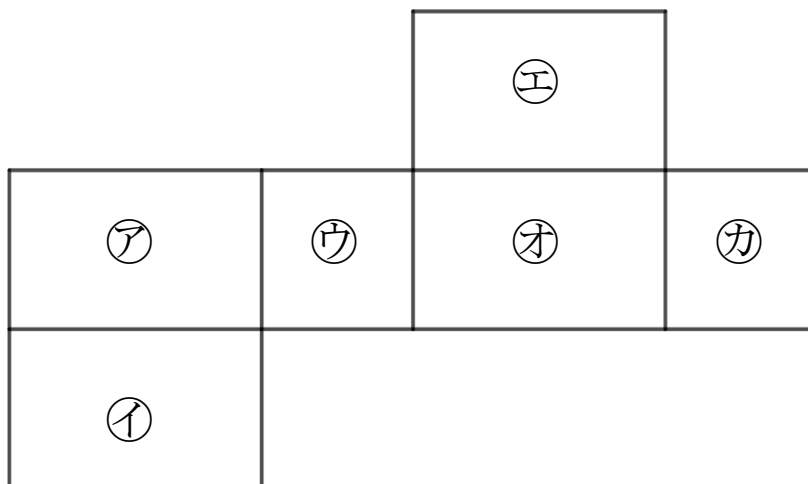
- つぎの図は はこやさいころの形を切りひらいたものです。組み立てたときにおかい合う面を3組さがして、ア～カで答えましょう。

①



答え： と , と , と

②



答え： と , と , と



はこの形 4

サイコロの向かい合う面

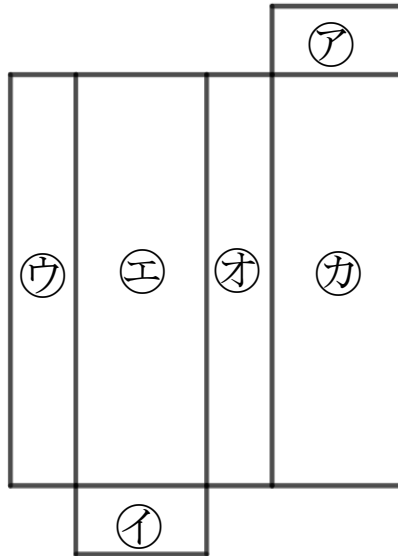


日にち： 月 日

名まえ _____

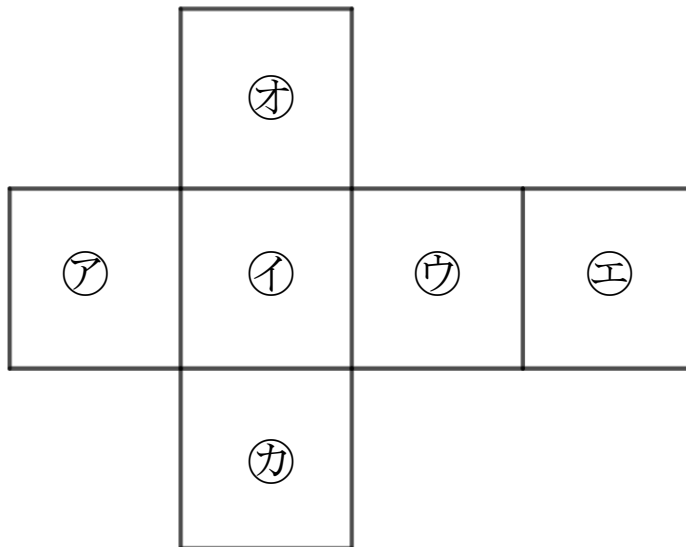
- ・ つぎの図は はこやさいころの形を切りひらいたものです。組み立てたときにおかい合う面を3組さがして、ア～カで答えましょう。

①



答え： と , と , と

②



答え： と , と , と



はこの形 4

◎サイコロの向かい合う面

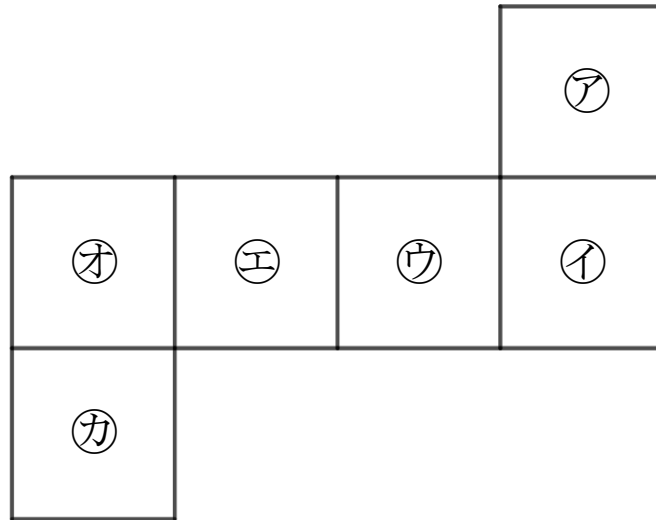


日にち： 月 日

名まえ _____

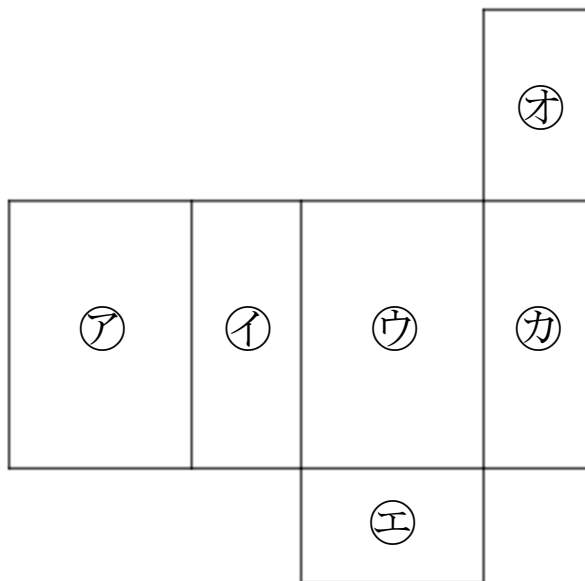
- ・ つぎの図は はこやさいころの形を切りひらいたものです。
組み立てたときにおかい合う面を3組さがして、
ア～カで答えましょう。

①



答え： と , と , と

②



答え： と , と , と





はこの形 4

サイコロの向かい合う面

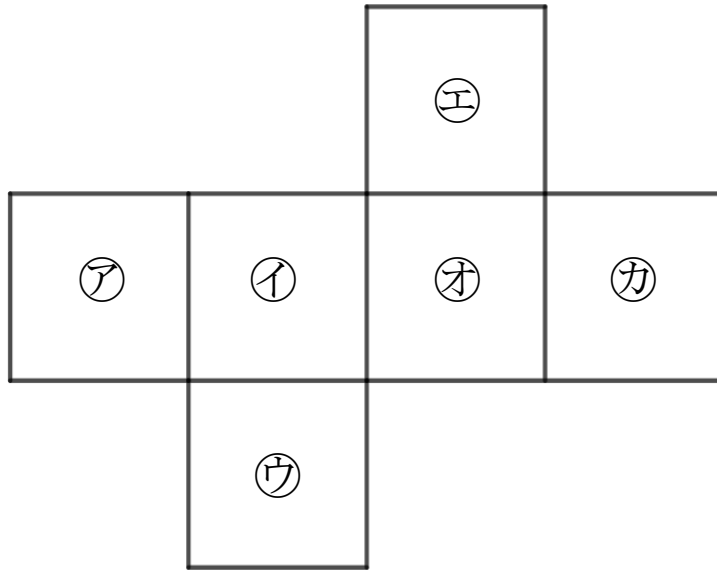


日にち： 月 日

名まえ _____

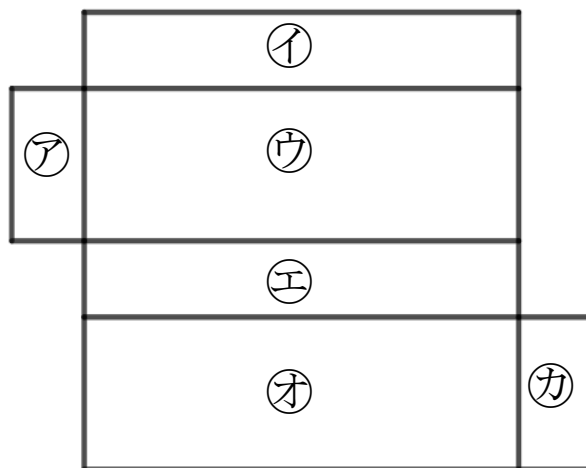
- ・ つぎの図は はこやさいころの形を切りひらいたものです。組み立てたときにおかい合う面を3組さがして、ア～カで答えましょう。

①



答え： と , と , と

②



答え： と , と , と



はこの形 4

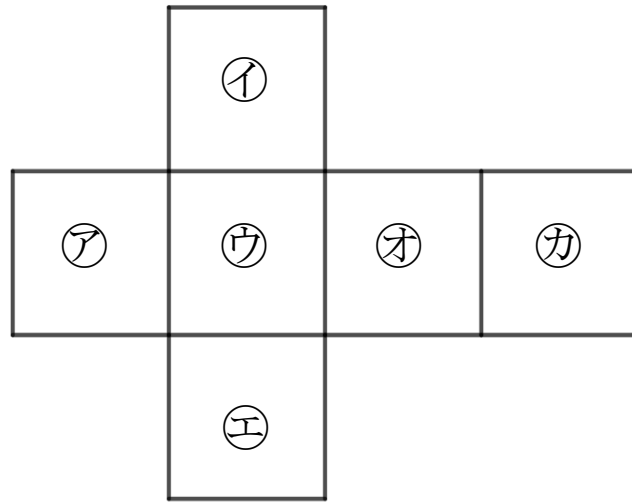
サイコロの向かい合う面



日にち： 月 日

名まえ _____

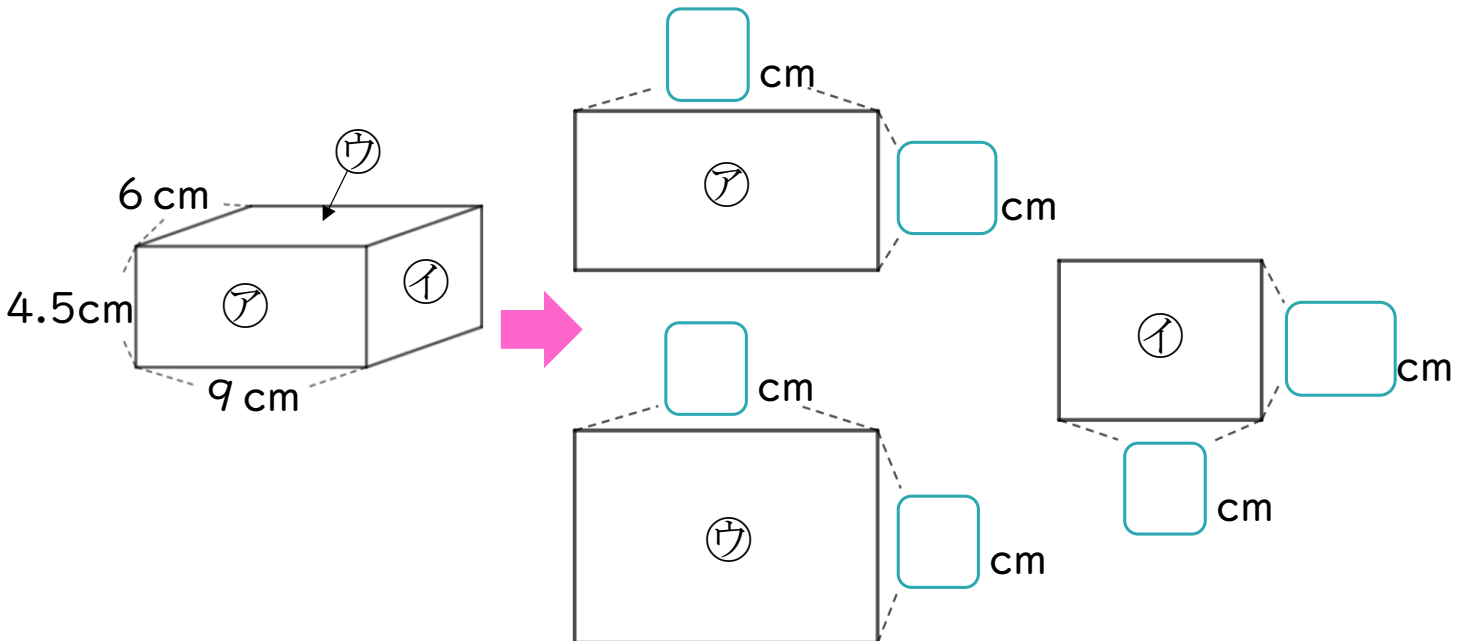
1 つぎの図はサイコロの形を切りひらいたものです。組み立てたときにおかい合う面を3組さがして、ア～カで答えましょう。



答え： と , と , と

2 つぎのはこの面をうつしとりました。

□にあてはまる数を書きましょう。





はこの形 4

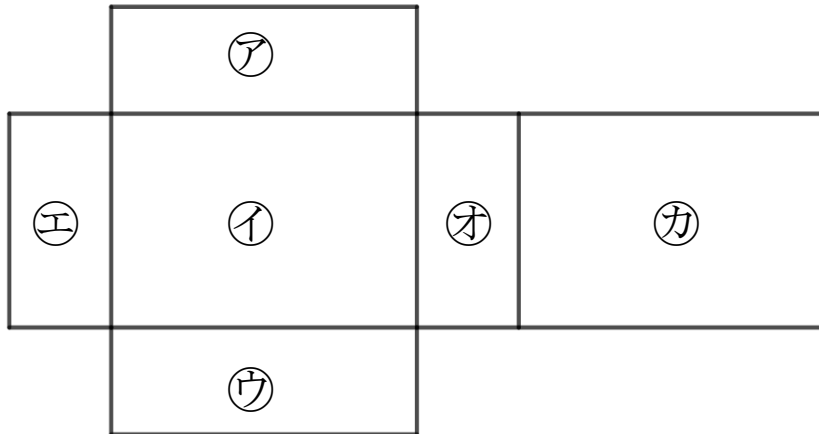
サイコロの向かい合う面



日にち： 月 日

名まえ _____

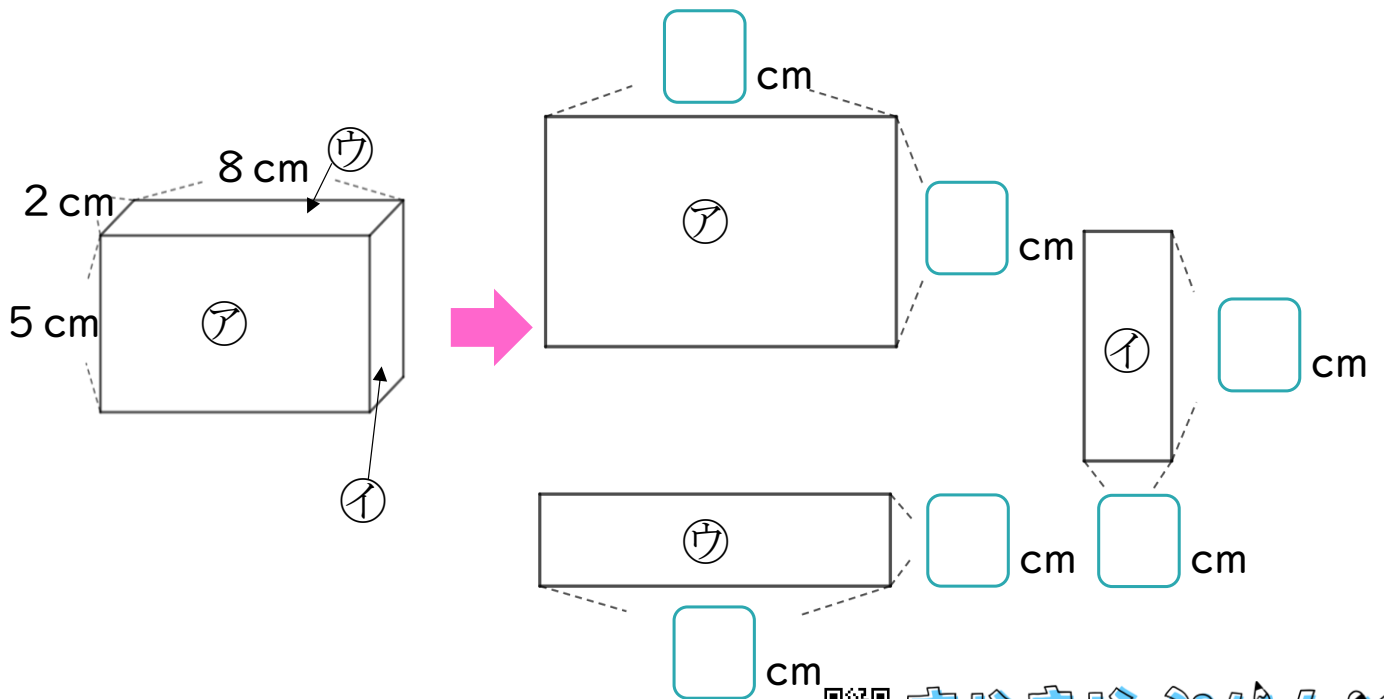
- 1 つぎの図ははこの形を切りひらいたものです。
 組み立てたときにおかい合う面を3組さがして、
 ㉠～㉣で答えましょう。



答え： と , と , と

- 2 つぎのはこの面をうつしとりました。

にあてはまる数を書きましょう。





はこの形 4

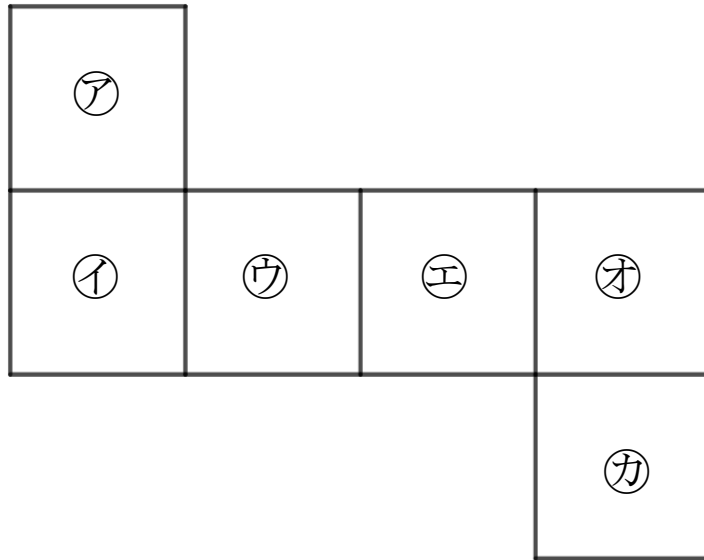
サイコロの向かい合う面

12

日にち： 月 日

名まえ _____

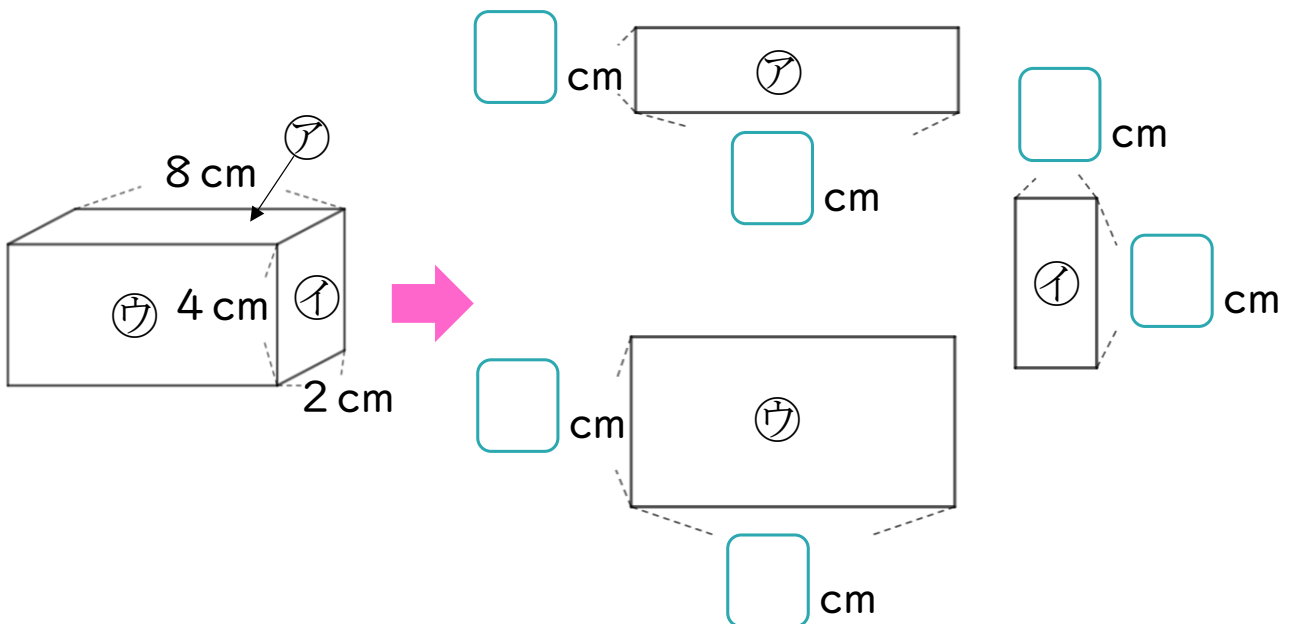
1 つぎの図はサイコロの形を切りひらいたものです。組み立てたときにおかい合う面を3組さがして、ア～カで答えましょう。



答え： と , と , と

2 つぎのはこの面をうつしとりました。

にあてはまる数を書きましょう。





はこの形 4

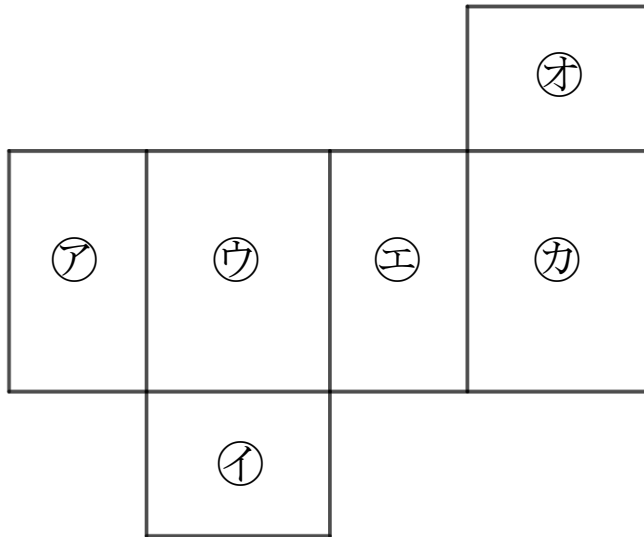
サイコロの向かい合う面

13

日にち： 月 日

名まえ _____

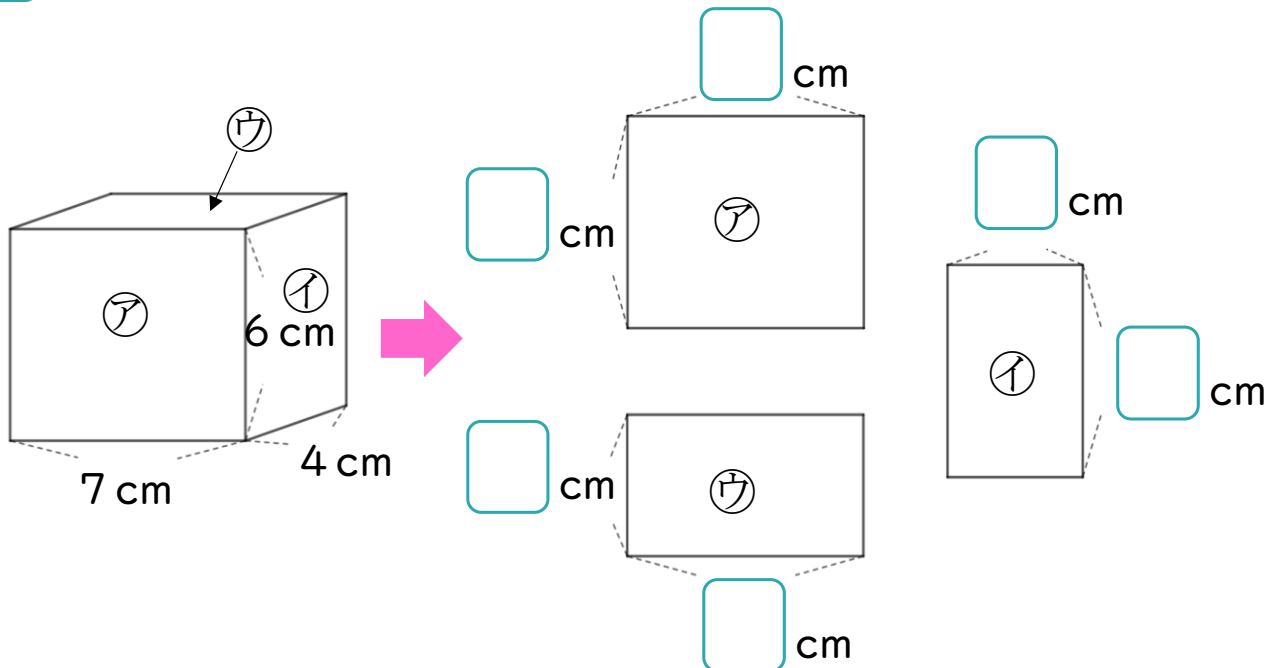
- 1 つぎの図ははこの形を切りひらいたものです。
 組み立てたときにおかい合う面を3組さがして、
 ㉠～㉣で答えましょう。



答え： と , と , と

- 2 つぎのはこの面をうつしとりました。

にあてはまる数を書きましょう。





はこの形 4

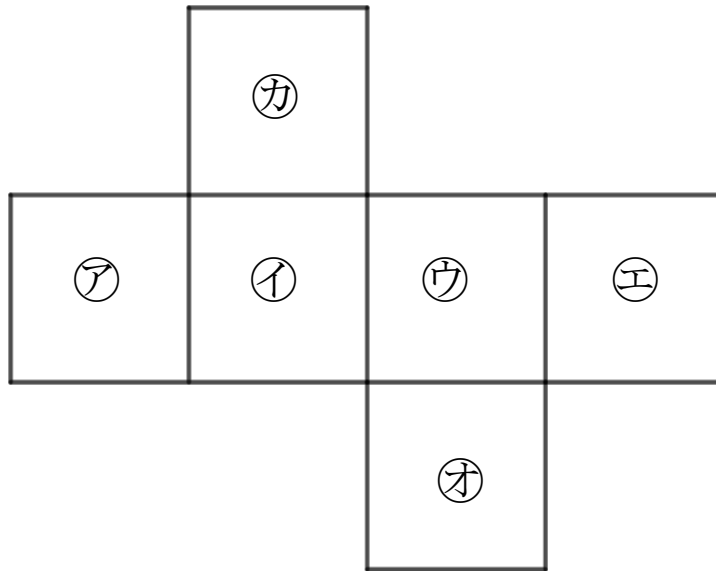
サイコロの向かい合う面

14

日にち： 月 日

名まえ _____

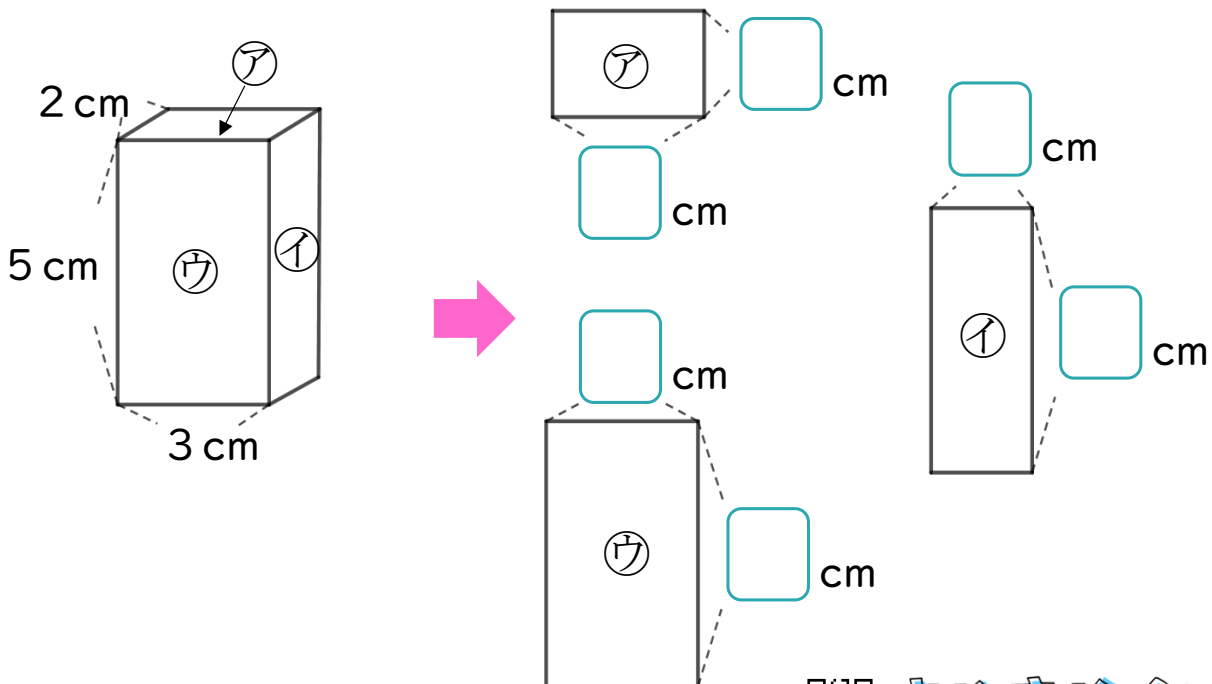
- 1 つぎの図はサイコロの形を切りひらいたものです。組み立てたときにおかい合う面を3組さがして、ア～カで答えましょう。



答え： と , と , と

- 2 つぎのはこの面をうつしとりました。

にあてはまる数を書きましょう。





はこの形 4

サイコロの向かい合う面

15

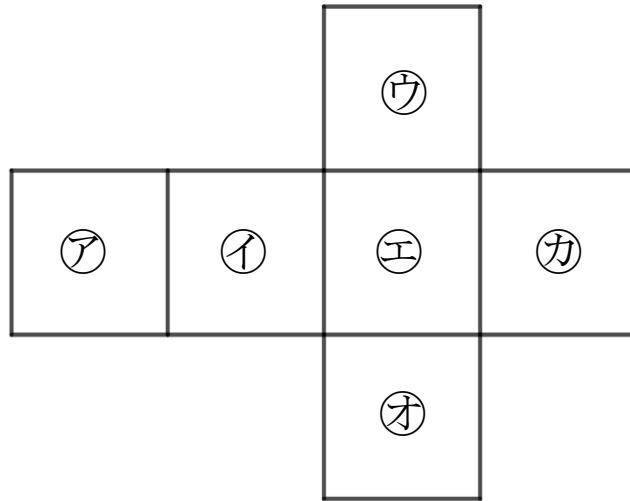
めざせ100点!



名まえ

1 つぎの図はサイコロの形を切りひらいたものです。組み立てたときにおかい合う面を3組さがして、ア～カで答えましょう。

(70点)

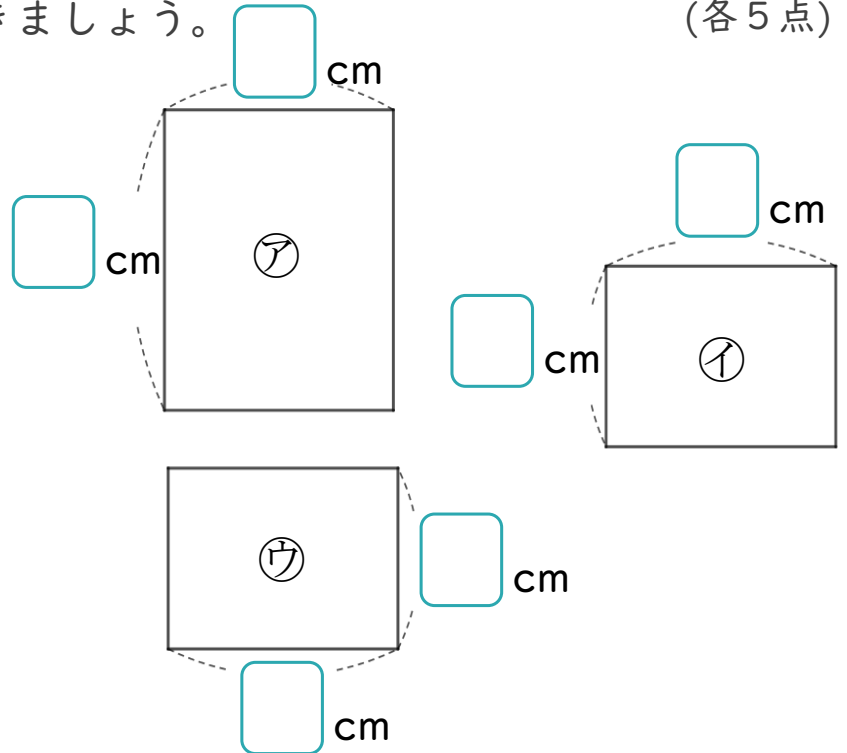
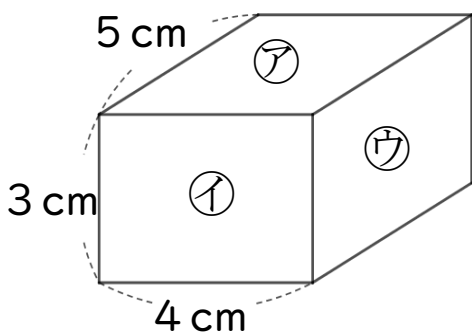


答え： と , と , と

2 つぎのはこの面をうつしとりました。

□にあてはまる数を書きましょう。

(各5点)





はこの形 4

サイコロの向かい合う面

16

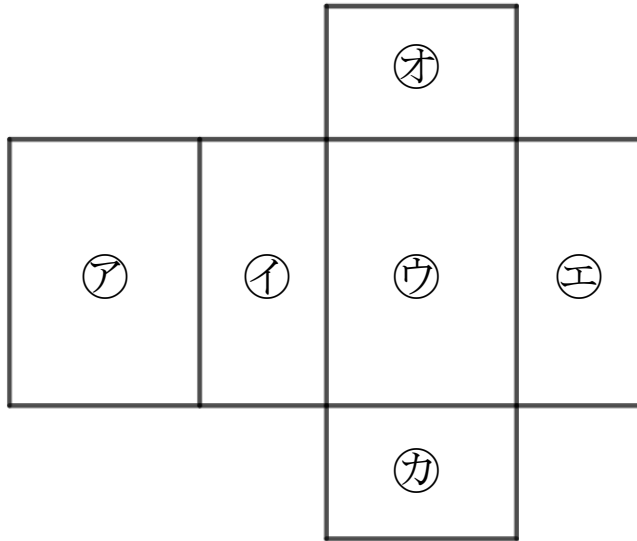
めざせ100点!



名まえ

1 つぎの図ははこの形を切りひらいたものです。組み立てたときにおかい合う面を3組さがして、ア~カで答えましょう。

(70点)

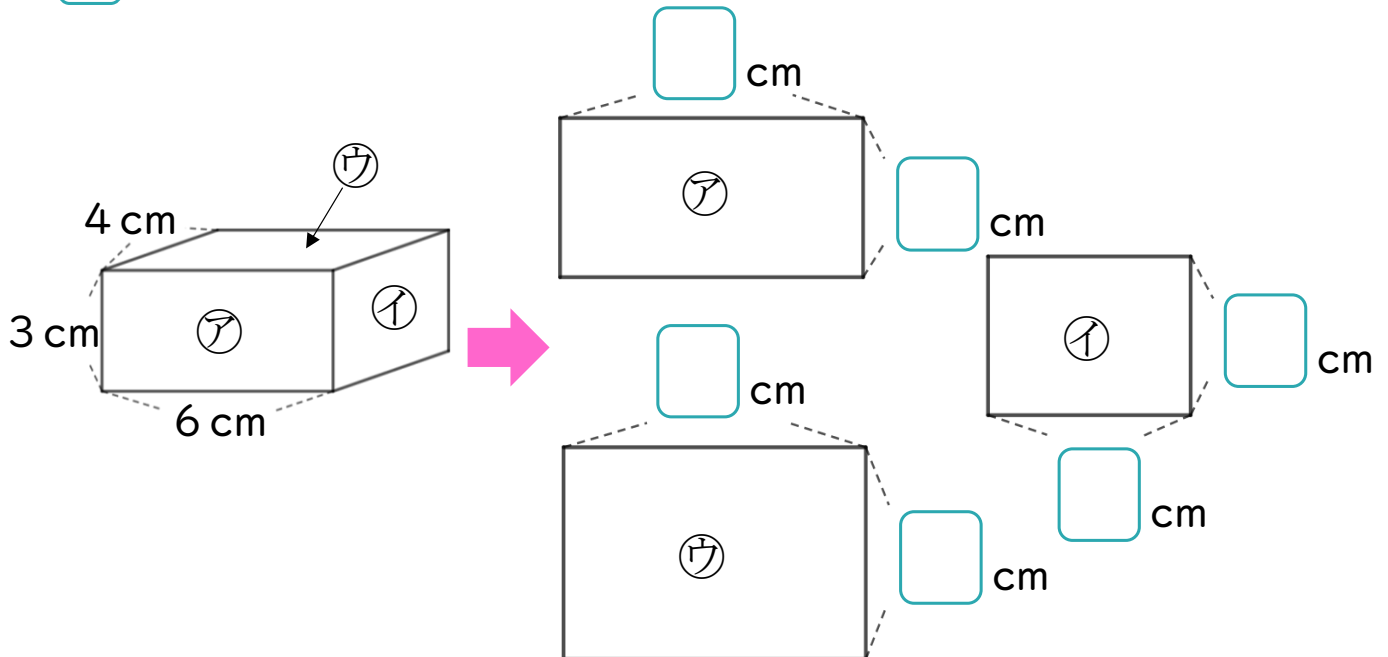


答え： と , と , と

2 つぎのはこの面をうつしとりました。

にあてはまる数を書きましょう。

(各5点)





はこの形 4

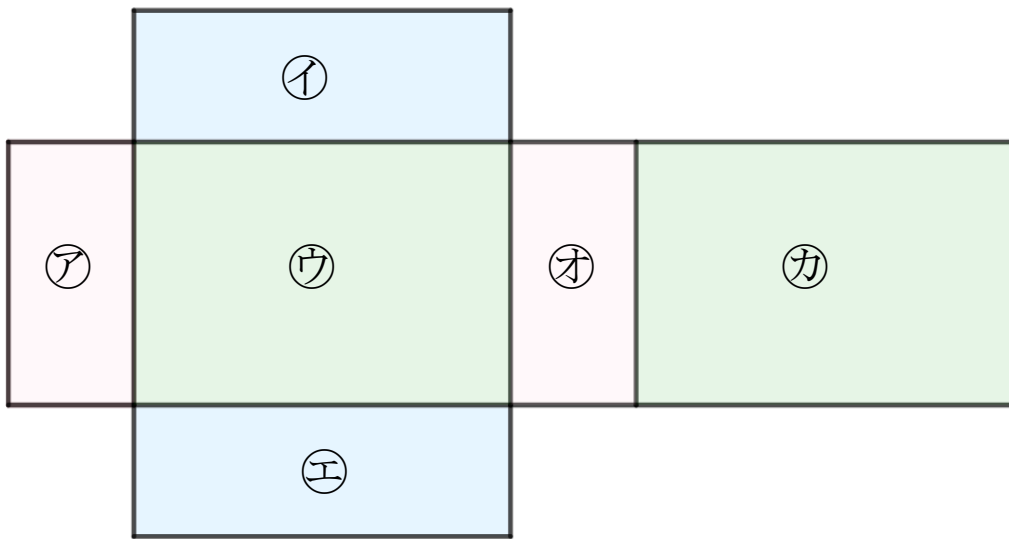
サイコロの向かい合う面



日にち： 月 日

名まえ _____

- つぎの図ははこの形を切りひらいたものです。組み立てたときにむかい合う面を3組さがして、ア～カで答えましょう。(うすい字はしっかりなぞりましょう。)



答え： ア と オ , イ と エ , ウ と カ





はこの形 4

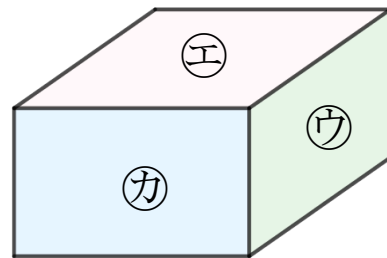
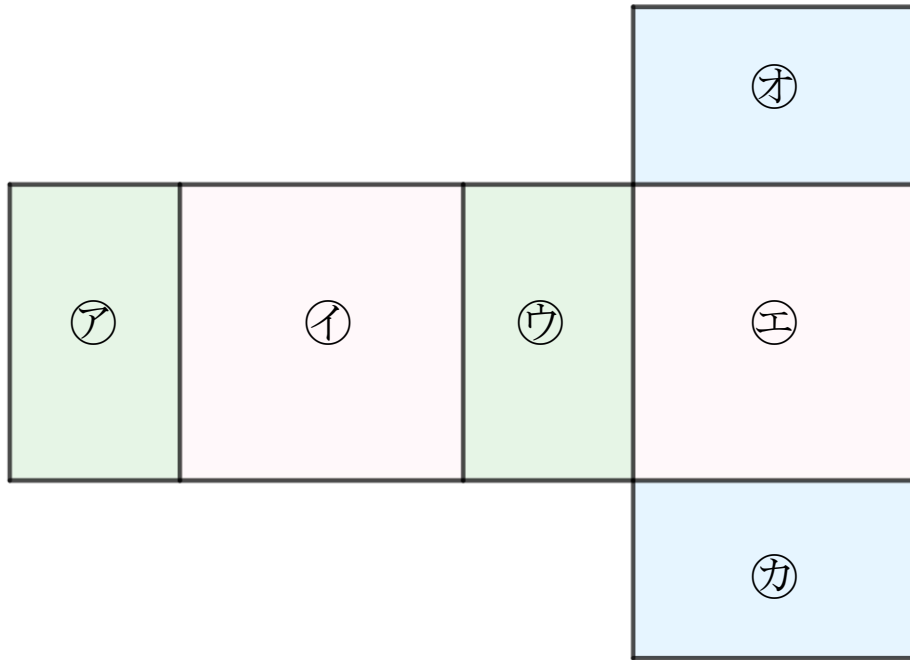
サイコロの向かい合う面

2

日にち： 月 日

名まえ _____

- つぎの図ははこの形を切りひらいたものです。組み立てたときにむかい合う面を3組さがして、**ア**～**カ**で答えましょう。(うすい字はしっかりなぞりましょう。)



答え： **ア** と **ウ** , **イ** と **エ** , **オ** と **カ**



はこの形 4

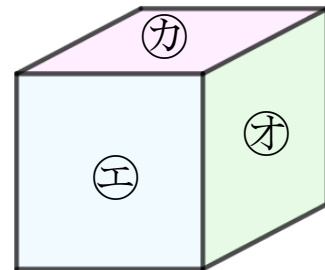
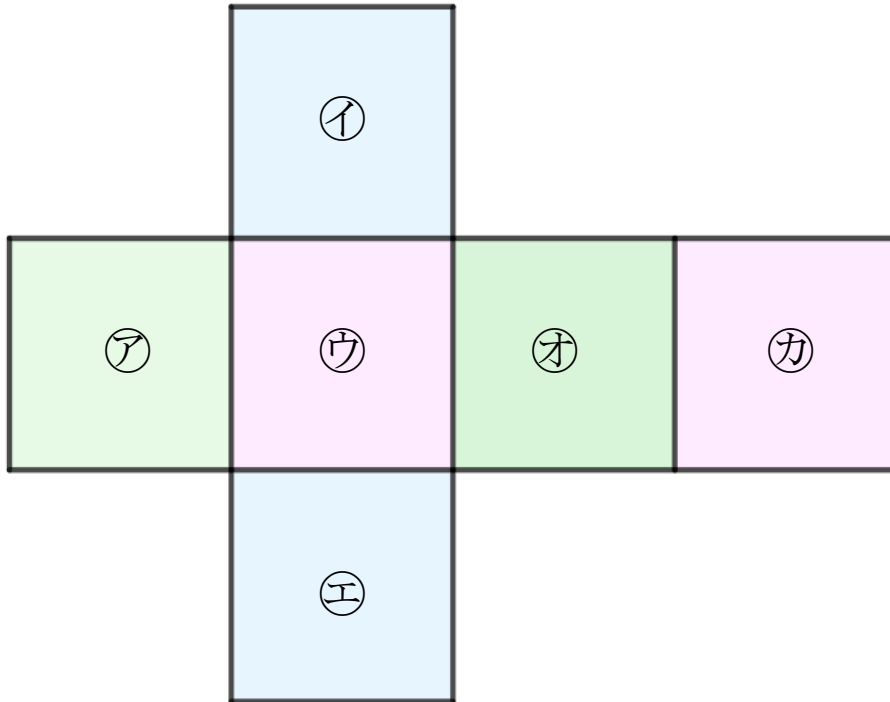
サイコロの向かい合う面



日にち： 月 日

名まえ _____

- つぎの図はサイコロの形を切りひらいたものです。組み立てたときにおかい合う面を3組さがして、**ア**～**カ**で答えましょう。(うすい字はしっかりなぞりましょう。)



答え： **ア** と **オ** , **イ** と **エ** , **ウ** と **カ**



はこの形 4

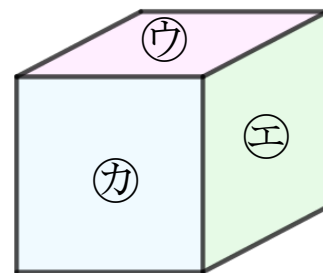
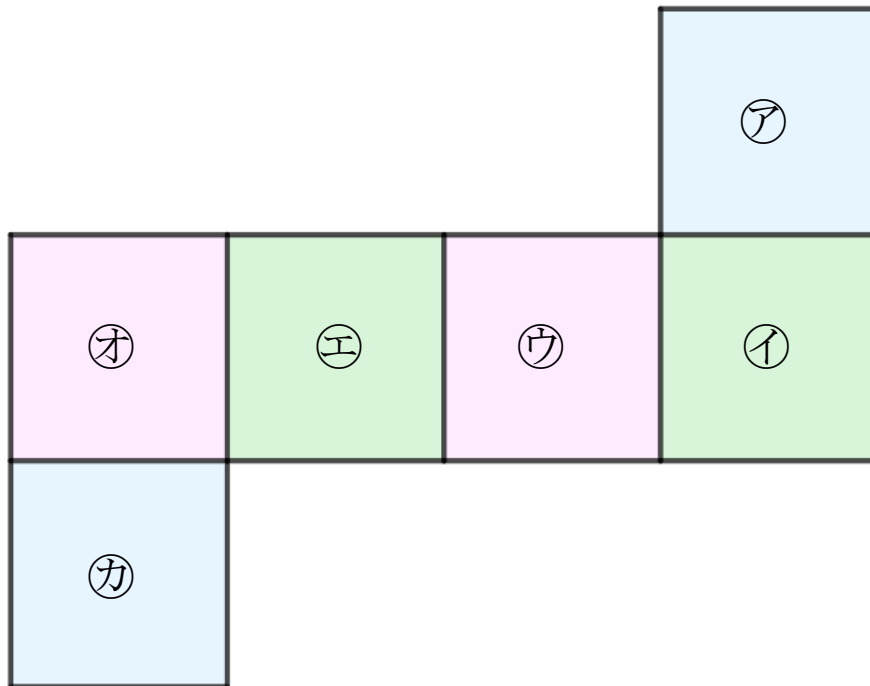
サイコロの向かい合う面



日にち： 月 日

名まえ _____

- つぎの図はサイコロの形を切りひらいたものです。組み立てたときにおかい合う面を3組さがして、
ア～カで答えましょう。(うすい字はしっかりなぞりましょう。)



答え： ア と カ , イ と エ , ウ と オ





はこの形 4

サイコロの向かい合う面

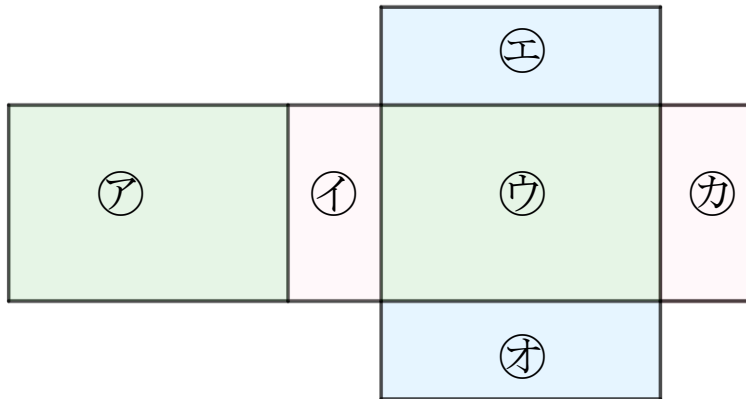


日にち： 月 日

名まえ _____

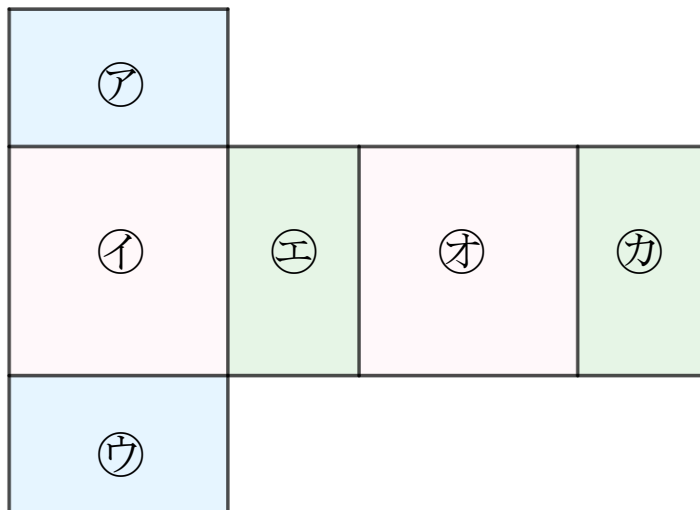
- つぎの図は はこやさいころの形を切りひらいたものです。組み立てたときにおかい合う面を3組さがして、ア～カで答えましょう。

①



答え： ア と ウ , イ と カ , エ と オ

②



答え： ア と ウ , イ と オ , エ と カ





はこの形 4

サイコロの向かい合う面

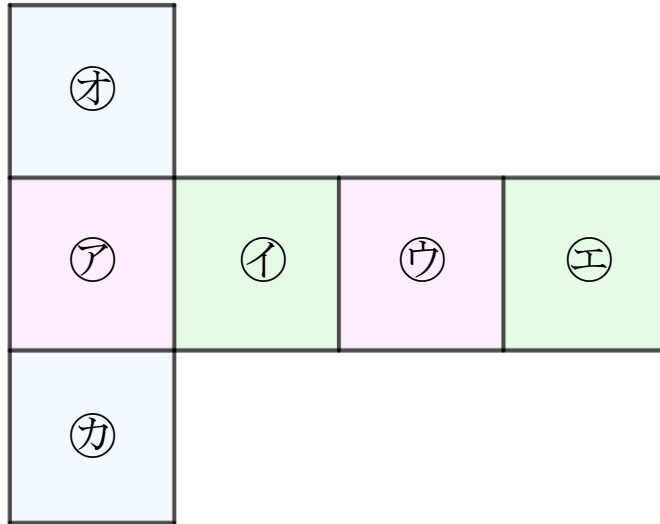


日にち： 月 日

名まえ _____

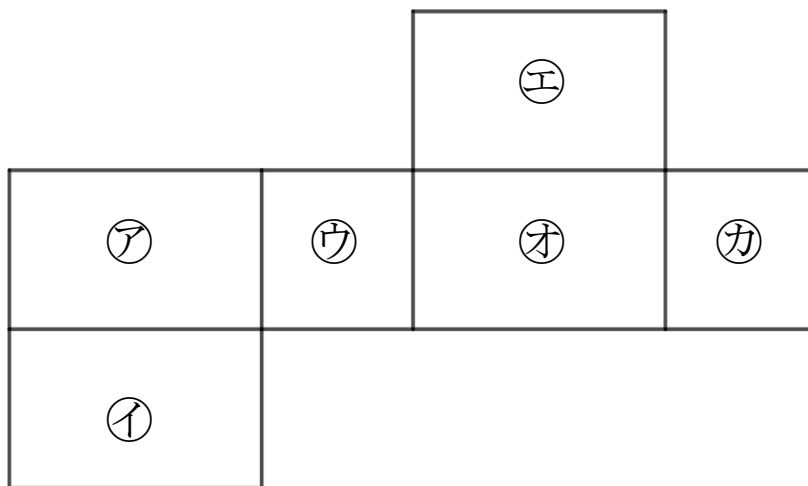
- つぎの図は はこやさいころの形を切りひらいたものです。組み立てたときにおかい合う面を3組さがして、ア～カで答えましょう。

①



答え： ア と ウ , イ と エ , オ と カ

②



答え： ア と オ , イ と エ , ウ と カ





はこの形 4

サイコロの向かい合う面

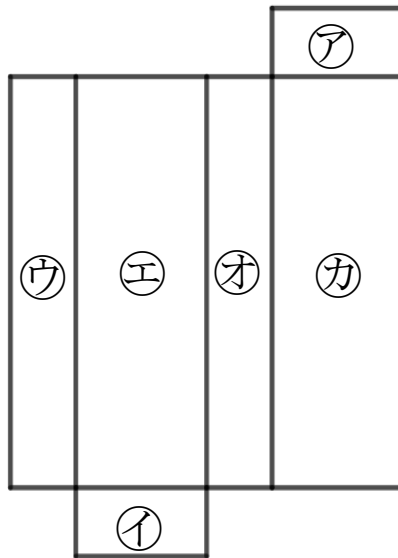


日にち： 月 日

名まえ _____

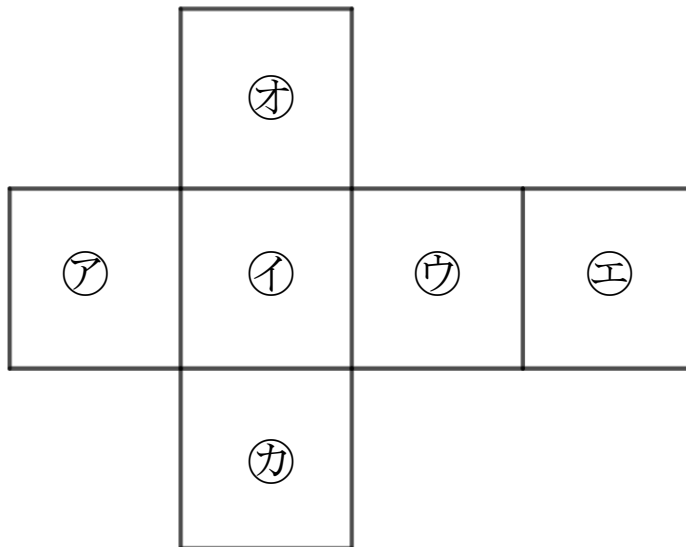
- ・ つぎの図は はこやさいころの形を切りひらいたものです。組み立てたときにむかい合う面を3組さがして、ア～カで答えましょう。

①



答え： ア と イ , ウ と カ , エ と カ

②



答え： ア と ウ , イ と エ , オ と カ





はこの形 4

サイコロの向かい合う面

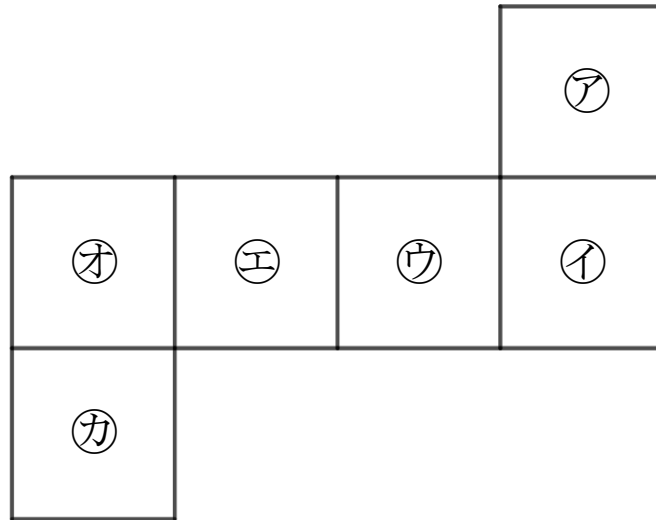


日にち： 月 日

名まえ _____

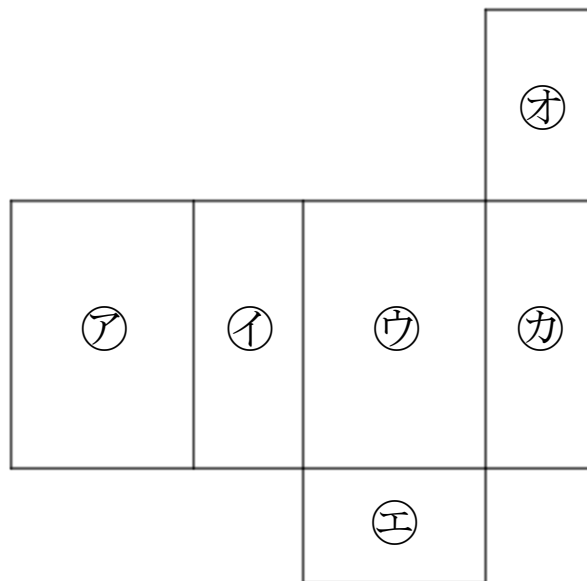
- つぎの図は はこやさいころの形を切りひらいたものです。組み立てたときにおかい合う面を3組さがして、ア～カで答えましょう。

①



答え： ア と カ , イ と エ , ウ と オ

②



答え： ア と ウ , イ と カ , オ と エ





はこの形 4

サイコロの向かい合う面

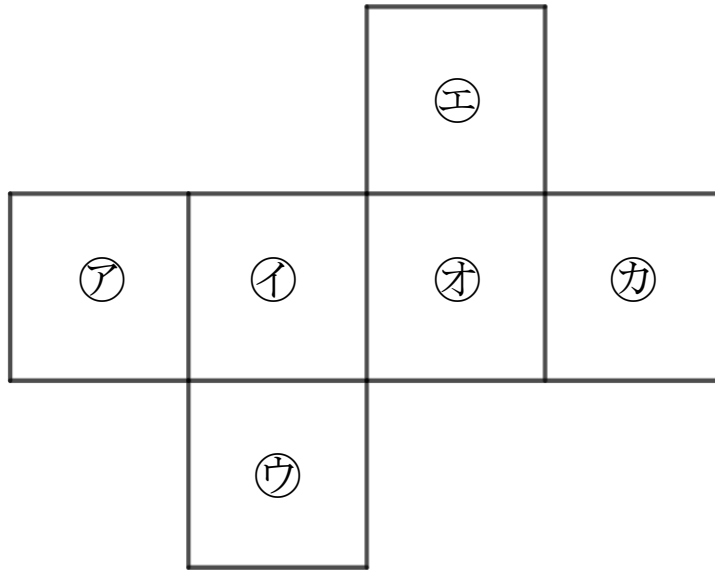


日にち： 月 日

名まえ _____

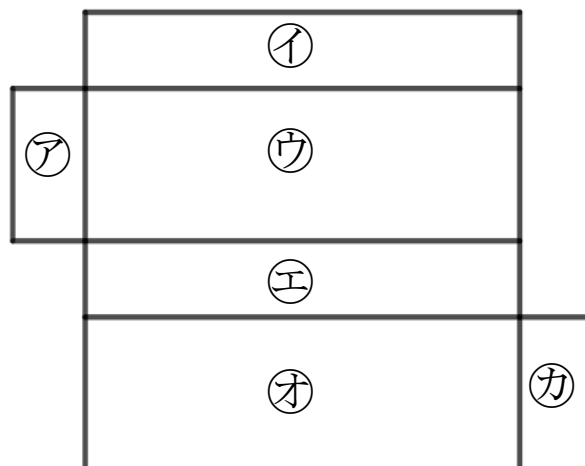
- つぎの図は はこやさいころの形を切りひらいたものです。組み立てたときにおかい合う面を3組さがして、ア～カで答えましょう。

①



答え： ア と オ , イ と カ , ウ と エ

②



答え： ア と カ , イ と エ , ウ と オ





はこの形 4

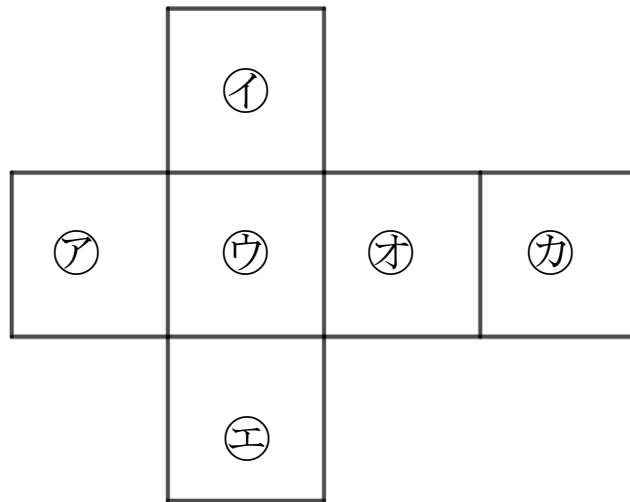
サイコロの向かい合う面



日にち： 月 日

名まえ _____

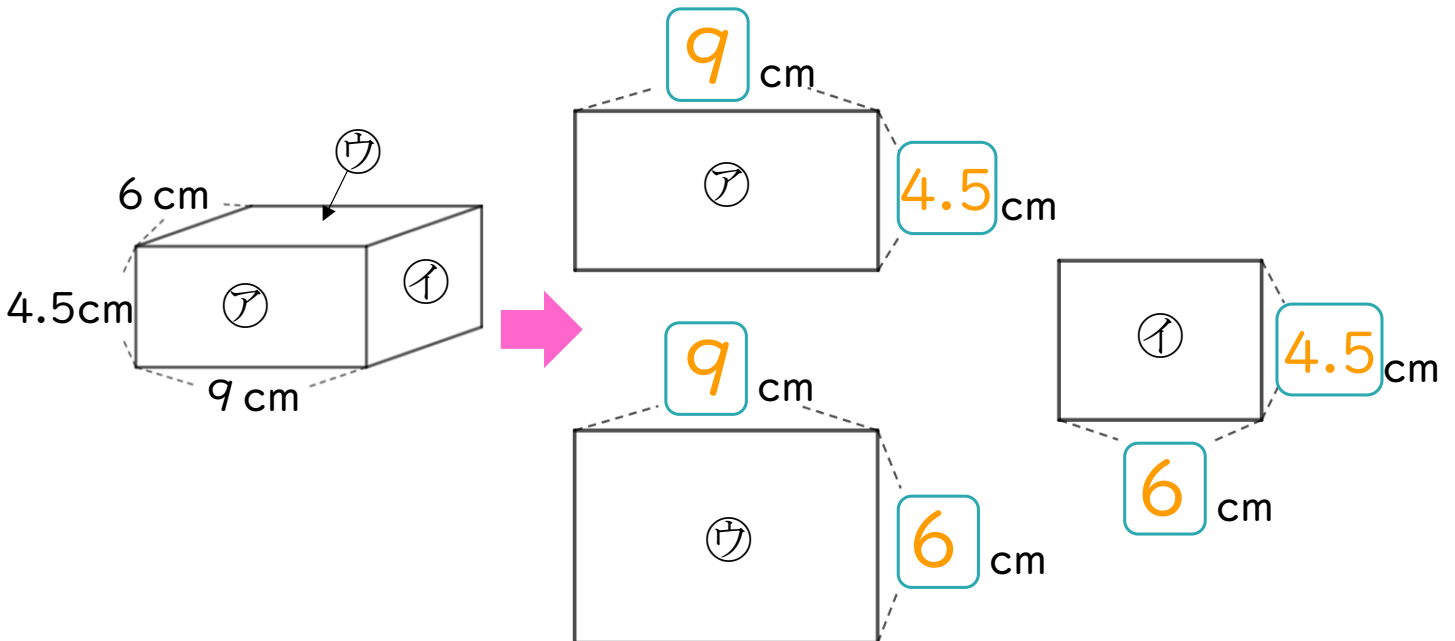
1 つぎの図はサイコロの形を切りひらいたものです。組み立てたときにおかい合う面を3組さがして、ア～カで答えましょう。



答え： ア と オ , イ と エ , ウ と カ

2 つぎのはこの面をうつしとりました。

□ にあてはまる数を書きましょう。





はこの形 4

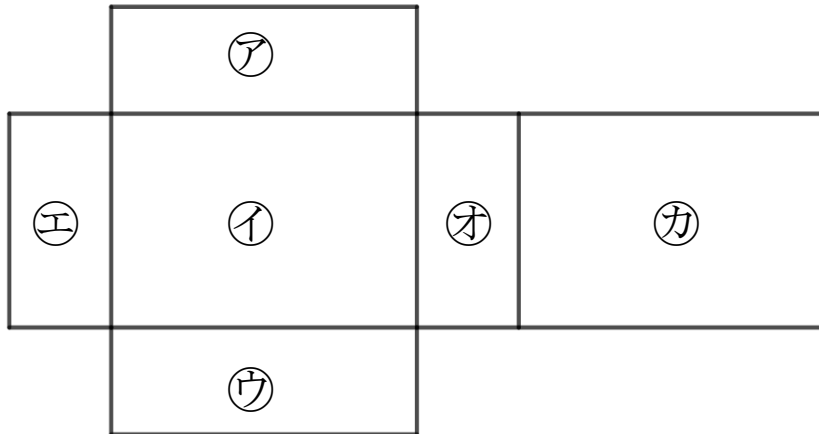
サイコロの向かい合う面



日にち： 月 日

名まえ _____

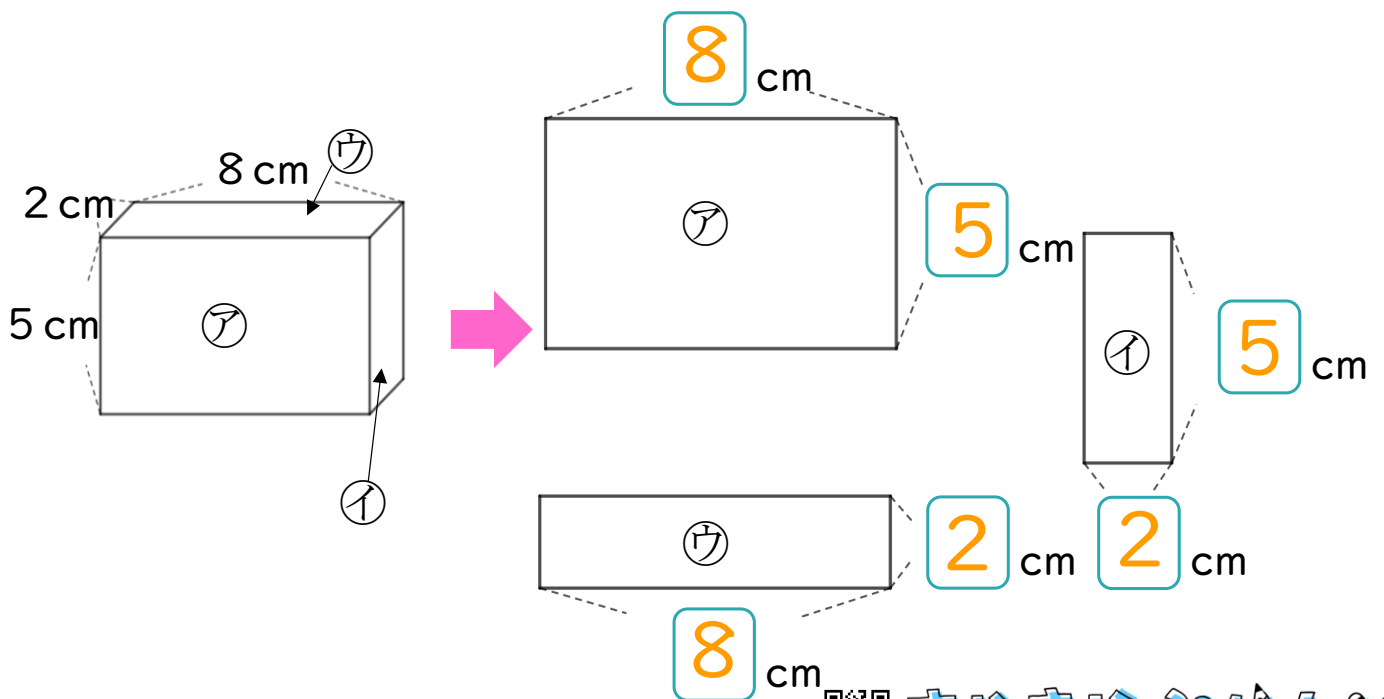
- 1 つぎの図ははこの形を切りひらいたものです。
組み立てたときにおかい合う面を3組さがして、
ア～カで答えましょう。



答え： ア と ウ , イ と カ , エ と オ

- 2 つぎのはこの面をうつしとりました。

□ にあてはまる数を書きましょう。





はこの形 4

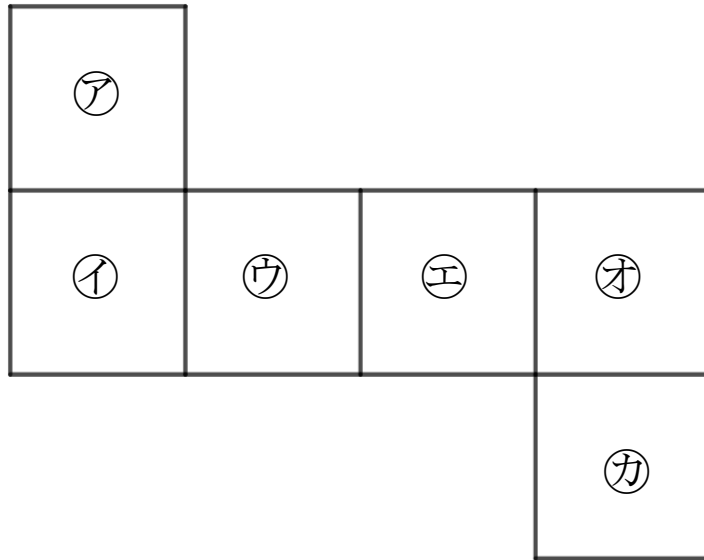
サイコロの向かい合う面

12

日にち： 月 日

名まえ _____

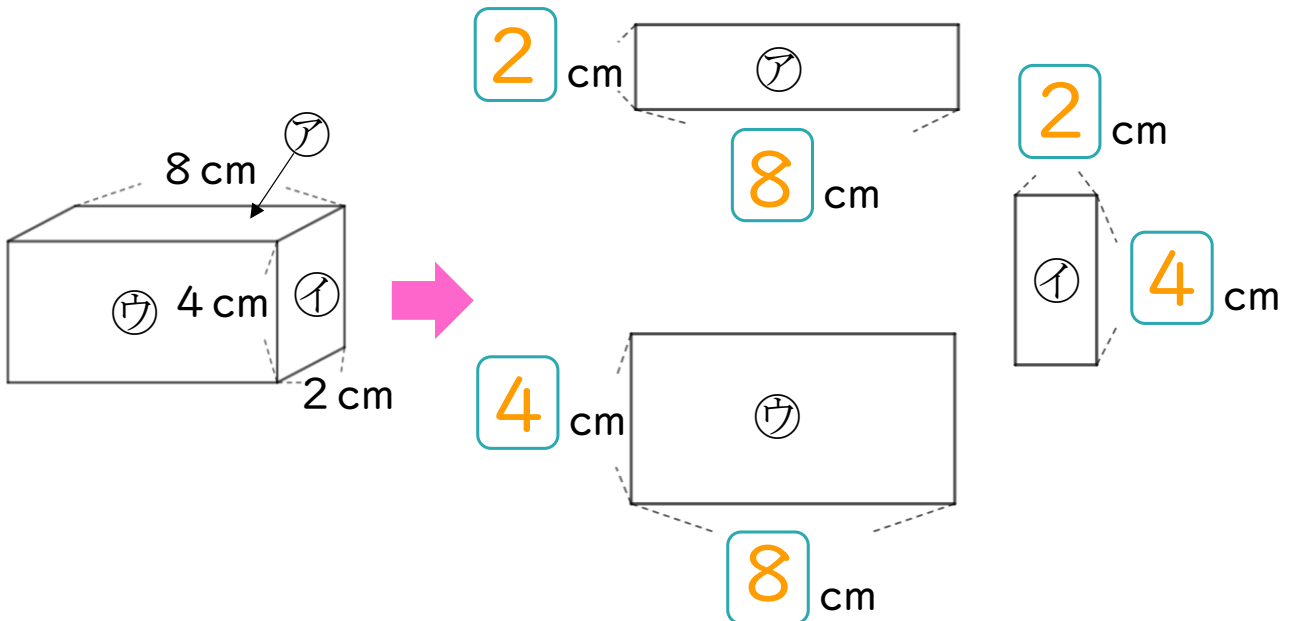
- 1 つぎの図はサイコロの形を切りひらいたものです。組み立てたときにおかい合う面を3組さがして、ア～カで答えましょう。



答え： **ア** と **カ** , **イ** と **エ** , **ウ** と **オ**

- 2 つぎのはこの面をうつしとりました。

にあてはまる数を書きましょう。





はこの形 4

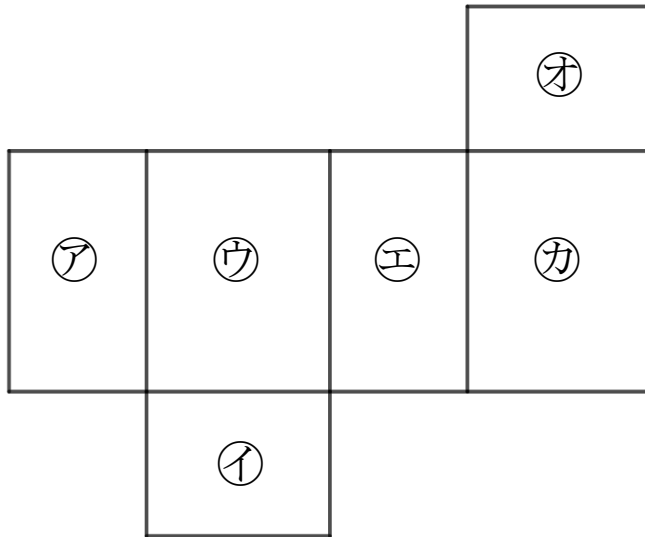
サイコロの向かい合う面

13

日にち： 月 日

名まえ _____

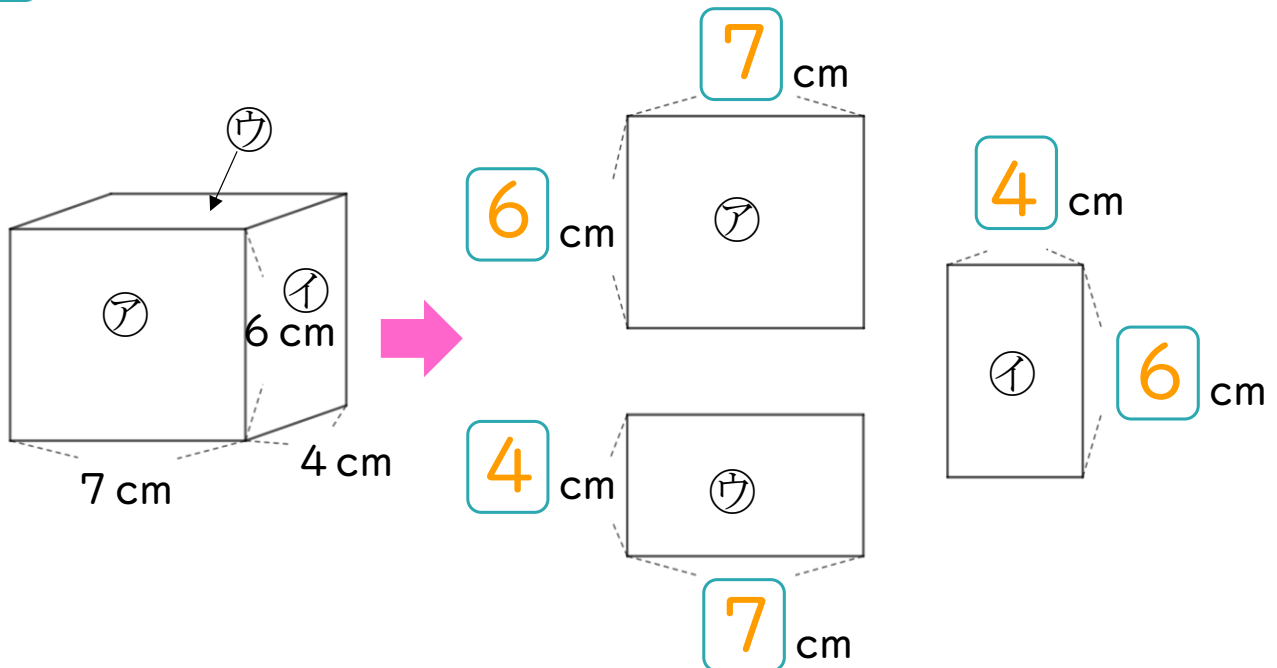
- 1 つぎの図ははこの形を切りひらいたものです。
 組み立てたときにおかい合う面を3組さがして、
 ㉠～㉣で答えましょう。



答え： ㉠ と ㉢ , ㉤ と ㉥ , ㉡ と ㉣

- 2 つぎのはこの面をうつしとりました。

にあてはまる数を書きましょう。





はこの形 4

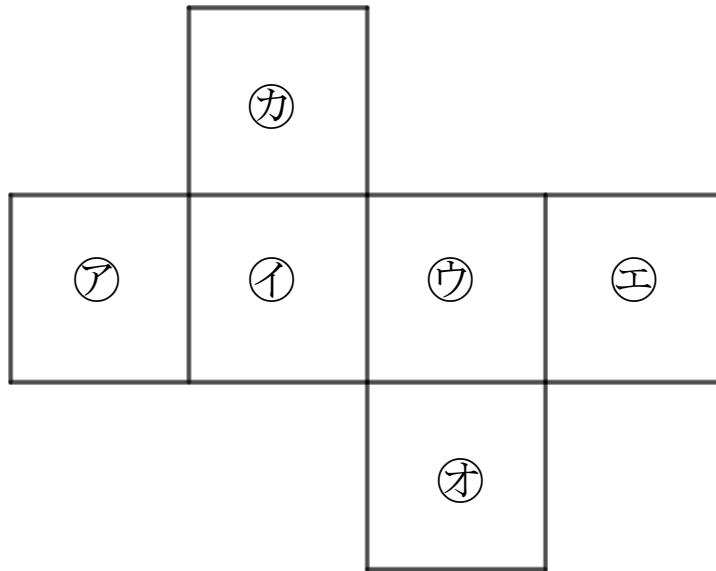
サイコロの向かい合う面

14

日にち： 月 日

名まえ _____

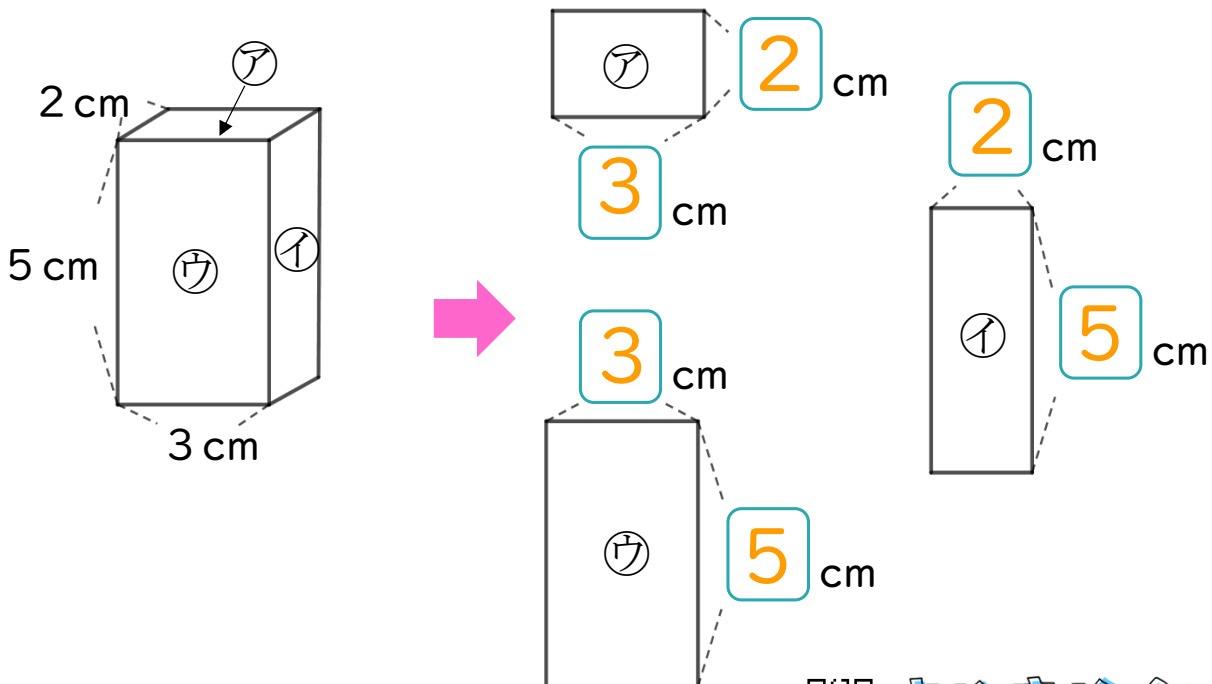
- 1 つぎの図はサイコロの形を切りひらいたものです。組み立てたときにおかい合う面を3組さがして、ア～カで答えましょう。



答え： ア と ウ , イ と エ , オ と カ

- 2 つぎのはこの面をうつしとりました。

□ にあてはまる数を書きましょう。






はこの形 4

サイコロの向かい合う面

15

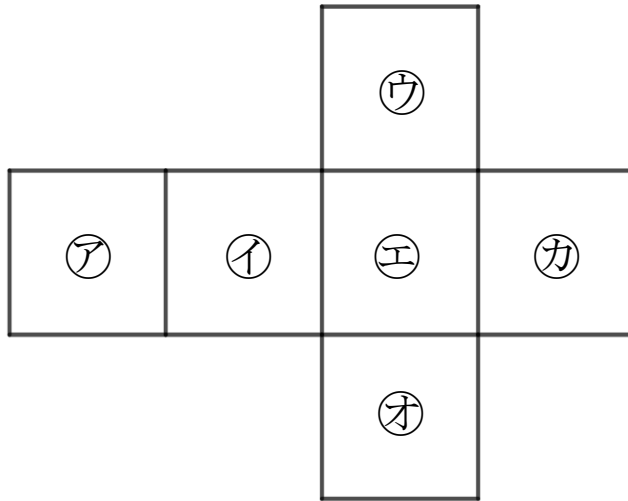
めざせ100点!



名まえ _____

1 つぎの図は さいころの形を切りひらいたものです。
組み立てたときにおかい合う面を3組さがして、
ア~カで答えましょう。

(70点)

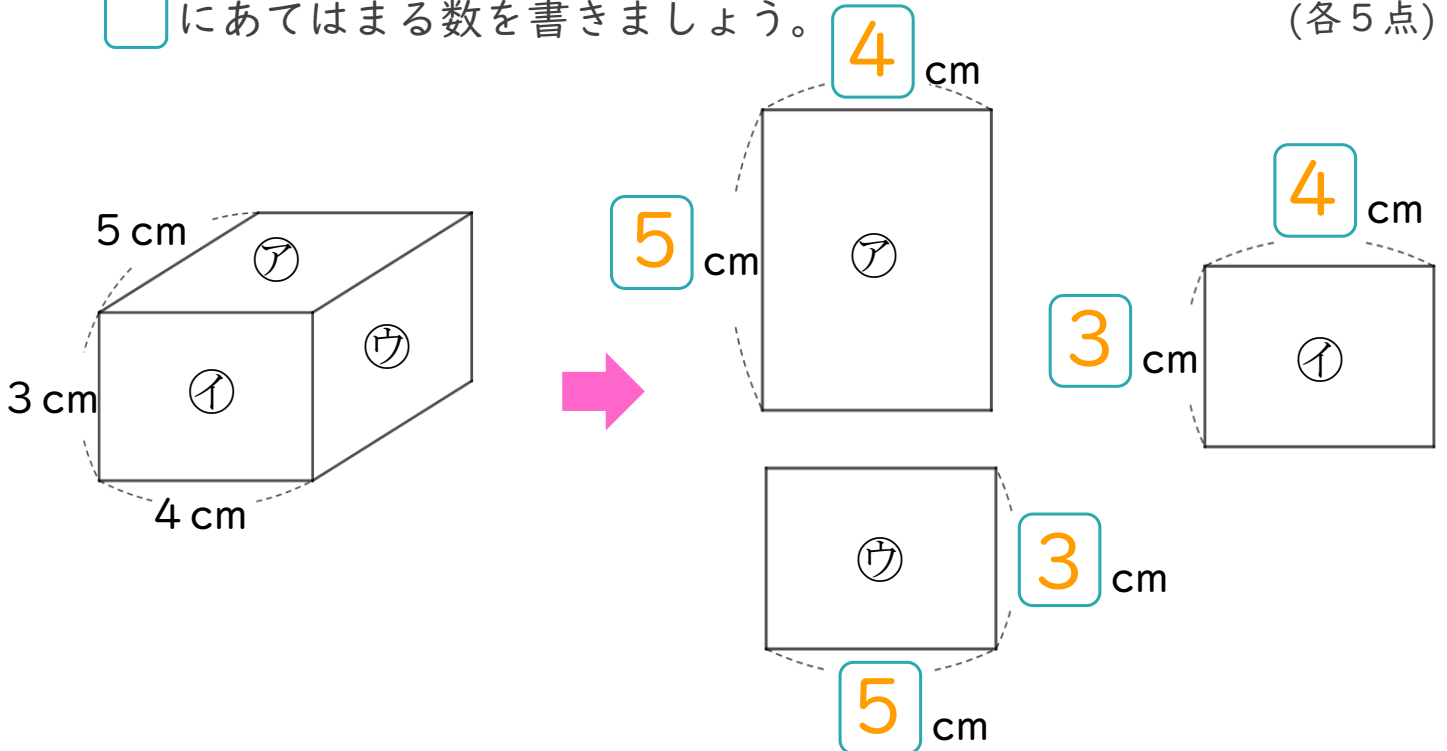


答え： ア と エ , イ と カ , ウ と オ

2 つぎのはこの面をうつしとりました。

□ にあてはまる数を書きましょう。

(各5点)





はこの形 4

サイコロの向かい合う面

16

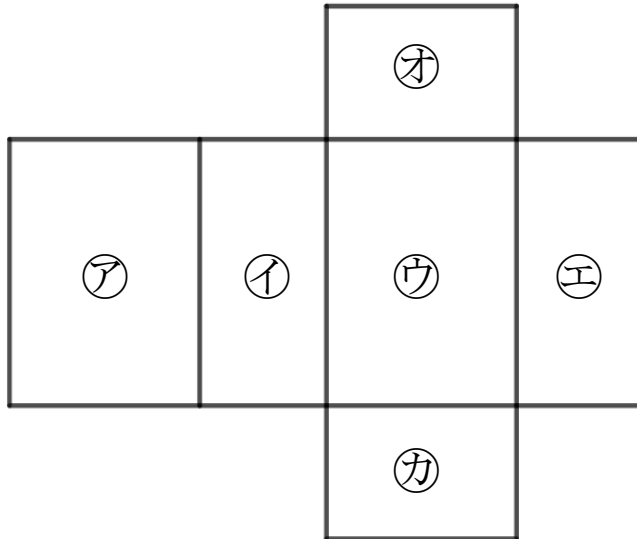
めざせ100点!



名まえ

1 つぎの図ははこの形を切りひらいたものです。
組み立てたときにおかい合う面を3組さがして、
ア~カで答えましょう。

(70点)



答え: ア と ウ, イ と エ, オ と カ

2 つぎのはこの面をうつしとりました。

□ にあてはまる数を書きましょう。

(各5点)

