



ひき算のひっ算！

● タイルでかんがえる



日にち： 月 日

名まえ _____

- ・ みかさんは 47円 もっています。15円のゼリーを買います。のこりはいくらですか。(うすい字はなぞりましょう。)

もっている お金

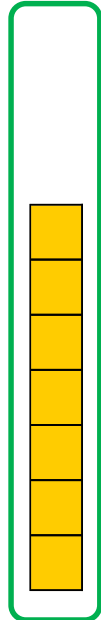
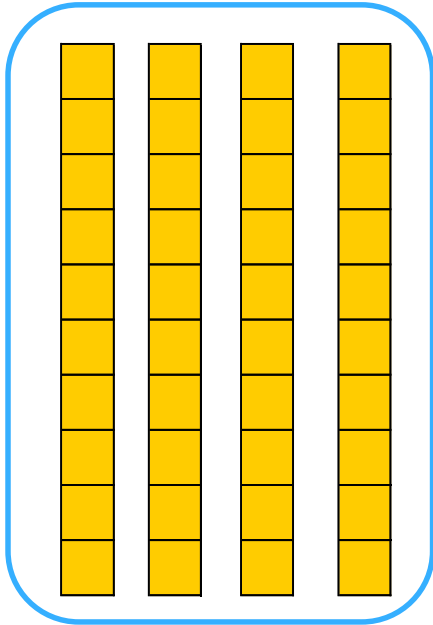
ゼリー

十のくらい

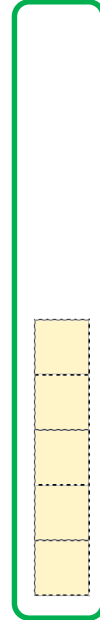
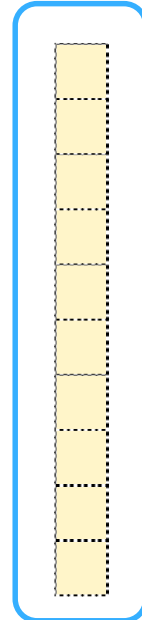
一のくらい

十のくらい

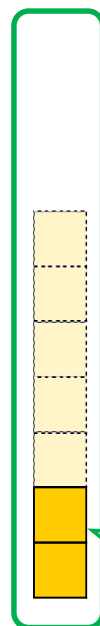
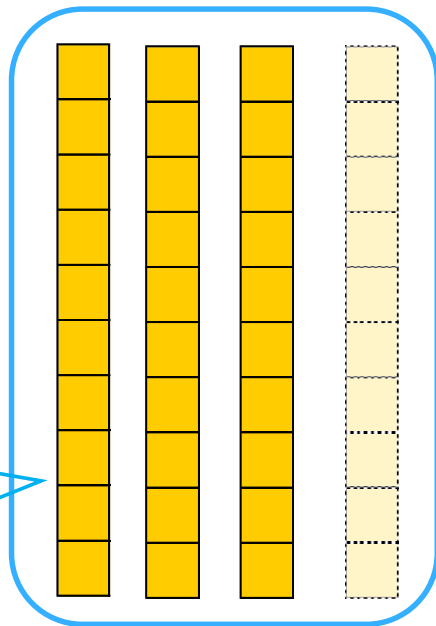
一のくらい



—



30



2

答え： 32円



ひき算のひっ算①

● タイルでかんがえる



日にち： 月 日

名まえ _____

- ・ えみさんは 58円 もっています。23円の クッキーを 買います。のこりは いくらですか。(うすい字はなぞりましょう。)

もっている お金

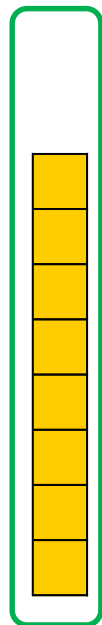
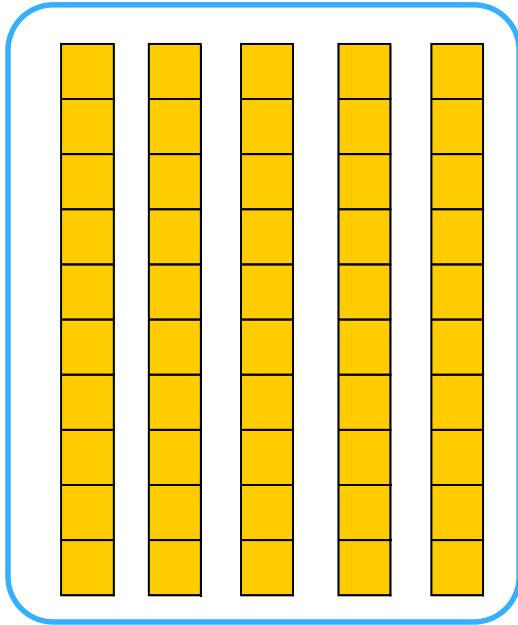
クッキー

十のくらい

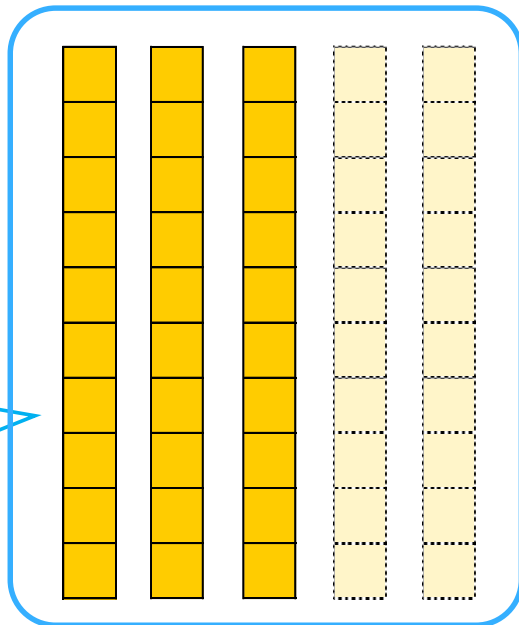

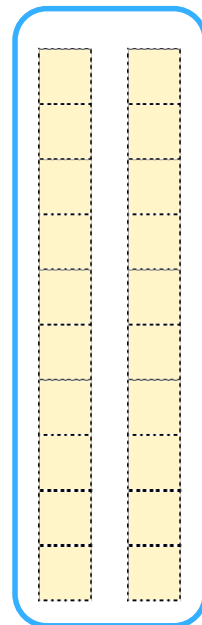
一のくらい

十のくらい

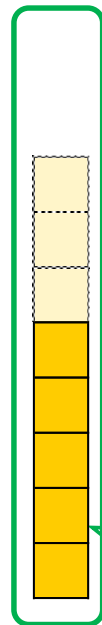
一のくらい



—



30



答え：

円



ひき算のひっ算①

◎ タイルでかんがえる



日にち： 月 日

名まえ _____

- ・ ゆうきさんは 49円 もっています。34円の ラムネを 買います。のこりは いくらですか。

もっている お金

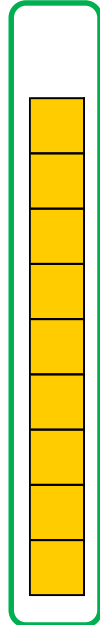
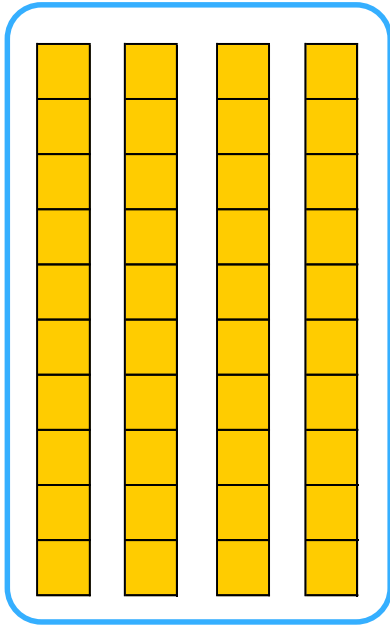
ラムネ

十のくらい


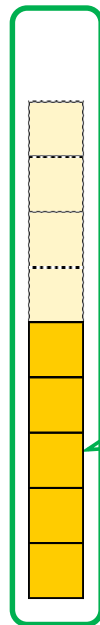
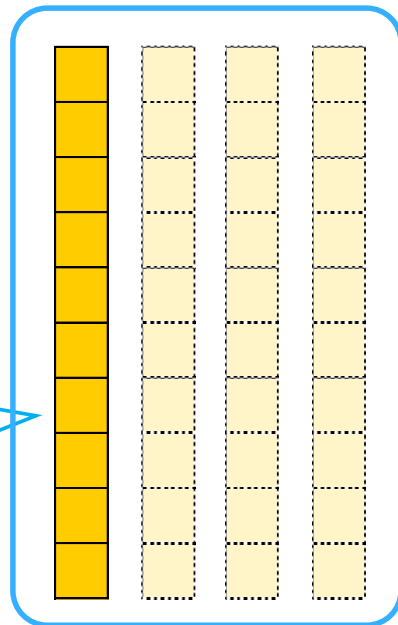
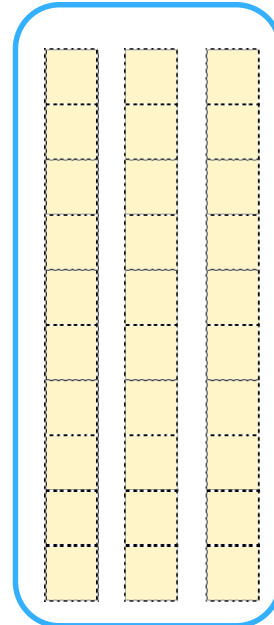
一のくらい

十のくらい

一のくらい



—



答え： _____



ひき算のひっ算①

◎ タイルでかんがえる



日にち： 月 日

名まえ _____

- ・ いずみさんは 55円 もっています。11円の ガムを 買います。
のこりは いくらですか。

もっている お金

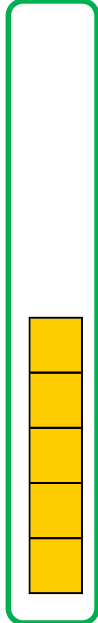
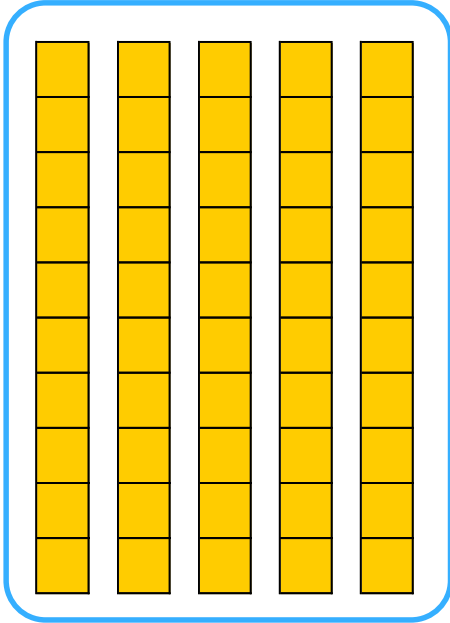
ガム

十のくらい


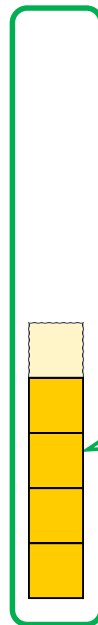
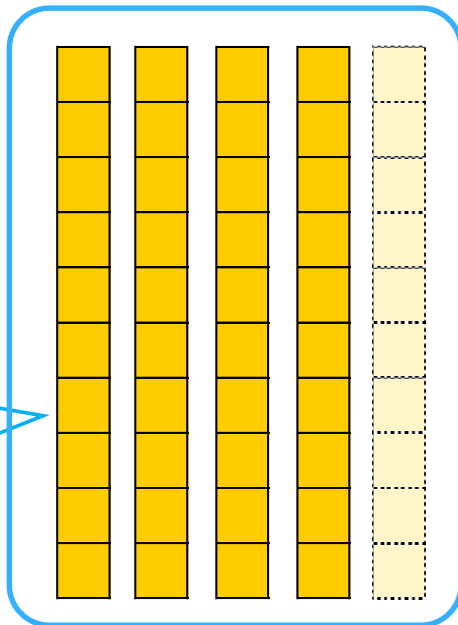
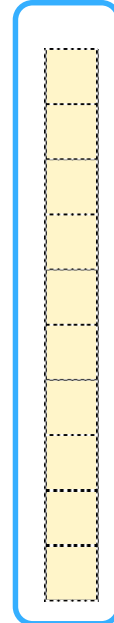
一のくらい

十のくらい

一のくらい



—



答え： _____





ひき算のひっ算！

● タイルでかんがえる



日にち： 月 日

名まえ _____

- ・みかさんは47円もっています。15円のゼリーを買います。のこりはいくらですか。(うすい字はなぞりましょう。)

もっているお金

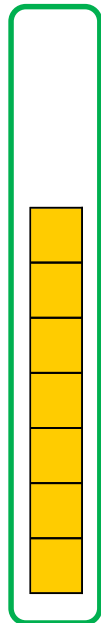
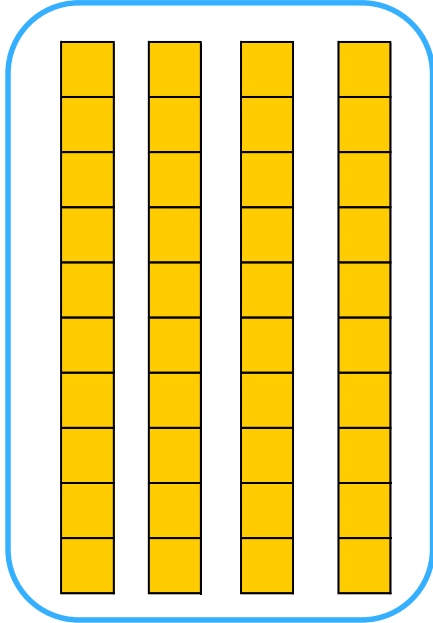
ゼリー

十のくらい

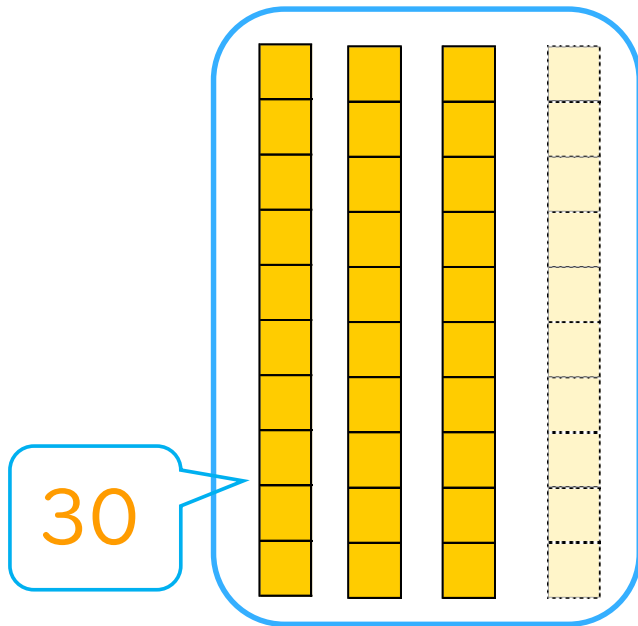
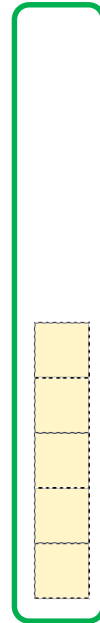
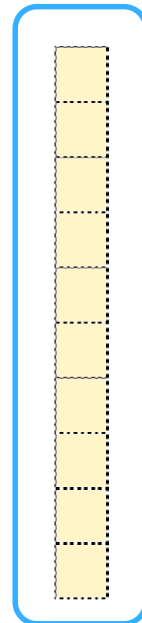
一のくらい

十のくらい

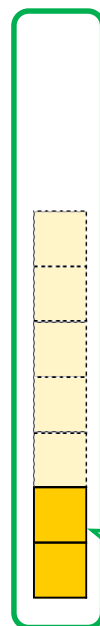
一のくらい



—



30



2

答え： 32円



ひき算のひっ算①

● タイルでかんがえる



日にち： 月 日

名まえ _____

- ・ えみさんは 58円 もっています。23円の クッキーを 買います。のこりは いくらですか。(うすい字はなぞりましょう。)

もっている お金

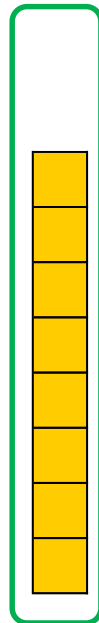
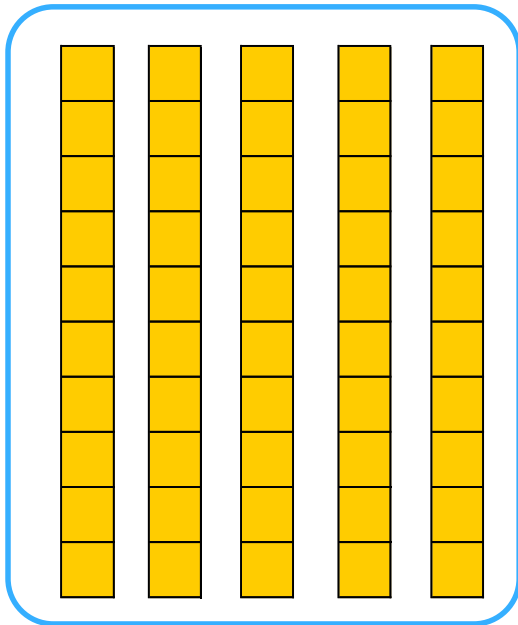
クッキー

十のくらい

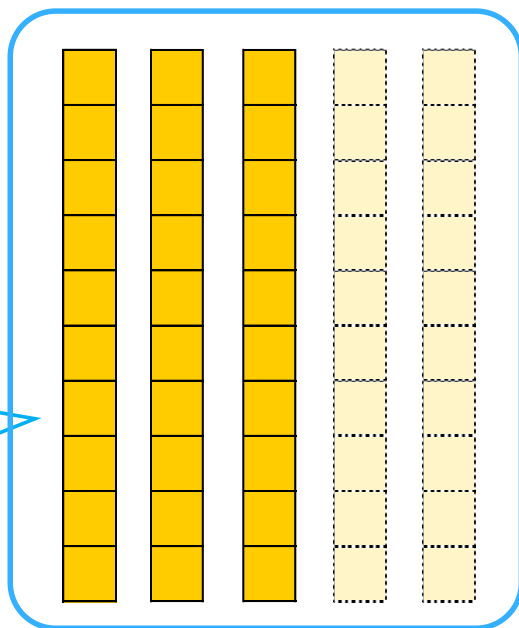
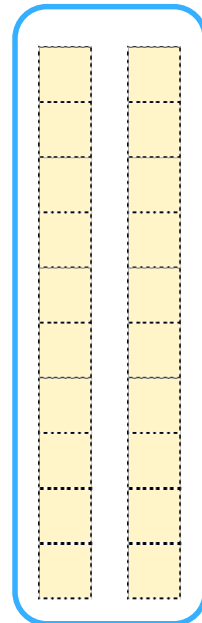
一のくらい

十のくらい

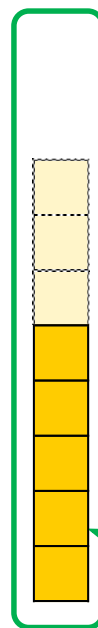
一のくらい



—



30



5

答え： 35円



ひき算のひっ算

◎ タイルでかんがえる



日にち： 月 日

名まえ _____

- ・ ゆうきさんは 49円 もっています。34円の ラムネを 買います。のこりは いくらですか。

もっている お金


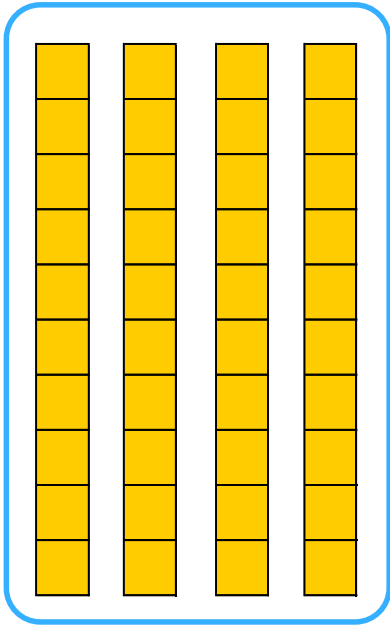
ラムネ

十のくらい

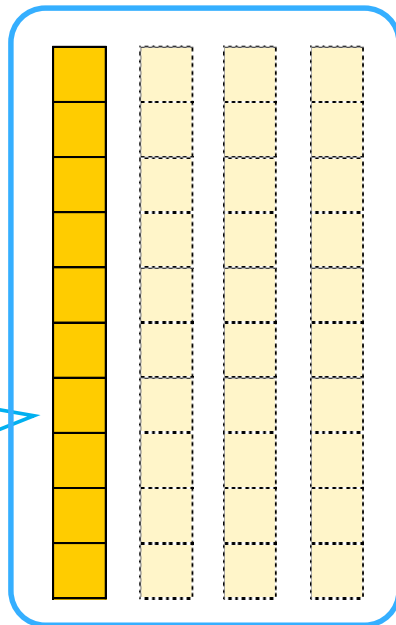
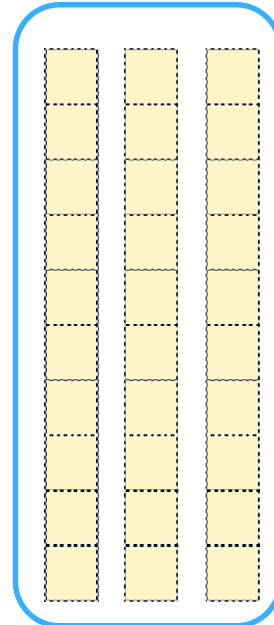
一のくらい

十のくらい

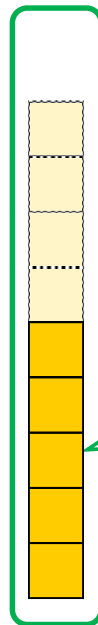
一のくらい



—



10



5

答え： 15円





ひき算のひっ算 I

● タイルでかんがえる



日にち： 月 日

名まえ _____

- ・ いずみさんは 55円 もっています。11円の ガムを 買います。のこりは いくらですか。

もっている お金

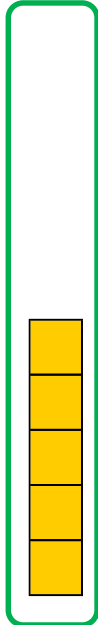
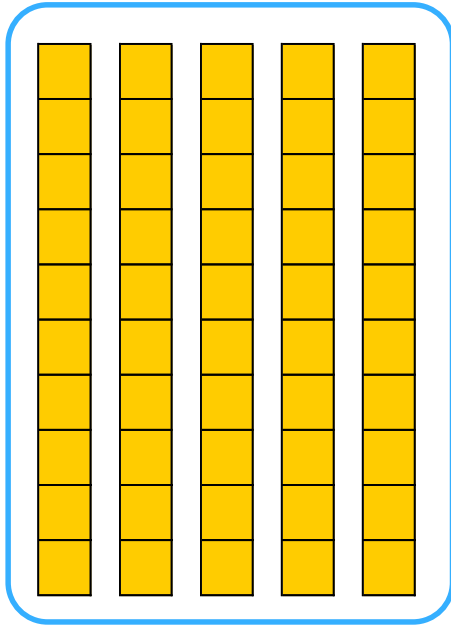
ガム

十のくらい

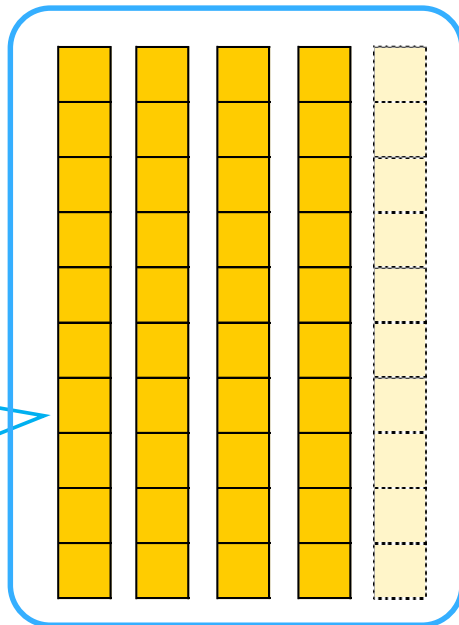
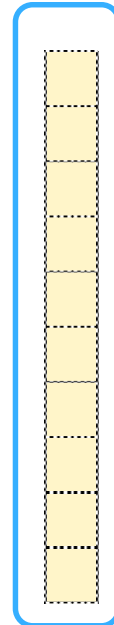
一のくらい

十のくらい

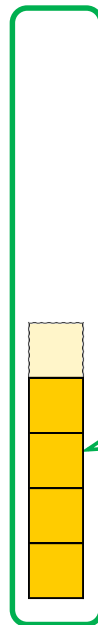
一のくらい



—



40



4

答え： 44円

