



ひき算のひっ算 I

● タイルでかんがえる



日にち： 月 日

名まえ _____

- ・みかさんは 49円 もっています。15円 の あめ を 買います。のこりは いくら ですか。(うすい字はなぞりましょう。)

もっている お金

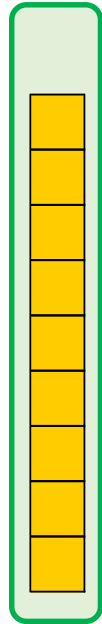
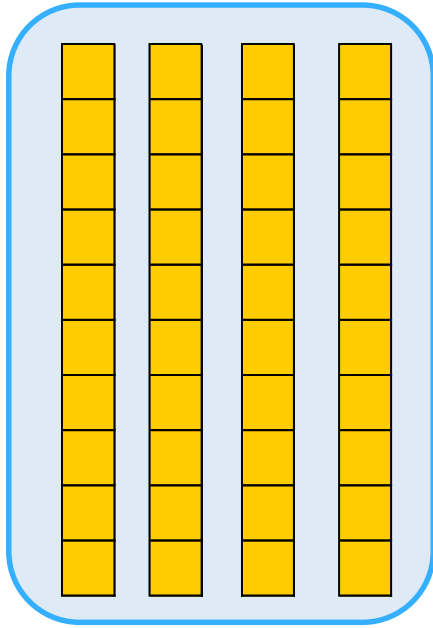
あめ

十のくらい

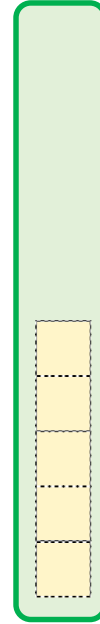
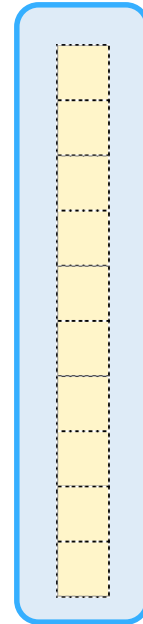
一のくらい

十のくらい

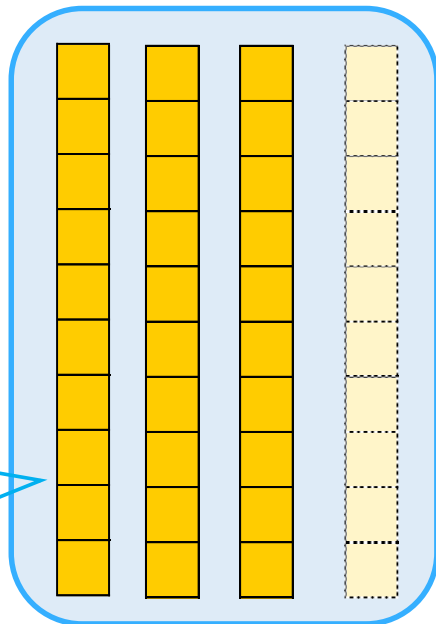
一のくらい



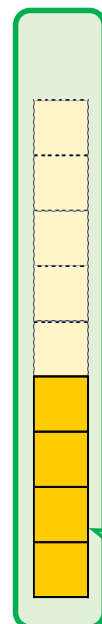
—



30



4



答え： 34円





ひき算のひっ算

● タイルでかんがえる



日にち： 月 日

名まえ _____

- ・ えみさんは 58円 もっています。23円の クッキーを 買います。のこりは いくらですか。(うすい字はなぞりましょう。)

もっている お金


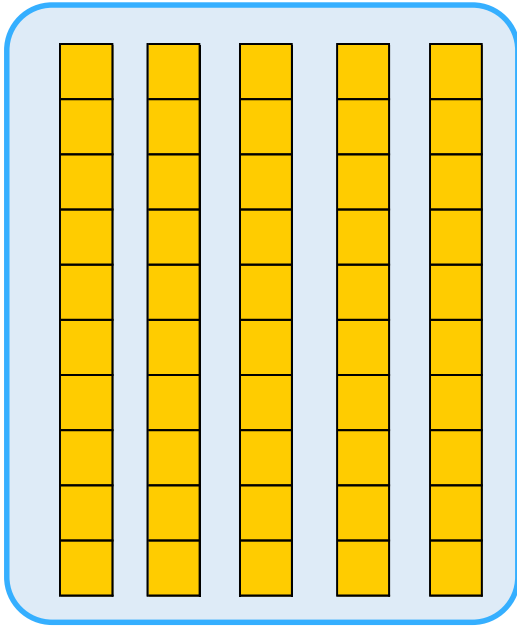
クッキー

十のくらい

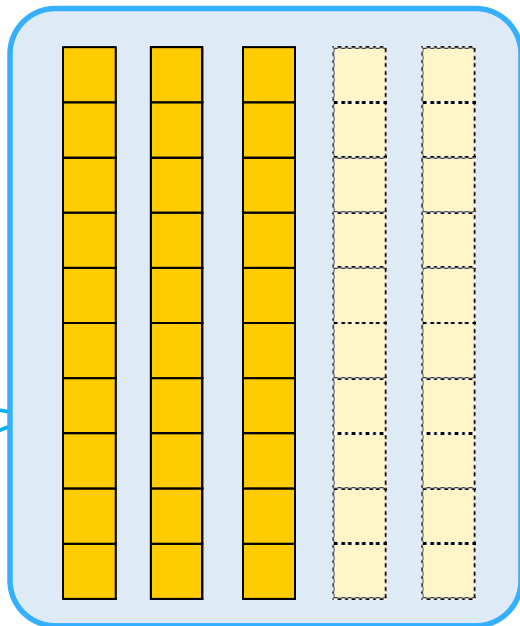

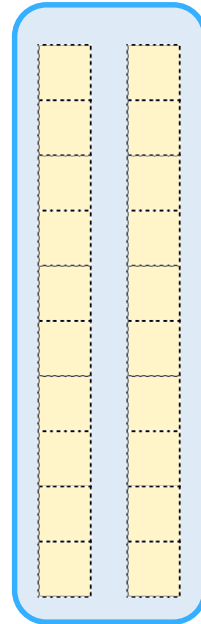
一のくらい

十のくらい

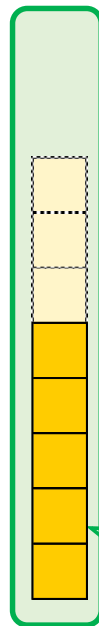
一のくらい



—



30



答え：

円





ひき算のひっ算 I

◎ タイルでかんがえる



日にち： 月 日

名まえ _____

- ・ ゆうきさんは 49円 もっています。34円の ラムネを 買います。のこりは いくらですか。

もっている お金

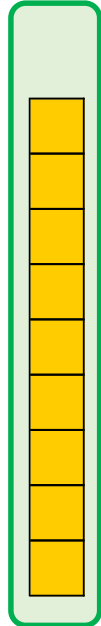
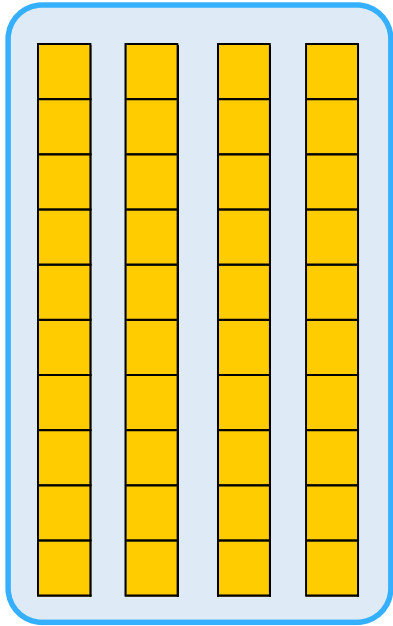
ラムネ

十のくらい


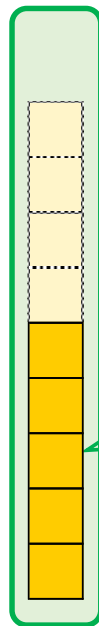
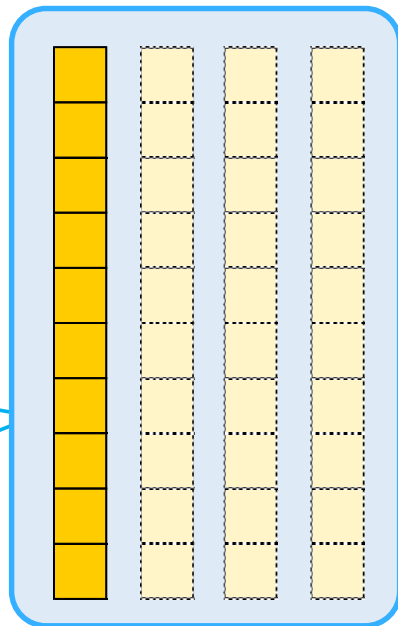

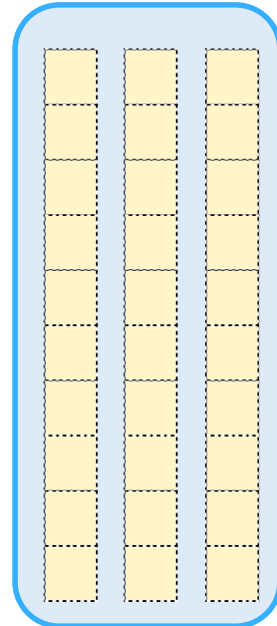
一のくらい

十のくらい

一のくらい



—



答え： _____





ひき算のひっ算 I

◎ タイルでかんがえる



日にち： 月 日

名まえ _____

- ・ いずみさんは 55円 もっています。11円のガムを 買います。のこりは いくらですか。

もっている お金

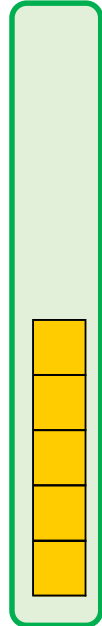
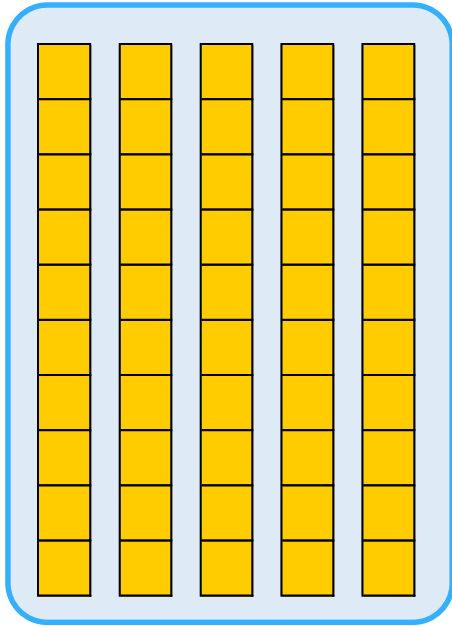
ガム

十のくらい

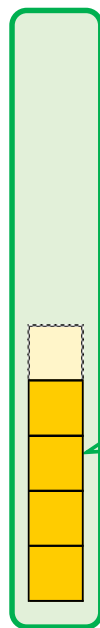
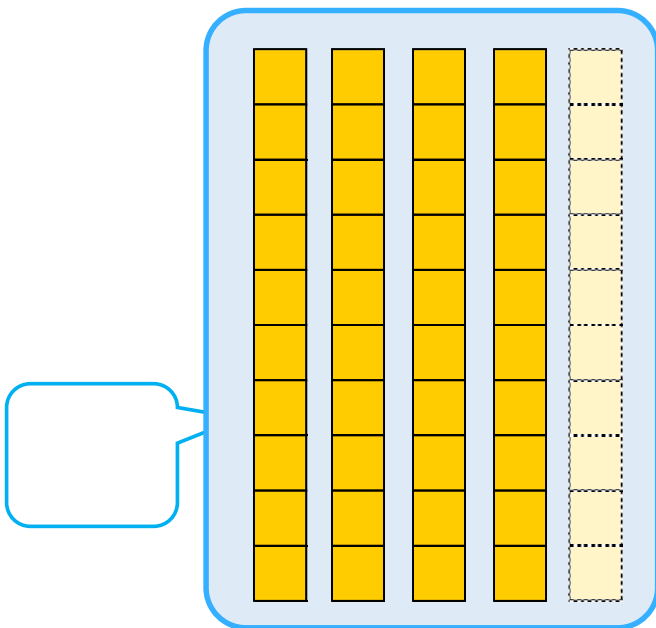
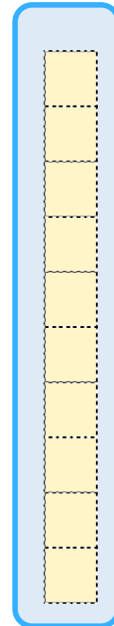
一のくらい

十のくらい

一のくらい



—



答え： _____





ひき算のひっ算 I

● タイルでかんがえる



日にち： 月 日

名まえ _____

- ・みかさんは 49円 もっています。15円 の あめ を 買います。のこりは いくら ですか。(うすい字はなぞりましょう。)

もっている お金

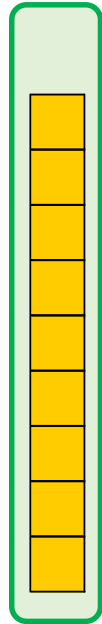
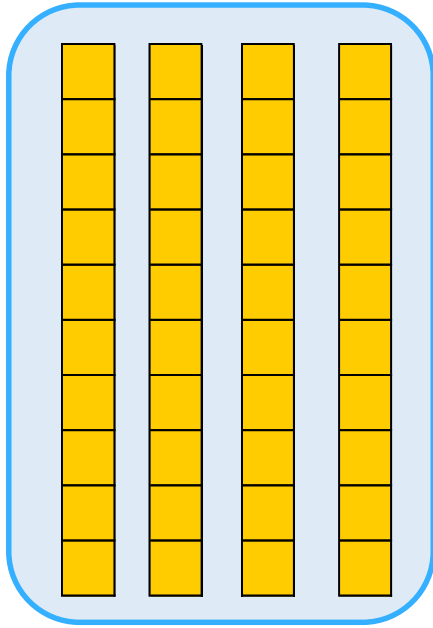
あめ

十のくらい

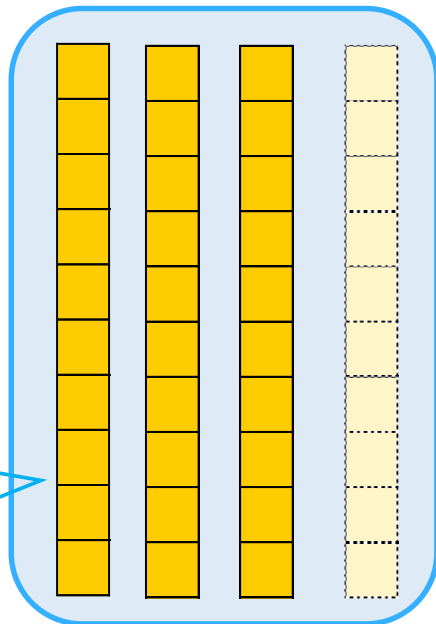
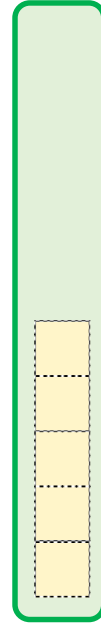
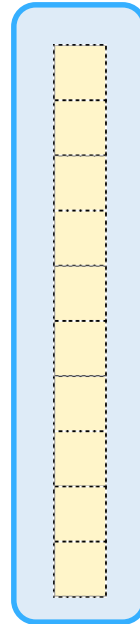
一のくらい

十のくらい

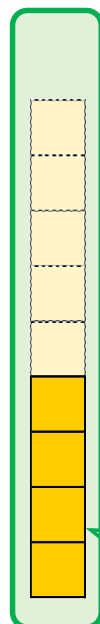
一のくらい



—



30



4

答え： 34円





ひき算のひっ算！
 ● タイルでかんがえる



日にち： 月 日

名まえ _____

・ えみさんは 58円 もっています。23円の クッキーを 買います。
 のこりは いくらですか。(うすい字はなぞりましょう。)

もっている お金

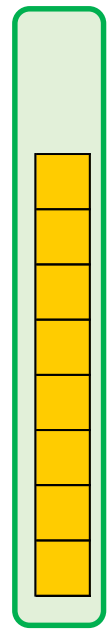
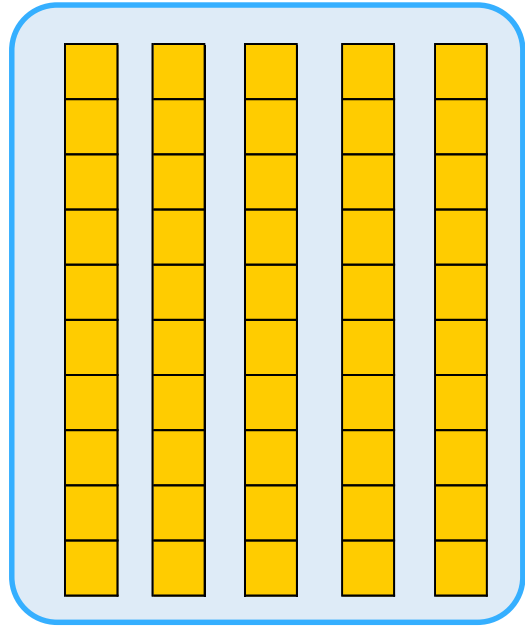
クッキー

十のくらい

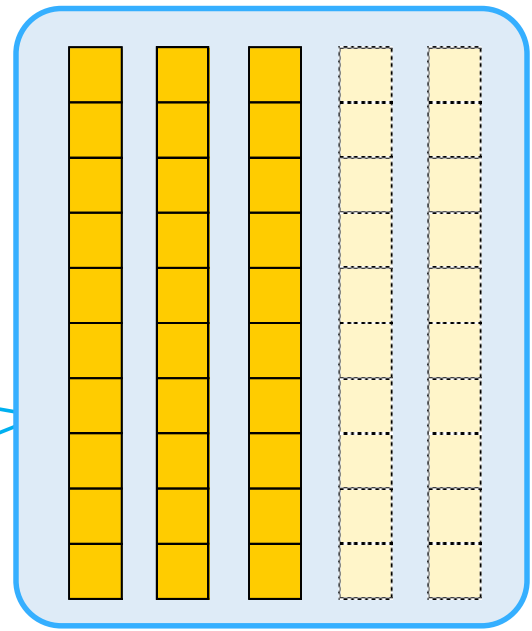


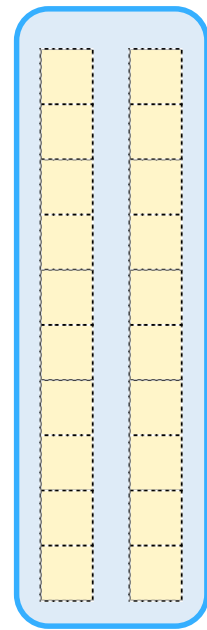
一のくらい

十のくらい

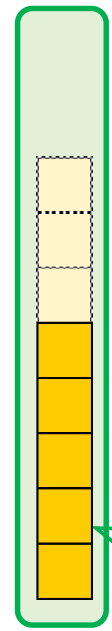
一のくらい



—



30



5

答え： 35円



ひき算のひっ算 I

◎ タイルでかんがえる



日にち： 月 日

名まえ _____

- ・ ゆうきさんは 49円 もっています。34円の ラムネを 買います。のこりは いくらですか。

もっている お金

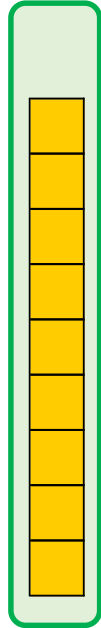
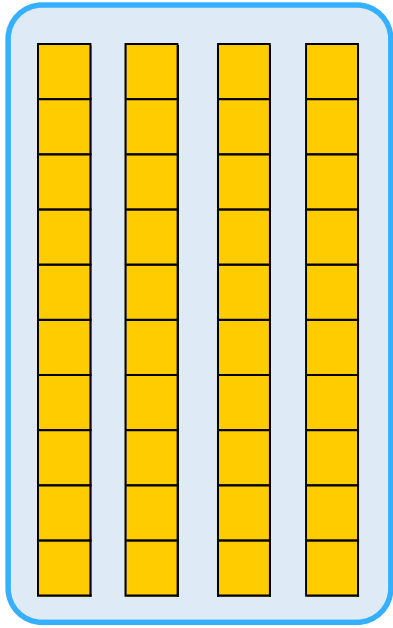
ラムネ

十のくらい


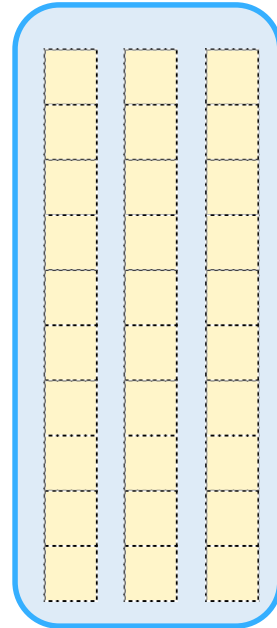
一のくらい

十のくらい

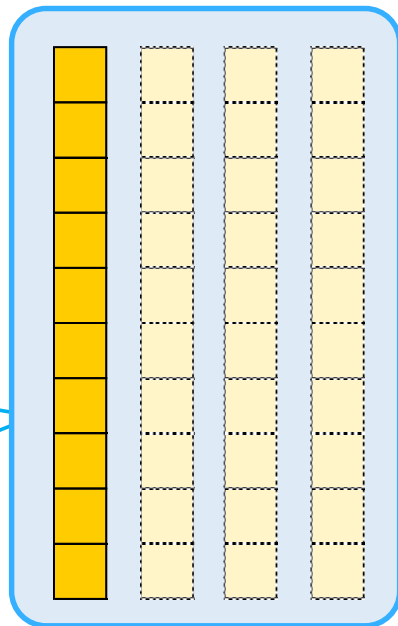
一のくらい



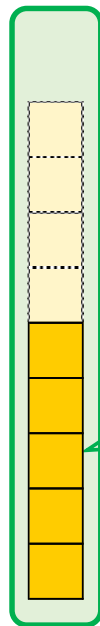
—



10



5



答え： 15円





ひき算のひっ算 I

◎ タイルでかんがえる



日にち： 月 日

名まえ _____

- ・ いずみさんは 55円 もっています。11円のガムを 買います。のこりは いくらですか。

もっている お金


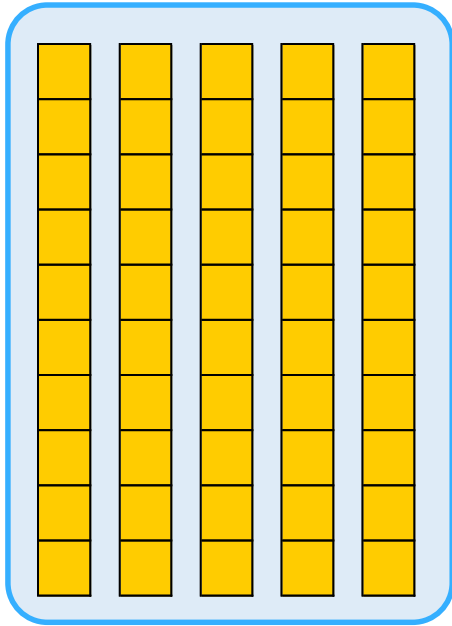
ガム

十のくらい

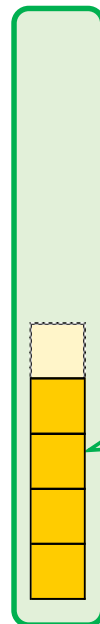
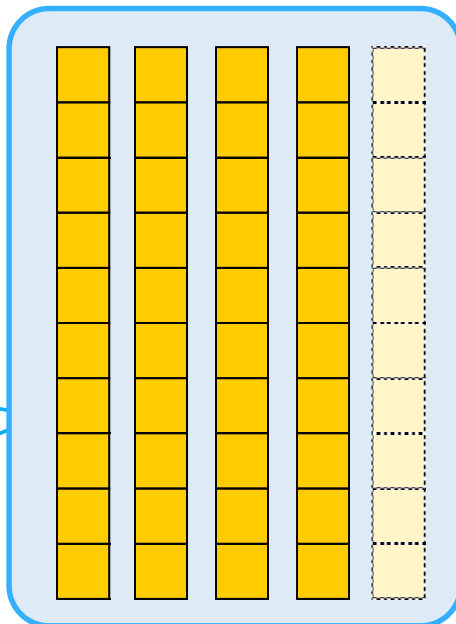
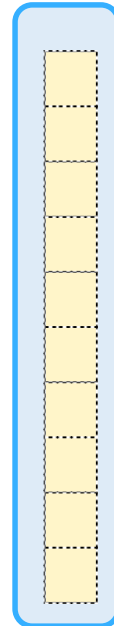
一のくらい

十のくらい

一のくらい



—



40

4

答え： 44円

