



ひき算のひっ算 14

◎ ひき算のたしかめのしき



日にち： 月 日

名まえ _____

- 下のひき算の答えのたしかめになるたし算のしきはどれですか。線でおすびましょう。(うすい字はなぞりましょう。)

①

$$58 - 36$$

$$\begin{array}{r} 58 \\ - 36 \\ \hline 22 \end{array}$$

②

$$93 - 50$$

$$\begin{array}{r} 93 \\ - 50 \\ \hline \end{array}$$

③

$$34 - 7$$

$$\begin{array}{r} 2 \ 10 \\ \cancel{3} \ 4 \\ - \quad 7 \\ \hline \end{array}$$

④

$$72 - 66$$

•

$$27 + 7$$

•

$$6 + 72$$

•

$$6 + 66$$

•

$$22 + 36$$

•

$$43 + 50$$



ひき算のひっ算 14

◎ ひき算のたしかめのしき



日にち： 月 日

名まえ _____

- 下のひき算の答えのたしかめになるたし算のしきはどれですか。線でおすびましょう。(うすい字はなぞりましょう。)

①

$$62 - 47$$

$$\begin{array}{r} 62 \\ - 47 \\ \hline \end{array}$$

②

$$34 - 4$$

$$\square$$

③

$$45 - 38$$

$$\square$$

④

$$80 - 26$$

$$\square$$

•

$$7 + 38$$

•

$$15 + 47$$

•

$$30 + 4$$

•

$$20 + 4$$

•

$$54 + 26$$



ひき算のひっ算 14

◎ ひき算のたしかめのしき



日にち： 月 日

名まえ _____

- 下のひき算の答えのたしかめになるたし算のしきはどれですか。線でおすびましょう。

①

$73 - 13$

•

•

$56 + 35$

②

$45 - 9$

•

•

$9 + 47$

③

$56 - 47$

•

•

$9 + 36$

•

$56 + 4$

④

$91 - 35$

•

•

$60 + 13$



ひき算のひっ算 14

◎ ひき算のたしかめのしき



日にち： 月 日

名まえ _____

- 下のひき算の答えのたしかめになるたし算のしきはどれですか。線でおすびましょう。

①

$$84 - 75$$

• $50 + 17$

②

$$56 - 6$$

• $50 + 6$

• $13 + 36$

③

$$67 - 17$$

• $13 + 9$

• $9 + 75$

④

$$22 - 9$$



ひき算のひっ算 14

◎ ひき算のたしかめのしき



日にち： 月 日

名まえ _____

・ 下のひき算の答えのたしかめになるたし算のしきはどれですか。線でおすびましょう。(うすい字はなぞりましょう。)

①

$$58 - 36$$

$$\begin{array}{r} 58 \\ - 36 \\ \hline 22 \end{array}$$

②

$$93 - 50$$

$$\begin{array}{r} 93 \\ - 50 \\ \hline 43 \end{array}$$

③

$$34 - 7$$

$$\begin{array}{r} 210 \\ \cancel{3}4 \\ - 7 \\ \hline 27 \end{array}$$

④

$$72 - 66$$

$$\begin{array}{r} 610 \\ \cancel{7}2 \\ - 66 \\ \hline 6 \end{array}$$


$$27 + 7$$

$$6 + 72$$

$$6 + 66$$

$$22 + 36$$

$$43 + 50$$





ひき算のひっ算 14

◎ ひき算のたしかめのしき



日にち： 月 日

名まえ _____

- 下のひき算の答えのたしかめになるたし算のしきはどれですか。線でおすびましょう。(うすい字はなぞりましょう。)

①

$$62 - 47$$

$$\begin{array}{r} 5 \ 10 \\ \cancel{6} \ 2 \\ - 4 \ 7 \\ \hline 1 \ 5 \end{array}$$

②

$$34 - 4$$

$$\begin{array}{r} 3 \ 4 \\ - \quad 4 \\ \hline 3 \ 0 \end{array}$$

③

$$45 - 38$$

$$\begin{array}{r} 3 \ 10 \\ \cancel{4} \ 5 \\ - 3 \ 8 \\ \hline \quad 7 \end{array}$$

④

$$80 - 26$$

$$\begin{array}{r} 7 \ 10 \\ \cancel{8} \ 0 \\ - 2 \ 6 \\ \hline 5 \ 4 \end{array}$$

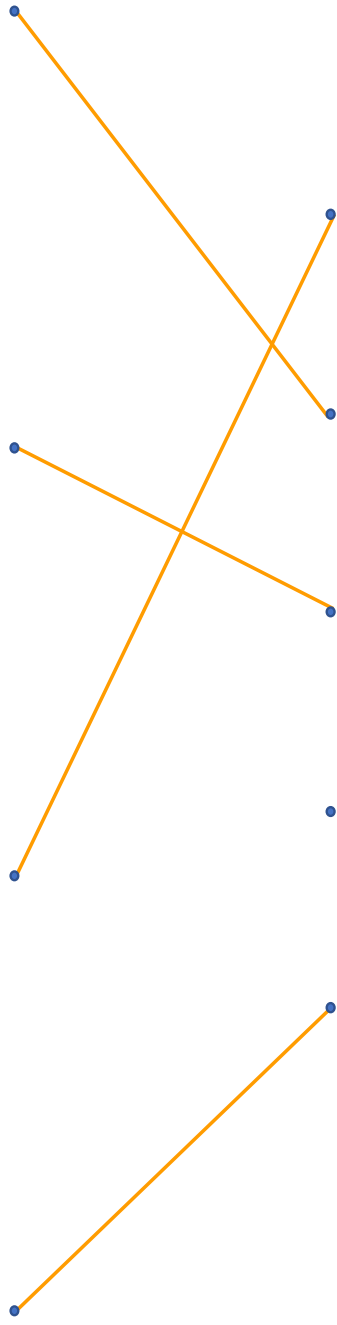
$$7 + 38$$

$$15 + 47$$

$$30 + 4$$

$$20 + 4$$

$$54 + 26$$





ひき算のひっ算 14

◎ ひき算のたしかめのしき



日にち： 月 日

名まえ _____

・ 下のひき算の答えのたしかめになるたし算のしきはどれですか。
線でおすびましょう。

①

$$73 - 13$$

$$\begin{array}{r} 73 \\ - 13 \\ \hline 60 \end{array}$$

②

$$45 - 9$$

$$\begin{array}{r} 3 \ 10 \\ \cancel{4} \ 5 \\ - \quad 9 \\ \hline 36 \end{array}$$

③

$$56 - 47$$

$$\begin{array}{r} 4 \ 10 \\ \cancel{5} \ 6 \\ - 47 \\ \hline 9 \end{array}$$

④

$$91 - 35$$

$$\begin{array}{r} 8 \ 10 \\ \cancel{9} \ 1 \\ - 35 \\ \hline 56 \end{array}$$

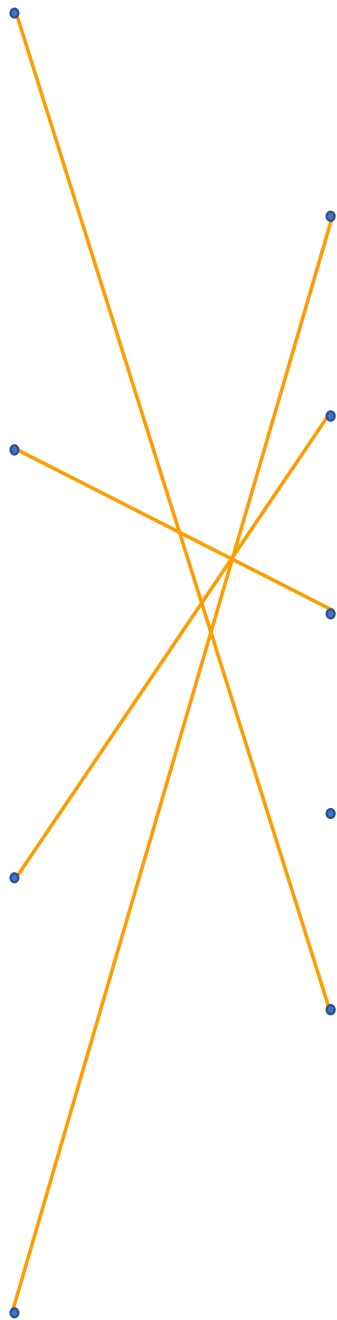
$$56 + 35$$

$$9 + 47$$

$$9 + 36$$

$$56 + 4$$

$$60 + 13$$





ひき算のひっ算 14

◎ ひき算のたしかめのしき



日にち： 月 日

名まえ _____

- 下のひき算の答えのたしかめになるたし算のしきはどれですか。線でおすびましょう。

①

$$84 - 75$$

$$\begin{array}{r}
 7 \text{ 10} \\
 \cancel{8} \ 4 \\
 - 7 \ 5 \\
 \hline
 9
 \end{array}$$

②

$$56 - 6$$

$$\begin{array}{r}
 5 \ 6 \\
 - \ \ 6 \\
 \hline
 5 \ 0
 \end{array}$$

③

$$67 - 17$$

$$\begin{array}{r}
 6 \ 7 \\
 - 1 \ 7 \\
 \hline
 5 \ 0
 \end{array}$$

④

$$22 - 9$$

$$\begin{array}{r}
 1 \ 10 \\
 \cancel{2} \ 2 \\
 - \ \ 9 \\
 \hline
 1 \ 3
 \end{array}$$

$$50 + 17$$

$$50 + 6$$

$$13 + 36$$

$$13 + 9$$

$$9 + 75$$

