



ひき算のひっ算 15

正しいひき算の
ひっ算を選ぶ



日にち： 月 日

名まえ _____

・ つぎのひっ算が正しければ○、まちがっていれば正しい答えを書きましょう。(うすい字はなぞりましょう。)

①

$$\begin{array}{r} 30 \\ - 27 \\ \hline 3 \end{array}$$

$$\begin{array}{r} 84 \\ - 75 \\ \hline 19 \end{array}$$

$$\begin{array}{r} 72 \\ - 19 \\ \hline 63 \end{array}$$

$$\begin{array}{r} 45 \\ - 23 \\ \hline 22 \end{array}$$

(○)

(9)

()

()

<計算スペース>

$$\begin{array}{r} 7 \ 10 \\ \cancel{8} \ 4 \\ - 7 \ 5 \\ \hline 9 \end{array}$$

$$\begin{array}{r} 6 \ 10 \\ \cancel{7} \ 2 \\ - 1 \ 9 \\ \hline \end{array}$$

②

$$\begin{array}{r} 46 \\ - 6 \\ \hline 40 \end{array}$$

$$\begin{array}{r} 51 \\ - 14 \\ \hline 47 \end{array}$$

$$\begin{array}{r} 95 \\ - 38 \\ \hline 57 \end{array}$$

$$\begin{array}{r} 77 \\ - 69 \\ \hline 18 \end{array}$$

(○)

(37)

()

()

<計算スペース>

$$\begin{array}{r} 4 \ 10 \\ \cancel{5} \ 1 \\ - 1 \ 4 \\ \hline 3 \ 7 \end{array}$$



ひき算のひっ算 15

● 正しいひき算の
ひっ算を選ぶ



日にち： 月 日

名まえ _____

・ つぎのひっ算が正しければ○、まちがっていれば正しい答えを書きましょう。(うすい字はなぞりましょう。)

①

$$\begin{array}{r} 41 \\ - 2 \\ \hline 21 \end{array}$$

$$\begin{array}{r} 93 \\ - 23 \\ \hline 70 \end{array}$$

$$\begin{array}{r} 83 \\ - 48 \\ \hline 45 \end{array}$$

$$\begin{array}{r} 56 \\ - 14 \\ \hline 42 \end{array}$$

(39)

(○)

(35)

(○)

<計算スペース>

$\begin{array}{r} 3 \quad 10 \\ \cancel{4} \quad 1 \\ - \quad 2 \\ \hline \end{array}$	$\begin{array}{r} 7 \quad 10 \\ \cancel{8} \quad 3 \\ - \quad 4 \quad 8 \\ \hline \end{array}$
--	--

②

$$\begin{array}{r} 57 \\ - 26 \\ \hline 31 \end{array}$$

$$\begin{array}{r} 62 \\ - 56 \\ \hline 6 \end{array}$$

$$\begin{array}{r} 31 \\ - 27 \\ \hline 16 \end{array}$$

$$\begin{array}{r} 80 \\ - 53 \\ \hline 37 \end{array}$$

()

()

()

()

<計算スペース>



ひき算のひっ算 15

● 正しいひき算の
ひっ算を選ぶ



日にち： 月 日

名まえ _____

・ つぎのひっ算が正しければ○、まちがっていれば正しい答えを書きましょう。(うすい字はなぞりましょう。)

①

$$\begin{array}{r} 52 \\ - 21 \\ \hline 31 \end{array}$$

$$\begin{array}{r} 34 \\ - 2 \\ \hline 14 \end{array}$$

$$\begin{array}{r} 95 \\ - 29 \\ \hline 74 \end{array}$$

$$\begin{array}{r} 89 \\ - 9 \\ \hline 80 \end{array}$$

(○)

(32)

()

()

<計算スペース>

$\begin{array}{r} 34 \\ - 2 \\ \hline \end{array}$
--

②

$$\begin{array}{r} 68 \\ - 29 \\ \hline 49 \end{array}$$

$$\begin{array}{r} 73 \\ - 3 \\ \hline 70 \end{array}$$

$$\begin{array}{r} 49 \\ - 17 \\ \hline 32 \end{array}$$

$$\begin{array}{r} 95 \\ - 8 \\ \hline 15 \end{array}$$

()

(○)

()

()

<計算スペース>

$\begin{array}{r} 68 \\ - 29 \\ \hline \end{array}$



ひき算のひっ算 15

● 正しいひき算の
ひっ算を選ぶ



日にち： 月 日

名まえ _____

・ つぎのひっ算が正しければ○、まちがっていれば正しい答えを書きましょう。(うすい字はなぞりましょう。)

①

$$\begin{array}{r} 63 \\ - 55 \\ \hline 8 \end{array}$$

$$\begin{array}{r} 45 \\ - 25 \\ \hline 20 \end{array}$$

$$\begin{array}{r} 26 \\ - 2 \\ \hline 6 \end{array}$$

$$\begin{array}{r} 91 \\ - 49 \\ \hline 58 \end{array}$$

(○)

(○)

()

()

<計算スペース>

②

$$\begin{array}{r} 79 \\ - 52 \\ \hline 27 \end{array}$$

$$\begin{array}{r} 84 \\ - 54 \\ \hline 40 \end{array}$$

$$\begin{array}{r} 50 \\ - 26 \\ \hline 24 \end{array}$$

$$\begin{array}{r} 26 \\ - \quad 8 \\ \hline 22 \end{array}$$

(○)

(○)

()

()

<計算スペース>



ひき算のひっ算 15

● 正しいひき算の
ひっ算を選ぶ



日にち： 月 日

名まえ _____

・ つぎのひっ算が正しければ○、まちがっていれば正しい答えを書きましょう。(うすい字はなぞりましょう。)

①

$$\begin{array}{r} 50 \\ - 44 \\ \hline 6 \end{array}$$

$$\begin{array}{r} 95 \\ - 65 \\ \hline 20 \end{array}$$

$$\begin{array}{r} 83 \\ - 48 \\ \hline 35 \end{array}$$

$$\begin{array}{r} 31 \\ - 27 \\ \hline 14 \end{array}$$

(○)

()

()

()

<計算スペース>

②

$$\begin{array}{r} 58 \\ - \quad 8 \\ \hline 50 \end{array}$$

$$\begin{array}{r} 72 \\ - 54 \\ \hline 8 \end{array}$$

$$\begin{array}{r} 49 \\ - 12 \\ \hline 37 \end{array}$$

$$\begin{array}{r} 63 \\ - 27 \\ \hline 46 \end{array}$$

()

()

()

()

<計算スペース>



ひき算のひっ算 15

● 正しいひき算の
ひっ算を選ぶ



日にち： 月 日

名まえ _____

・ つぎのひっ算が正しければ○、まちがっていれば正しい答えを書きましょう。(うすい字はなぞりましょう。)

①

$$\begin{array}{r} 61 \\ - 56 \\ \hline 5 \end{array}$$

$$\begin{array}{r} 26 \\ - 18 \\ \hline 18 \end{array}$$

$$\begin{array}{r} 94 \\ - 64 \\ \hline 30 \end{array}$$

$$\begin{array}{r} 42 \\ - 2 \\ \hline 22 \end{array}$$

(○)

()

()

()

<計算スペース>

②

$$\begin{array}{r} 69 \\ - 18 \\ \hline 41 \end{array}$$

$$\begin{array}{r} 83 \\ - 26 \\ \hline 57 \end{array}$$

$$\begin{array}{r} 50 \\ - 34 \\ \hline 16 \end{array}$$

$$\begin{array}{r} 70 \\ - 57 \\ \hline 27 \end{array}$$

()

()

()

()

<計算スペース>



ひき算のひっ算 15

◎ 正しいひき算の
ひっ算を選ぶ



日にち： 月 日

名まえ _____

・ つぎのひっ算が正しければ○、まちがっていれば正しい答えを書きましょう。

①

$$\begin{array}{r} 72 \\ - 4 \\ \hline 78 \end{array}$$

$$\begin{array}{r} 37 \\ - 28 \\ \hline 19 \end{array}$$

$$\begin{array}{r} 25 \\ - 5 \\ \hline 20 \end{array}$$

$$\begin{array}{r} 53 \\ - 43 \\ \hline 10 \end{array}$$

() () () ()

<計算スペース>

②

$$\begin{array}{r} 70 \\ - 48 \\ \hline 22 \end{array}$$

$$\begin{array}{r} 94 \\ - 27 \\ \hline 67 \end{array}$$

$$\begin{array}{r} 61 \\ - 3 \\ \hline 31 \end{array}$$

$$\begin{array}{r} 82 \\ - 16 \\ \hline 76 \end{array}$$

() () () ()

<計算スペース>



ひき算のひっ算 15

◎ 正しいひき算の
ひっ算を選ぶ



日にち： 月 日

名まえ _____

・ つぎのひっ算が 正しければ ○、まちがっていれば 正しい 答えを
書きましょう。

①

$$\begin{array}{r} 83 \\ - 3 \\ \hline 80 \end{array}$$

$$\begin{array}{r} 41 \\ - 39 \\ \hline 12 \end{array}$$

$$\begin{array}{r} 36 \\ - 16 \\ \hline 26 \end{array}$$

$$\begin{array}{r} 64 \\ - 8 \\ \hline 56 \end{array}$$

()

()

()

()

<計算スペース>

②

$$\begin{array}{r} 81 \\ - 21 \\ \hline 60 \end{array}$$

$$\begin{array}{r} 25 \\ - 17 \\ \hline 8 \end{array}$$

$$\begin{array}{r} 72 \\ - 8 \\ \hline 64 \end{array}$$

$$\begin{array}{r} 93 \\ - 21 \\ \hline 68 \end{array}$$

()

()

()

()

<計算スペース>



ひき算のひっ算 15

◎ 正しいひき算の
ひっ算を選ぶ



日にち： 月 日

名まえ _____

・ つぎのひっ算が 正しければ ○、まちがっていれば 正しい 答えを
書きましょう。

①

$$\begin{array}{r} 94 \\ - 34 \\ \hline 60 \end{array}$$

$$\begin{array}{r} 59 \\ - 32 \\ \hline 27 \end{array}$$

$$\begin{array}{r} 47 \\ - 2 \\ \hline 27 \end{array}$$

$$\begin{array}{r} 75 \\ - 5 \\ \hline 70 \end{array}$$

()

()

()

()

<計算スペース>

②

$$\begin{array}{r} 92 \\ - 9 \\ \hline 83 \end{array}$$

$$\begin{array}{r} 36 \\ - 6 \\ \hline 30 \end{array}$$

$$\begin{array}{r} 83 \\ - 7 \\ \hline 13 \end{array}$$

$$\begin{array}{r} 34 \\ - 28 \\ \hline 6 \end{array}$$

()

()

()

()

<計算スペース>



ひき算のひっ算 15

◎ 正しいひき算の
ひっ算を選ぶ



日にち： 月 日

名まえ _____

1 つぎのひっ算が正しいければ○、まちがっていれば正しい答えを書きましょう。

$$\begin{array}{r} 43 \\ - 10 \\ \hline 30 \end{array}$$

$$\begin{array}{r} 50 \\ - 19 \\ \hline 41 \end{array}$$

$$\begin{array}{r} 32 \\ - 17 \\ \hline 15 \end{array}$$

$$\begin{array}{r} 61 \\ - 9 \\ \hline 52 \end{array}$$

()

()

()

()

<計算スペース>

2 つぎの問いに 答えましょう。

えみさんは、80ページの本を読んでいます。

きょう13ページ読みました。のこりは何ページですか。

しき：

答え：



ひき算のひっ算 15

◎ 正しいひき算の
ひっ算を選ぶ



日にち： 月 日

名まえ _____

1 つぎのひっ算が正しいければ○、まちがっていれば正しい答えを書きましょう。

$$\begin{array}{r} 63 \\ - 55 \\ \hline 8 \end{array}$$

$$\begin{array}{r} 45 \\ - 25 \\ \hline 20 \end{array}$$

$$\begin{array}{r} 26 \\ - 2 \\ \hline 6 \end{array}$$

$$\begin{array}{r} 91 \\ - 49 \\ \hline 58 \end{array}$$

() () () ()

<計算スペース>

2 つぎの問いに 答えましょう。

あいさんのクラスには、本がぜんぶで52さつあります。

今、23さつのこっています。かし出し中の本は何さつですか。

しき：

答え：



ひき算のひっ算 15

◎ 正しいひき算の
ひっ算を選ぶ

12

日にち： 月 日

名まえ _____

1 つぎのひっ算が正しいければ○、まちがっていれば正しい答えを書きましょう。

$$\begin{array}{r} 61 \\ - 56 \\ \hline 5 \end{array}$$

$$\begin{array}{r} 26 \\ - 18 \\ \hline 18 \end{array}$$

$$\begin{array}{r} 94 \\ - 64 \\ \hline 30 \end{array}$$

$$\begin{array}{r} 42 \\ - 2 \\ \hline 22 \end{array}$$

() () () ()

<計算スペース>

2 つぎの問いに 答えましょう。

クリームパンが92円で売っています。

あんぱんはクリームパンより4円 やすい そうです。

あんぱんはいくらで売っていますか。

しき：

答え：



ひき算のひっ算 15

◎ 正しいひき算の
ひっ算を選ぶ

13

日にち： 月 日

名まえ _____

1 つぎのひっ算が正しいければ○、まちがっていれば正しい答えを書きましょう。

$$\begin{array}{r} 72 \\ - \quad 4 \\ \hline 78 \end{array}$$

$$\begin{array}{r} 37 \\ - 28 \\ \hline 19 \end{array}$$

$$\begin{array}{r} 25 \\ - \quad 5 \\ \hline 20 \end{array}$$

$$\begin{array}{r} 53 \\ - 43 \\ \hline 10 \end{array}$$

()

()

()

()

<計算スペース>

2 つぎの問いに 答えましょう。

りかさんは、シールを 27まい もっています。

ゆうさんは 32まい もっています。

どちらが何まい 多く もっていますか。

しき：

答え：



ひき算のひっ算 15

◎ 正しいひき算の
ひっ算を選ぶ

14

日にち： 月 日

名まえ _____

1 つぎのひっ算が正しいければ○、まちがっていれば正しい答えを書きましょう。

$$\begin{array}{r} 81 \\ - 21 \\ \hline 60 \end{array}$$

$$\begin{array}{r} 25 \\ - 17 \\ \hline 8 \end{array}$$

$$\begin{array}{r} 72 \\ - 8 \\ \hline 64 \end{array}$$

$$\begin{array}{r} 93 \\ - 21 \\ \hline 68 \end{array}$$

()

()

()

()

<計算スペース>

2 つぎの問いに 答えましょう。

2年1組の人数は34人です。

2組は1組より6人少ないそうです。

2組の人数は何人ですか。

しき：

答え：




ひき算のひっ算 15

◎ 正しいひき算の
ひっ算を選ぶ



目指せ80点!



名まえ _____

1 つぎのひっ算が正しいければ○、まちがっていれば正しい答えを書きましょう。(各20点)

$$\begin{array}{r} 43 \\ - \# 3 \\ \hline 40 \end{array}$$

$$\begin{array}{r} 51 \\ - 32 \\ \hline 29 \end{array}$$

$$\begin{array}{r} 30 \\ - 27 \\ \hline 3 \end{array}$$

$$\begin{array}{r} 74 \\ - \quad 9 \\ \hline 75 \end{array}$$

()

()

()

()

<計算スペース>

2 つぎの問いに 答えましょう。(20点)

しほさんのクラスには、本がぜんぶで32さつあります。
今、12さつのこっています。かし出し中の本は何さつですか。

しき：

答え：




ひき算のひっ算 15

◎ 正しいひき算の
ひっ算を選ぶ

16

目指せ80点!



名まえ _____

1 つぎのひっ算が正しいければ○、まちがっていれば正しい答えを書きましょう。

(各20点)

$$\begin{array}{r} 92 \\ - \quad 9 \\ \hline 83 \end{array}$$

$$\begin{array}{r} 36 \\ - \quad 6 \\ \hline 30 \end{array}$$

$$\begin{array}{r} 83 \\ - \quad 7 \\ \hline 13 \end{array}$$

$$\begin{array}{r} 34 \\ - \quad 28 \\ \hline 6 \end{array}$$

()

()

()

()

<計算スペース>

2 つぎの問いに 答えましょう。(20点)

ゆうたさんは、なわとびを 51回 とびました。

えりさんはゆうたさんより 6回 少なく とびました。

えりさんは、なわとびを 何回 とびましたか。

しき：

答え：



ひき算のひっ算 15

● 正しいひき算の
ひっ算を選ぶ



日にち： 月 日

名まえ _____

・ つぎのひっ算が正しければ○、まちがっていれば正しい答えを書きましょう。(うすい字はなぞりましょう。)

①

$$\begin{array}{r} 30 \\ - 27 \\ \hline 3 \end{array}$$

$$\begin{array}{r} 84 \\ - 75 \\ \hline 19 \end{array}$$

$$\begin{array}{r} 72 \\ - 19 \\ \hline 63 \end{array}$$

$$\begin{array}{r} 45 \\ - 23 \\ \hline 22 \end{array}$$

(○)

(9)

(53)

(○)

<計算スペース>

$\begin{array}{r} 7 \ 10 \\ \cancel{8} \ 4 \\ - 7 \ 5 \\ \hline 9 \end{array}$	$\begin{array}{r} 6 \ 10 \\ \cancel{7} \ 2 \\ - 1 \ 9 \\ \hline 5 \ 3 \end{array}$
--	--

②

$$\begin{array}{r} 46 \\ - 6 \\ \hline 40 \end{array}$$

$$\begin{array}{r} 51 \\ - 14 \\ \hline 47 \end{array}$$

$$\begin{array}{r} 95 \\ - 38 \\ \hline 57 \end{array}$$

$$\begin{array}{r} 77 \\ - 69 \\ \hline 18 \end{array}$$

(○)

(37)

(○)

(8)

<計算スペース>

$\begin{array}{r} 4 \ 10 \\ \cancel{5} \ 1 \\ - 1 \ 4 \\ \hline 3 \ 7 \end{array}$	$\begin{array}{r} 6 \ 10 \\ \cancel{7} \ 7 \\ - 6 \ 9 \\ \hline 8 \end{array}$
--	--



ひき算のひっ算 15

正しいひき算の
ひっ算を選ぶ



日にち： 月 日

名まえ _____

・ つぎのひっ算が正しければ○、まちがっていれば正しい答えを書きましょう。(うすい字はなぞりましょう。)

①

$$\begin{array}{r} 41 \\ - 2 \\ \hline 21 \end{array}$$

$$\begin{array}{r} 93 \\ - 23 \\ \hline 70 \end{array}$$

$$\begin{array}{r} 83 \\ - 48 \\ \hline 45 \end{array}$$

$$\begin{array}{r} 56 \\ - 14 \\ \hline 42 \end{array}$$

(39)

(○)

(35)

(○)

<計算スペース>

$\begin{array}{r} 3 \quad 10 \\ \cancel{4} \quad 1 \\ - \quad 2 \\ \hline 3 \quad 9 \end{array}$	$\begin{array}{r} 7 \quad 10 \\ \cancel{8} \quad 3 \\ - \quad 4 \quad 8 \\ \hline 3 \quad 5 \end{array}$
--	--

②

$$\begin{array}{r} 57 \\ - 26 \\ \hline 31 \end{array}$$

$$\begin{array}{r} 62 \\ - 56 \\ \hline 6 \end{array}$$

$$\begin{array}{r} 31 \\ - 27 \\ \hline 16 \end{array}$$

$$\begin{array}{r} 80 \\ - 53 \\ \hline 37 \end{array}$$

(○)

(○)

(4)

(27)

<計算スペース>

$\begin{array}{r} 2 \quad 10 \\ \cancel{3} \quad 1 \\ - \quad 2 \quad 7 \\ \hline 4 \end{array}$	$\begin{array}{r} 7 \quad 10 \\ \cancel{8} \quad 0 \\ - \quad 5 \quad 3 \\ \hline 2 \quad 7 \end{array}$
--	--



ひき算のひっ算 15

正しいひき算の
ひっ算を選ぶ



日にち： 月 日

名まえ _____

・ つぎのひっ算が正しければ○、まちがっていれば正しい答えを書きましょう。(うすい字はなぞりましょう。)

①

$$\begin{array}{r} 52 \\ - 21 \\ \hline 31 \end{array}$$

$$\begin{array}{r} 34 \\ - 2 \\ \hline 14 \end{array}$$

$$\begin{array}{r} 95 \\ - 29 \\ \hline 74 \end{array}$$

$$\begin{array}{r} 89 \\ - 9 \\ \hline 80 \end{array}$$

(○)

(32)

(66)

(○)

<計算スペース>

$\begin{array}{r} 34 \\ - 2 \\ \hline 32 \end{array}$	$\begin{array}{r} 810 \\ \cancel{9}5 \\ - 29 \\ \hline 66 \end{array}$
---	--

②

$$\begin{array}{r} 68 \\ - 29 \\ \hline 49 \end{array}$$

$$\begin{array}{r} 73 \\ - 3 \\ \hline 70 \end{array}$$

$$\begin{array}{r} 49 \\ - 17 \\ \hline 32 \end{array}$$

$$\begin{array}{r} 95 \\ - 8 \\ \hline 15 \end{array}$$

(39)

(○)

(○)

(87)

<計算スペース>

$\begin{array}{r} 510 \\ \cancel{6}8 \\ - 29 \\ \hline 39 \end{array}$	$\begin{array}{r} 810 \\ \cancel{9}5 \\ - 8 \\ \hline 87 \end{array}$
--	---





ひき算のひっ算 15

正しいひき算の
ひっ算を選ぶ



日にち： 月 日

名まえ _____

・ つぎのひっ算が正しければ○、まちがっていれば正しい答えを書きましょう。(うすい字はなぞりましょう。)

①

$$\begin{array}{r} 63 \\ - 55 \\ \hline 8 \end{array}$$

$$\begin{array}{r} 45 \\ - 25 \\ \hline 20 \end{array}$$

$$\begin{array}{r} 26 \\ - 2 \\ \hline 6 \end{array}$$

$$\begin{array}{r} 91 \\ - 49 \\ \hline 58 \end{array}$$

(○)

(○)

(24)

(42)

<計算スペース>

$$\begin{array}{r} 26 \\ - 2 \\ \hline 24 \end{array} \qquad \begin{array}{r} 8 \quad 10 \\ \cancel{9} \quad 1 \\ - 49 \\ \hline 42 \end{array}$$

②

$$\begin{array}{r} 79 \\ - 52 \\ \hline 27 \end{array}$$

$$\begin{array}{r} 84 \\ - 54 \\ \hline 40 \end{array}$$

$$\begin{array}{r} 50 \\ - 26 \\ \hline 24 \end{array}$$

$$\begin{array}{r} 26 \\ - 8 \\ \hline 22 \end{array}$$

(○)

(○)

(○)

(18)

<計算スペース>

$$\begin{array}{r} 1 \quad 10 \\ \cancel{2} \quad 6 \\ - 8 \\ \hline 18 \end{array}$$



ひき算のひっ算 15

正しいひき算の
ひっ算を選ぶ



日にち： 月 日

名まえ _____

・ つぎのひっ算が正しければ○、まちがっていれば正しい答えを書きましょう。(うすい字はなぞりましょう。)

①

$$\begin{array}{r} 50 \\ - 44 \\ \hline 6 \end{array}$$

$$\begin{array}{r} 95 \\ - 65 \\ \hline 20 \end{array}$$

$$\begin{array}{r} 83 \\ - 48 \\ \hline 35 \end{array}$$

$$\begin{array}{r} 31 \\ - 27 \\ \hline 14 \end{array}$$

(○)

(30)

(○)

(4)

<計算スペース>

$$\begin{array}{r} 95 \\ - 65 \\ \hline 30 \end{array}$$

$$\begin{array}{r} 210 \\ \cancel{3}1 \\ - 27 \\ \hline 4 \end{array}$$

②

$$\begin{array}{r} 58 \\ - 8 \\ \hline 50 \end{array}$$

$$\begin{array}{r} 72 \\ - 54 \\ \hline 8 \end{array}$$

$$\begin{array}{r} 49 \\ - 12 \\ \hline 37 \end{array}$$

$$\begin{array}{r} 63 \\ - 27 \\ \hline 46 \end{array}$$

(○)

(18)

(○)

(36)

<計算スペース>

$$\begin{array}{r} 610 \\ \cancel{7}2 \\ - 54 \\ \hline 18 \end{array}$$

$$\begin{array}{r} 510 \\ \cancel{6}3 \\ - 27 \\ \hline 36 \end{array}$$



ひき算のひっ算 15

正しいひき算の
ひっ算を選ぶ



日にち： 月 日

名まえ _____

・ つぎのひっ算が正しければ○、まちがっていれば正しい答えを書きましょう。(うすい字はなぞりましょう。)

①

$$\begin{array}{r} 61 \\ - 56 \\ \hline 5 \end{array}$$

$$\begin{array}{r} 26 \\ - 18 \\ \hline 18 \end{array}$$

$$\begin{array}{r} 94 \\ - 64 \\ \hline 30 \end{array}$$

$$\begin{array}{r} 42 \\ - 2 \\ \hline 22 \end{array}$$

(○)

(8)

(○)

(40)

<計算スペース>

$$\begin{array}{r} 10 \\ \cancel{2}6 \\ - 18 \\ \hline 8 \end{array}$$

$$\begin{array}{r} 42 \\ - 2 \\ \hline 40 \end{array}$$

②

$$\begin{array}{r} 69 \\ - 18 \\ \hline 41 \end{array}$$

$$\begin{array}{r} 83 \\ - 26 \\ \hline 57 \end{array}$$

$$\begin{array}{r} 50 \\ - 34 \\ \hline 16 \end{array}$$

$$\begin{array}{r} 70 \\ - 57 \\ \hline 27 \end{array}$$

(51)

(○)

(○)

(13)

<計算スペース>

$$\begin{array}{r} 69 \\ - 48 \\ \hline 51 \end{array}$$

$$\begin{array}{r} 60 \\ \cancel{7}0 \\ - 57 \\ \hline 13 \end{array}$$



ひき算のひっ算 15

正しいひき算の
ひっ算を選ぶ



日にち： 月 日

名まえ _____

・ つぎのひっ算が正しければ○、まちがっていれば正しい答えを書きましょう。

①

$$\begin{array}{r} 72 \\ - 4 \\ \hline 78 \end{array}$$

$$\begin{array}{r} 37 \\ - 28 \\ \hline 19 \end{array}$$

$$\begin{array}{r} 25 \\ - 5 \\ \hline 20 \end{array}$$

$$\begin{array}{r} 53 \\ - 43 \\ \hline 10 \end{array}$$

(68)

(9)

(○)

(○)

<計算スペース>

$\begin{array}{r} \overset{6}{\cancel{7}} \overset{10}{2} \\ - 4 \\ \hline 68 \end{array}$	$\begin{array}{r} \overset{2}{\cancel{3}} \overset{10}{7} \\ - 28 \\ \hline 9 \end{array}$
--	--

②

$$\begin{array}{r} 70 \\ - 48 \\ \hline 22 \end{array}$$

$$\begin{array}{r} 94 \\ - 27 \\ \hline 67 \end{array}$$

$$\begin{array}{r} 61 \\ - 3 \\ \hline 31 \end{array}$$

$$\begin{array}{r} 82 \\ - 16 \\ \hline 76 \end{array}$$

(○)

(○)

(58)

(66)

<計算スペース>

$\begin{array}{r} \overset{5}{\cancel{6}} \overset{10}{1} \\ - 3 \\ \hline 58 \end{array}$	$\begin{array}{r} \overset{7}{\cancel{8}} \overset{10}{2} \\ - 16 \\ \hline 66 \end{array}$
--	---



ひき算のひっ算 15

正しいひき算の
ひっ算を選ぶ



日にち： 月 日

名まえ _____

・ つぎのひっ算が正しければ ○、まちがっていれば正しい 答えを
書きましょう。

①

$$\begin{array}{r} 83 \\ - \quad 3 \\ \hline 80 \end{array}$$

$$\begin{array}{r} 41 \\ - 39 \\ \hline 12 \end{array}$$

$$\begin{array}{r} 36 \\ - 16 \\ \hline 26 \end{array}$$

$$\begin{array}{r} 64 \\ - \quad 8 \\ \hline 56 \end{array}$$

(○)

(2)

(○)

(○)

<計算スペース>

$$\begin{array}{r} 10 \\ 41 \\ - 39 \\ \hline 2 \end{array}$$

②

$$\begin{array}{r} 81 \\ - 21 \\ \hline 60 \end{array}$$

$$\begin{array}{r} 25 \\ - 17 \\ \hline 8 \end{array}$$

$$\begin{array}{r} 72 \\ - \quad 8 \\ \hline 64 \end{array}$$

$$\begin{array}{r} 93 \\ - 21 \\ \hline 68 \end{array}$$

(○)

(○)

(○)

(72)

<計算スペース>

$$\begin{array}{r} 3 \\ - 21 \\ \hline 2 \end{array}$$



ひき算のひっ算 15

正しいひき算の
ひっ算を選ぶ



日にち： 月 日

名まえ _____

・ つぎのひっ算が正しければ ○、まちがっていれば正しい 答えを
書きましょう。

①

$$\begin{array}{r} 94 \\ - 34 \\ \hline 60 \end{array}$$

$$\begin{array}{r} 59 \\ - 32 \\ \hline 27 \end{array}$$

$$\begin{array}{r} 47 \\ - 2 \\ \hline 27 \end{array}$$

$$\begin{array}{r} 75 \\ - 5 \\ \hline 70 \end{array}$$

(○)

(○)

(45)

(○)

<計算スペース>

$$\begin{array}{r} 47 \\ - 2 \\ \hline 45 \end{array}$$

②

$$\begin{array}{r} 92 \\ - 9 \\ \hline 83 \end{array}$$

$$\begin{array}{r} 36 \\ - 6 \\ \hline 30 \end{array}$$

$$\begin{array}{r} 83 \\ - 7 \\ \hline 13 \end{array}$$

$$\begin{array}{r} 34 \\ - 28 \\ \hline 6 \end{array}$$

(○)

(○)

(76)

(○)

<計算スペース>

$$\begin{array}{r} 710 \\ 83 \\ - 7 \\ \hline 76 \end{array}$$





ひき算のひっ算 15

正しいひき算の
ひっ算を選ぶ



日にち： 月 日

名まえ _____

1 つぎのひっ算が正しいければ○、まちがっていれば正しい答えを書きましょう。

$$\begin{array}{r} 43 \\ - 10 \\ \hline 30 \end{array}$$

$$\begin{array}{r} 50 \\ - 19 \\ \hline 41 \end{array}$$

$$\begin{array}{r} 32 \\ - 17 \\ \hline 15 \end{array}$$

$$\begin{array}{r} 61 \\ - 9 \\ \hline 52 \end{array}$$

(33)

(31)

(○)

(○)

<計算スペース>

$\begin{array}{r} 43 \\ - 10 \\ \hline 33 \end{array}$	$\begin{array}{r} 4 \quad 10 \\ \cancel{5} \quad 0 \\ - 19 \\ \hline 31 \end{array}$
--	--

2 つぎの問いに 答えましょう。

えみさんは、80ページの本を読んでいます。

きょう13ページ読みました。のこりは何ページですか。

しき： $80 - 13 = 67$

答え： 67ページ

$$\begin{array}{r} 7 \quad 10 \\ \cancel{8} \quad 0 \\ - 13 \\ \hline 67 \end{array}$$



ひき算のひっ算 15

◎ 正しいひき算の
ひっ算を選ぶ



日にち： 月 日

名まえ _____

1 つぎのひっ算が正しいければ○、まちがっていれば正しい答えを書きましょう。

$$\begin{array}{r} 63 \\ - 55 \\ \hline 8 \end{array}$$

$$\begin{array}{r} 45 \\ - 25 \\ \hline 20 \end{array}$$

$$\begin{array}{r} 26 \\ - 2 \\ \hline 6 \end{array}$$

$$\begin{array}{r} 91 \\ - 49 \\ \hline 58 \end{array}$$

(○)

(○)

(24)

(42)

<計算スペース>

$$\begin{array}{r} 26 \\ - 2 \\ \hline 24 \end{array} \qquad \begin{array}{r} 8 \ 10 \\ \cancel{9} \ 1 \\ - 49 \\ \hline 42 \end{array}$$

2 つぎの問いに 答えましょう。

あいさんのクラスには、本がぜんぶで52さつあります。

今、23さつのこっています。かし出し中の本は何さつですか。

しき： $52 - 23 = 29$

答え： 29さつ

$$\begin{array}{r} 4 \ 10 \\ \cancel{5} \ \cancel{2} \\ - 23 \\ \hline 29 \end{array}$$



ひき算のひっ算 15

◎ 正しいひき算の
ひっ算を選ぶ



日にち： 月 日

名まえ _____

1 つぎのひっ算が正しいければ○、まちがっていれば正しい答えを書きましょう。

$$\begin{array}{r} 61 \\ - 56 \\ \hline 5 \end{array}$$

$$\begin{array}{r} 26 \\ - 18 \\ \hline 18 \end{array}$$

$$\begin{array}{r} 94 \\ - 64 \\ \hline 30 \end{array}$$

$$\begin{array}{r} 42 \\ - 2 \\ \hline 22 \end{array}$$

(○)

(8)

(○)

(40)

<計算スペース>

$$\begin{array}{r} 110 \\ \cancel{2}6 \\ - 18 \\ \hline 8 \end{array}$$

$$\begin{array}{r} 42 \\ - 2 \\ \hline 40 \end{array}$$

2 つぎの問いに 答えましょう。

クリームパンが92円で売っています。

あんぱんはクリームパンより4円 やすい そうです。

あんぱんはいくらで売っていますか。

しき： $92 - 4 = 88$

答え： 88円

$$\begin{array}{r} 810 \\ \cancel{9}\cancel{2} \\ - 4 \\ \hline 88 \end{array}$$



ひき算のひっ算 15

◎ 正しいひき算の
ひっ算を選ぶ

13

日にち： 月 日

名まえ _____

1 つぎのひっ算が正しいければ○、まちがっていれば正しい答えを書きましょう。

$$\begin{array}{r} 72 \\ - 4 \\ \hline 78 \end{array}$$

$$\begin{array}{r} 37 \\ - 28 \\ \hline 19 \end{array}$$

$$\begin{array}{r} 25 \\ - 5 \\ \hline 20 \end{array}$$

$$\begin{array}{r} 53 \\ - 43 \\ \hline 10 \end{array}$$

(68)

(9)

(○)

(○)

<計算スペース>

$\begin{array}{r} 610 \\ \cancel{7}2 \\ - 4 \\ \hline 68 \end{array}$	$\begin{array}{r} 210 \\ \cancel{3}7 \\ - 28 \\ \hline 9 \end{array}$
---	---

2 つぎの問いに 答えましょう。

りかさんは、シールを 27まい もっています。

ゆうさんは 32まい もっています。

どちらが何まい多く もっていますか。

しき： $32 - 27 = 5$

答え： ゆうさんが 5まい 多い

$$\begin{array}{r} 210 \\ \cancel{3}\cancel{2} \\ - 27 \\ \hline 5 \end{array}$$



ひき算のひっ算 15

◎ 正しいひき算の
ひっ算を選ぶ

14

日にち： 月 日

名まえ _____

1 つぎのひっ算が正しいければ○、まちがっていれば正しい答えを書きましょう。

$$\begin{array}{r} 81 \\ - 21 \\ \hline 60 \end{array}$$

$$\begin{array}{r} 25 \\ - 17 \\ \hline 8 \end{array}$$

$$\begin{array}{r} 72 \\ - 8 \\ \hline 64 \end{array}$$

$$\begin{array}{r} 93 \\ - 21 \\ \hline 68 \end{array}$$

(○)

(○)

(○)

(72)

<計算スペース>

$$\begin{array}{r} 93 \\ - 21 \\ \hline 72 \end{array}$$

2 つぎの問いに 答えましょう。

2年1組の人数は34人です。

2組は1組より6人少ないそうです。

2組の人数は何人ですか。

しき： $34 - 6 = 28$

答え： 28人

$$\begin{array}{r} 210 \\ ~~34~~ \\ - 6 \\ \hline 28 \end{array}$$

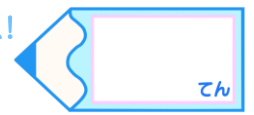


ひき算のひっ算 15

◎ 正しいひき算の
ひっ算を選ぶ



目指せ80点!



名まえ _____

1 つぎのひっ算が正しいければ ○、まちがっていれば正しい 答えを
書きましょう。

(各20点)

$$\begin{array}{r} 43 \\ - \# 3 \\ \hline 40 \end{array}$$

$$\begin{array}{r} 51 \\ - 32 \\ \hline 29 \end{array}$$

$$\begin{array}{r} 30 \\ - 27 \\ \hline 3 \end{array}$$

$$\begin{array}{r} 74 \\ - \quad 9 \\ \hline 75 \end{array}$$

(○)

(19)

(○)

(65)

<計算スペース>

$\begin{array}{r} 4 \ 10 \\ \cancel{5} \ 1 \\ - 3 \ 2 \\ \hline 1 \ 9 \end{array}$	$\begin{array}{r} 6 \ 10 \\ \cancel{7} \ 4 \\ - \quad 9 \\ \hline 6 \ 5 \end{array}$
--	--

2 つぎの問いに 答えましょう。(20点)

しほさんのクラスには、本がぜんぶで 32 さつ あります。

今、12 さつ のこっています。かし出し中の 本は 何さつ ですか。

しき : $32 - 12 = 20$

答え : 20 さつ

$$\begin{array}{r} 32 \\ + 12 \\ \hline 20 \end{array}$$



ひき算のひっ算 15

◎ 正しいひき算の
ひっ算を選ぶ

16

目指せ80点!



名まえ _____

1 つぎのひっ算が正しいければ○、まちがっていれば正しい答えを書きましょう。

(各20点)

$$\begin{array}{r} 92 \\ - \quad 9 \\ \hline 83 \end{array}$$

$$\begin{array}{r} 36 \\ - \quad 6 \\ \hline 30 \end{array}$$

$$\begin{array}{r} 83 \\ - \quad 7 \\ \hline 13 \end{array}$$

$$\begin{array}{r} 34 \\ - \quad 28 \\ \hline 6 \end{array}$$

(○)

(○)

(76)

(○)

<計算スペース>

$$\begin{array}{r} 7 \quad 10 \\ \cancel{8} \quad 3 \\ - \quad 7 \\ \hline 76 \end{array}$$

2 つぎの問いに 答えましょう。(20点)

ゆうたさんは、なわとびを 51回 とびました。

えりさんはゆうたさんより 6回 少なく とびました。

えりさんは、なわとびを 何回 とびましたか。

しき : $51 - 6 = 45$

答え : 45回

$$\begin{array}{r} 4 \quad 10 \\ \cancel{5} \quad 1 \\ - \quad 6 \\ \hline 45 \end{array}$$