



ひき算のひっ算 7

くりさがりのしくみ
(タイル図)

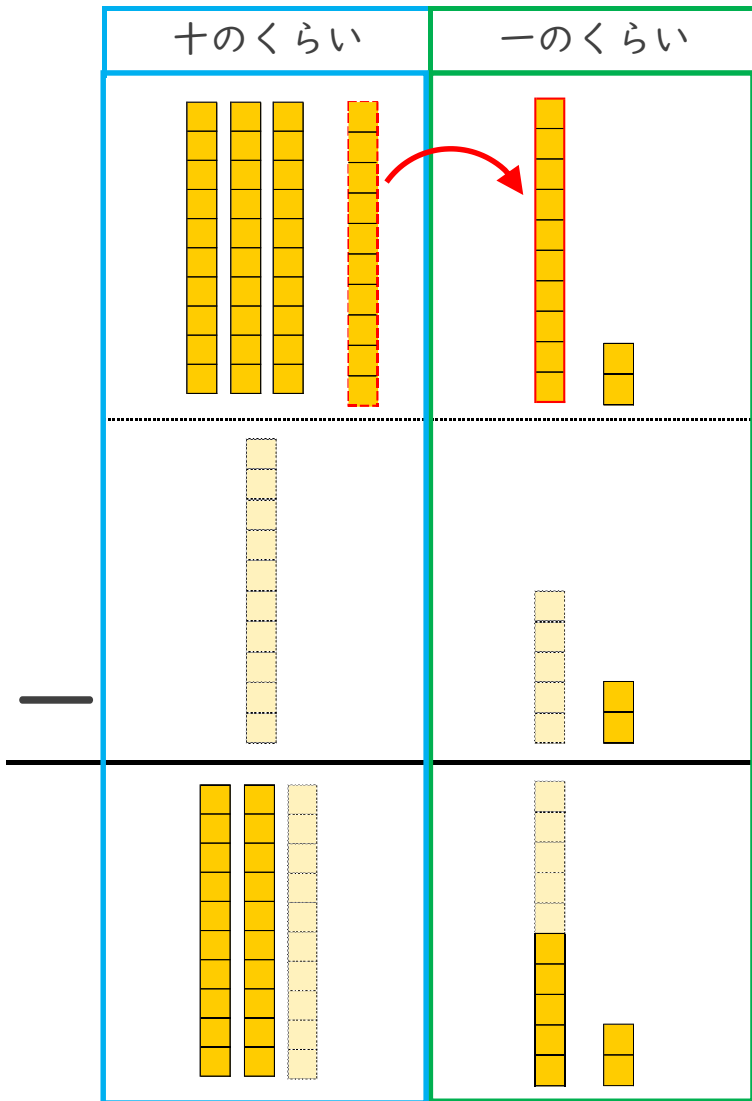


日にち： 月 日

名まえ _____

・ つぎの計算を ひっ算で しましょう。(うすい字はなぞりましょう。)

$$42 - 15$$



① 一のくらいから計算

7から8はひけないので
十のくらいから1くり下げる。

$$12 - 5 = 7$$

	3	10
	4	2
-	1	5
	2	7

② 十のくらいの計算

1くり下げたので
4は3になる。

$$3 - 1 = 2$$

一のくらいのひき算ができないときは
十のくらいから1くり下げるよ!





ひき算のひっ算 7

くりさがりのしくみ
(タイル図)

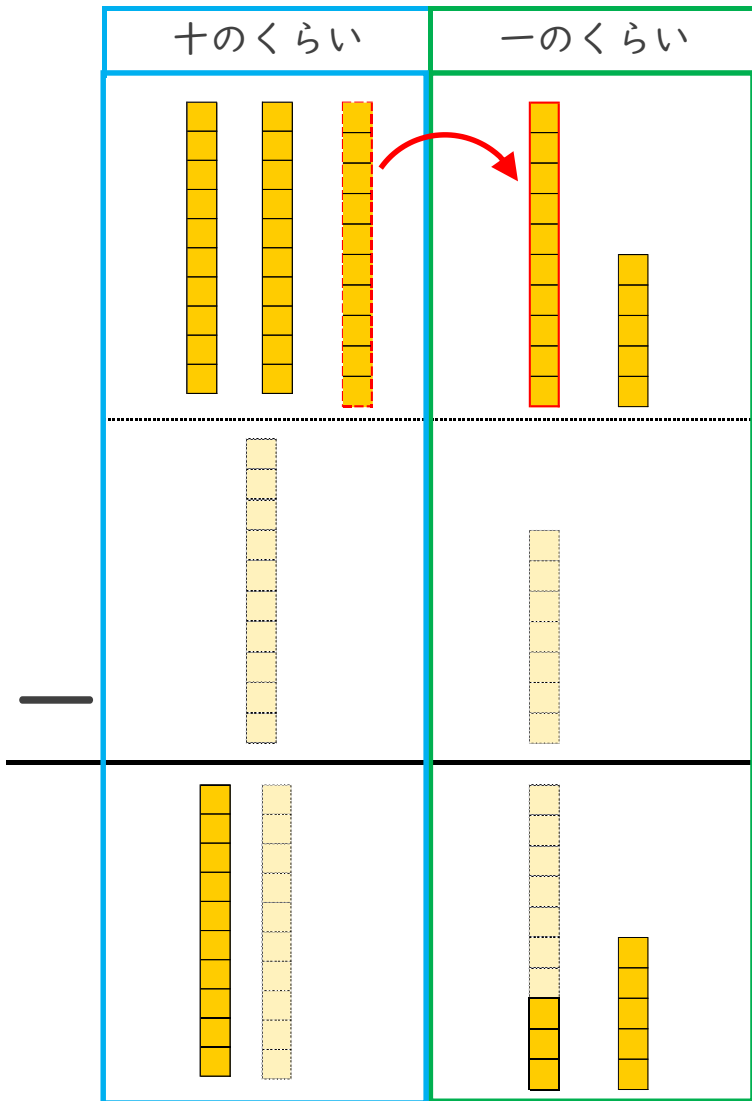


日にち： 月 日

名まえ _____

・ つぎの計算を ひっ算で しましょう。(うすい字はなぞりましょう。)

$$35 - 17$$



① 一のくらいから計算

5から7はひけないので
十のくらいから1くり下げる。

$$15 - 7 = 8$$

	2	10
	3	5
-	1	7

② 十のくらいの計算

1くり下げたので
3は2になる。

$$2 - 1 = 1$$

一のくらいのひき算ができないときは
十のくらいから1くり下げるよ!





ひき算のひっ算 7

くりさがりのしくみ
(タイル図)



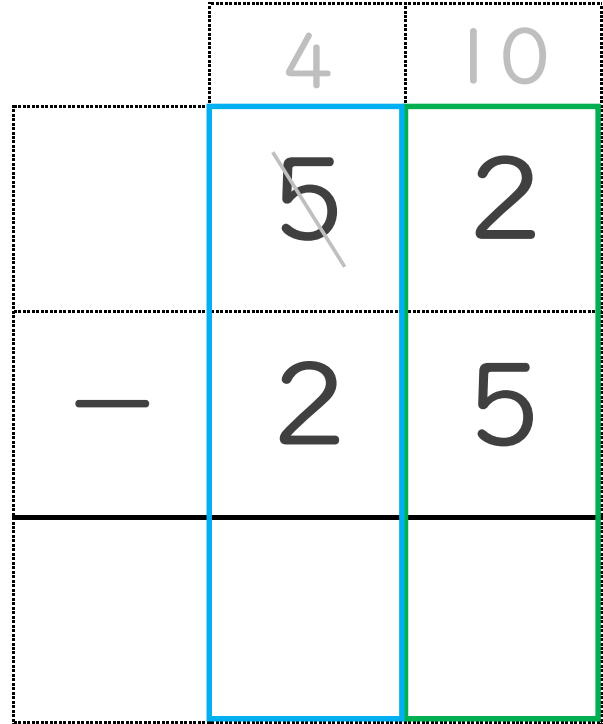

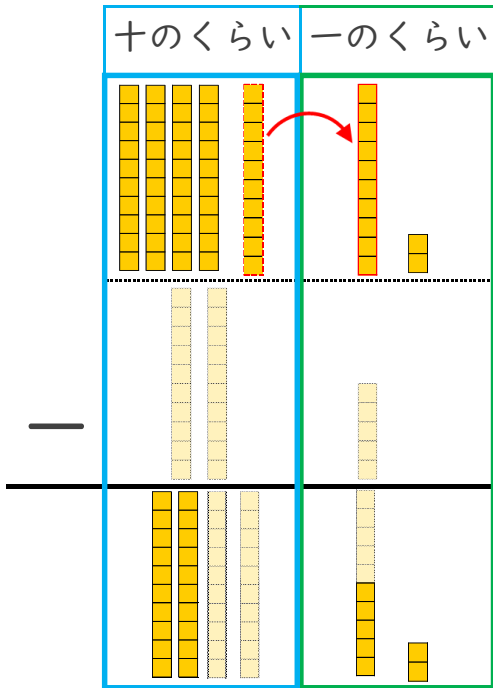
日にち： 月 日

名まえ _____

・ つぎの計算を ひっ算で しましょう。(うすい字はなぞりましょう。)

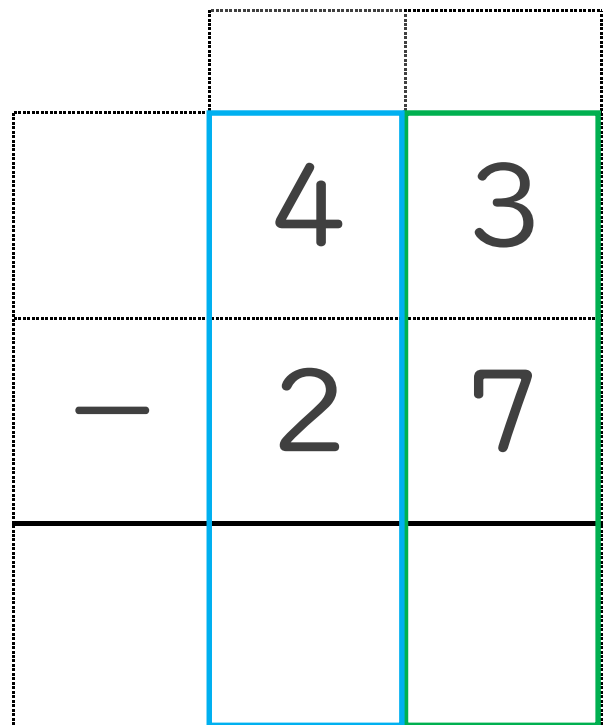
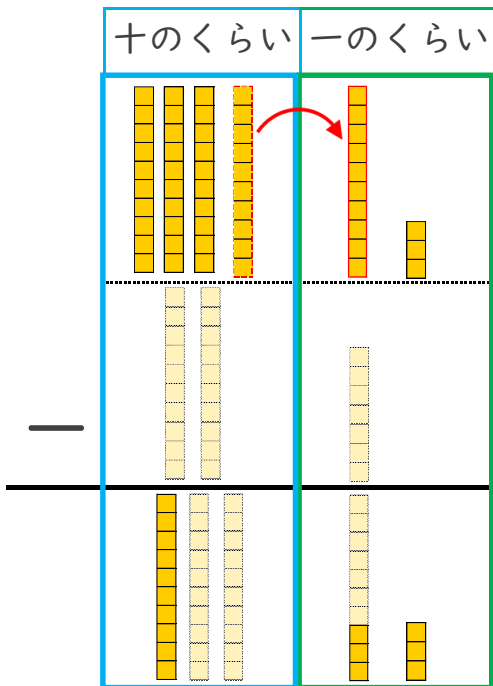
① $52 - 25$

1 くり下げよう!



② $43 - 27$

1 くり下げよう!





ひき算のひっ算 7

くりさがりのしくみ
(タイル図)



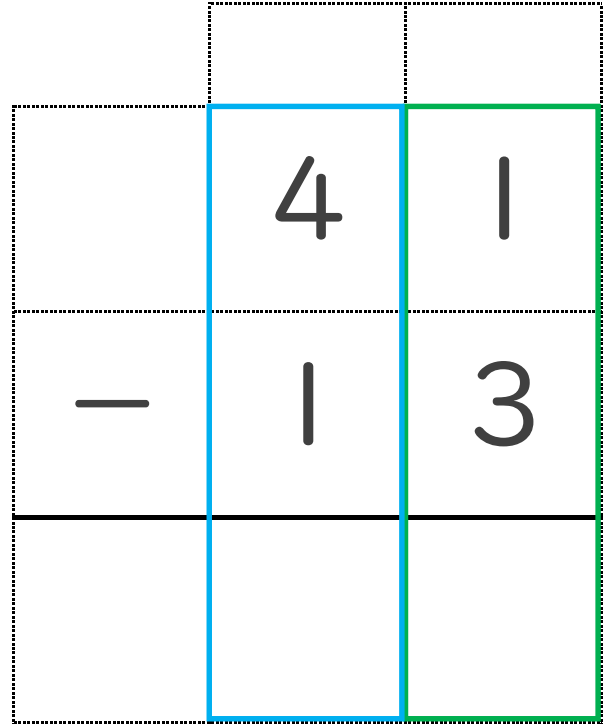

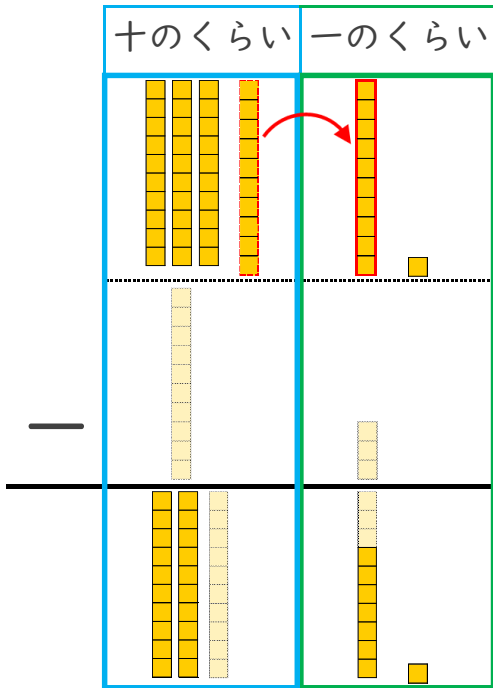
日にち： 月 日

名まえ _____

・ つぎの計算を ひっ算で しましょう。

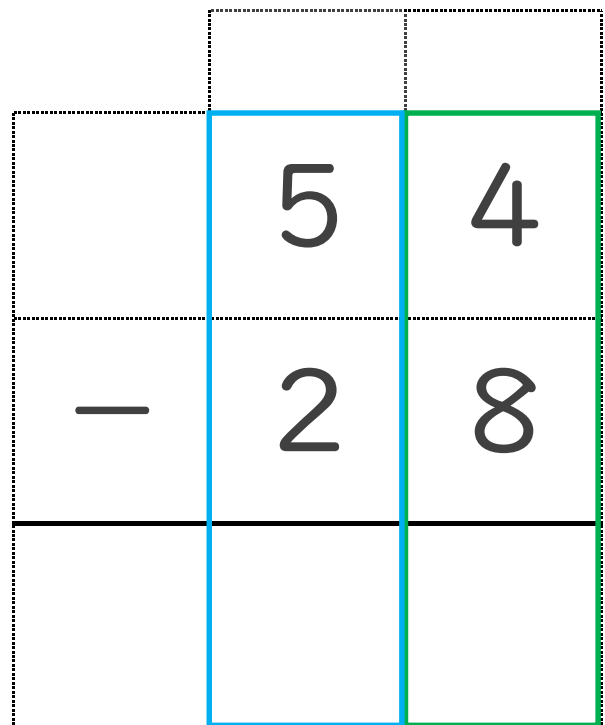
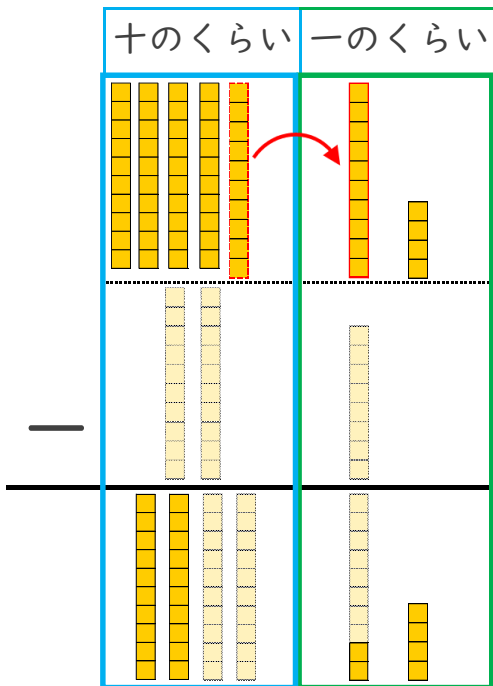
① $41 - 13$

1 くり下げよう！



② $54 - 28$

1 くり下げよう！





ひき算のひっ算 7

くりさがりのしくみ
(タイル図)

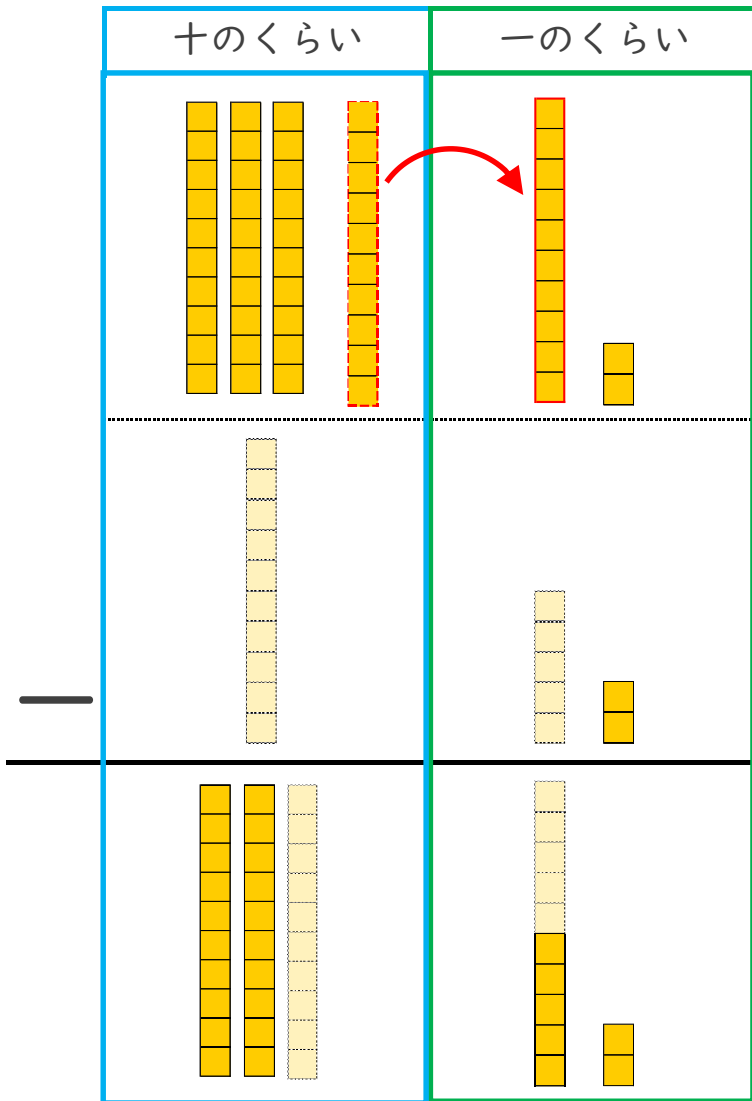


日にち： 月 日

名まえ _____

・ つぎの計算を ひっ算で しましょう。(うすい字はなぞりましょう。)

$$42 - 15$$



① 一のくらいから計算

7から8はひけないので
十のくらいから1くり下げる。

$$12 - 5 = 7$$

	3	10
	4	2
-	1	5
	2	7

② 十のくらいの計算

1くり下げたので
4は3になる。

$$3 - 1 = 2$$

一のくらいのひき算ができないときは
十のくらいから1くり下げるよ!





ひき算のひっ算 7

くりさがりのしくみ
(タイル図)

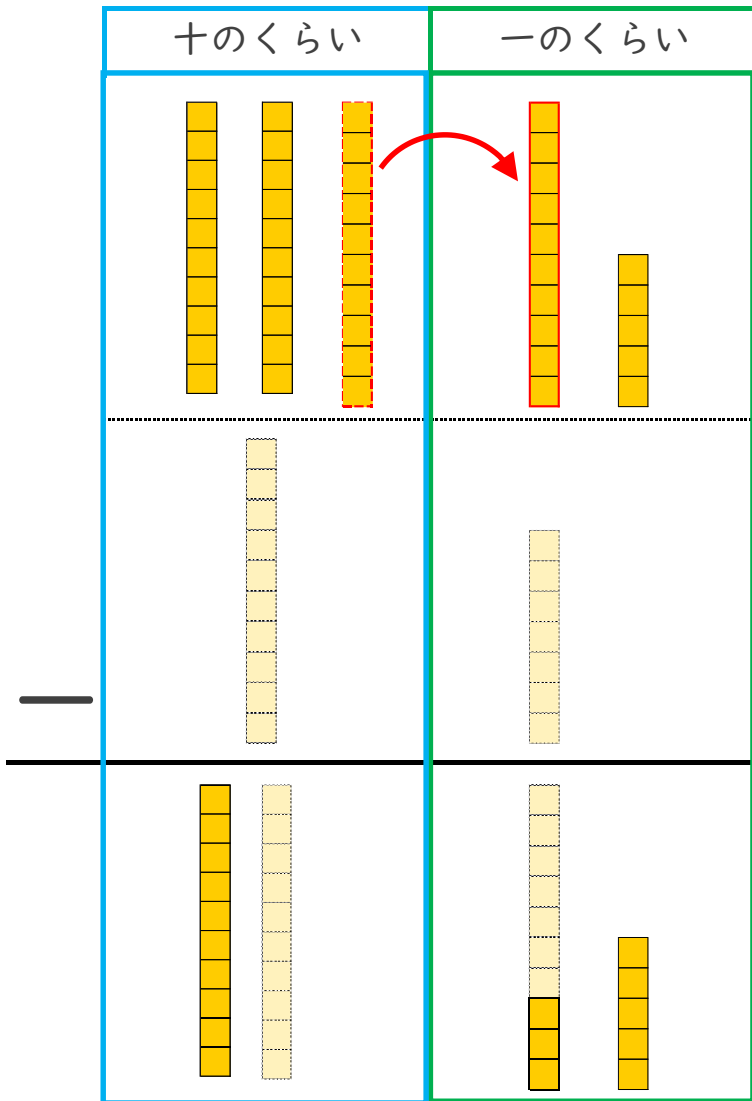


日にち： 月 日

名まえ _____

・ つぎの計算を ひっ算で しましょう。(うすい字はなぞりましょう。)

$$35 - 17$$



① 一のくらいから計算

5から7はひけないので
十のくらいから1くり下げる。

$$15 - 7 = 8$$

	2	10
	3	5
-	1	7
	1	8

② 十のくらいの計算

1くり下げたので
3は2になる。

$$2 - 1 = 1$$

一のくらいのひき算ができないときは
十のくらいから1くり下げるよ!





ひき算のひっ算 7

くりさがりのしくみ
(タイル図)



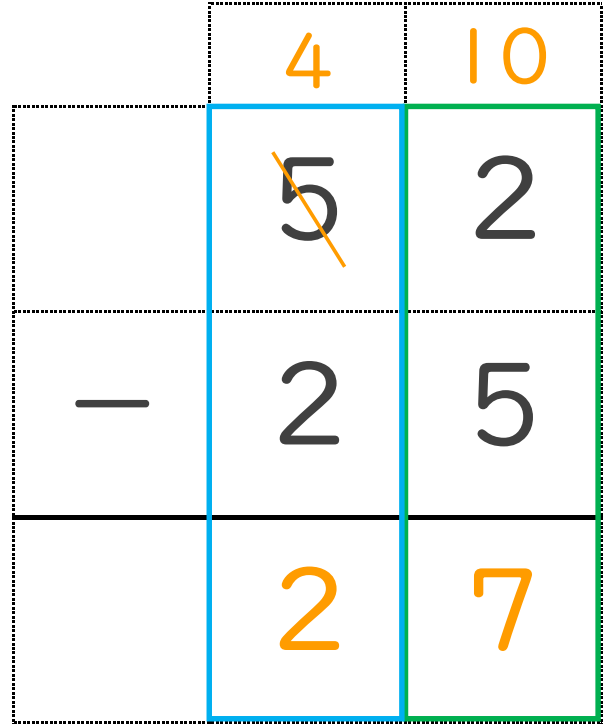

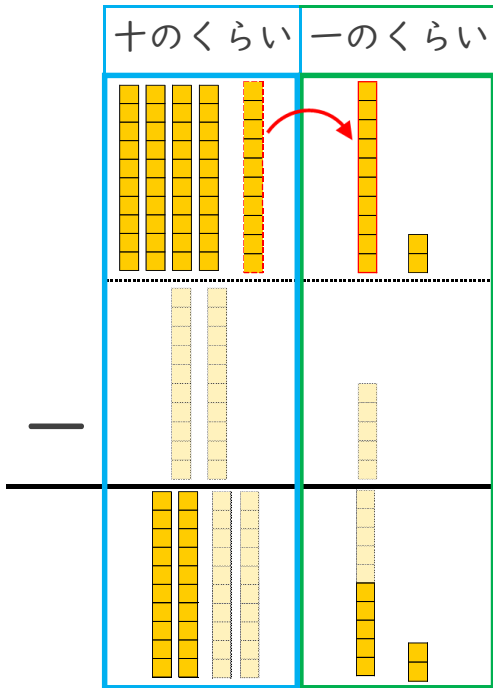
日にち： 月 日

名まえ _____

・ つぎの計算を ひっ算で しましょう。(うすい字はなぞりましょう。)

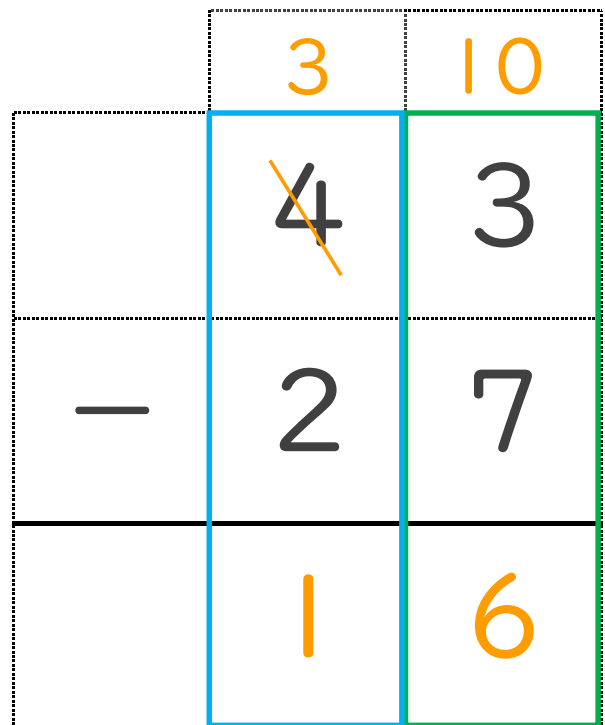

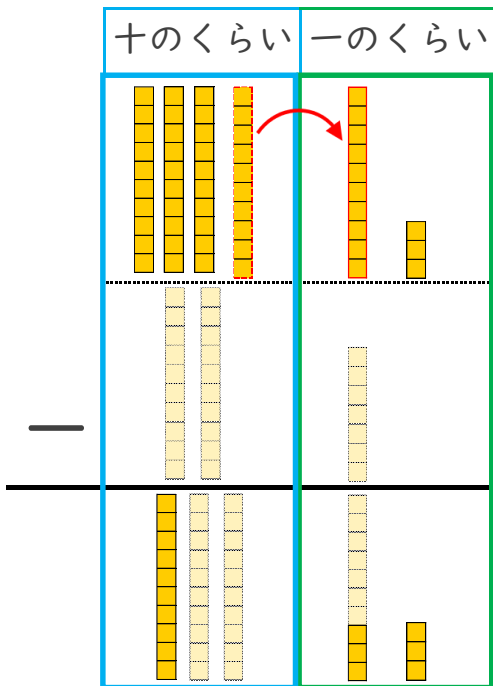
① $52 - 25$

1 くり下げよう!



② $43 - 27$

1 くり下げよう!





ひき算のひっ算 7

くりさがりのしくみ
(タイル図)



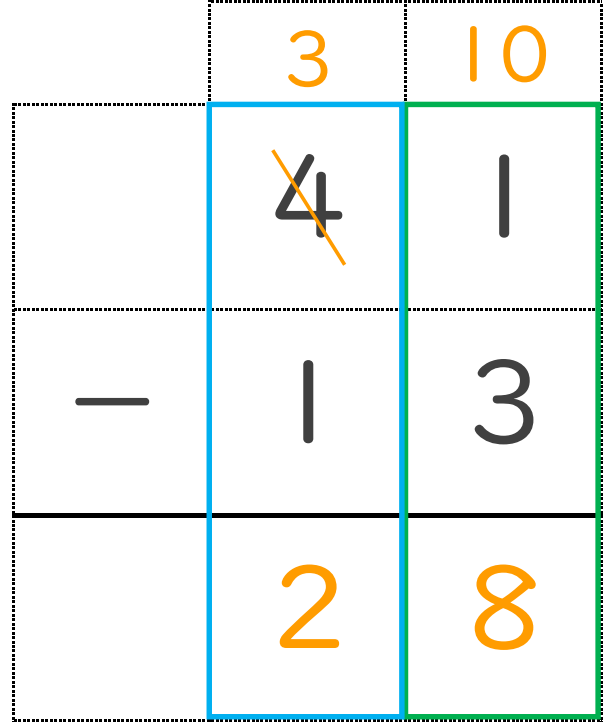
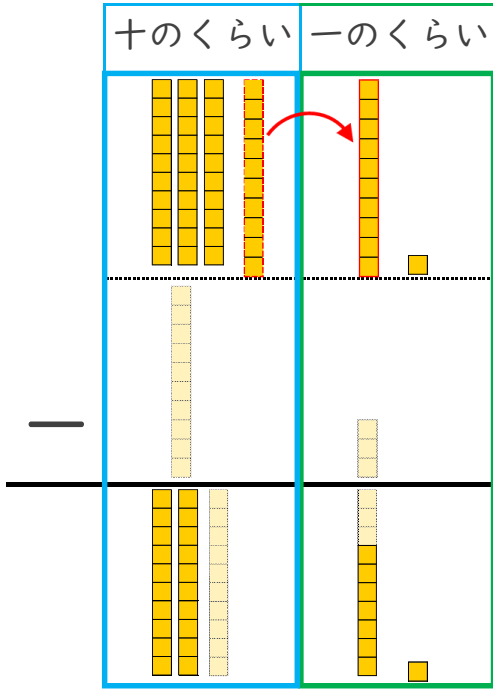
日にち： 月 日

名まえ _____

・ つぎの計算を ひっ算で しましょう。

① $41 - 13$

1 くり下げよう！



② $54 - 28$

1 くり下げよう！

