



分数3


● もとの大きさの○分の一をさがす



日にち： 月 日

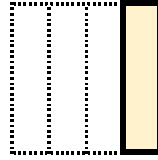
名まえ

1 もとの大きさの $\frac{1}{2}$ はどれですか。(うすい字はなぞりましょう。)

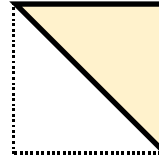


もとの大きさ

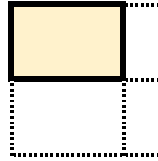
ア



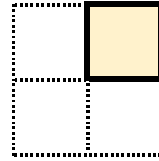
イ



ウ




エ



答え：

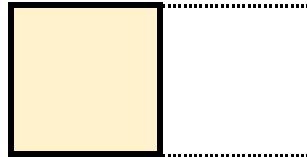
イ

2 もとの大きさの $\frac{1}{4}$ はどれですか。

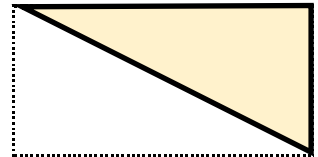


もとの大きさ

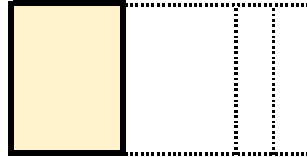
ア



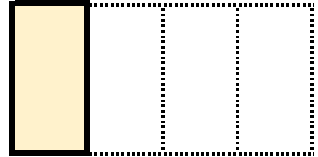
イ



ウ



エ



答え：



分数3

● もとの大きさの○分の一をさがす

2

日にち： 月 日

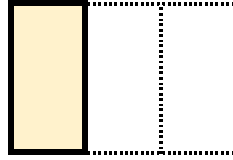
名まえ

1 もとの大きさの $\frac{1}{3}$ はどれですか。(うすい字はなぞりましょう。)




もとの大きさ


ア



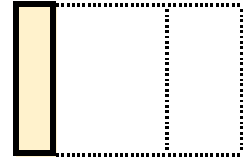
イ



ウ




エ



答え：

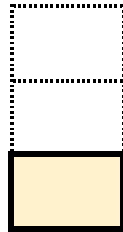
ア

2 もとの大きさの $\frac{1}{2}$ はどれですか。




もとの大きさ

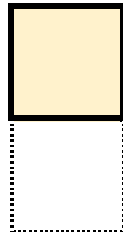
ア



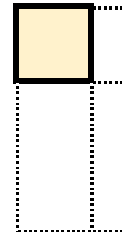
イ



ウ



エ



答え：





分数3


● もとの大きさの○分の一をさがす



日にち： 月 日

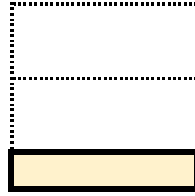
名まえ

1 もとの大きさの $\frac{1}{4}$ はどれですか。(うすい字はなぞりましょう。)

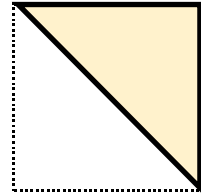


もとの大きさ

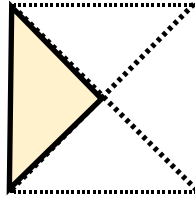
㉠



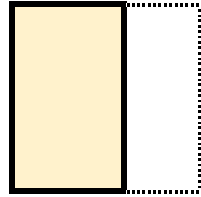
㉡



㉢




㉣



答え：



2 もとの大きさの $\frac{1}{3}$ はどれですか。

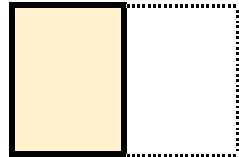


もとの大きさ

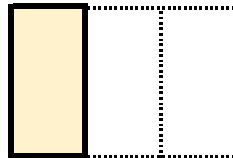
㉠



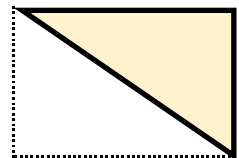
㉡



㉢



㉣



答え：





分数3


● もとの大きさの○分の一をさがす



日にち： 月 日

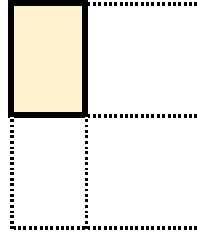
名まえ

1 もとの大きさの $\frac{1}{5}$ はどれですか。(うすい字はなぞりましょう。)

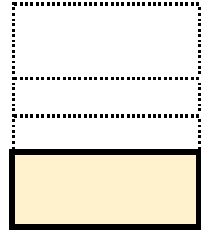


もとの大きさ

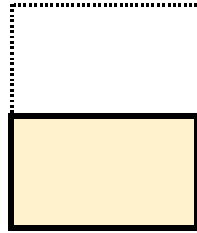
ア




イ



ウ




エ



答え：

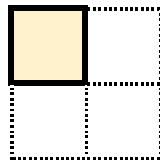


2 もとの大きさの $\frac{1}{4}$ はどれですか。

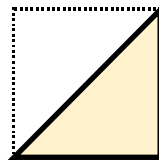


もとの大きさ

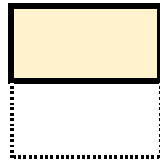
ア



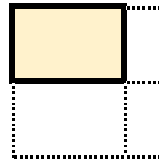
イ



ウ



エ



答え：





分数3

● もとの大きさの○分の一をさがす

5

日にち： 月 日

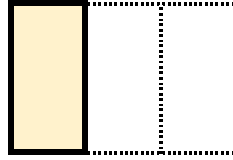
名まえ

1 もとの大きさの $\frac{1}{3}$ はどれですか。(うすい字はなぞりましょう。)

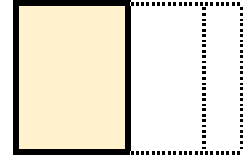


もとの大きさ

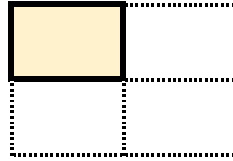
㊦



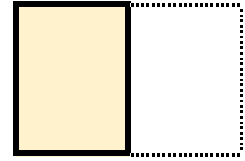
㊦



㊦




㊦



答え：

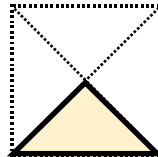
㊦

2 もとの大きさの $\frac{1}{2}$ はどれですか。




もとの大きさ

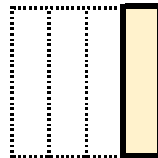
㊦



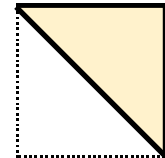
㊦



㊦




㊦



答え：





分数3

● もとの大きさの○分の一をさがす



日にち： 月 日

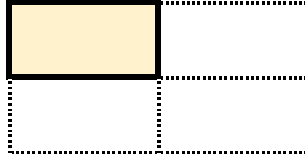
名まえ

1 もとの大きさの $\frac{1}{8}$ はどれですか。(うすい字はなぞりましょう。)



もとの大きさ

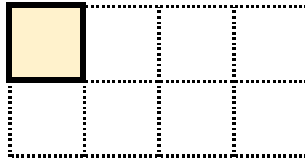
ア



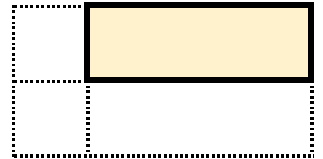
イ



ウ




エ



答え：

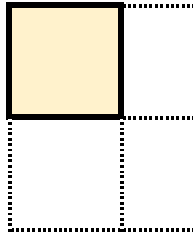


2 もとの大きさの $\frac{1}{3}$ はどれですか。

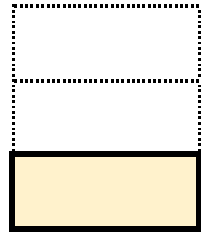


もとの大きさ


ア




イ



ウ



エ



答え：





分数3

● もとの大きさの○分の一をさがす

7

日にち： 月 日

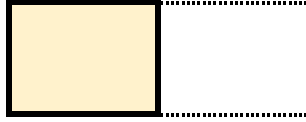
名まえ

1 もとの大きさの $\frac{1}{4}$ はどれですか。

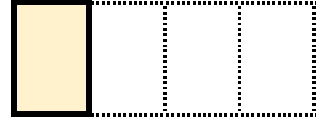


もとの大きさ


㉠




㉡



㉢




㉣



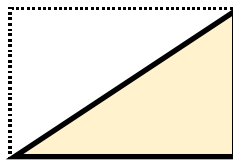
答え：

2 もとの大きさの $\frac{1}{6}$ はどれですか。

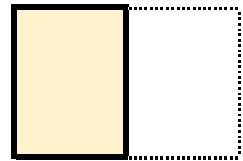


もとの大きさ

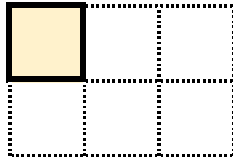
㉠



㉡



㉢



㉣



答え：





分数3


● もとの大きさの○分の一をさがす



日にち： 月 日


名まえ

1 もとの大きさの $\frac{1}{2}$ はどれですか。

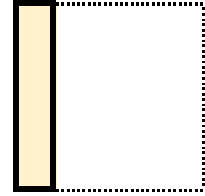


もとの大きさ

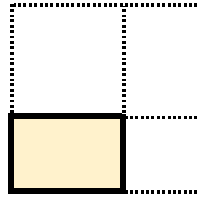
㉠



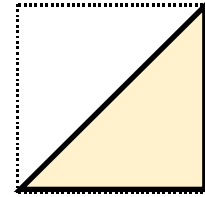
㉡



㉢




㉣




答え：

2 もとの大きさの $\frac{1}{5}$ はどれですか。

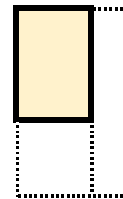


もとの大きさ


㉠



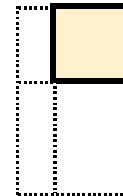
㉡



㉢



㉣



答え：





分数3


● もとの大きさの○分の一をさがす



日にち： 月 日

名まえ

1 もとの大きさの $\frac{1}{3}$ はどれですか。



もとの大きさ

㊦



㊦



㊦



㊦



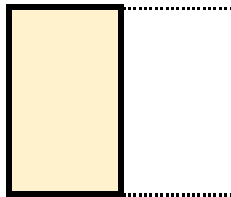
答え：

2 もとの大きさの $\frac{1}{6}$ はどれですか。




もとの大きさ

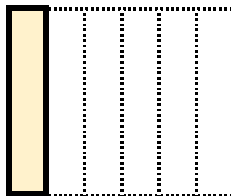
㊦



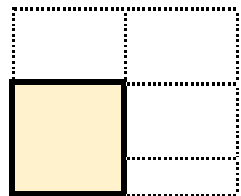
㊦



㊦



㊦



答え：





分数3


● もとの大きさの○分の一をさがす



日にち： 月 日


名まえ

1 もとの大きさの $\frac{1}{4}$ はどれですか。

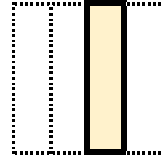


もとの大きさ

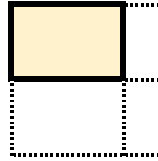
ア



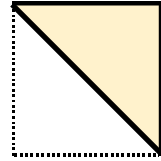
イ



ウ



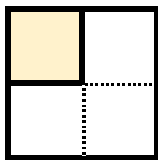
エ



答え：

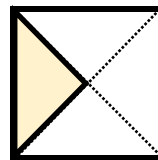
2 色をぬったぶぶんはもとの大きさの何分の一ですか。

①




答え：

③



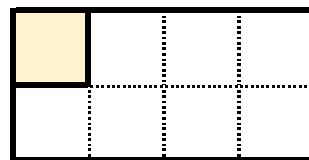
答え：

②



答え：

④



答え：





分数3


● もとの大きさの○分の一をさがす



日にち： 月 日


名まえ

1 もとの大きさの $\frac{1}{2}$ はどれですか。

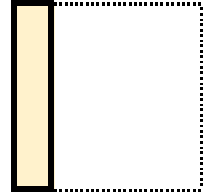


もとの大きさ

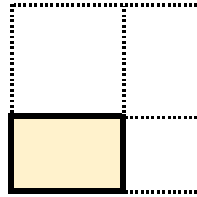
ア



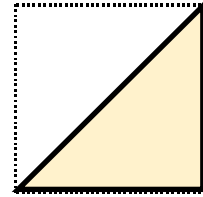
イ



ウ



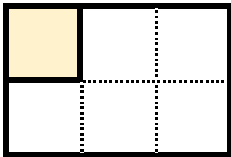
エ



答え：

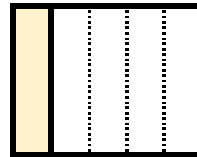
2 色をぬったぶぶんはもとの大きさの何分の一ですか。

①



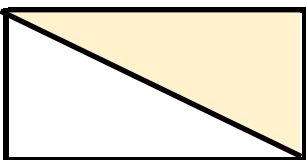
答え：

③



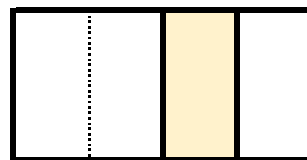
答え：

②



答え：

④



答え：





分数3


● もとの大きさの○分の一をさがす



日にち： 月 日

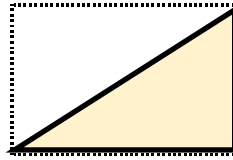
名まえ

1 もとの大きさの $\frac{1}{6}$ はどれですか。

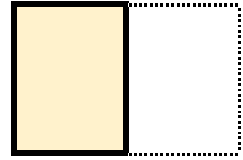


もとの大きさ

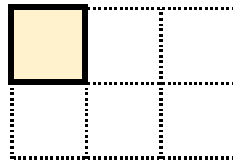
ア




イ



ウ



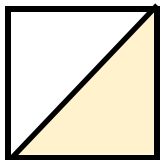
エ



答え：

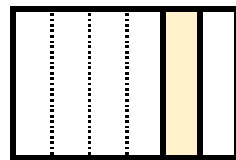
2 色をぬったぶぶんはもとの大きさの何分の一ですか。

①




答え：

③



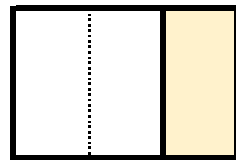
答え：

②



答え：

④



答え：





分数3


● もとの大きさの○分の一をさがす



日にち： 月 日

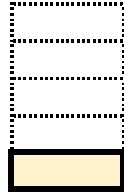
名まえ

1 もとの大きさの $\frac{1}{5}$ はどれですか。

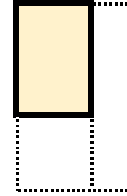


もとの大きさ


ア



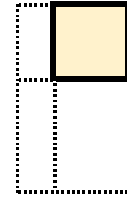
イ



ウ




エ



答え：

2 色をぬったぶぶんはもとの大きさの何分の一ですか。

①



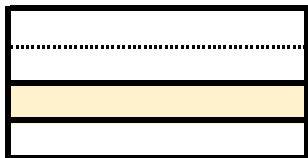
答え：

③



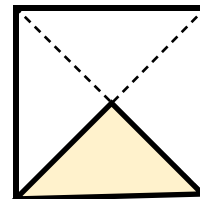
答え：

②




答え：

④




答え：



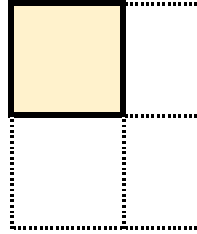


1 もとの大きさの $\frac{1}{3}$ はどれですか。

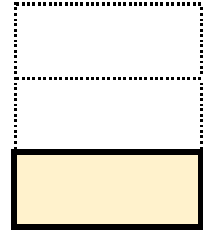


もとの大きさ


ア




イ



ウ



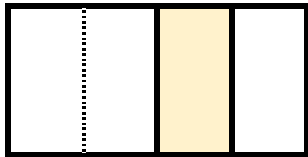
エ



答え：

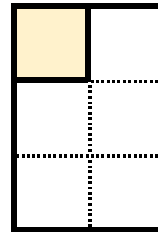
2 色をぬったぶぶんはもとの大きさの何分の一ですか。

①




答え：

③



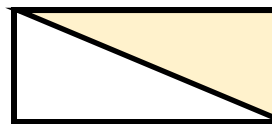
答え：

②




答え：

④



答え：





分数3

● もとの大きさの○分の一をさがす


15

目指せ80点!



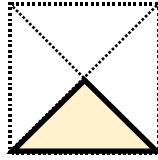
名まえ _____

1 もとの大きさの $\frac{1}{2}$ はどれですか。(20点)

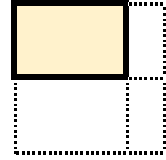


もとの大きさ

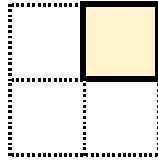
ア



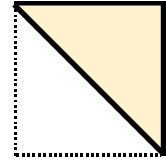
イ



ウ



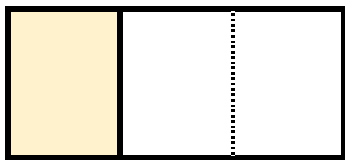
エ



答え: _____

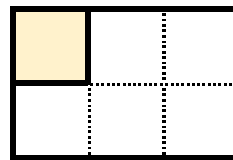
2 色をぬったぶぶんはもとの大きさの何分の一ですか。(各20点)

①



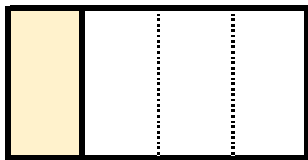
答え: _____

③



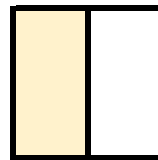
答え: _____

②




答え: _____

④



答え: _____



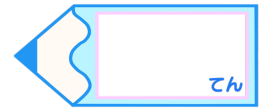


分数3

● もとの大きさの○分の一をさがす


16

目指せ80点!



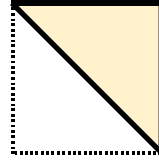
名まえ

1 もとの大きさの $\frac{1}{4}$ はどれですか。(20点)

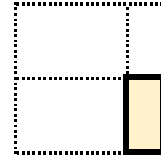


もとの大きさ

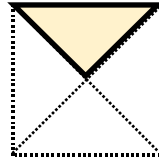
ア



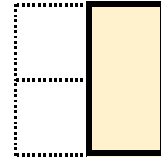
イ



ウ



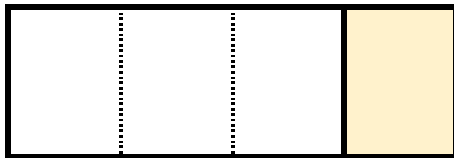
エ



答え：

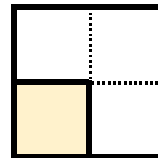
2 色をぬったぶぶんはもとの大きさの何分の一ですか。(各20点)

①




答え：

③




答え：

②



答え：

④



答え：





分数3


● もとの大きさの○分の一をさがす



日にち： 月 日

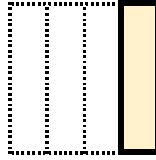
名まえ

1 もとの大きさの $\frac{1}{2}$ はどれですか。(うすい字はなぞりましょう。)

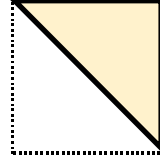


もとの大きさ

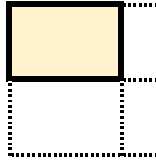
ア



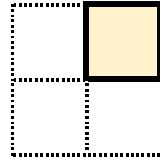
イ



ウ




エ



答え：


イ

2 もとの大きさの $\frac{1}{4}$ はどれですか。

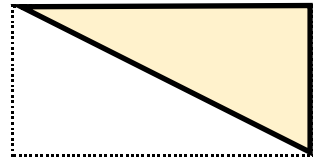


もとの大きさ

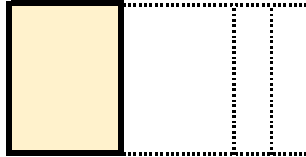
ア



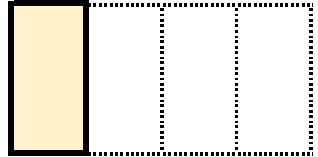
イ



ウ



エ



答え：

エ





分数3


● もとの大きさの○分の一をさがす

2

日にち： 月 日

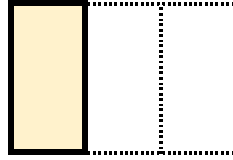
名まえ

1 もとの大きさの $\frac{1}{3}$ はどれですか。(うすい字はなぞりましょう。)




もとの大きさ


㉠



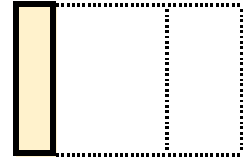
㉡



㉢




㉣



答え：

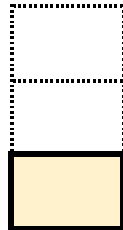
㉠

2 もとの大きさの $\frac{1}{2}$ はどれですか。




もとの大きさ

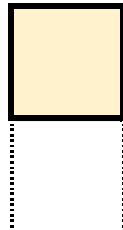
㉠



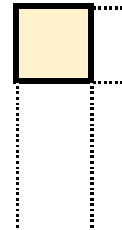
㉡



㉢



㉣



答え：

㉢





分数3


● もとの大きさの○分の一をさがす

3

日にち： 月 日

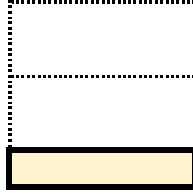
名まえ _____

1 もとの大きさの $\frac{1}{4}$ はどれですか。(うすい字はなぞりましょう。)

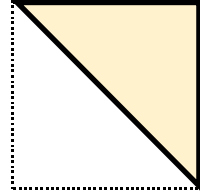


もとの大きさ

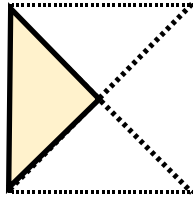
㉠




㉡



㉢




㉣



答え：

㉢

2 もとの大きさの $\frac{1}{3}$ はどれですか。

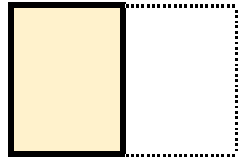


もとの大きさ

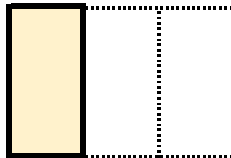
㉠



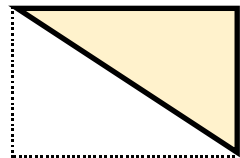
㉡



㉢



㉣



答え：

㉢





分数3


● もとの大きさの○分の一をさがす

4

日にち： 月 日

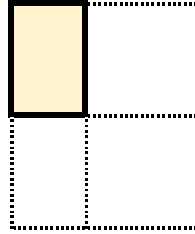
名まえ

1 もとの大きさの $\frac{1}{5}$ はどれですか。(うすい字はなぞりましょう。)

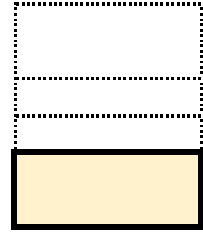


もとの大きさ

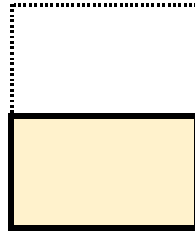
㉠




㉡



㉢




㉣



答え：

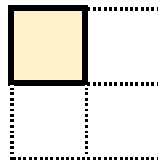
㉣

2 もとの大きさの $\frac{1}{4}$ はどれですか。

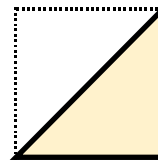


もとの大きさ

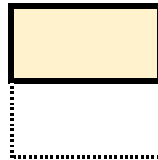
㉠



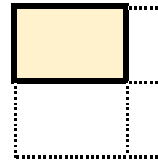
㉡



㉢




㉣



答え：

㉠





分数3

● もとの大きさの○分の一をさがす

5

日にち： 月 日

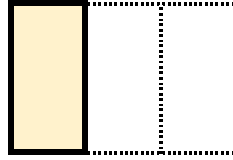
名まえ

1 もとの大きさの $\frac{1}{3}$ はどれですか。(うすい字はなぞりましょう。)

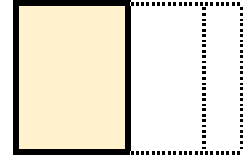


もとの大きさ

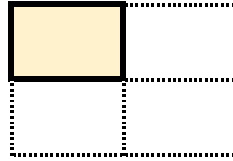
㉠



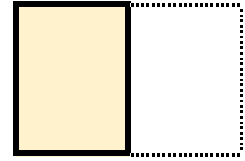
㉡



㉢




㉣



答え：

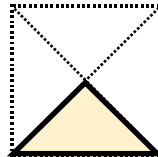
㉠

2 もとの大きさの $\frac{1}{2}$ はどれですか。




もとの大きさ

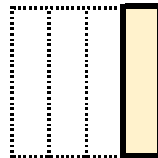
㉠



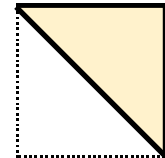
㉡



㉢




㉣



答え：

㉣





分数3

● もとの大きさの○分の一をさがす

6

日にち： 月 日

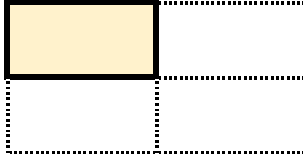
名まえ

1 もとの大きさの $\frac{1}{8}$ はどれですか。(うすい字はなぞりましょう。)



もとの大きさ

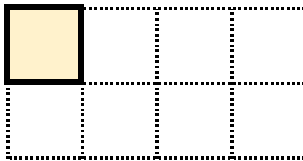
ア



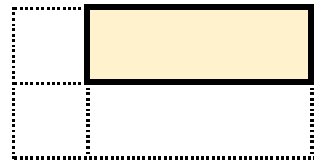
イ



ウ




エ



答え：

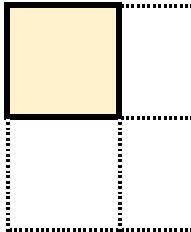
ウ

2 もとの大きさの $\frac{1}{3}$ はどれですか。

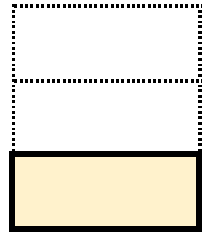


もとの大きさ


ア




イ



ウ



エ



答え：

イ





分数3

● もとの大きさの○分の一をさがす

7

日にち： 月 日

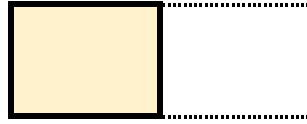
名まえ

1 もとの大きさの $\frac{1}{4}$ はどれですか。

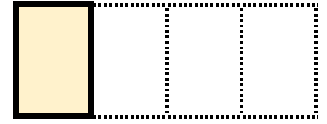


もとの大きさ


ア




イ



ウ




エ



答え：

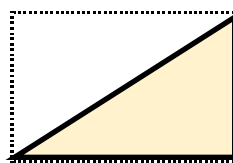
イ

2 もとの大きさの $\frac{1}{6}$ はどれですか。

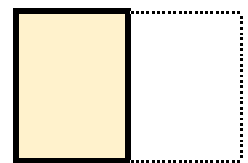


もとの大きさ

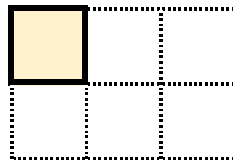
ア



イ



ウ



エ



答え：

ウ





分数3


● もとの大きさの○分の一をさがす

8

日にち： 月 日


名まえ

1 もとの大きさの $\frac{1}{2}$ はどれですか。

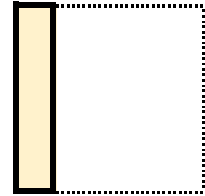


もとの大きさ

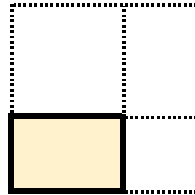
㉠



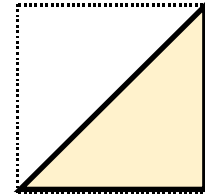
㉡



㉢




㉣



答え：


㉣

2 もとの大きさの $\frac{1}{5}$ はどれですか。

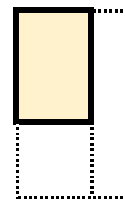


もとの大きさ

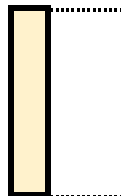
㉠



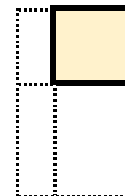
㉡



㉢



㉣



答え：

㉠





分数3

● もとの大きさの○分の一をさがす



日にち： 月 日

名まえ

1 もとの大きさの $\frac{1}{3}$ はどれですか。



もとの大きさ

ア




イ



ウ



エ



答え：

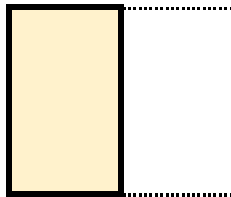
イ

2 もとの大きさの $\frac{1}{6}$ はどれですか。




もとの大きさ

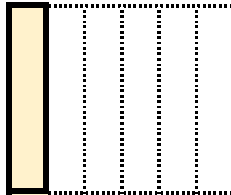
ア



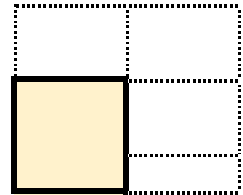
イ



ウ



エ



答え：

ウ





分数3


● もとの大きさの○分の一をさがす



日にち： 月 日


名まえ

1 もとの大きさの $\frac{1}{4}$ はどれですか。

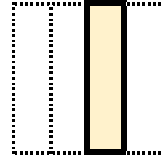


もとの大きさ

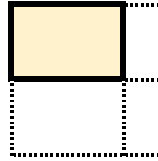
ア



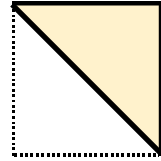
イ



ウ



エ

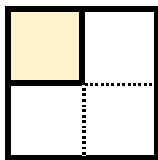


答え：

イ

2 色をぬったぶぶんはもとの大きさの何分の一ですか。

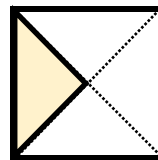
①



答え：

$\frac{1}{4}$


③



答え：

$\frac{1}{4}$

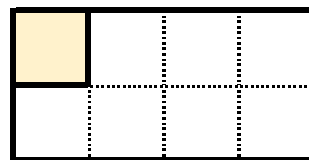
②



答え：

$\frac{1}{2}$

④



答え：

$\frac{1}{8}$





分数3


● もとの大きさの○分の一をさがす



日にち： 月 日


名まえ

1 もとの大きさの $\frac{1}{2}$ はどれですか。

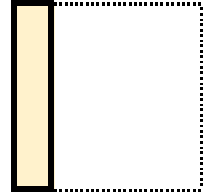


もとの大きさ

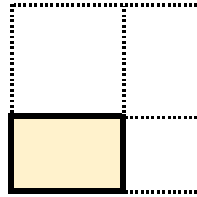
ア



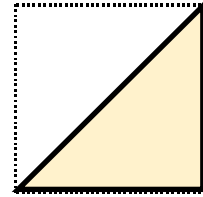
イ



ウ



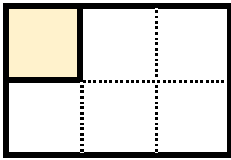
エ



答え： **エ**

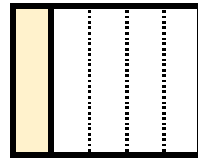
2 色をぬったぶぶんはもとの大きさの何分の一ですか。

①



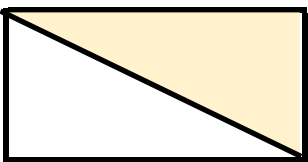
答え： $\frac{1}{6}$

③



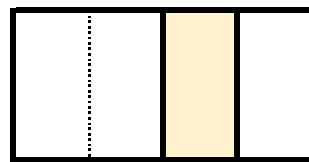
答え： $\frac{1}{5}$

②



答え： $\frac{1}{2}$

④



答え： $\frac{1}{4}$





分数3

● もとの大きさの○分の一をさがす



日にち： 月 日

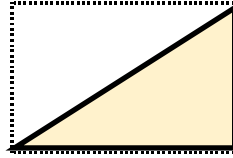
名まえ

1 もとの大きさの $\frac{1}{6}$ はどれですか。

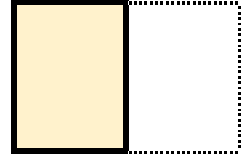


もとの大きさ

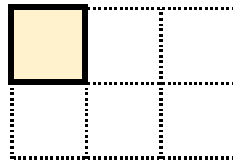
ア




イ



ウ



エ

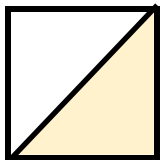


答え：



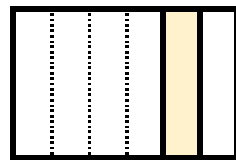
2 色をぬったぶぶんはもとの大きさの何分の一ですか。

①




答え： $\frac{1}{2}$

③



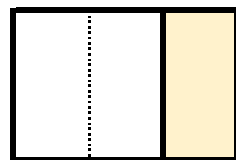
答え： $\frac{1}{6}$

②



答え： $\frac{1}{2}$

④



答え： $\frac{1}{3}$





分数3


● もとの大きさの○分の一をさがす

13

日にち： 月 日


名まえ

1 もとの大きさの $\frac{1}{5}$ はどれですか。

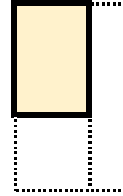


もとの大きさ


ア



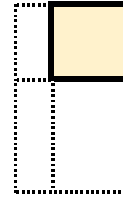
イ



ウ



エ

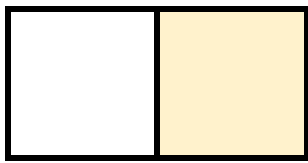


答え：

ア

2 色をぬったぶぶんはもとの大きさの何分の一ですか。

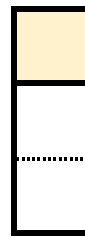
①



答え：

$\frac{1}{2}$


③



答え：

$\frac{1}{3}$

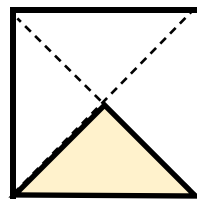
②



答え：

$\frac{1}{4}$


④




答え：

$\frac{1}{4}$



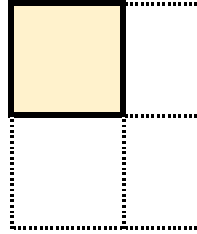


1 もとの大きさの $\frac{1}{3}$ はどれですか。

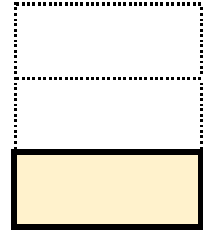


もとの大きさ

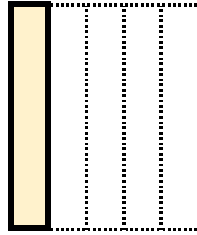
ア




イ



ウ



エ

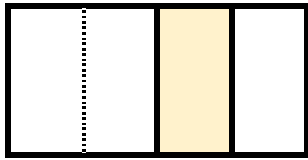


答え：

イ

2 色をぬったぶぶんはもとの大きさの何分の一ですか。

①

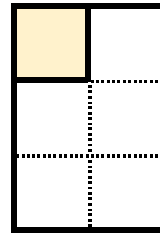


$\frac{1}{4}$

答え：

$\frac{1}{4}$

③




$\frac{1}{6}$

答え：

$\frac{1}{6}$

②

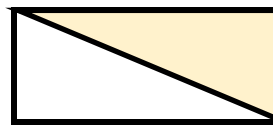


$\frac{1}{5}$

答え：

$\frac{1}{5}$

④




$\frac{1}{2}$

答え：

$\frac{1}{2}$





分数3

● もとの大きさの○分の一をさがす


15

目指せ80点!



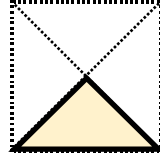
名まえ

1 もとの大きさの $\frac{1}{2}$ はどれですか。(20点)

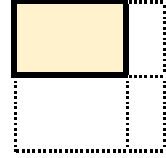


もとの大きさ

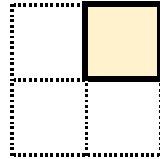
ア



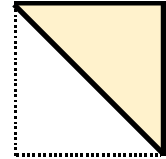
イ



ウ



エ

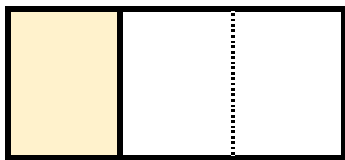


答え：

エ

2 色をぬったぶぶんはもとの大きさの何分の一ですか。(各20点)

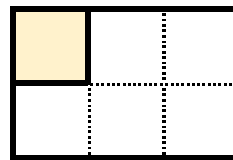
①



答え：

$\frac{1}{3}$

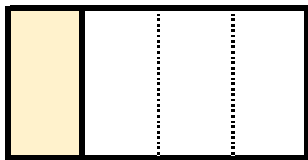
③



答え：

$\frac{1}{6}$

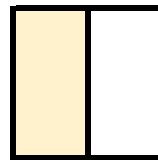
②



答え：

$\frac{1}{4}$


④



答え：

$\frac{1}{2}$



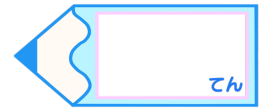


分数3

● もとの大きさの○分の一をさがす


16

目指せ80点!




名まえ

1 もとの大きさの $\frac{1}{4}$ はどれですか。(20点)

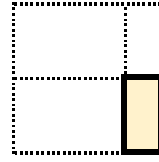


もとの大きさ


ア



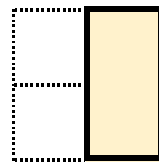
イ



ウ



エ

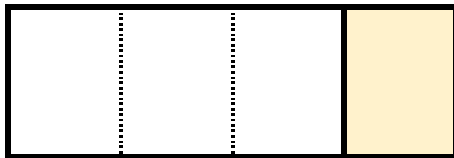


答え：

ウ

2 色をぬったぶぶんはもとの大きさの何分の一ですか。(各20点)

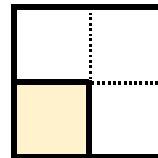
①



答え：

$\frac{1}{4}$


③



答え：

$\frac{1}{4}$


②



答え：

$\frac{1}{2}$

④



答え：

$\frac{1}{5}$

